


أكمل :-



وزعت ١٦ خرزة على ٤ خيوط بالتساوي


عدد الخرزات في كل خيط _____ خرزات



كون مجموعات متكافئة ثم أكمل

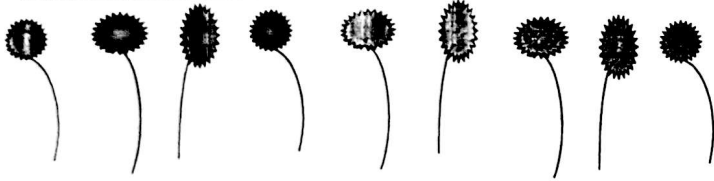
حوظ كل ٥ أقلام

عدد المجموعات _____ مجموعات



اوجد ناتج القسمة

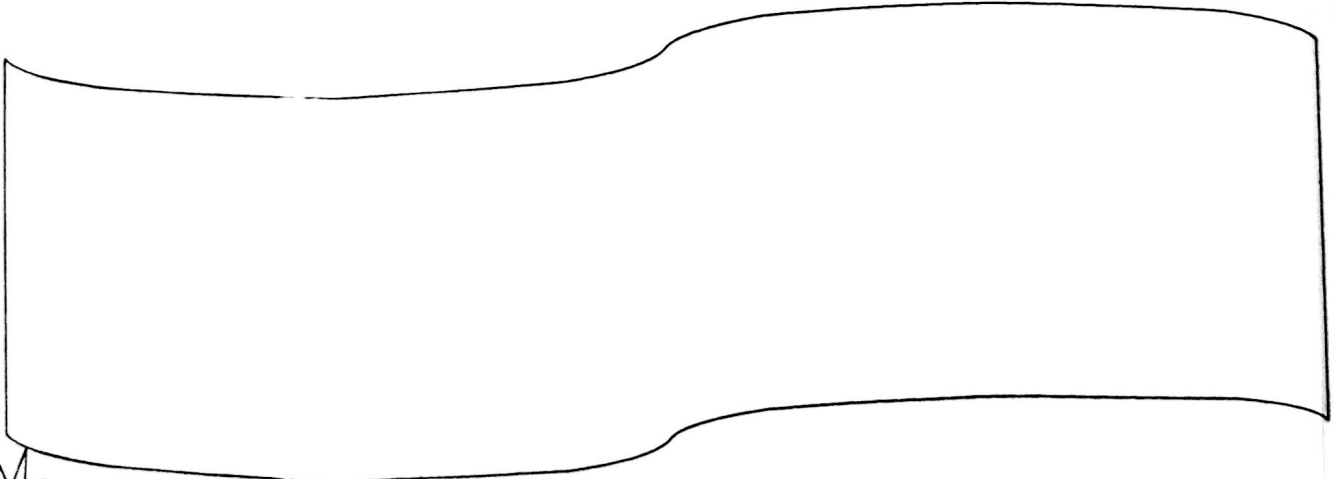
$$\underline{\hspace{2cm}} = 3 \div 9$$



ثم اكتب الناتج

$$\underline{\hspace{2cm}} = 0 \div 0$$

وضح بالرسم



أكمل . اكتب عدد المجموعات



حوط كل ٢

$10 \div 2 = \underline{\quad}$


عدد المجموعات

اكتب عبارة القسمة الممثلة:-



$\underline{\quad} = \underline{\quad} \div \underline{\quad}$

هل يمكنك كتابة عبارة قسمة أخرى؟

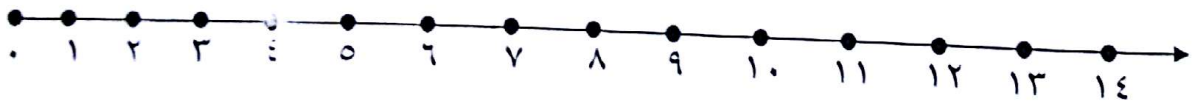


اوجد ناتج القسمة مستخدما الطرح المتكرر

$12 \div 4 = \underline{\quad}$

باستخدام خط الأعداد

وزع ١٤ ☆ على المتعلمين بحيث يأخذ كل متعلم ٢ ☆



$14 \div 2 = \underline{\quad}$

قسم الى مجموعات متساوية



$\underline{\quad} = \underline{\quad} \div \underline{\quad}$

$\underline{\quad} = \underline{\quad} \div \underline{\quad}$



اكتب عبارات الضرب والقسمة للأعداد ٤ ، ٥ ، ٢٠ .

$$\underline{\quad} = \underline{\quad} \div \underline{\quad}$$

$$\underline{\quad} = \underline{\quad} \times \underline{\quad}$$

$$\underline{\quad} = \underline{\quad} \div \underline{\quad}$$

$$\underline{\quad} = \underline{\quad} \times \underline{\quad}$$

اكتب العدد الناقص


$$٢ = ٥ \div \square$$

$$٤ = ٣ \div \square$$

أكمل .


١٨	٨	٦	

اختر العملية المناسبة ، ثم اوجد الناتج

* وضع محمد ٧ برتقالات  في  و ٩ برتقالات أخرى  برتقالات أخرىفكم أصبح عدد كل البرتقالات في  ؟عدد كل البرتقالات برتقالة



$$٧ + ٩$$

$$٧ - ٩$$

* وزع خالد ١٢  على ٤ من أصدقائه بالتساوي فكم نصيب كل صديق ؟نصيب كل صديق

$$٤ - ١٢$$

$$٤ \div ١٢$$

* عند فهد ٣ سلال  في كل منها ٥  ، فكم عدد كل البرتقال ؟عدد كل البرتقال 

$$٥ \times ٣$$

$$٥ + ٣$$

* أعطى سالم أخاه ٨ أقلام من أقلامه الملونة . إذا كان لديه ١٣ قلمًا ؟ فكم قلمًا بقي معه ؟

عدد الأقلام المتبقية

$$٨ - ١٣$$

$$٨ \div ١٣$$



نموذج اختبار الوحدة التاسعة

اكتب عبارة ضرب و عبارة قسمة للأعداد ٣ ، ٥ ، ١٥



$$\underline{\hspace{2cm}} = \underline{\hspace{2cm}} \div \underline{\hspace{2cm}}$$

$$\underline{\hspace{2cm}} = \underline{\hspace{2cm}} \times \underline{\hspace{2cm}}$$

أكمل . اكتب عدد المجموعات



حوظ كل ٤

$$\underline{\hspace{2cm}} = 4 \div 12$$

عدد المجموعات

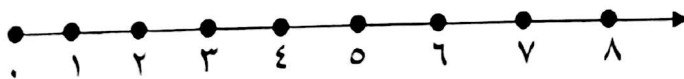
* وزع عمر ١٠ على ٥ من أصدقائه بالتساوي فكم نصيب كل صديق ؟

نصيب كل صديق = $\underline{\hspace{2cm}}$

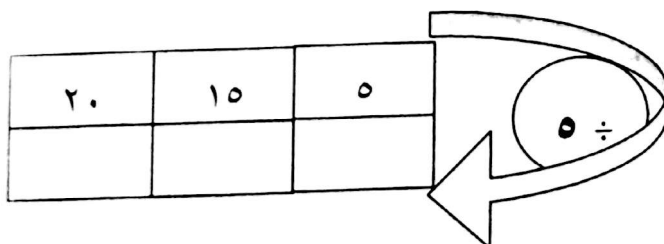
باستخدام خط الأعداد



وزع ٨ ☆ على المتعلمين بحيث يأخذ كل متعلم ٢ ☆

متعلمين $\square = 8 \div 2$

أكمل .



صفحة ٥

رقم ١ الإجابة

$$٣ = ٥ \div ١٥ ، ١٥ = ٥ \times ٣$$

رقم ٢ الإجابة ٣ مجموعات

رقم ٣ الإجابة

$$٢ = ٥ \div ١٠$$

رقم ٤ الإجابة ٤ متعلمين

صفحة ٦

رقم ٥ الإجابة ٥ مجموعات

رقم ٦ الإجابة

$$٣ = ٥ \div ١٥ \text{ او } ٥ = ٣ \div ١٥$$

رقم ٧ الإجابة ٣

رقم ٨ الإجابة ٧

رقم ٩ الإجابة

$$٣ = ٢ \div ٦$$

$$٢ = ٣ \div ٦$$

صفحة ٧

رقم ١٠ الإجابة

$$٤ = ٥ \div ٢ ، ٢٠ = ٥ \times ٤$$

$$٥ = ٤ \div ٢ ، ٢٠ = ٤ \times ٥$$

رقم ١١ الإجابة

(أ) ١٠، ١٢

(ب) ٩، ٤، ٣

(ج) ٥، ١٥، ٣، ١٦

صفحة ٨

رقم ١ الإجابة ٤ خرزات

رقم ٢ الإجابة ٣ مجموعات

رقم ٣ الإجابة ٣

رقم ٤ الإجابة ١

رقم ٥ الإجابة

٤، ٣، ١

