

تم تحميل هذا الملف من موقع المناهج الكويتية



الملف نموذج أسئلة اختبار التعليم الخاص

[موقع المناهج](#) ⇐ [المناهج الكويتية](#) ⇐ [الصف السادس](#) ⇐ [اجتماعيات](#) ⇐ [الفصل الثاني](#)

روابط مواقع التواصل الاجتماعي بحسب الصف السادس



روابط مواد الصف السادس على تلغرام

[الرياضيات](#)

[اللغة الانجليزية](#)

[اللغة العربية](#)

[التربية الاسلامية](#)

المزيد من الملفات بحسب الصف السادس والمادة اجتماعيات في الفصل الثاني

مراجعة	1
مراجعة	2
مراجعة	3
مذكرة في مادة الاجتماعيات	4
مراجعة محلولة ومفيدة في مادة الاجتماعيات	5

١٣

السؤال الخامس : مقالي ويتكون من (أ) و (ب) :

(أ) اقرأ الفقرة التالية ثم أجب عما يليها من أسئلة :

" كان لاكتشاف النفط وتصديره أهمية كبرى حيث بدأت دول الخليج العربية بمرحلة نمو اقتصادي بارز فاهتمت دول مجلس التعاون الخليجي في مجال الصناعة كصناعة تكرير النفط من أجل التنوع الاقتصادي والتقليل من الاعتماد الكبير على إنتاج النفط . "

١- عرف ماتحته خط :

.....

٢- عدد - أنواع الصناعات القائمة على النفط في دول مجلس التعاون الخليجي.

.....

.....

٣- اذكر مثال لأهم الدول المستوردة النفط .

.....

٤- فرق بين كل من :

احتياطي النفط	إنتاج النفط

(ب) أكتب إثنين فيما يلي :

١- المؤسسات الاجتماعية التي لها جهود في معالجة المشكلات الاجتماعية.

.....

.....

٢- الروابط المتشابهة التي تربط بين سكان دول الخليج العربية .

.....

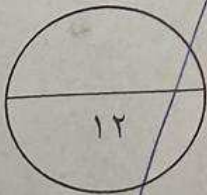
.....

٣- أسباب زيادة عدد السكان في دولة الكويت ودول الخليج العربية المستمر.

.....

.....

انتهت الأسئلة ،،،،،



١٢

o

السؤال الرابع : مقالتي ويتكون من (أ ، ب ، ج) :

(أ) لاحظ الصورة المقابلة ثم أجب عما يلي :



١- ما اسم - المشكلة الإجتماعية التي تمثلها الصورة ؟

.....

٢- عرف - المقصود بهذه الظاهرة .

.....

٣- اقترح - حلاً مناسباً لها .

.....

.....

(ب) علل لما يلي :

١- حاجة دول مجلس التعاون لدول الخليج العربية الى إقامة الموانئ النفطية .

.....

٢- حدوث التلوث المائي (البحري) .

.....

.....

٣- استقبلت منطقة الخليج العربية موجات سكانية من كل المناطق المجاورة .

.....

(ج) اكتب فيما يلي :

١- مظاهر التعاون السياسي بين دول الخليج العربية .

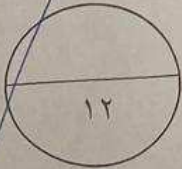
.....

.....

٢- النتائج المترتبة على حدوث التلوث الأرضي (التربة) .

.....

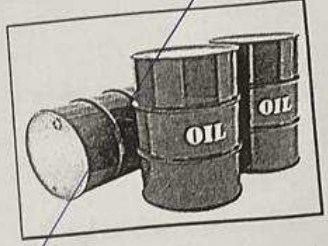

.....



السؤال الثالث: موضوعي ويتكون من (أ) و (ب) :

(أ) ضع عنواناً مناسباً للصور والأشكال التالية مما درست :


ملء



.....-١

.....-٢

.....-٣



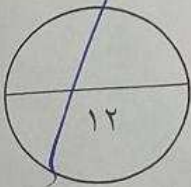
.....-٤

.....-٥

.....-٦

(ب) أكمل العبارات التالية بما يناسبها :

- ١- العام الذي بدأت فيه عمليات التنقيب عن النفط في دولة الكويت هو م
- ٢- أعلى دولة خليجية في إنتاج النفط عام ٢٠٠٨ م تسمى
- ٣- المعدن الذي تنفرد سلطنة عُمان بصناعته يسمى
- ٤- السلع والمنتجات التي تبيعها دولنا في الخارج تسمى
- ٥- درع واق للأحياء ضد خطر الأشعة فوق البنفسجية الضارة تسمى
- ٦- القوة العسكرية المشتركة التي تضم جميع دول مجلس التعاون الخليجية تسمى





امتحان نهاية الفترة الدراسية الثانية
لمقرر الكويت ودول الخليج العربية
للصف السادس المتوسط

أجب عن جميع الأسئلة

السؤال الأول: موضوعي ويتكون من (أ) و (ب):

(أ) ضع خطأ تحت الخيار الصحيح من بين الخيارات التي تلي كل عبارة:

١- بدأ التنقيب عن النفط بدولة الكويت شمالاً وذلك في حقل:

أ- بحرة

ب- برقان

ج- الوفرة

د- الروستين

٢- تم تصدير أول شحنة من النفط الكويتي عام:

أ- ١٩٤٢م

ب- ١٩٤٤م

ج- ١٩٤٦م

د- ١٩٤٨م

٣- جبل علي منطقة متخصصة في الصناعات البتروكيمياوية في دولة:

أ- الكويت

ب- قطر

ج- البحرين

د- الإمارات العربية المتحدة

٤- تعتبر شبه الجزيرة العربية ملتقى الهجرات الخارجية القادمة من:

أ- آسيا وأوروبا

ب- آسيا وأفريقيا

ج- أفريقيا وأوروبا

د- آسيا وأستراليا

٥- الهجرات العربية التي خرجت من قلب الجزيرة العربية واستقرت في قطر:

أ- آل صباح

ب- القواسم

ج- بني ياس

د- المعاضيد

٦- صدر إعلان الدوحة بشأن قيام السوق الخليجية المشترك عام:

أ- ٢٠٠٤م

ب- ٢٠٠٦م

ج- ٢٠٠٨م

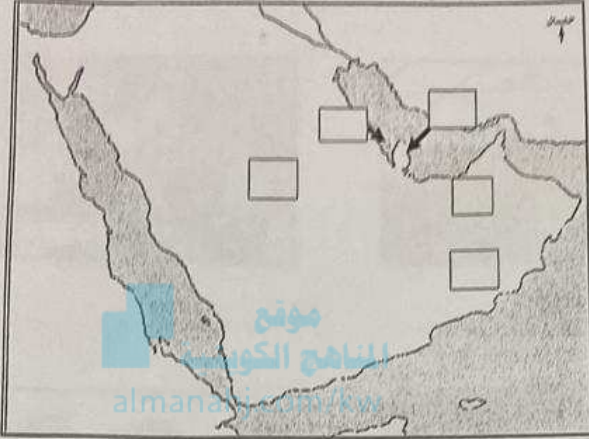
د- ٢٠١٠م

(ب) اكتب المصطلح أو المفهوم الدال على العبارات التالية:

م	المفهوم أو المصطلح	العبارة
١	مجموع الدخول التي تحصل عليها الدولة خلال عام.
٢	إعادة تصدير البضائع المستوردة.
٣	عدد السكان في الكيلو متر المربع.
٤	مجموعة من العادات والتقاليد والقيم في مجتمع من المجتمعات.
٥	الضرر الذي يصيب عناصر البيئة الأساسية (ماء-هواء-تربة) فتتحول من عناصر مفيدة إلى عناصر ضارة.
٦	مجموعة من الأفراد الذين يشاركون الأسرة في دور أو أكثر داخل المنزل أو خارجه من المربيين والطباخين وغيرهم.

السؤال الثاني: موضوعي ويتكون من (أ) و (ب) :

(أ) لاحظ الخريطة الصماء التي أمامك ثم وزع أسماء الحضارات على الخريطة بوضع الرقم المناسب:



- ١- دلمون
- ٢- هيلي
- ٣- أم النار
- ٤- دها
- ٥- تاروت

صلى

(ب) ضع علامة (√) أمام العبارة الصحيحة وعلامة (×) أمام العبارة الخاطئة :

العلامة	العبارة	م
	تم اكتشاف النفط في دولة الكويت بكميات ضخمة في حقل برقان .	١
	سهل تهامة منطقة زراعية تقع في المملكة العربية السعودية .	٢
	ترجع أصول السكان في منطقة الخليج العربية الى جنس البحر المتوسط فقط .	٣
	تعرضت دولة الكويت للعدوان العراقي الغاشم عام ١٩٩٠ م .	٤
	يقع مقر مكتب التربية العربي في مدينة أبوظبي .	٥
	مملكة البحرين هي الدولة الخليجية التي لم تتعرض للاستعمار الأجنبي.	٦
	العنف عادة متعلمة .	٧