

TIMSS  
2019



وزارة التربية  
التوجيه العام للعلوم

المنهج المساند لكتاب الطالب

www.KweduFiles.Com  
للسف الثامن الفصل الدراسي الأول

للعام الدراسي 2018/2019 م



تطلب منك والدتك أحياناً أن تشتري مستلزمات المنزل وتزودك بقائمة بها وعند ذهابك إلى الجمعية التعاونية ، هل تستطيع الحصول على هذه القائمة الطويلة بسهولة؟ كيف ؟

هل تعلم أن علماء الكيمياء لديهم قائمة طويلة من العناصر المختلفة في الخواص ، فبعضها أكثر نشاطاً لأنها تدخل في التفاعلات لتكوين المركبات الكيميائية، وبعضها أقل نشاطاً، والبعض الآخر لا يكون مركبات لأنه لا يدخل في التفاعلات الكيميائية ، ولذلك حرصوا على مر العصور بترتيب العناصر حتى نجحوا في تصميم جدول تظهر فيه خواص العناصر في نموذج متكرر ومنتظم يسمى **الجدول الدوري الحديث**.

ما المبدأ الذي استخدم في ترتيب العناصر في الجدول الدوري ؟ وما الهدف من هذا الترتيب ؟ وما مكونات الجدول الدوري الحديث ؟

## كيف نستقرئ مكونات الجدول الدوري الحديث ؟



❖ ادرس الجدول الدوري جيداً شكل (1) ثم أجب عما يليه:-

يسار الجدول

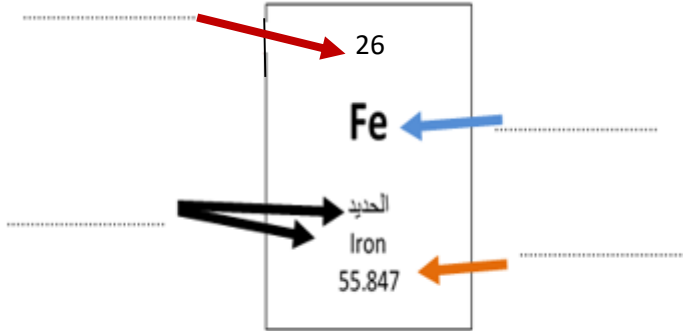
يمين الجدول

WWW.KweduFiles.Com

1A	2A	الملاشاندات										3A	4A	5A	6A	7A	8A						
1 H Hydrogen 1.008																		2 He Helium 4.003					
3 Li Lithium 6.941	4 Be Beryllium 9.012																	5 B Boron 10.811	6 C Carbon 12.011	7 N Nitrogen 14.007	8 O Oxygen 15.999	9 F Fluorine 18.998	10 Ne Neon 20.180
11 Na Sodium 22.990	12 Mg Magnesium 24.305																	13 Al Aluminium 26.982	14 Si Silicon 28.086	15 P Phosphorus 30.974	16 S Sulphur 32.066	17 Cl Chlorine 35.453	18 Ar Argon 39.948
19 K Potassium 39.098	20 Ca Calcium 40.078	21 Sc Scandium 44.956	22 Ti Titanium 47.88	23 V Vanadium 50.942	24 Cr Chromium 51.996	25 Mn Manganese 54.938	26 Fe Iron 55.847	27 Co Cobalt 58.933	28 Ni Nickel 58.69	29 Cu Copper 63.546	30 Zn Zinc 65.39	31 Ga Gallium 69.723	32 Ge Germanium 72.61	33 As Arsenic 74.922	34 Se Selenium 78.96	35 Br Bromine 79.904	36 Kr Krypton 83.80						
37 Rb Rubidium 85.468	38 Sr Strontium 87.62	39 Y Yttrium 88.906	40 Zr Zirconium 91.224	41 Nb Niobium 92.906	42 Mo Molybdenum 95.94	43 Tc Technetium [98]	44 Ru Ruthenium 101.07	45 Rh Rhodium 102.906	46 Pd Palladium 106.42	47 Ag Silver 107.868	48 Cd Cadmium 112.411	49 In Indium 114.818	50 Sn Tin 118.710	51 Sb Antimony 121.75	52 Te Tellurium 127.60	53 I Iodine 126.904	54 Xe Xenon 131.29						
55 Cs Cesium 132.905	56 Ba Barium 137.327	57 La Lanthanum 138.906	72 Hf Hafnium 178.49	73 Ta Tantalum 180.948	74 W Tungsten 183.85	75 Re Rhenium 186.207	76 Os Osmium 190.23	77 Ir Iridium 192.222	78 Pt Platinum 195.08	79 Au Gold 196.967	80 Hg Mercury 200.59	81 Tl Thallium 204.383	82 Pb Lead 207.2	83 Bi Bismuth 208.980	84 Po Polonium [209]	85 At Astatine [210]	86 Rn Radon [222]						
87 Fr Francium [223]	88 Ra Radium 226.025	89 Ac Actinium 227.028	104 Rf Rutherfordium [261]	105 Db Dubnium [262]	106 Sg Seaborgium [263]	107 Bh Bohrium [264]	108 Hs Hassium [265]	109 Mt Meitnerium [266]	110 Ds Darmstadtium [269]	111 Rg Roentgenium [272]	112 Uub Ununbium [272]	113 Uut Ununtrium [284]	114 Uuq Ununquadium [289]	115 Uup Ununpentium [288]	116 Uuh Ununhexium [292]	117 Uus Ununseptium [unknown]	118 Uuo Ununoctium [294]						
الملاشاندات																							
		58 Ce Cerium 140.115	59 Pr Praseodymium 140.908	60 Nd Neodymium 144.24	61 Pm Promethium [145]	62 Sm Samarium 150.36	63 Eu Europium 151.965	64 Gd Gadolinium 157.25	65 Tb Terbium 158.925	66 Dy Dysprosium 162.50	67 Ho Holmium 164.930	68 Er Erbium 167.26	69 Tm Thulium 168.934	70 Yb Ytterbium 173.04	71 Lu Lutetium 174.967								
		90 Th Thorium 232.038	91 Pa Protactinium 231.036	92 U Uranium 238.029	93 Np Neptunium 237.048	94 Pu Plutonium [244]	95 Am Americium [243]	96 Cm Curium [247]	97 Bk Berkelium [247]	98 Cf Californium [251]	99 Es Einsteinium [252]	100 Fm Fermium [257]	101 Md Mendelevium [258]	102 No Nobelium [259]	103 Lr Lawrencium [260]								

الأكتينيدات

شكل (1) الجدول الدوري الحديث

<p>1- ما عدد الصفوف الأفقية في الجدول الدوري الحديث (الدورات) ؟</p>	<p>ما عدد الأعمدة الرأسية في الجدول الدوري الحديث (المجموعات) ؟</p>
<p>(يحتوي الجدول الدوري على أكثر من 100 عنصر ولكل عنصر مربع منفصل).</p>	
<p>2- استدل على البيانات الموجودة في المربع من الشكل الذي أمامك، ثم اكتبها في المكان المناسب؟</p>	
<div style="text-align: center;">  </div>	
<p>3- كيف تم ترتيب وتصنيف العناصر في الجدول الدوري الحديث ؟ ومن أي جهة تبدأ في الجدول الدوري ؟</p>	
<p>Blank space for answer.</p>	

نلاحظ في الجدول الدوري أن المجموعات قسمت إلى مجموعات يرمز لها بالرمز (A) ومجموعة من (1 إلى 8) ، ومجموعات يرمز له بالرمز (B) وتتكون من 10 أعمدة .

تذكر أن : الإلكترونات في الذرة يتم توزيعها في (7) مستويات رئيسية حول النواة .

- المستوى الأول الأقرب إلى النواة: يتشبع بـ ( 2 ) إلكترون ويستقر بـ ( 2 ) إلكترون.
- المستوى الثاني: يتشبع بـ ( 8 ) ويستقر بـ ( 8 ) إلكترون .
- المستوى الثالث: يتشبع بـ (18) إلكترون ويستقر بـ (8) إلكترون.

1A 7A

3	9
Li	F
11	17
Na	Cl

استكشف أكثر عن العناصر في المجموعة؟



❖ قارن بين الترتيب الإلكتروني للعناصر في المجموعة كما في الشكل (2) .

شكل (2)

1- أوجد عدد إلكترونات المستوى الخارجي من خلال التوزيع الإلكتروني لكل عنصر .	
المجموعة 1A	المجموعة 7A
${}^3\text{Li}$	${}^9\text{F}$
2 , 1	2 , 7
عدد إلكترونات المستوى الخارجي .....=	عدد إلكترونات المستوى الخارجي .....=
${}^{11}\text{Na}$	${}^{17}\text{Cl}$
.....	.....
عدد إلكترونات المستوى الخارجي .....=	عدد إلكترونات المستوى الخارجي .....=
استنتاجي:	
2- ما العلاقة بين عدد الإلكترونات في المستوى الخارجي برقم المجموعة ؟	

إذا تشابهت العناصر في عدد إلكترونات المستوى الخارجي ( الأخير ) فإنها تتشابه في خواصها الكيميائية .



عناصر الدورة الثالثة من الجدول الدوري الحديث شكل رقم (3)							
<sup>11</sup> Na 2,8,1	<sup>12</sup> Mg 2,8,2	<sup>13</sup> Al .....	<sup>14</sup> Si .....	<sup>15</sup> P .....	<sup>16</sup> S .....	<sup>17</sup> Cl .....	<sup>18</sup> Ar 2,8,8
❖ استكمل التوزيع الإلكتروني لعناصر الدورة الثالثة من جهة اليسار إلى اليمين في الجدول الدوري الحديث كما في الشكل (3) ثم أجب عما يليه :-							
				1- تدرج العدد الذري للعناصر (يزداد - يقل)			
				2- عدد مستويات الطاقة			
				3- الخواص الفلزية			
				4- الخواص اللافلزية			
				استنتاجي			

WWW.KweduFiles.Com

إذا علمت أن عدد الإلكترونات في المستوى الخارجي يدل على رقم المجموعة ، وعدد مستويات الطاقة يدل على رقم الدورة التي يقع فيها العنصر . كيف يمكنك أن تحدد موقع العنصر في الجدول الدوري؟

❖ أكمل الجدول التالي لتحديد الدورة والمجموعة التي يقع فيها كل عنصر.

رقم المجموعة	عدد إلكترونات المستوى الخارجي	رقم الدورة	عدد مستويات الطاقة	التوزيع الإلكتروني	رمز عنصر
1			2		<sup>3</sup> Li
			3	2,8,2	<sup>12</sup> Mg
	6			2,8,6	<sup>16</sup> S

- قارن بين عدد الدورات في الجدول الدوري وعدد مستويات الطاقة في الذرة ؟







المادة إما أن تكون عنصراً أو مركباً ، والعنصر يتواجد إما بحاله منفردة مثل الغازات النبيلة كالهيليوم He ، النيون Ne ، الأرجون Ar ، ويمكن أن يتواجد في الفلزات كالألومنيوم Al و النحاس Cu والحديد Fe بحالة صلبة، أو بصورة جزيئية كمعظم جزيئات العناصر الغازية التي تتكون من ذرتين مرتبطين مثل  $H_2$  ،  $Cl_2$  ،  $N_2$  ،  $O_2$  .

هناك بعض العناصر اللافلزية جزيئاتها تحتوي على أكثر من ذرتين مثل الكبريت S ، الكربون C ، الفسفور P. أما المركبات يتكون الجزيء من نوعين أو أكثر من ذرات العناصر المكونة لها .

- صمّم نموذجاً للصيغة الجزيئية للمواد في الجدول التالي :-

الماء $H_2O$	الهيليوم He	الأكسجين $O_2$
WWW.KweduFiles.Com		

قد تتساءل كيف ترتبط ذرتان لنفس العنصر لتكون جزيء منه مثل جزيء الأكسجين  $O_2$  ؟

أو كيف ترتبط ذرات العناصر المختلفة لتكوين مركبات مثل الماء  $H_2O$  أو ملح الطعام  $NaCl$ ؟

من دراستك للجدول الدوري الحديث لاحظت أن العناصر النبيلة تقع في المجموعة (A 8) وهي أكثر

العناصر استقراراً لأن المستوي الخارجي لذراتها مستقر بالإلكترونات ، أما العناصر الأخرى فإنها

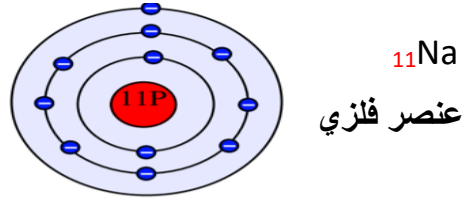
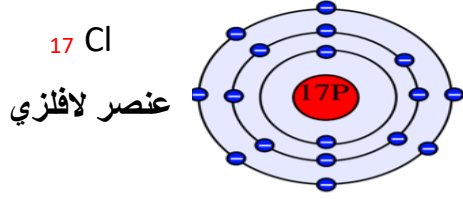
تميل للارتباط بعناصر أخرى لتصل إلى حالة الاستقرار إما بالانتقال أو المشاركة مع ذرات العناصر

المرتبطة بها ، ما **الرابطه الكيميائية** ؟





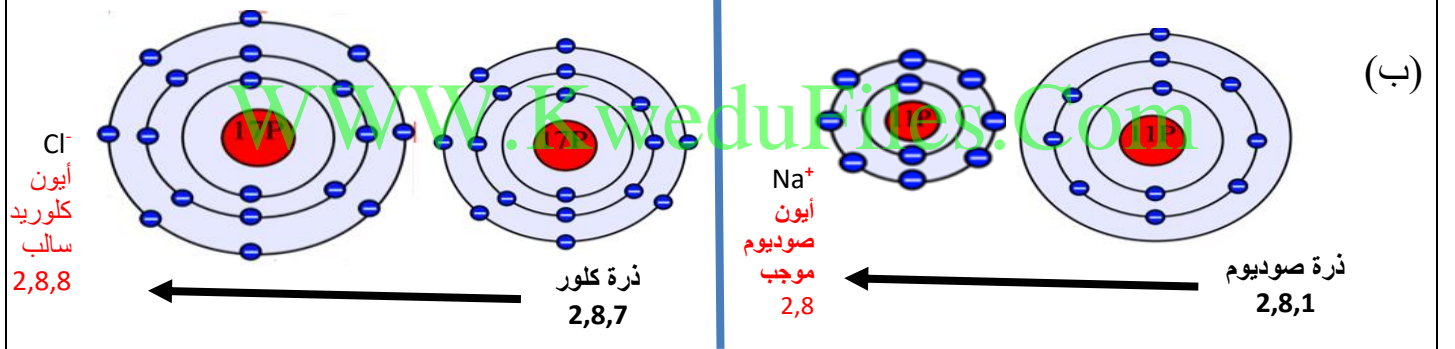
\* ادرس الشكل (أ) جيداً ثم أجب عما يليه :-



(أ)

الكور	الصوديوم	وجه المقارنة
		1- كم عدد إلكترونات المستوى الخارجي
		2- هل الذرة مستقرة ؟ ولماذا؟

- (ترتبط الذرات ببعضها البعض لتصل لحالة الاستقرار إما من خلال فقد إلكترون أو أكثر أو اكتساب إلكترونات أو أكثر).  
3- ادرس الشكل التالي بعد ارتباط ذرة الصوديوم وذرة الكلور .



4- ملاحظاتي

5- فسر تحول الذرة المتعادلة قبل الارتباط إلى أيون ( موجب / سالب ) بعد الأرتباط ؟

6- في الشكل (ب) قارن بين حجم الذرة وحجم الأيون مع التفسير ؟

ما هو الأيون ؟

استنتاجي

هل تصلح هذه الرابطة للربط بين ذرة الهيدروجين  $1H$  مع ذرة الهيدروجين  $1H$  لتكوين جزيء الهيدروجين؟ فكر

تحقق من فهمك



الأيون هو الذرة التي فقدت أو اكتسبت إلكترونات أو أكثر من مستواها الخارجي للوصول إلى حالة الإستقرار .

### الأيون الموجب

العناصر الفلزية تميل لفقد إلكترونات أو أكثر لتصبح مشحونة بشحنة موجبة ، وإذا فقدت إلكترونين تصبح مشحونة بشحنتين موجبتين ويكون حجم الأيون الموجب أصغر من حجم الذرة المتعادلة .

### الأيون السالب

معظم العناصر اللافلزية لديها قابلية لاكتساب الإلكترونات ، لتصبح مشحونة بشحنة سالبة ، وإذا اكتسبت إلكترونين تصبح مشحونة بشحنتين سالبتين ، ويكون حجم الأيون السالب أكبر من حجم الذرة المتعادلة .

( عدا العناصر النبيلة )

\* الرابطة الكيميائية هي قوة التماسك التي تربط الذرات أو الأيونات مع بعضها البعض .

\* الرابطة الأيونية عبارة عن قوة التجاذب الكهربائي الساكن بين الأيونات المختلفة في نوع الشحنات.



تحدث حولنا الكثير من التغيرات، حيث يتعرض الحديد للصدأ، وينصهر الشمع عند اشتعال فتيل الشمعة، هذه التغيرات إما تغيرات فيزيائية أو تغيرات كيميائية .  
هناك تغيرات عندما تحدث للمادة تؤدي إلى تكون مادة جديدة تختلف عن المادة الأصلية في خواصها الكيميائية، وذلك ما يعرف بالتغير الكيميائي.

- ضع علامة ( ✓ ) أمام التغيرات الكيميائية في الجدول التالي:

التقاط صورة فوتوغرافية	احتراق الوقود	إعداد سلطة	انصهار الزبدة	تقطيع الكعك	هضم الطعام



الشكل رقم (4)

حدوث التغيرات السابقة ناتجة عن تكسير في الروابط الكيميائية بين الذرات أو الأيونات ، فتتكون روابط جديدة بين الذرات تنتج عنها مادة جديدة،  
ما نطلق عليه بالتفاعل الكيميائي.

أثناء التفاعل الكيميائي يعاد ترتيب

ذرات العناصر من جديد ، ولا بد من

حدوث تصادم بين الجسيمات بطاقة حركية

كافية وفي الاتجاه الصحيح حتى تتكون المواد الناتجة وبذلك يحدث التفاعل الكيميائي

كما في الشكل (4) .

لا يمكنك أن تشاهد تكسير أو تكوين الروابط الكيميائية رغم حدوثها بشكل مستمر.

- كيف تستدل على حدوث التفاعل الكيميائي؟

- هل توجد دلائل أو علامات تساعدنا على معرفة حدوث التفاعلات الكيميائية؟ فكر.



١٤٦٦




❖ كيف يمكنك الاستدلال على حدوث تفاعل كيميائي؟	
<p>كلوريد الصوديوم (10mL)</p> <p>نترات الفضة (10mL)</p>	<p>1- أضف (10 mL) من محلول كلوريد الصوديوم NaCl إلى (10 mL) من محلول نترات الفضة <math>AgNO_3</math>.</p> <p>ملاحظاتي :</p>
<p>أنبوبة اختبار</p> <p>بالون</p> <p>رقائق من الخارصين</p> <p>حمض الهيدروكلوريك المخفف</p>	<p>2- أضف حمض الهيدروكلوريك المخفف (HCl) على رقائق قليلة من الخارصين (Zn) في أنبوبة اختبار، ثم ضع على فوهة الأنبوبة بالوناً.</p> <p>ملاحظاتي :</p>
<p>محلول اليود</p> <p>محلول النشا</p>	<p>3- أضف قطرات من محلول اليود (<math>I_2</math>) إلى كأس به محلول النشا.</p> <p>ملاحظاتي :</p>
<p>مخبر جمع الغازات مملوء بالأكسجين</p> <p>ملعقة احتراق</p> <p>شريط مغنيسيوم</p>	<p>4- أشعل شريط المغنيسيوم (Mg) باستخدام ملعقة الاحتراق، ثم ضعه في مخبر مملوء بغاز الأكسجين (<math>O_2</math>)</p> <p>ملاحظاتي :</p>
<p>استنتاجي:</p>	

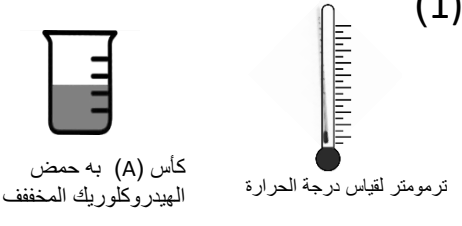

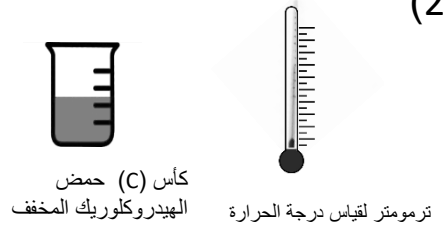

- هل هناك أدلة أخرى لحدوث تفاعل كيميائي؟ فكر.

عند حدوث التفاعلات الكيميائية تحدث تغيرات في الطاقة ، ولكن قد تتسائل ماهي أنواع طاقة التفاعلات الكيميائية ؟

### ما أنواع طاقة التفاعلات الكيميائية ؟



استقصي أنواع الطاقة في التفاعلات الكيميائية من خلال إجرائك التجارب التالية :-

<p>(1)<sup>o</sup></p>  <p>كأس (A) به حمض الهيدروكلوريك المخفف ترموتر لقياس درجة الحرارة</p>		<p>1- ضع الترمومتر في الكأس رقم (A) ، ثم انتظر لحين ثبات درجة الحرارة ولاحظ القراءة قبل التفاعل . ملاحظاتي :</p>
 <p>كأس (A) به حمض الهيدروكلوريك المخفف كأس (B) به محلول هيدروكسيد الصوديوم المخفف</p>		<p>- أضف محلول هيدروكسيد الصوديوم (NaOH) المخفف من الكأس (B) إلى الكأس (A) وانتظر ثبات درجة الحرارة ولاحظ القراءة بعد التفاعل ، ملاحظاتي :</p>
<p>WWW.KweduFiles.Com</p>		
<p>(2)</p>  <p>كأس (C) حمض الهيدروكلوريك المخفف ترموتر لقياس درجة الحرارة</p>		<p>2- ضع الترمومتر في الكأس (C) ، ثم انتظر لحين ثبات درجة الحرارة ولاحظ القراءة قبل التفاعل . ملاحظاتي :</p>
 <p>كأس (C) حمض الهيدروكلوريك المخفف حقة زجاجية تحتوي على بيكربونات البوتاسيوم</p>		<p>- أضف بيكربونات البوتاسيوم (<math>KHCO_3</math>) للكأس (C) وانتظر ثبات درجة الحرارة ولاحظ القراءة بعد التفاعل. ملاحظاتي :</p>
<p>- ما نوع الطاقة في التفاعل الكيميائي السابق</p>		
<p>استنتاجي من نشاط رقم (1) ورقم (2)</p>		



التفاعل الكيميائي: هو تكسير الروابط الكيميائية بين الذرات أو الأيونات وتكون روابط جديدة بين الذرات أو الأيونات المختلفة

### بعض الأدلة على حدوث التفاعل الكيميائي

ظهور فقاعات غازية

انطلاق طاقة

تغير اللون

تكون راسب

WWW.KweduFiles.Com

#### تفاعلات ماصة للطاقة

التفاعلات الكيميائية التي يصاحبها امتصاص طاقة أثناء التفاعل الكيميائي.

البناء الضوئي - طهي الطعام - إنقراض صورة فوتوغرافية

#### تفاعلات طاردة للطاقة

تفاعلات كيميائية يصاحبها انطلاق طاقة مع نواتج التفاعل.

توهج شريط مغنيسيوم مشتعل - التنفس - احتراق الغاز الطبيعي



1- وضع خالد قطعة صغيرة جداً من الصوديوم في كأس به ماء فلاحظ احتراق وتوهج قطعة الصوديوم.

برأيك هل حدث تفاعل كيميائي؟ فسر إجابتك:

.....  
.....  
.....

2- أكمل الجدول التالي :-

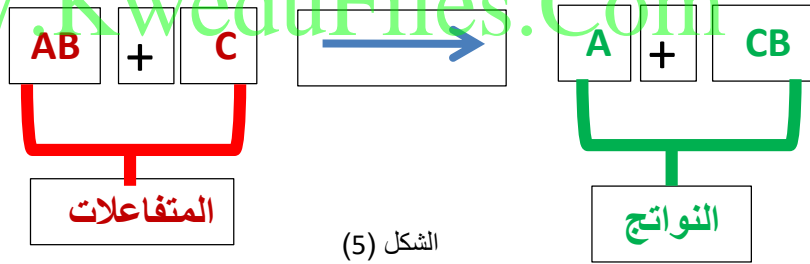
مادة أصلية ← مادة جديدة + طاقة	مادة أصلية ← مادة جديدة + طاقة
WWW.KweduFiles.Com	
نوع الطاقة	
صنف الأمثلة التالية على حسب نوع الطاقة ( البناء الضوئي – احتراق الغاز الطبيعي- التنفس -التحليل الكهربائي للماء )	



تعلمت سابقاً عن أنواع الطاقة المصاحبة للتفاعلات الكيميائية ، فالطاقة لا تفنى ولا تستحدث من العدم وإنما تتحول من صورة إلى أخرى ، وهذا ما يعرف بقانون بقاء الطاقة ، وكذلك لا تختفي ذرات أي عنصر بعد التفاعل ، فإذا افترضنا أن التفاعل الكيميائي فيه عدد ذرات لكل عنصر في المواد المتفاعلة يساوي (6) فإن عدد ذرات نفس العنصر في المواد الناتجة منه يجب أن يساوي (6) وهذا ما يعرف بقانون بقاء الكتلة والذي ينص على أن (( مجموع كتل المواد الداخلة بالتفاعل يساوي مجموع كتل المواد الناتجة من التفاعل )) .

عندما تكتب وصفاً لفظياً لتفاعل كيميائي ، تلاحظ أنك تكتب بشكل مطول وتستغرق وقتاً أكثر حتى تصفه وتوضح فيه اتجاه التفاعل، و لسهولة دراسة التفاعلات الكيميائية اتفق العلماء على استخدام تعبير موجز يمثل التفاعل الكيميائي وصفاً وكما يسمى **المعادلة الكيميائية** . كما في الشكل (5) .

WWW.KweduFiles.Com




\* اكتب معادلة لفظية عن تفاعل الهيدروجين مع الأكسجين لينتج مركب الماء .

\* اكتب المعادلة الكيميائية السابقة بصورة رمزية ؟



الإجابة





والأن هل المعادلة السابقة موزونة ؟ أي هل عدد ذرات العنصر في التفاعلات السابقة تساوي عدد ذراته في النواتج ؟ فكر .

### كيف تكتب معادلة كيميائية رمزية موزونة ؟

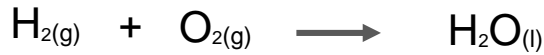


\* اقرأ الفقرة جيداً ثم أجب عن الأسئلة التي تليها :-

- 1- كتابة المواد المتفاعلة على الطرف الأيسر والمواد الناتجة على الطرف الأيمن، بينهم سهم يحدد اتجاه التفاعل.
- 2- مراعاة كتابة العناصر الغازية بصورة جزيئية .
- 3- يرمز بسهم إلى أعلى ( ↑ ) بجوار النواتج الغازية وبسهم إلى أسفل ( ↓ ) إذا كان الناتج راسب .
- 4- يتم وزن المعادلة بمساواة عدد ذرات كل عنصر في طرفي المعادلة بإضافة أرقام على يسار رمز العنصر أو المركب وتسمى هذه الأرقام بالمعاملات.
- 5- كتابة كلمة طاقة أو حرف E مع المتفاعلات إن كان التفاعل ماصاً للطاقة ومع النواتج إذا كان التفاعل طارداً للطاقة .
- 6- كتابة الحالة أسفل المادة: المحلول (aq) ، السائل (l) و الغاز (g)، الصلب (s) .

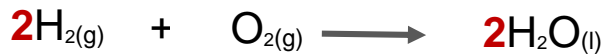
WWW.KweduFiles.Com

تفاعل غاز الهيدروجين ( H<sub>2</sub> ) مع غاز الأوكسجين ( O<sub>2</sub> ) فينتج ماء ( H<sub>2</sub>O ) في الحالة السائلة .



معادلة رمزية

المعادلة الكيميائية غير موزونة لأن عدد ذرات الأوكسجين غير متساوية على طرفي المعادلة



المعادلة موزونة

اكتب معادلة رمزية موزونة

1- عند وضع شريط مغنيسيوم ( Mg ) مشتعل في مخبر مملوء بغاز الأوكسجين ( O<sub>2</sub> ) لينتج مركب أكسيد المغنيسيوم الصلب ( MgO ) .



2- زن المعادلات الكيميائية التالية:-



WWW.KweduFiles.Com

- زن المعادلات الكيميائية التالية:-





يختلف الوقت اللازم لحدوث التفاعلات الكيميائية ، فعندما تشعل عود ثقاب تلاحظ عند الاحتكاك اشتعال عود الثقاب في اللحظة نفسها ، وهناك تفاعلات تحتاج لزمان أطول مثل نضوج الفاكهة ، والتقدم في السن .

- رتب التغيرات الحادثة للتفاعلات الكيميائية على حسب سرعتها :-

سرعة التفاعل الكيميائي	التفاعل الكيميائي
	1- صدأ الحديد
	2- الألعاب النارية
	3- تكون النفط في باطن الأرض




يمكن التعبير عن معدل تغير تركيز المواد المتفاعلة أو المواد الناتجة خلال وحدة الزمن **بسرعة التفاعل الكيميائي** . ولكن ما العوامل التي تؤثر على سرعة التفاعل الكيميائي ؟

استقصي العوامل المؤثرة على سرعة التفاعل الكيميائي؟








- قم بإجراء التجارب التالية :-

<p>أنبوبة رقم (2) حمض الهيدروكلوريك HCl المخفف (10 mL)</p>	<p>برادة حديد (1g)</p>	<p>أنبوبة رقم (1) حمض الهيدروكلوريك HCl المخفف (10 mL)</p>	<p>قطعة من الحديد (1 g)</p>
<p>1- أضف قطعة صغيرة من الحديد Fe (1g) لأنبوبة الاختبار رقم (1) ثم أضف برادة الحديد (1g) إلى أنبوبة الاختبار رقم (2)، وقارن الزمن المستغرق لحدوث التفاعل الكيميائي ؟</p>			
<p>ملاحظاتي :</p>			
<p>استنتاجي :</p>			

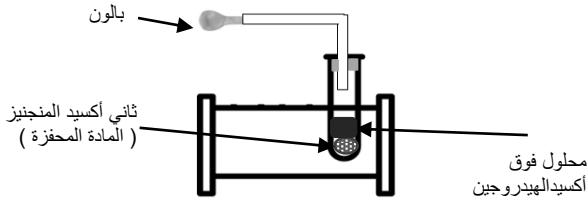
<p>الانبوبة رقم (2) من حمض الهيدروكلوريك HCl المركز قليلاً</p> 		<p>الانبوبة رقم (1) من حمض الهيدروكلوريك HCl المخفف</p> 
شريط من المغنيسيوم (1g)		شريط من المغنيسيوم (1g)
<p>2- ضع قطعة من شريط المغنيسيوم (Mg) في أنبوبة الاختبار رقم (1) ثم ضع قطعة من شريط المغنيسيوم في أنبوبة الاختبار رقم (2)، وقارن الزمن المستغرق لحدوث التفاعل الكيميائي؟</p>		
ملاحظاتي :		
استنتاجي :		

WWW.KweduFiles.Com

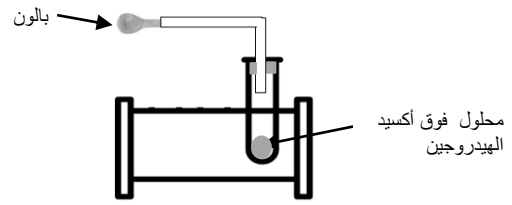
 <p>قرص فوار (vitamin C)</p>	 <p>كأس (2) ماء بارد</p>		 <p>قرص فوار (vitamin C)</p>	 <p>كأس (1) ماء ساخن</p>
<p>3- ضع قطعة قرص الفوار (vitamin C) في كأس الماء الساخن رقم (1) ، ثم ضع قرص الفوار (vitamin C) في كأس الماء البارد رقم (2)، ثم قارن بين الزمن المستغرق لحدوث التفاعل الكيميائي؟</p>				
ملاحظاتي				
استنتاجي				

إذا علمت أن محلول فوق أكسيد الهيدروجين ( $H_2O_2$ ) ينحل في درجة حرارة مناسبة إلى ماء وغاز الأكسجين ، ماذا يحدث عند استخدام مادة محفزة في التفاعل ؟

شكل رقم (2)



شكل رقم (1)



4- ضع فوق أكسيد الهيدروجين في أنبوبة الإختبار كما في الشكل رقم (1) ، أما في الشكل رقم (2) ضع قليلاً من ثاني أكسيد المنجنيز ( المادة المحفزة ) ثم أضف عليها محلول فوق أكسيد الهيدروجين في أنبوبة الإختبار ، ثم قارن بين الزمن المستغرق لحدوث التفاعل الكيميائي ؟

ملاحظاتي :

استنتاجي : [WWW.KweduFiles.Com](http://WWW.KweduFiles.Com)

- عامل رفع درجة الحرارة ليس هو أفضل عامل دائماً لزيادة سرعة التفاعل الكيميائي. فمثلاً بعض التفاعلات الكيميائية في جسم الإنسان تحتاج لزيادة سرعتها، ويستخدم لذلك الإنزيمات. وتعتبر من المواد المحفزة.

يستخدم المزارعين غاز الإيثين لتحفيز درجة النضوج الفاكهة .

المواد المحفزة: هي مادة تزيد من سرعة التفاعل الكيميائي دون استهلاكها.

تعامل مع الأدوات المخبرية والمركبات بحذر من أجل سلامتك





- ❖ سرعة التفاعل الكيميائي عبارة عن معدل تغير تركيز المواد المتفاعلة أو المواد الناتجة خلال الزمن .
- ❖ التفاعلات الكيميائية تختلف في سرعتها من تفاعل إلى آخر.
- ❖ يمكن التحكم في سرعة التفاعل الكيميائي من خلال عدة عوامل :-

### العوامل التي تؤثر التفاعل الكيميائي



WWW.KweduFiles.Com

ادرس الشكل ثم أجب عما يلي :-



شجرة  
(D)

قطع خشب صغيرة  
(B)

نشارة خشب  
(A)

- أي من منهما يحترق أسرع؟ .....

فسر إجابتك : .....