

تم تحميل هذا الملف من موقع ملفات الكويت التعليمية



[com.kwedufiles.www//:https](https://www.kwedufiles.com)

\*للحصول على أوراق عمل لجميع الصفوف وجميع المواد اضغط هنا

\* للحصول على أوراق عمل لجميع مواد الصف الأول اضغط هنا

<https://kwedufiles.com/1>

\* للحصول على جميع أوراق الصف الأول في مادة رياضيات ولجميع الفصول, اضغط هنا

<https://kwedufiles.com/1math>

\* للحصول على أوراق عمل لجميع مواد الصف الأول في مادة رياضيات الخاصة بـ الفصل الأول اضغط هنا

<https://www.kwedufiles.com/1math1>

\* لتحميل كتب جميع المواد في جميع الفصول للـ الصف الأول اضغط هنا

<https://www.kwedufiles.com/grade1>

\* لتحميل جميع ملفات المدرس التعليم الخاص اضغط هنا

[bot\\_kwlinks/me.t//:https](https://t.me/bot_kwlinks)

\* للحصول على جميع روابط الصفوف على تلغرام وفيسبوك من قنوات وصفحات: اضغط هنا

الروابط التالية هي روابط الصف الأول على مواقع التواصل الاجتماعي

مجموعة الفيسبوك

صفحة الفيسبوك

مجموعة التلغرام

بوت التلغرام

قناة التلغرام

رياضيات على التلغرام



# ورقة عمل [١]

الإدارة العامة للتعليم الخاص

مؤسسة الجھراء الأهلية التعليمية

مدرسة الجھراء الأهلية (ب-م) بنون


الفترة الدراسية الأولى  
(٢٠١٩ - ٢٠٢٠م)

الصف الأول


المادة : رياضيات

/ ١

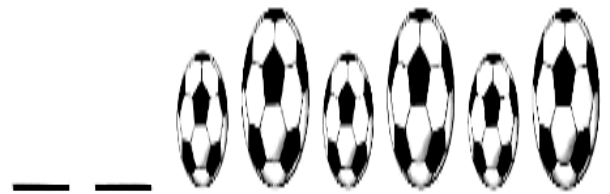
اسم الطالب :



السؤال الثاني : ضع علامة (✓) للشكل الذي بالأمام : صَعِّعْ عِلَامَةً (✓) لِلشَّيْءِ الَّذِي لَا يَنْتَمِي إِلَى الْمَجْمُوعَةِ .



السؤال الثالث : اكمل النمط :





## ورقة عمل (٢)

الإدارة العامة للتعليم الخاص

مؤسسة الجھراء الأهلية التعليمية

مدرسة الجھراء الأهلية (ب-م) بنون

الفترة الدراسية الأولى  
(٢٠١٩ - ٢٠٢٠م)

الصف الأول

المادة : رياضيات

/ ١

اسم الطالب :



اكتب رمز العدد.



خوِّط رمز العدد المناسب لكل مجموعة.



٥ ٤ ٣




٥ ٤ ٣



٥ ٤ ٣

صِل كل مجموعة برمز العدد المناسب.


١  
٢  
٣  
٤



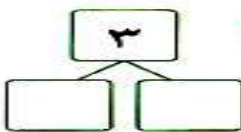
أتمل.



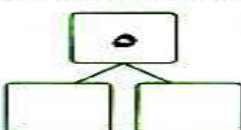
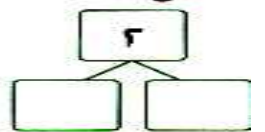
ضع علامة (✓) أسفل المجموعة الأقل. 6 ضع علامة (✓) أسفل المجموعة الأكثر.



أتمل:



١



٥

