

تم تحميل هذا الملف من موقع المناهج الكويتية



الملف اختبار تقويمي ثالث مفيد جداً للطلبة

[موقع المناهج](#) ⇨ [المناهج الكويتية](#) ⇨ [الصف الرابع](#) ⇨ [رياضيات](#) ⇨ [الفصل الثاني](#)

روابط مواقع التواصل الاجتماعي بحسب الصف الرابع



روابط مواد الصف الرابع على تلغرام

[الرياضيات](#)

[اللغة الانجليزية](#)

[اللغة العربية](#)

[التربية الاسلامية](#)

المزيد من الملفات بحسب الصف الرابع والمادة رياضيات في الفصل الثاني

تدريبات	1
مذكرة شاملة ومجموعة من التمارين	2
مذكرة الاختبار القصير الاول لمادة الرياضيات	3
مذكرة رياضيات للصف الرابع	4
اسئلة تقويمية في الرياضيات للصف الرابع	5

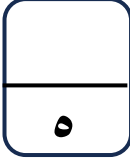
الاختبار التقويهي الثالث

للمصف الرابع

الفصل الدراسي الثاني 2023 / 2024

بنود الاختبار	توزيع درجات الاختبار		درجة الاختبار	مدة الاختبار	موعد الاختبار
من : (١-١١) إلى : (٤-١١)	مقال	موضوعي	٥ درجات	لا تتجاوز ١٥ دقيقة من زمن الحصة	الأسبوع ١٠
	٣	٢			

إشراف الوجيه الفني : أ. مها العنزي



نموذج ١ اختبار تقويمي (٣)
في مادة الرياضيات للصف الرابع
الفصل الدراسي الثاني للعام الدراسي ٢٠٢٣ / ٢٠٢٤



السؤال الأول :

أكتب في الصورة العشرية

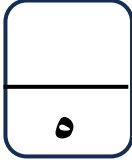
$$\frac{7}{10} \quad 3 \dots\dots\dots$$

تسعة صحيح وستة أجزاء من مئة

السؤال الثاني اختر الإجابة الصحيحة بوضع (✓)

رمز العدد العشري الأكبر هو				
١,٤	١,٧	١,٠٧	١,٢٧	١
<input type="radio"/>	<input type="radio"/>	<input type="radio"/>	<input type="radio"/>	
القيمة المكانية للرقم الذي تحته خط ٠,٣٨ هي				
٠,٠٣	٠,٨	٠,٣	٠,٠٨	٢
<input type="radio"/>	<input type="radio"/>	<input type="radio"/>	<input type="radio"/>	

انتهت الأسئلة ،،،



نموذج ١ إجابة اختبار تقويمي (٣)
في مادة الرياضيات للصف الرابع
الفصل الدراسي الثاني للعام الدراسي ٢٠٢٣ / ٢٠٢٤



السؤال الأول :

أكتب في الصورة العشرية

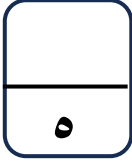
$$\dots\dots\dots ٣,٧ \quad ٣ \frac{٧}{١٠}$$

تسعة صحيح وستة أجزاء من مئة ٩,٠٦

السؤال الثاني اختر الإجابة الصحيحة بوضع (✓).

رمز العدد العشري الأكبر هو					
١,٤	١,٧	١,٠٧	١,٢٧		١
<input type="radio"/>	<input checked="" type="radio"/>	<input type="radio"/>	<input type="radio"/>		
القيمة المكانية للرقم الذي تحته خط ٠,٣٨ هي					
٠,٠٣	٠,٨	٠,٣	٠,٠٨		٢
<input type="radio"/>	<input type="radio"/>	<input checked="" type="radio"/>	<input type="radio"/>		

انتهت الأسئلة ،،،



نموذج ٢ اختبار تقويمي (٣)
في مادة الرياضيات للصف الرابع
الفصل الدراسي الثاني للعام الدراسي ٢٠٢٣ / ٢٠٢٤



السؤال الأول :

أكتب في الصورة العشرية

ثمانية أجزاء من عشرة

$$\begin{array}{r} 21 \\ \hline 100 \end{array}$$

اثنان صحيح وسبعة أجزاء من مئة

السؤال الثاني :

ظل (✓) إذا كانت العبارة صحيحة، و ظل (x) إذا كانت العبارة خطأ

<input checked="" type="checkbox"/>	<input checked="" type="checkbox"/>	١ القيمة المكانية للرقم الذي تحته خط ٠,٥٢ هي ٠,٠٥
<input checked="" type="checkbox"/>	<input checked="" type="checkbox"/>	٢ الاسم اللفظي للكسر العشري ٠,٤٣ هو ثلاثة وأربعون جزءاً من مئة

انتهت الأسئلة ،،،

السؤال الأول :

أكتب في الصورة العشرية

ثمانية أجزاء من عشرة ٠,٨

..... ٠,٢١

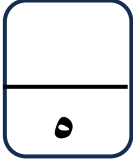
$$\frac{21}{100}$$

اثنان صحيح وسبعة أجزاء من مئة ٢,٠٧

السؤال الثاني :

ظل (✓) إذا كانت العبارة صحيحة، و ظل (x) إذا كانت العبارة خطأ

<input checked="" type="checkbox"/>	<input type="checkbox"/>	١ القيمة المكانية للرقم الذي تحته خط ٠,٥٢ هي ٠,٠٥
<input checked="" type="checkbox"/>	<input type="checkbox"/>	٢ الاسم اللفظي للكسر العشري ٠,٤٣ هو ثلاثة وأربعون جزءاً من مئة



نموذج ٣ اختبار تقويمي (٣)
في مادة الرياضيات للصف الرابع
الفصل الدراسي الثاني للعام الدراسي ٢٠٢٣ / ٢٠٢٤

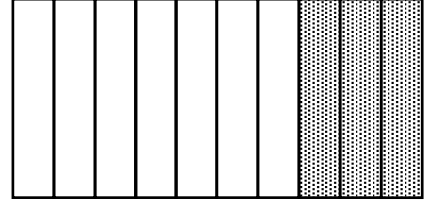


السؤال الأول :

(أ) اكتب الكسر الاعتيادي والكسر العشري الدال على الأجزاء المظللة



,



(ب) رتب تنازلياً :

٤,٨ ، ٩,٥ ، ٢,٨ ، ٥,٩٥

--	--	--	--

السؤال الثاني :

ظلل (✓) إذا كانت العبارة صحيحة، و ظلل (x) إذا كانت العبارة خطأ

<input checked="" type="checkbox"/>	<input checked="" type="checkbox"/>	$٥,١٩ < ٥,٧$	١
<input checked="" type="checkbox"/>	<input checked="" type="checkbox"/>	رمز العدد خمسة صحيح وسبعة أجزاء من مئة هو ٥,٧	٢

انتهت الأسئلة ،،،

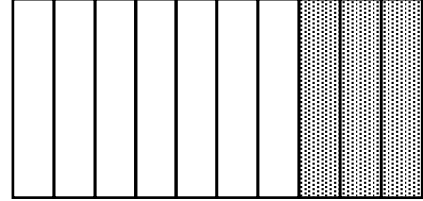
السؤال الأول :

(أ) اكتب الكسر الاعتيادي والكسر العشري الدال على الأجزاء المظلمة

٠,٣

,

$\frac{3}{10}$



(ب) رتب تنازلياً :

٥,٩٥ ، ٢,٨ ، ٩,٥ ، ٤,٨

٢,٨	٤,٨	٥,٩٥	٩,٥
-----	-----	------	-----

السؤال الثاني :

ظلل (✓) إذا كانت العبارة صحيحة، و ظلل (x) إذا كانت العبارة خطأ

<input checked="" type="checkbox"/>	<input checked="" type="checkbox"/>	$٥,١٩ < ٥,٧$	١
<input checked="" type="checkbox"/>	<input checked="" type="checkbox"/>	رمز العدد خمسة صحيح وسبعة أجزاء من مئة هو ٥,٧	٢

انتهت الأسئلة ،،،