

تم تحميل هذا الملف من موقع المناهج الكويتية



مدرسة التميز النموذجية

الملف أوراق عمل للاختبار القصير الأول

[موقع المناهج](#) ← [المناهج الكويتية](#) ← [الصف السادس](#) ← [اجتماعيات](#) ← [الفصل الأول](#)

روابط مواقع التواصل الاجتماعي بحسب الصف السادس



روابط مواد الصف السادس على تلغرام

[الرياضيات](#)

[اللغة الانجليزية](#)

[اللغة العربية](#)

[التربية الاسلامية](#)

المزيد من الملفات بحسب الصف السادس والمادة اجتماعيات في الفصل الأول

نموذج اجابة اختبار لمنطقة مبارك الكبير عام 2016	1
اوراق عمل مهمة في مادة الاجتماعيات	2
بنك اسئلة ممتاز في مادة الاجتماعيات	3
بنك معلومات مهم في مادة الاجتماعيات	4
تلخيص اجتماعيات بشكل مبسط	5

أوراق عمل الاختبار القصير

مادة الاجتماعيات

موقع
المنهاج الكويتية
almanahj.com/kw



الفصل الدراسي الأول 2024 – 2025 م

للسف السادس



إعداد
قسم الاجتماعيات



مدرسة التميز النموذجية



ورقة عمل رقم 1

أكمل العبارات التالية:

- 1- منطقة في الصحراء فيها مياه عذبة صالحة للزراعة تسمى
- 2- مياه موجودة في باطن الأرض تسمى
- 3- يبدأ موسم الغوص على اللؤلؤ في شهر
- 4- ينتهي موسم الغوص على اللؤلؤ في شهر
- 5- بداية موسم الغوص على اللؤلؤ تسمى
- 6- نهاية موسم الغوص على اللؤلؤ تسمى
- 7- يطلق على صانع السفينة قديما أسم
- 8- جميع أشكال المياه على سطح الأرض مثل البحار والخلجان والمحيطات تسمى
- 9- أهم البضائع المصدرة من منطقة الخليج العربي إلى الهند واليمن وسواحل شرق أفريقيا هي
- 10- أهم البضائع المستوردة من الهند وسواحل شرق أفريقيا هي
- 11- يسمى ريان السفينة قديما
- 12- يسمى تاجر اللؤلؤ قديما
- 13- يسمى مطرب السفينة قديما
- 14- يسمى رئيس البحرية قديما
- 15- تعتبر من المهن والحرف الأساسية ومكملة للأنشطة البحرية
- 16- صغار السن ومساعد السيب في السفن الكبيرة يسمى
- 17- صببية يعملون على ظهر السفينة لاكتساب الخبرة ويقومون بمناولة الماء يسمى

ورقة عمل رقم 2

صحح الخطأ فيما يلي:

- 1- المنتجات التي كانت تزرع قديماً في منطقة الخليج الموز والمانجو (.....)
- 2- تعتبر من أهم الأنشطة البرية التي مارسها أبناء الخليج لسد حاجاتهم صيد الأسماك (.....)
- 3- يطلق على صانع السفينة قديماً اسم الطواش (.....)
- 4- يسحب الغاصة من أعماق البحر هو المجدي (.....)

عرف ما يلي:



- 1- المياه الجوفية:
- 2- الواحة:
- 3- الدشة:
- 4- القفال:
- 5- سفينة البغلة:
- 6- المسطحات المائية:
- 7- النوخدة:
- 8- المجدي:
- 9- الغواص:
- 10- السيب:
- 11- النهام:
- 12- الرضيف:
- 13- التباة:
- 14- الطواش:



ورقة عمل رقم 3

: علل ما يلي:

1- ازدهار منطقة الخليج العربية كمحطة تجارية

.....

2- انصرف سكان الخليج العربي عن مهنة الغوص على اللؤلؤ

.....

3- سفينة البغلة من أفضل أنواع السفن في التجارة

.....



السؤال الخامس اجب عما يلي:

اذكر أسماء بعض المنتجات الزراعية في منطقة الخليج العربية

1-

2-

عدد ثلاث من الحرف اليدوية التي مارسها السكان قديما

1.

2.

3.

عدد ثلاثة أنواع من الأسماك في مياه الخليج العربي؟

مدرسة التميز النموذجية

3-

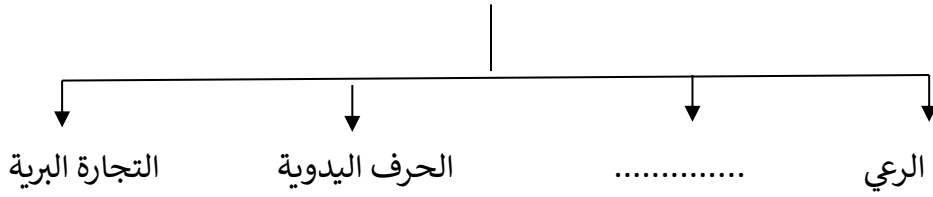
4-

5-



ورقة عمل رقم 4

عدد الأنشطة الاقتصادية البرية التي مارسها سكان دول الخليج العربية

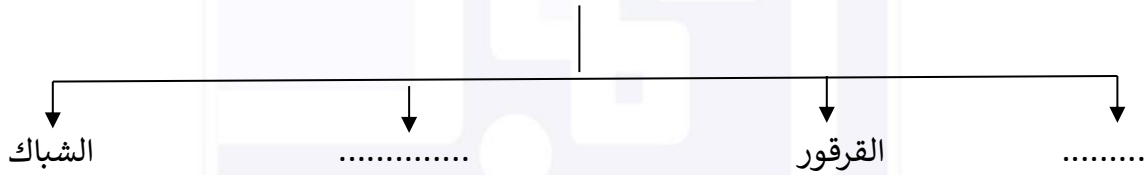


موقع
المنهاج الكويتية
almanahj.com/kw

عدد الأنشطة الاقتصادية البحرية التي مارسها سكان دول الخليج العربية



عدد وسائل صيد الأسماك قديما



مدرسة التميز النموذجية



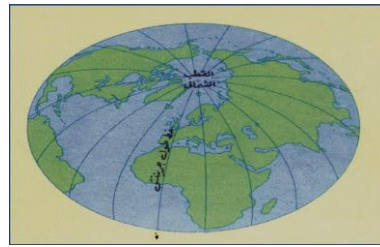
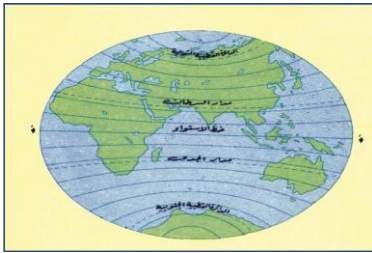
ورقة عمل رقم 5

ما الفرق بين الموقع الفلكي والموقع النسبي؟

الموقع النسبي	الموقع الفلكي
.....

س / قارن بين خطوط الطول ودوائر العرض؟ مع التوضيح بالرسم؟

دوائر العرض	خطوط الطول
التعريف:	التعريف:
.....
.....
العدد:	العدد:
الأهمية:	الأهمية:
.....
.....



مدرسة التميز النموذجية



ورقة عمل رقم 1

أكمل العبارات التالية:

1. منطقة في الصحراء فيها مياه عذبة صالحة للزراعة تسمى الواحة
2. مياه موجودة في باطن الأرض تسمى المياه الجوفية
3. يبدأ موسم الغوص على اللؤلؤ في شهر يونيو
4. ينتهي موسم الغوص على اللؤلؤ في شهر سبتمبر
5. بداية موسم الغوص على اللؤلؤ تسمى الدشة
6. نهاية موسم الغوص على اللؤلؤ تسمى القفال
7. يطلق على صانع السفينة قديما أسم القلاب
8. جميع أشكال المياه على سطح الأرض مثل البحار والخلجان والمحيطات تسمى المسطحات المائية
9. أهم البضائع المصدرة من منطقة الخليج العربي إلى الهند واليمن وسواحل شرق أفريقيا هي التمور
10. أهم البضائع المستوردة من الهند وسواحل شرق أفريقيا هي التوابل - السكر - الشاي - الأرز
11. يسمى ربان السفينة قديما النوخذة
12. يسمى تاجر اللؤلؤ قديما الطواش
13. يسمى مطرب السفينة قديما النهام
14. يسمى رئيس البحرية قديما المجدي
15. تعتبر من المهن والحرف الأساسية ومكملة للأنشطة البحرية صناعة السفن
16. صغار السن ومساعد السيب في السفن الكبيرة الرضيف
17. صبية يعملون على ظهر السفينة لاكتساب الخبرة ويقومون بمناولة الماء التبابة

ورقة عمل رقم 2

صحح الخطأ فيما يلي:

- 1.المنتجات التي كانت تزرع قديما في منطقة الخليج الموزوالمانجو (التمرور والخضار الورقية)
- 2.تعتبر من أهم الأنشطة البرية التي مارسها أبناء الخليج لسد حاجاتهم صيد الأسماك (الحرف اليدوية)
- 3.يطلق على صانع السفينة قديما أسم الطواش (القلاف)
- 4.يسحب الغاصة من أعماق البحر هو المجدي (السيب)

عرف ما يلي:



1. المياه الجوفية: هي المياه التي توجد في باطن الأرض
2. الواحة: هي منطقة تقع في الصحراء فيها مياه عذبة صالحة للزراعة
3. الدشة: بداية موسم الغوص على اللؤلؤ
4. القفال: نهاية موسم الغوص على اللؤلؤ
5. سفينة البغلة: هي من أفضل أنواع السفن للتجارة لمتانتها وقدرتها على نقل حمولة كبيرة
6. المسطحات المائية: جميع أشكال المياه على سطح الأرض
7. النوخذة: ربان السفينة
8. المجدي: رئيس البحرية
9. الغواص: يغوص في البحر بحثا عن اللؤلؤ
10. السيب: يسحب الغاصة من أعماق البحر
11. النهام: مطرب السفينة
12. الرضيف: مساعد السيب
13. التبابة: صببية يتعلمون الخبرة ويناولون بعض الأعمال الماء وغيرها
14. الطواش: تاجر اللؤلؤ



ورقة عمل رقم 3

علل ما يلي:

1. ازدهار منطقة الخليج العربية كمحطة تجارية

بسبب موقع الخليج العربي المتميز وسط طرق التجارة البرية (الشام - العراق - مصر - اليمن)

2. انصرف سكان الخليج العربي عن مهنة الغوص على اللؤلؤ

بسبب ظهور اللؤلؤ الصناعي - واكتشاف النفط

3. سفينة البغلة من أفضل أنواع السفن في التجارة

موقع
المنهاج الكويتية
almanahj.com

بسبب متانتها وقدرتها على نقل حمولة كبيرة وقلة تعرضها للأخطار

السؤال الخامس اجب عما يلي:

اذكر أسماء بعض المنتجات الزراعية في منطقة الخليج العربية

1. التمور.....

2. الخضروات الورقية.....

عدد ثلاث من الحرف اليدوية التي مارسها السكان قديما

1. حياكة السدو

2. خياطة البشوت

3. صناعة الخوص

مدرسة التميز النموذجية

عدد ثلاثة أنواع من الأسماك في مياه الخليج العربي

1. الزبيدي

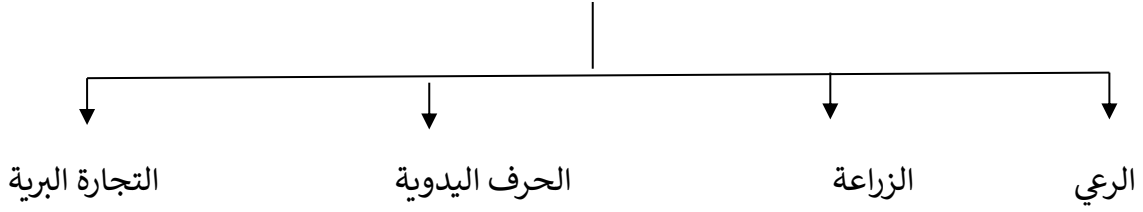
2. الهامور

3. الربيان



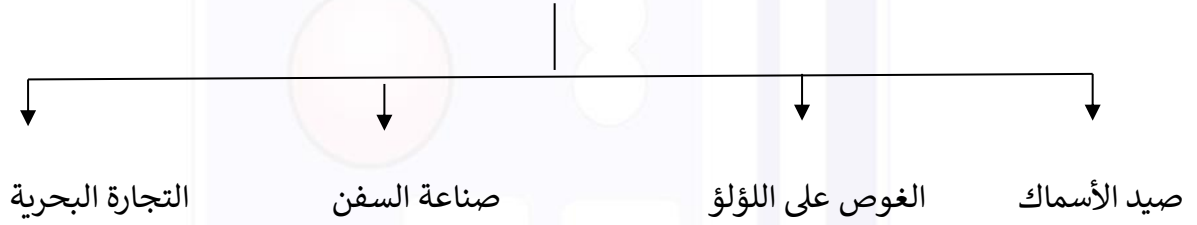
ورقة عمل رقم 4

عدد الأنشطة الاقتصادية البرية التي مارسها سكان دول الخليج العربية

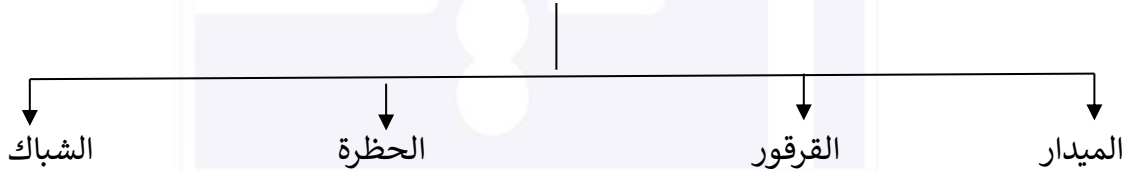


موقع
المنهاج الكويتية
almanahj.com/kw

عدد الأنشطة الاقتصادية البحرية التي مارسها سكان دول الخليج العربية



عدد وسائل صيد الأسماك قديما



مدرسة التميز النموذجية



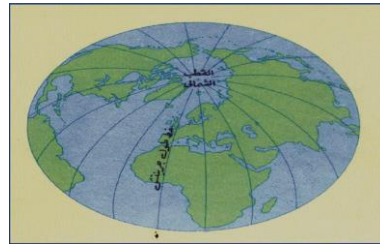
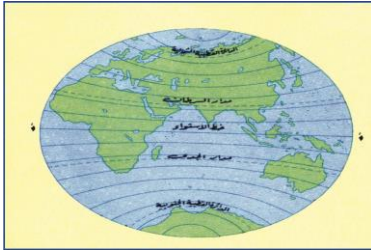
ورقة عمل رقم 5

ما الفرق بين الموقع الفلكي والموقع النسبي؟

الموقع النسبي	الموقع الفلكي
هو الموقع بالنسبة للماء واليابسة.	هو الموقع بالنسبة لخطوط الطول ودوائر العرض.

قارن بين خطوط الطول ودوائر العرض؟ مع التوضيح بالرسم؟

دوائر العرض	خطوط الطول
التعريف: دوائر وهمية ترسم على سطح الأرض وتقسّم الأرض إلى قسمين شمالي وجنوبي.	التعريف: خطوط وهمية ترسم على سطح الأرض وتقسّم الكرة الأرضية إلى قسمين شرقي وغربي.
العدد: 180 دائرة.	العدد: 360 خط.
الأهمية: 1. تحدد الموقع الفلكي. 2. تحدد المناطق الحرارية.	الأهمية: 1. تحديد الموقع الفلكي. 2. تحدد الوقت والزمن على سطح الأرض.



مدرسة التميز النموذجية





مدرسة التميز النموذجية
(ابتدائي - متوسط - ثانوي)
الجهاز الفني التربوي

منصات التميز التعليمية

لزيارة منصة التميز التعليمية في اليوتيوب امسح الباركود التالي :



لزيارة منصة التميز التعليمية في تليجرام امسح الباركود الخاص بقناة كل فصل مما يلي :



الصف الرابع



الصف الثالث



الصف الثاني



الصف الأول



الصف التاسع



الصف الثامن



الصف السابع



الصف السادس



الصف الخامس



الصف الثاني عشر
أدبي



الصف الثاني عشر
علمي



الصف الحادي عشر
علمي



الصف الحادي عشر
أدبي



الصف العاشر



لزيارة صفحتنا في تويتر

لزيارة صفحتنا في الإنستغرام

عنواننا : خيطان - ق ٤ - ش ١٠٠