



<http://www.ykuwait.net>  
TELEGRAM: @ykuwait\_net\_home



وزارة التربية

الإدارة العامة لمنطقة العاصمة التعليمية



# معلومات

# الاجابة



نموذج الإجابة

السؤال الأول : ويتكون من (أ- ب - ج - د - هـ - و ) ( ٣٠ درجة / لكل إجابة درجة )

أ- أكمل العبارات التالية بما يناسبها مما درست :

١- الدولة الإسلامية الأولى في إنتاج الذهب تسمى أوزباكستان ص ٧٠

٢- الخليفة الراشد الذي استحدث في عهده منصب المحتسب اسمه عمر بن الخطاب ص ٢٥

٣- القصر الذي بناه الخليفة الأموي معاوية بن أبي سفيان ويقع في دمشق يسمى قصر الخضراء ص ٣٤

٤- افتتح المسجد الكبير في دولة الكويت عام ١٩٨٦م في عهد الشيخ جابر الأحمد الصباح ص ٣١

٥- تبلغ مساحة العالم الإسلامي حوالي ٣٢ مليون كم ٢ ص ٥١

٦- العالم المسلم الذي ألف كتاب الصيدلة في الطب اسمه البيروني ص ١٩

ب - اختر الإجابة الصحيحة من بين البدائل التي تلي العبارات التالية:

١- تضم قارة أوروبا دولتين إسلاميتين هما ألبانيا و : ص ٥١

|       |         |                 |         |
|-------|---------|-----------------|---------|
| صربيا | اليونان | البوسنة والهرسك | رومانيا |
|-------|---------|-----------------|---------|

٢- العام الذي اصدرت فيه الجمعية العامة قرارا بإدخال اللغة العربية ضمن اللغات الرسمية: ص ٢١

|       |       |       |       |
|-------|-------|-------|-------|
| ١٩٧٢م | ١٩٧٣م | ١٩٧٤م | ١٩٧٥م |
|-------|-------|-------|-------|

٣- نبات ينمو في المناطق الاستوائية والموسمية ويصنع منه الحبال والأحذية والحقائب : ص ٧٣

|       |       |                |        |
|-------|-------|----------------|--------|
| الجوت | القطن | المطاط الطبيعي | الكتان |
|-------|-------|----------------|--------|

٤- أكبر الهضاب في العالم وتمتد من ساحل المحيط الأطلسي غرباً إلى مرتفعات البحر الأحمر شرقاً : ص ٥٧

|                  |          |               |                     |
|------------------|----------|---------------|---------------------|
| الهضبة الإيرانية | هضبة نجد | هضبة الأناضول | هضبة الصحراء الكبرى |
|------------------|----------|---------------|---------------------|

٥- تقع دولة الكويت ضمن الإقليم المناخي : ص ٦٣

|           |         |          |               |
|-----------|---------|----------|---------------|
| الاستوائي | المداري | الصحراوي | الموسمي الحار |
|-----------|---------|----------|---------------|


٦- تبلغ نسبة إنتاج العالم الإسلامي من النفط الخام حوالي : ص ٦٧

|       |       |       |       |
|-------|-------|-------|-------|
| ٣١,٥% | ٤١,٥% | ٥١,٥% | ٦١,٥% |
|-------|-------|-------|-------|

تابع السؤال الأول :

ج - أكمل المخططات السهمية التالية:

المناصب الإدارية في الدولة الإسلامية . ص ٢٥



أهم ثلاث مساجد رئيسية في العالم الإسلامي . ص ٣٢ - ٣٣



د - اختر للمجموعة ( أ ) ما يرتبط بها من المجموعة ( ب ) بوضع الرقم المناسب في مكانه الصحيح :

| م | ( أ )  | الرقم المناسب | ( ب )          |
|---|--|---------------|----------------|
| ١ | يقع بيت الحكمة في مدينة تسمى   | ٢             | سورينام ص ٥١   |
| ٢ | الدولة الإسلامية الوحيدة في أمريكا الجنوبية  | ٤             | اندونيسيا ص ٧٤ |
| ٣ | أكبر دولة في العالم الإسلامي من حيث المساحة  | ١             | بغداد ص ٣٨     |
| ٤ | الدولة الإسلامية التي تحتل المركز الثاني على مستوى العالم في الإنتاج البحري لعام ٢٠١٤م | -             | تونس           |
| ٥ | يقع قصر الرصافة في دولة تسمى   | ٣             | كازاخستان ص ٥٢ |
|   |  | ٥             | سوريا ص ٣٥     |


هـ - من أنا :



١- أشهر علماء الطب وألفت كتاب (الحاوي في الطب) اسمي ابو بكر الرازي ص ٤٠



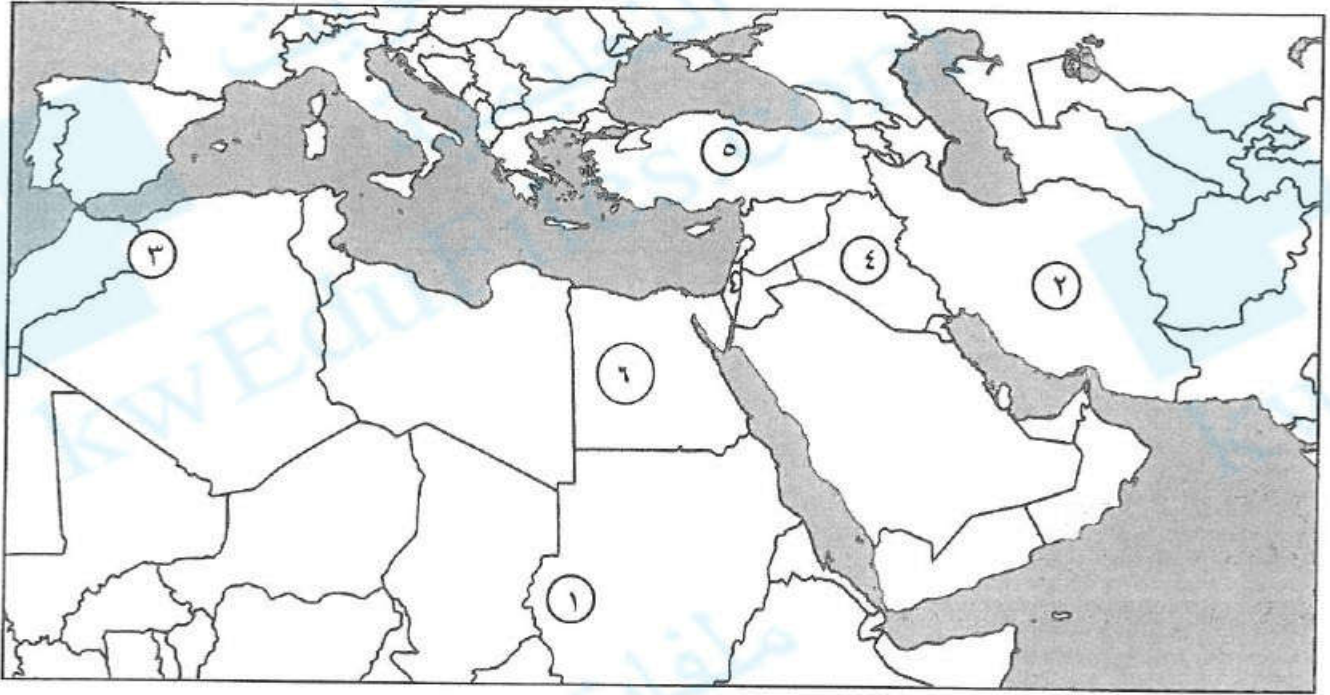
٢- عالم مسلم ألفت ٣٥٠ كتاباً من أشهرها (كتاب الحيوان) اسمي الجاحظ ص ٤٠



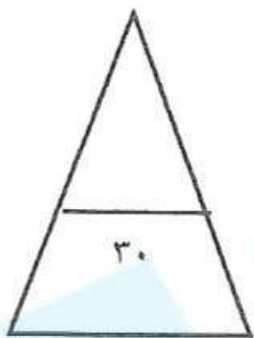
٣- أشهر علماء الجبر ألفت كتاب (الجبر والمقابلة) اسمي الخوارزمي ص ٣٩

تابع السؤال الأول:

و- لاحظ خريطة العالم الإسلامي الصماء ثم اكتب الأرقام الدالة على كل مما يلي :



- ١- هضبة ايران يمثلها على الخريطة الرقم (٢) ص ٥٦
- ٢- جبل مره يمثل على الخريطة الرقم (١) ص ٥٤
- ٣- هضبة الأناضول يمثلها على الخريطة الرقم (٥) ص ٥٦
- ٤- سهول دجلة والفرات يمثلها على الخريطة الرقم (٤) ص ٥٩
- ٥- جبال أطلس يمثلها على الخريطة الرقم (٣) ص ٥٤



السؤال الثاني ويتكون من ( أ - ب ) :-

أ- علل لما يلي : ( ٥ درجات )

١- اهتمام الدولة الإسلامية بالصناعة اهتماماً كبيراً . ص ٢٧ ( درجة )

- من أجل استثمار الموارد الطبيعية المتوفرة بها .

٢- لقيت التجارة تشجيعاً كبيراً في الحضارة الإسلامية . ( يكتفي بنقطتين - درجتان ) ص ٢٨

- لدورها الكبير في التبادل التجاري مع المناطق المجاورة . - يمتلك موقع العالم الإسلامي الاستراتيجي العديد من الخطوط التجارية البرية والبحرية مما انعكس على ازدهار صادراته و وارداته.

٣- تنوع المناخ في دول العالم الإسلامي . ( يكتفي بنقطتين - درجتان ) ص ٦٣

- امتداد دول العالم الإسلامي على مساحة شاسعة . - الموقع بالنسبة لدوائر العرض

- الإطلالة على عدة مسطحات مائية في معظم أجزائه . - التنوع في التضاريس من جبال وهضاب وسهول ووديان

ب - عرف ما يلي : ( ١ × ٥ = ٥ درجات )

١- الغلات النقدية : هي المحاصيل التي تزرع من أجل التصدير مثل : القطن - الجوت - المطاط الطبيعي . ص ٧٣

٢- الحضارة : هي كل ما يطرأ على المجتمع من تقدم وتطور ورقي سواء في الجانب المادي ( مساجد، قصور مستشفيات ،

مكتبات والأدوات ، والاختراعات) أو الجانب الروحي (العلوم والفكر والأدب والأخلاق والسياسة والثقافة) . ص ١٨

٣- أهل الذمة : هم اليهود والنصارى الذين ظلوا على دينهم مع دفع الجزية . ص ٣٦

٤- السهول : أجزاء فسيحة من سطح الأرض تتميز باستوائها وقلة ارتفاعها . ص ٥٣

٥- التضاريس : هي أشكال سطح الأرض . ص ٥٣

**السؤال الثالث : ويتكون من ( أ - ب ) :**

أ - اقرأ الفقرة التالية ثم أجب على الأسئلة التي تليها : ( ٥ درجات ) ص ٢٤

انعكس أثر خصائص الحضارة الإسلامية على دولة الكويت ، حيث أن الشعب الكويتي نشأ على الحب والتراحم والعدل والمساواة ، ومد يد العون سواء للمسلمين أو غير المسلمين والعمل على فعل الخير من خلال المؤسسات والهيئات والجمعيات الخيرية ، وبرز فيها العديد من الشخصيات في مجال العمل الخيري والإنساني .

١- ضع عنواناً مناسباً للفقرة السابقة .

- ما يراه المصحح مناسباً . ( درجة )

٢- عدد أهم المؤسسات الخيرية في دولة الكويت . ( درجتان )

- بيت الزكاة الكويتي . - الهيئة الخيرية الإسلامية العالمية .

٣- اذكر أهم الشخصيات الكويتية الرائدة في مجال العمل الخيري الإنساني . ( درجتان )

أ- - الشيخ صباح الأحمد الصباح . - الداعية الدكتور عبد الرحمن السميث ( رحمه الله )

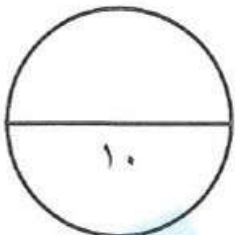
**ب - أجب عن الأسئلة التالية : ( ٥ درجات )**

١- عدد أهم العوامل التي ساعدت على زيادة الإنتاج الزراعي في دول العالم الإسلامي. (يكتفي بثلاث نقاط - ٣ درجات) ص ٧٢

- التربة الخصبة - المناخ - وجود البحيرات والأنهار والآبار - سقوط الأمطار - كثرة السكان والأيدي العاملة .

٢- اذكر أهم المصادر الطبيعية لإنتاج الأسماك في دول العالم الإسلامي . ص ٧٤ ( درجتان )

- المحيطات والبحار - المياه العذبة .



السؤال الرابع ويتكون من ( أ - ب ) :-

أ- فرق بين كل من : ( ١ × ٤ = ٤ درجات )

|   |   |
|---|---|
| الخراج ص ٢٨   | الجزية ص ٢٩   |
| ضريبة الأرض الزراعية التي تخرج مبلغا ماليا معيناً من ناتج المحصول الزراعي . | مبلغ مالي يدفعه الرجال غير المسلمين من (أهل الذمة) ممن هم قادرين على حمل السلاح نظير حماية الدولة لهم . |
| الجبل ص ٥٣  | القل ص ٥٣   |
| هو كل قمة لا يقل ارتفاعها عن ١٠٠٠ متر تقريبا .                              | يشبه الجبل ولكن ارتفاعه أقل من ١٠٠٠ متر .   |

ب - أكتب فيما يلي مما درست : ( ٦ درجات )

١- جهود المسلمين في الزراعة . ص ٢٦ (يكتفي بنقطتين - درجتان )

- شق القنوات المائية والترع . - إقامة السدود . - تنظيم وسائل الري .

٢- العوامل التي أدت إلى ازدهار العلم وظهور العلماء في الحضارة الإسلامية . ص ٣٧ (يكتفي بنقطتين - درجتان )

- تشجيع العلماء ورعاية وتمويل القيادات السياسية لهم من خلفاء وملوك وسلطين وأمراء

- التنافس العلمي بين الدول الإسلامية . - الرخاء الاقتصادي .

- حركة التعريب (الترجمة) للكتب القديمة اليونانية والهندية والفارسية وغيرها .

٣- أهمية السهول . ص ٥٨ (يكتفي بنقطتين - درجتان )

- استخدامها كموانئ طبيعية

- تشييد المدن

- تركيز السكان فيها لسهولة التنقل .

انتهت الأسئلة

