

تم تحميل هذا الملف من موقع المناهج الكويتية



الملف وسائل ومراجعات وأوراق عمل على الوحدة الثالثة عشر

[موقع المناهج](#) ← [المناهج الكويتية](#) ← [الصف الثاني](#) ← [رياضيات](#) ← [الفصل الأول](#)

روابط مواقع التواصل الاجتماعي بحسب الصف الثاني



روابط مواد الصف الثاني على تلغرام

[الرياضيات](#)

[اللغة الانجليزية](#)

[اللغة العربية](#)

[التربية الاسلامية](#)

المزيد من الملفات بحسب الصف الثاني والمادة رياضيات في الفصل الأول

[التقريب الى اقرب عشرة في مادة الرياضيات](#)

1

[التقريب الى اقرب عشرة في مادة الرياضيات 4](#)

2

[ورقة عمل في مادة الرياضيات](#)

3

[ورقة عمل المكعبات 1 في مادة الرياضيات](#)

4

[ورقة عمل مقارنة في مادة الرياضيات](#)

5




وزارة التربية  
الإدارة العامة لمنطقة الأحمدية التعليمية  
مدرسة هدية الابتدائية بنين

# • وسائل الوحدة ( ١٣ )

موقع  
المناهج الكويتية  
almanahj.com/kw

للمصف الثاني



• المعلمة : عزه علي

إعداد

• رئيسة القسم : شيمة المطيري

إشراف


In The Library في المَكْتَبَةِ



• جمع / طرح أعداد

من ٠ ← ١٠٠٠

عنوان الوحدة





# • جمع / طرح المئات الكاملة

بند (١-٣)



اجمع





٢ مئآت + ٣ مئآت = \_\_\_\_\_ مئآت

\_\_\_\_\_ = ٣٠٠ + ٢٠٠



اشطب . اطرح .





موقع  
المناهج الكويتية  
almanahj.com/kw

٧ مئآت - ٤ مئآت = مئآت

\_\_\_\_\_ = ٦٠٠ - ٤٠٠

# أوجد الناتج




 = ٢٠٠ + ٥٠٠


المناهج الكويتية  
almanahj.com/kw


 = ٣٠٠ + ٤٠٠

# أوجد الناتج



 = ٦٠٠ - ٩٠٠

 المنهج الكويتية  
almanahj.com/kw

 = ٧٠٠ - ٧٠٠



# أوجد الناتج



الموقع  
المنهج الكويتية  
almanahj.com/kw

$$\begin{array}{r} ٤ \cdot \cdot \\ ٣ \cdot \cdot + \\ \hline \end{array}$$

$$\begin{array}{r} ٦ \cdot \cdot \\ ١ \cdot \cdot + \\ \hline \end{array}$$

# أوجد الناتج



المناهج الكويتية  
الموقع  
almanahj.com/kw

٨ : :  
٤ : : -

---

٣ : :  
٢ : : -

---

# أوجد الناتج ثم صل بالعبارة ذات الصلة المناسبة

$$= ٤٠٠ + ٥٠٠ \bullet$$

$$\bullet = ١٠٠ - ٣٠٠$$

$$= ٢٠٠ + ١٠٠ \bullet$$


$$\bullet = ٣٠٠ - ٦٠٠$$

$$= ٣٠٠ + ٣٠٠ \bullet$$


$$\bullet = ٥٠٠ - ٩٠٠$$

# • الجمع بالمئات

بند (٣-٢)



# اجمع



مِئَاتٌ

عَشْرَاتٌ

آحَادٌ

٧

٢

٢


.

٤

.

+

# اجمع



مِئَاتٌ<sup>٢٤</sup>

عَشْرَاتٌ<sup>٢٤</sup>

آحَادٌ<sup>٢٤</sup>

٣

١

١


٤

.

.

+

# أوجد الناتج




٥ ٣ .

٣ . . +

---



# أوجد الناتج




٤ ١ ٥

) . . +

---

• جمع عدد رمزه مكون من ٣ أرقام مع  
آخر رمزه مكون من رقم واحد

بند (٣-١٣)




# لون عبارة الجمع التي تحتاج إلى إعادة التسمية

موقع  
المنهج الكمية  
almanahj.com/kw


$$\begin{array}{r} ٤ \quad ٦ \quad ٥ \\ \hline \end{array} \quad \begin{array}{r} ٥ \\ + \\ \hline \end{array}$$

$$\begin{array}{r} ٢ \quad ٢ \quad ٦ \\ \hline \end{array} \quad \begin{array}{r} ٣ \\ + \\ \hline \end{array}$$

$$\begin{array}{r} ٦ \quad \cdot \quad ٨ \\ \hline \end{array} \quad \begin{array}{r} ٣ \\ + \\ \hline \end{array}$$



# اجمع



مِئَاتٌ<sup>٢٤</sup>

عَشْرَاتٌ<sup>٢٤</sup>

آحَادٌ<sup>٢٤</sup>

موقع  
المناهج الكويتية  
almanahj.com/kw


٨



٥

٤  
٤ +

# اجمع




مِئَاتٌ<sup>٢٤</sup>

عَشْرَاتٌ<sup>٢٤</sup>

آحَادٌ<sup>٢٤</sup>

موقع  
المناهج الكويتية  
almanahj.com/kw


٥



٥

٨ +

# أوجد الناتج




٩ ٢ ٧

موقع  
المناهج الكويتية  
almanahj.com/kw

٥ +

---

# أوجد الناتج




٨ . ٣

٦ +

---



# أوجد الناتج



٣ ٣ ٩

٦ +

---




# اختر الإجابة الصحيحة بوضع

لدى ريان ١٢٢ قصة أضافت لها ٤ قصص


أخرى . كم أصبح عدد القصص لديها ؟

www.almanahj.com/kw



٥٢٢



١٦٢




١٢٦




• جمع عدد رمزه مكون من ٣ أرقام مع

آخر رمزه مكون من رقمين

بند (٣-٤)



# اجمع



مِئَاتٌ<sup>٢٤</sup>

عَشْرَاتٌ<sup>٢٤</sup>

آحَادٌ<sup>٢٤</sup>




١



١٠

١  
٥ +

# اجمع



مِئَاتٌ<sup>٢٤</sup>

عَشْرَاتٌ<sup>٢٤</sup>

آحَادٌ<sup>٢٤</sup>

المناهج التعليمية  
almanah.com/kw



٤




٩

٧

+

# أوجد الناتج




٣ ٩ ٢

٣ ٥ +

---


# أوجد الناتج



$$\begin{array}{r} 1 \quad \cdot \quad 4 \\ \times \quad 7 \quad 6 \quad + \\ \hline \end{array}$$



# أوجد الناتج



١ ٧ ٨

٥ ١ +

---



# اختر الإجابة الصحيحة بوضع

قرأ محمد ١١٢ صفحة من كتاب في الأسبوع الأول وقرأ ٥٩  
صفحة من الكتاب نفسه في الأسبوع الثاني . كم عدد  
الصفحات التي قرأها من هذا الكتاب في الأسبوعين ؟



١٦١



١٧١




١٠٧




• جمع عددين رمز كل منهما مكون من

٣ أرقام

بند (١٣-٥)



# اجمع



مِئَاتٌ<sup>٢٤</sup>

عَشْرَاتٌ<sup>٢٤</sup>

آحَادٌ<sup>٢٤</sup>




٧  
٢



٤  
٣

٤  
٤ +

# اجمع

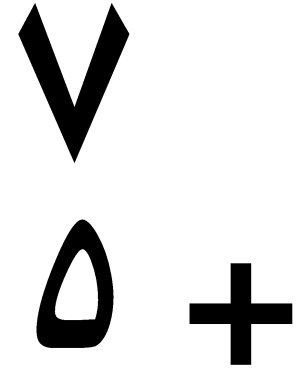


مِئَاتٌ<sup>٢٤</sup>

عَشْرَاتٌ<sup>٢٤</sup>

آحَادٌ<sup>٢٤</sup>

المناهج التعليمية  
almanah.com/kw



# اجمع



مِئَاتٌ<sup>٢٤</sup>

عَشْرَاتٌ<sup>٢٤</sup>

آحَادٌ<sup>٢٤</sup>

المناهج الكويتية  
almanah.com/kw



٣٣




١٤

٦  
١

+

# أوجد الناتج



موقع  
المناهج الكويتية  
almanahj.com/kw


٢ ٥ ١

٦ ٨ ١ +

---




# أوجد الناتج



$$\begin{array}{r} 6 \cdot 8 \\ 7 \quad 4 \quad + \end{array}$$

# أوجد الناتج



٤ ٦ ٤

٤ ٦ ٣ +


---

• حل المسائل : معلومات أكثر من

الحاجة


موقع  
المناهج الكويتية  
almanahj.com/kw

بند (١٣-٦)



## حل المسألة. اشطب المعلومات الأكثر من الحاجة.

بلغ عدد زوار مكتبة المدرسة في شهر مارس  
٣١٤ متعلما و ٨٦ معلما ، وزارها في شهر أبريل  
٢٥٧ متعلما آخرا. فكم بلغ عدد المتعلمين



الذين زاروا المكتبة في الشهرين؟

## حل المسألة. اشطب المعلومات الأكثر من الحاجة.


بيع في اليوم الأول من معرض الكتاب ٣٨٠

كتابا. وبيع في اليوم الثاني ٢٧١ كتابا و٣٤٤

المناهج الكويتية  
almanahj.com/kw

رزنامة. فكم عدد الكتب التي تم بيعها في

يومين؟



## حل المسألة. اشطب المعلومات الأكثر من الحاجة.

راشد لديه مكتبة فيها ٢٠٠ قلم، و ٢٤٧ قصة

عن الحشرات، و ١٢٢ قصة عن الديناصورات.


المناهج الكويتية  
almanahj.com/kw

فكم عدد القصص من النوعين؟





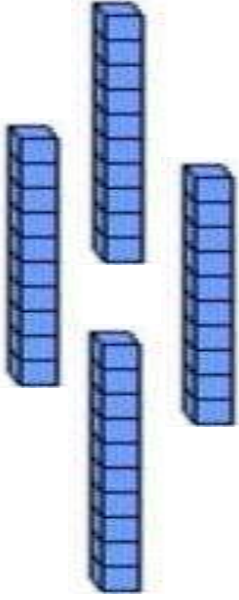

# • طرح مئات من عدد رمزه مكون من ٣ أرقام

بند (٣-٧)




# اشطب . اطرح .



مِائَاتٌ <sup>٢٤</sup>	عَشْرَاتٌ <sup>٢٤</sup>	أَحَادٌ <sup>٢٤</sup>	مِائَاتٌ <sup>٢٤</sup>	عَشْرَاتٌ <sup>٢٤</sup>	وَحَدَاتٌ <sup>٢٤</sup>
٣ ٢	٤ ٠	٨ ٠ -			



# اطرح



مِئَاتٌ<sup>٢٤</sup>

عَشْرَاتٌ<sup>٢٤</sup>

آحَادٌ<sup>٢٤</sup>

٥

٦

١

٥

.

.

—

# اطرح



مِئَاتٌ<sup>٢٤</sup>

عَشْرَاتٌ<sup>٢٤</sup>

آحَادٌ<sup>٢٤</sup>



٤

.

.

—

# اطرح



٢ ٩ ١

) . . -

\_\_\_\_\_

# اشرح



٦ ٨ ٤

٥ . . -

\_\_\_\_\_

A large empty rounded rectangular box with a teal border, intended for writing a response.



# اختر الإجابة الصحيحة بوضع

تهوى دلال قراءة القصص عن تاريخ الكويت، فهي قرأت

٢٠٠ صفحة من أحد الكتب الذي يحتوي على ٤٥٦


موقع  
المناهج الكويتية  
almanahj.com/kw

صفحة، فكم صفحة بقيت لم تقرأها من الكتاب نفسه؟


٤٥٤



٢٥٦




٦٥٦

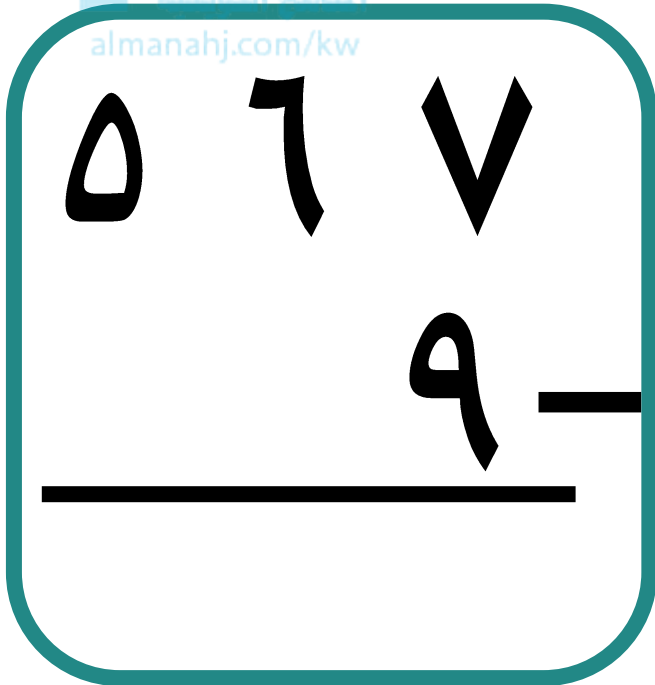
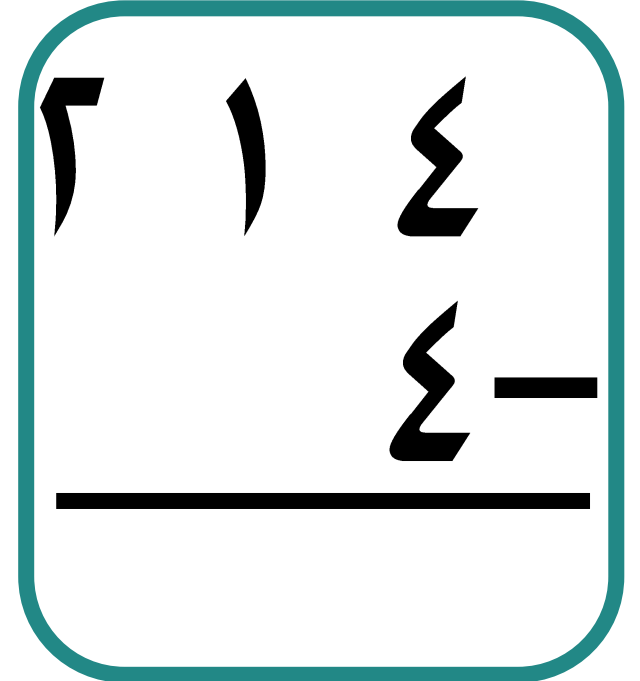
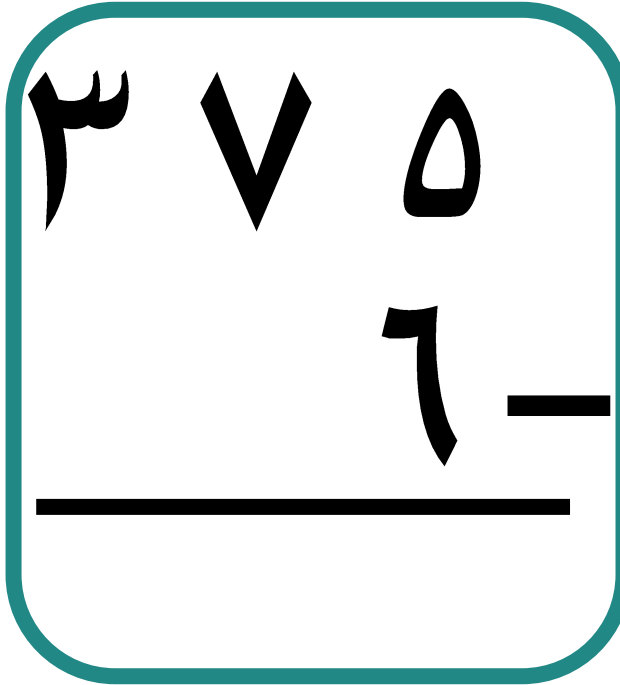


• طرح عدد رمزه مكون من رقم واحد  
من آخر رمزه مكون من ٣ أرقام


بند (٣-١-٨)



# لون عبارة الطرح التي تحتاج إلى إعادة تسمية



# اطرح




مِئَاتٌ

عَشْرَاتٌ


آحَادٌ

موقع  
المناهج الكويتية  
almanahj.com/kw

٣




•



—



# اطرح



مِئَاتٌ<sup>٢٤</sup>

عَشْرَاتٌ<sup>٢٤</sup>


آحَادٌ<sup>٢٤</sup>

موقع  
المناهج الكويتية  
almanahj.com/kw

✓



٤




٥

٩

١

# اطرح




مِئَاتٌ<sup>٢٤</sup>

عَشْرَاتٌ<sup>٢٤</sup>


آحَادٌ<sup>٢٤</sup>

موقع  
المناهج الكويتية  
almanahj.com/kw

٥




٩



٢  
٧  
-

# أوجد الناتج



٣ ١ ٤  
٦ -

---

# أوجد الناتج




٥ ٥ ٥

٥ -

---

# أوجد الناتج



٨ ٤ ١

٣ -




# اختر الإجابة الصحيحة بوضع


مكتبة أحمد فيها ٢٧٥ كتابا، تبرع بـ ٧ كتب للجنة

الخيرية. كم عدد الكتب الباقية في مكتبته؟  
almanahj.com/kw


٢٦٨



٢٧٨




٢٨٢




• طرح عدد مكون رمزه من رقمين من

آخر رمزه مكون من ٣ أرقام

بند (٩-١٣)



# اطرح



مِئَاتٌ<sup>٢٤</sup>

عَشْرَاتٌ<sup>٢٤</sup>

آحَادٌ<sup>٢٤</sup>

المناهج التعليمية  
almanah.com/kw



٤




٦

١  
٣



# اطرح




مِئَاتٌ<sup>٢٤</sup>

عَشْرَاتٌ<sup>٢٤</sup>


آحَادٌ<sup>٢٤</sup>

موقع  
المناهج الكويتية  
almanahj.com/kw

٩




٢  
١



٥  
٧ -

# أوجد الناتج



٦ ٥ ١

٢ ٥ -

---

# أوجد الناتج



٤ ١ ٨  
٧ ٦ -

# أوجد الناتج



٩ ٤ ٥

٥ ٣ -




# اختر الإجابة الصحيحة بوضع


مكتبة المدرسة تحتوي على ٩٤٧ كتاباً، منها ٣٩ كتاباً

قديمًا وباقي الكتب جديدة. فكم عدد الكتب الجديدة؟  
[almanahj.com/kw](http://almanahj.com/kw)


٩٨٦



٩١٢




٩٠٨




• طرح عدد من عدد آخر رمز كل

منهما مكون من ٣ أرقام

بند (٣-١٠)



# اطرح



مِئَاتٌ<sup>٢٤</sup>

عَشْرَاتٌ<sup>٢٤</sup>


آحَادٌ<sup>٢٤</sup>

٧  
٤

١  
٥

٣  
١  
١

# اطرح



مِئَاتٌ<sup>٢٤</sup>

عَشْرَاتٌ<sup>٢٤</sup>


آحَادٌ<sup>٢٤</sup>



—



# اطرح



مِئَاتٌ<sup>٢٤</sup>

عَشْرَاتٌ<sup>٢٤</sup>

آحَادٌ<sup>٢٤</sup>



٩٣




٥١



٦٤ -

# أوجد الناتج



٥ ٩ ١

١ ٧ ٧ -

---

# أوجد الناتج




٩ ٩ .

٣ ٨ ) -

---

# أوجد الناتج



٤ . ٤

٢ ٧ . -

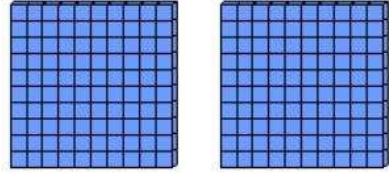
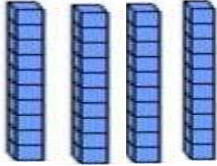



---

اكتب عبارة الجمع المثلثة. اكتب عبارة الطرح ذات الصلة.




المنهاج الكويتية  
almanahj.com/kw

$$\underline{\quad} = \underline{\quad} + \underline{\quad}$$
$$\underline{\quad} = \underline{\quad} - \underline{\quad}$$


مئات	عشرات	وحدات
		
		

# • جمع وطرح الأعداد

بند (١١-١٣)



# أوجد ناتج الجمع




٦ ٢ ٣

١ ٩ ٤ +

---

# أوجد ناتج الجمع




٧ ٢ ٤

٢ ٢ ١ +

---




# أوجد ناتج الجمع



$$\begin{array}{r} 361 \\ + 567 \\ \hline \end{array}$$

# أوجد ناتج الطرح



٦   ٨   ٧

)   ٧   ٧   -

---

# أوجد ناتج الطرح



٧ ١ ٢

٤ ٠ ٦ -

---

# أوجد ناتج الطرح



٧ ٣ ٥

٩ ٤ -

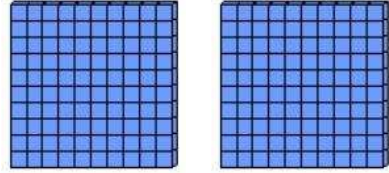
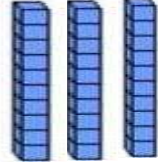




---

# اكتب عبارة الجمع المثلثة. اكتب عبارة الطرح ذات الصلة.



المناهج الكويتية  
almanahj.com/kw


$$\underline{\quad} = \underline{\quad} + \underline{\quad}$$
$$\underline{\quad} = \underline{\quad} - \underline{\quad}$$

مئات	عشرات	وحدات
		
		

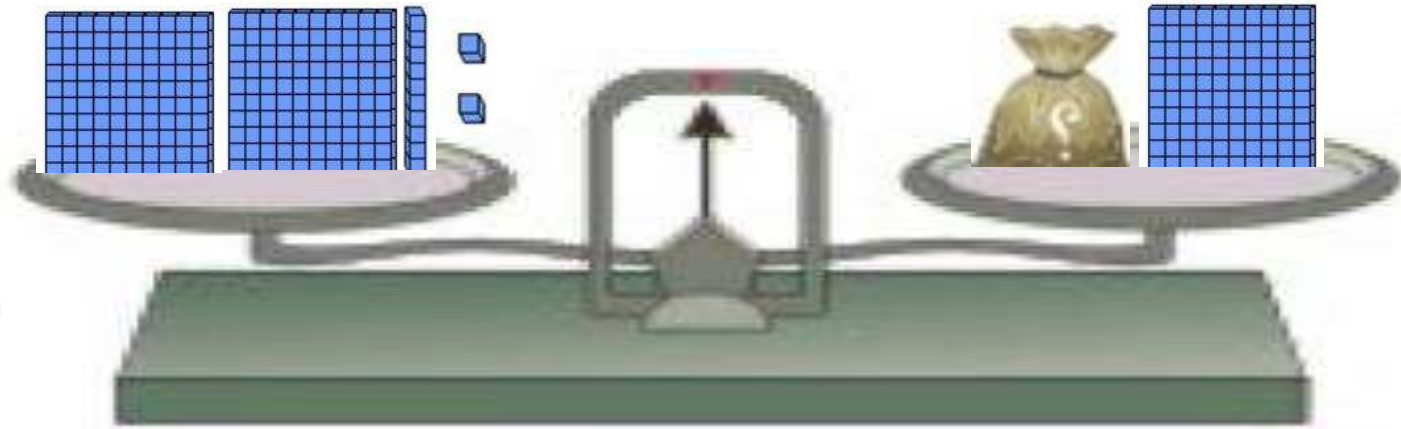
# • إيجاد العدد المجهول

موقع  
المنهاج الكويتية  
almanahj.com/kw

بند (١٣-١٢)



# اشطب لإيجاد العدد المجهول. 🖐️




موقع  
المنهاج الكويتية  
almanahj.com/kw


$$] ٢١٢ = \boxed{?} + ١٠٠$$

$$\underline{\quad} = \boxed{?}$$

# أوجد العدد المجهول



٩      ٣      ٦




+



٩      ٣      ٧



# أوجد العدد المجهول




موقع  
المنهاج الكويتية  
almanahj.com/kw

١

٢

٧




+

١

٣

٣

# أوجد العدد المجهول



$$\begin{array}{r} 4 \quad 5 \quad 8 \\ 2 \quad \square \quad + \\ \hline \end{array}$$

4   8   )

# أوجد العدد المجهول



موقع  
المنهاج الكويتية  
almanahj.com/kw

$$\begin{array}{r} 5 \quad 3 \quad 2 \\ \square \quad 1 \quad \square \quad + \\ \hline 9 \quad 4 \quad 2 \end{array}$$


# أوجد العدد المجهول



موقع  
المنهاج الكويتية  
almanahj.com/kw

$$\begin{array}{r} 6 \quad 5 \quad 4 \\ \square \quad | \quad \square \quad - \\ \hline 2 \quad 4 \quad 3 \end{array}$$

# أوجد العدد المجهول



موقع  
المناهج الكويتية  
almanahj.com/kw


٨

٧

٤

٤

٥




-

٤

١

٥

# أوجد العدد المجهول




٩

٨

٣

موقع  
المنهاج الكويتية  
almanahj.com/kw

١



٩

—


٨

٥

٤


# • استخدام البيانات

بند (١٣-١٣)



# مثل البيانات الموضحة في الجدول في المخطط البياني بالأعمدة.

عدد زوار المكتبة العامة في كل شهر



ديسمبر نوفمبر أكتوبر سبتمبر

الأشهر

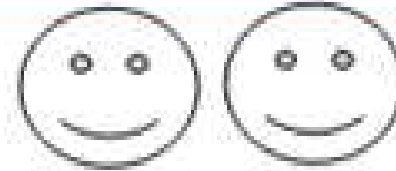
الشهر	عدد الزوار في كل شهر
سبتمبر	٢٠٠
أكتوبر	٥٠٠
نوفمبر	٣٠٠
ديسمبر	١٠٠



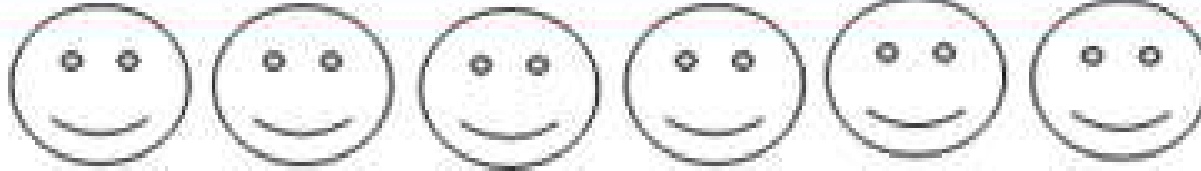
# من خلال التمثيل البياني بالمصورات، أجب عن الأسئلة التالية:

## الأندية الرياضية المفضلة


موقع  
المنهج الكويتية  
almanahj.com/kw



نادي الكويت



نادي القادسية



نادي السالمية

كل  يمثل ١ متعلمين

١ ( كم عدد المتعلمين في نادي السالمية؟ — متعلم.

٢ ( كم عدد المتعلمين في نادي القادسية؟ — متعلم.

٣ ( أي نادي يفضله ٦٠ متعلم؟ —

٤ ( ما مجموع عدد المتعلمين الذين يفضلون نادي الكويت ونادي


السالمية؟ —

٥ ( بكم يزيد عدد التلاميذ الذين يفضلون نادي القادسية عن

نادي الكويت؟ —

# • حل المسائل : مسائل متعددة الخطوات

بند (١٣-١٤)



لدي دلال كتاب عدد صفحاته ١٥٩ صفحة. في 

الأسبوع الأول قرأت منه ١٠٦ صفحات، وفي

الأسبوع الثاني قرأت منه ٢٨ صفحة أخرى. فكم

عدد الصفحات الباقية من الكتاب نفسه؟

الخطوة الأولى:  $\text{صفحة} \text{ --- } = \text{ --- } \bigcirc \text{ ---}$


الخطوة الأولى:  $\text{صفحة} \text{ --- } = \text{ --- } \bigcirc \text{ ---}$

👋 في أحد الأيام، زار المكتبة العامة ١٢٣ زائر. ثم

انصرف منهم ١٢ زائرا، ثم انصرف ١٠٤ زوار. فكم


زائرا بقي في المكتبة حتى نهاية اليوم؟

الخطوة الثانية



زائرا \_\_\_\_\_


الخطوة الأولى



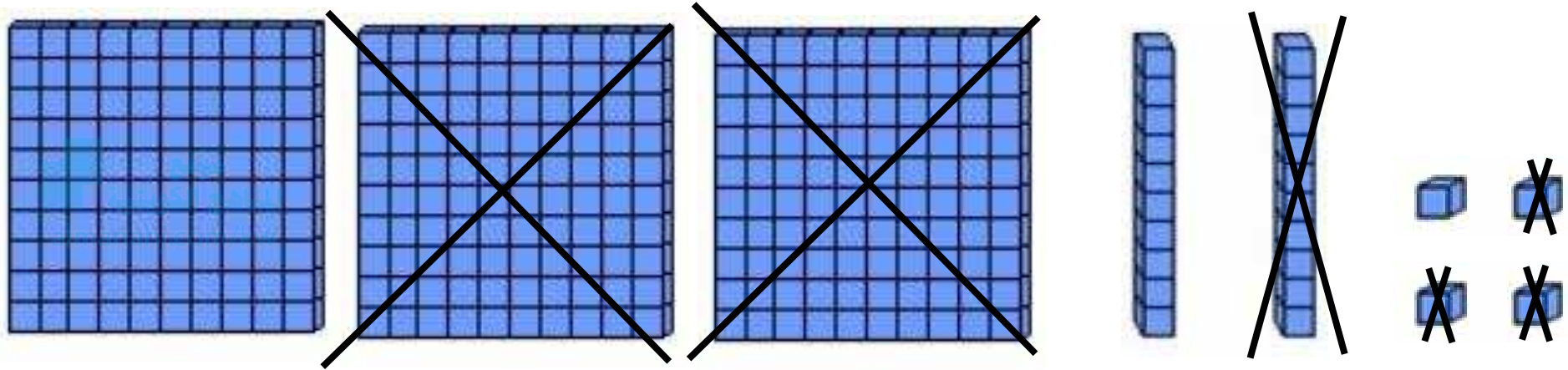

زائرا \_\_\_\_\_

# •مراجعة الوحدة الثالثة عشر

بند (١٣-١٥)

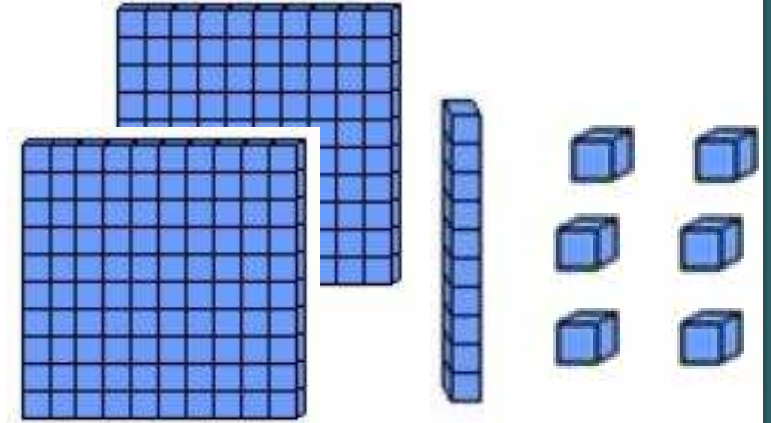
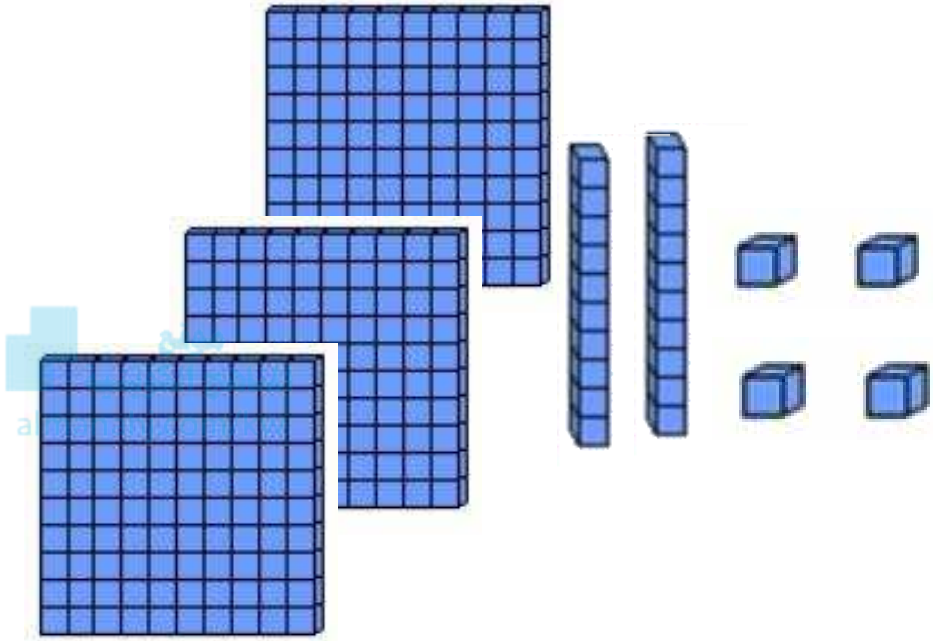



# عبر بعبارة رياضية مناسبة



\_\_\_\_\_ = \_\_\_\_\_ ○ \_\_\_\_\_

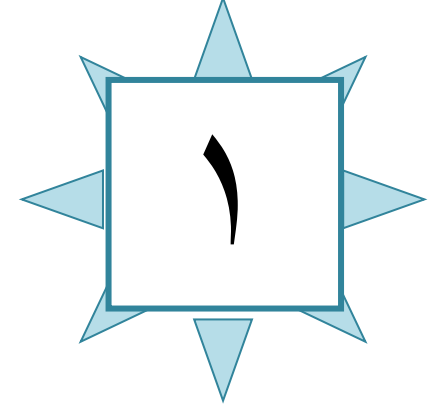

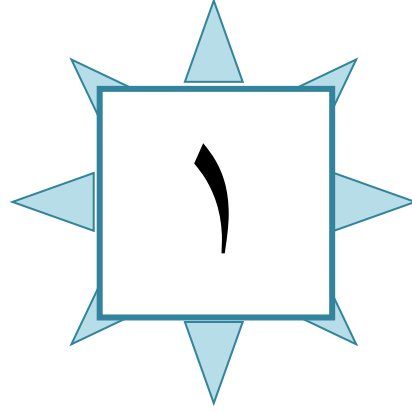
# عبر عبارة رياضية مناسبة



$$\underline{\hspace{2cm}} = \underline{\hspace{2cm}} \bigcirc \underline{\hspace{2cm}}$$




# استخدم الأعداد في المربعات لإكمال عبارة الطرح



موقع  
المنهاج الكويتية  
almanahj.com/kw

$$\begin{array}{r} \square \\ \square \\ \hline \end{array} - \square = \square$$

$$\begin{array}{r} \square \\ \square \\ \hline \end{array} - \square = \square$$





# اختر الإجابة الصحيحة بوضع


من التمثيل البياني بالمصورات

عدد المجلات :

أنواع الكتب	
	مجلات
	قصص

المفتاح ● يمثل ١٠٠ كتاب


٢٠٠



٢٠



٢





# اختر الإجابة الصحيحة بوضع

لدى عائلة محمد قصص متنوعة عددها ٤٩٥ قصة، ولدى

عائلة علي قصص متنوعة أيضا وعددها ٢٦٤ قصة.


موقع  
المنهج الكويتية  
almanahj.com/kw

فكم عدد القصص لدى العائلتين؟


$$٢ + ٤٩٥$$



$$٢٦٤ - ٤٩٥$$

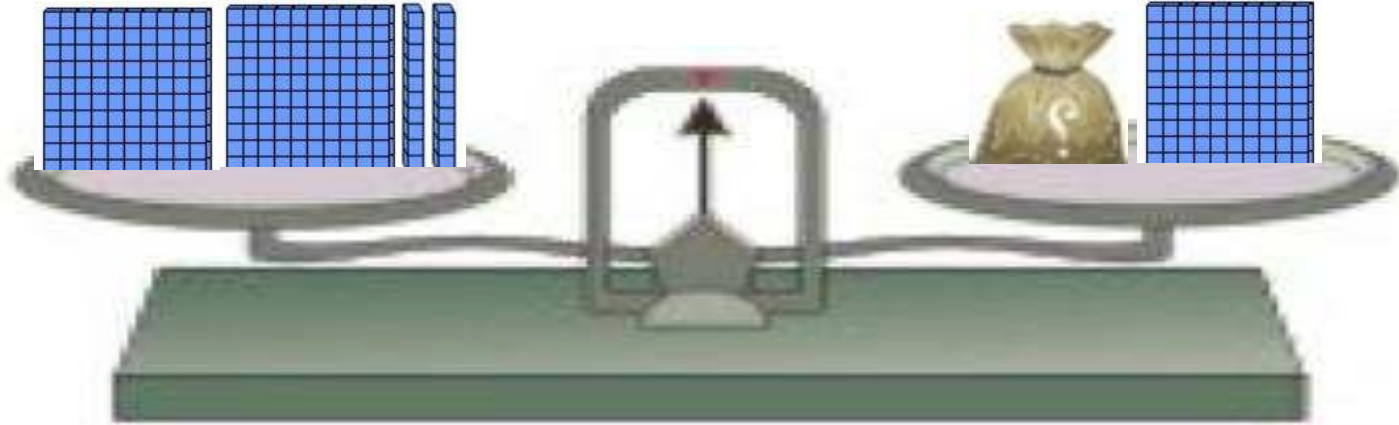


$$٢٦٤ + ٤٩٥$$





# اختر الإجابة الصحيحة بوضع



موقع  
المنهاج الكويتية  
almanahj.com/kw

$$220 = \square + 100$$

120

110

100