

تم تحميل هذا الملف من موقع ملفات الكويت التعليمية



[com.kwedufiles.www//:https](https://www.kwedufiles.com)

*للحصول على أوراق عمل لجميع الصفوف وجميع المواد اضغط هنا

* للحصول على أوراق عمل لجميع مواد الصف الثاني عشر الأدبي اضغط هنا

<https://kwedufiles.com/12>

* للحصول على جميع أوراق الصف الثاني عشر الأدبي في مادة جغرافيا ولجميع الفصول, اضغط هنا

<https://kwedufiles.com/12geography>

* للحصول على أوراق عمل لجميع مواد الصف الثاني عشر الأدبي في مادة جغرافيا الخاصة بـ الفصل الثاني اضغط هنا

<https://www.kwedufiles.com/12geography2>

* لتحميل كتب جميع المواد في جميع الفصول للـ الصف الثاني عشر الأدبي اضغط هنا

<https://www.kwedufiles.com/grade12>

* لتحميل جميع ملفات المدرس التوجيه الفني العام للإجتماعيات اضغط هنا

[bot_kwlinks/me.t//:https](https://me.t/bot_kwlinks)

للحصول على جميع روابط الصفوف على تلغرام وفيسبوك من قنوات وصفحات: اضغط هنا

الروابط التالية هي روابط الصف الثاني عشر الأدبي على مواقع التواصل الاجتماعي

مجموعة الفيسبوك

صفحة الفيسبوك

مجموعة التلغرام

بوت التلغرام

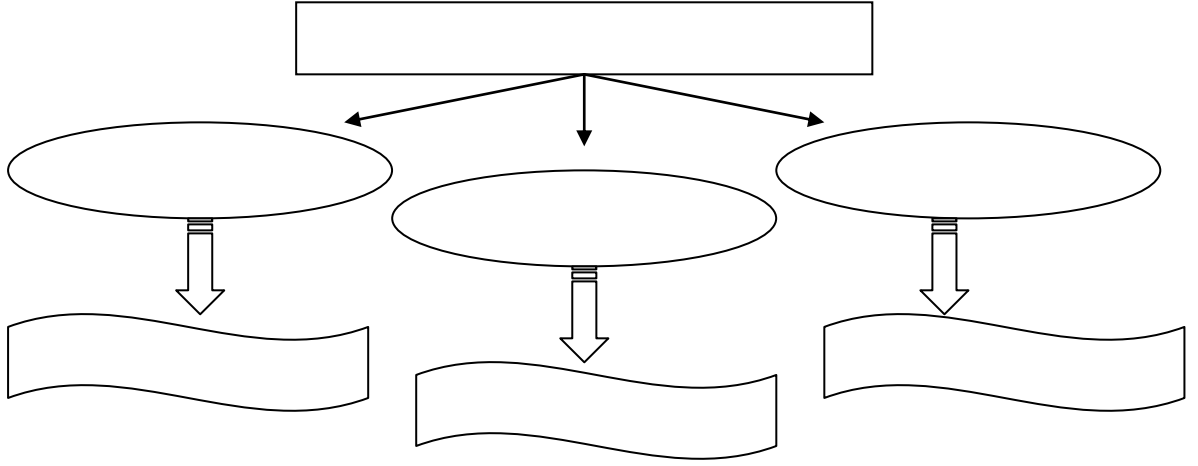
قناة التلغرام

رياضيات على التلغرام

أسئلة تطبيقية لمقرر قضايا البيئة والتنمية المعاصرة للف الثاني عشر للفترة الدراسية الرابعة

أولاً: الأسئلة الموضوعية:

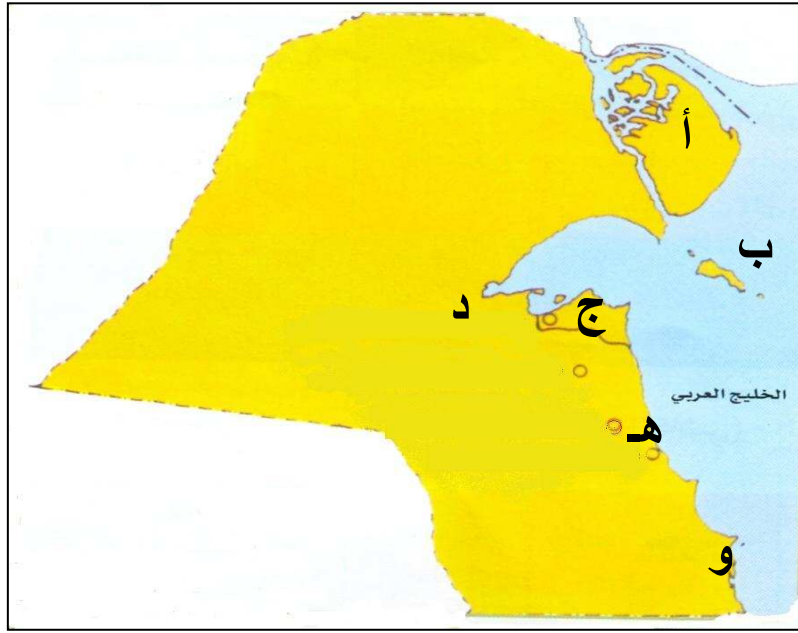
- ١- أعد توزيع البيانات التالية بحيث تكون مخططاً صحيحاً متكاملًا:
(الاستفادة من التكنولوجيا المصاحبة للازدهار الحضاري - إنشاء قاعدة بيانات جغرافية للمدينة -
أهداف نظم المعلومات الجغرافية - رفع كفاءة العمل و تحسين الخدمات المقدمة - سرعة استرجاع
المعلومات و تحديثها - سرعة تحديد لمشاكل بدقة عالية - دعم الجذب السياحي و الاستثماري).



- ٢- استعن بالعبارات التالية و الأحرف داخل الشبكة في كتابة المطلوب في الشبكة التي أمامك على
أن تكون إجابتك موزعة بداخل المربعات أفقياً:

أ	أ- مدينة في الإمارات قامت و ازدهرت على التجارة و إدارة الأعمال.
ب	ب- العالم الألماني الذي أسس علم الجغرافيا السياسية.
ج	ج- النواة الأولى التي بنيت حولها مدينة الكويت القديمة.
د	د- الأقاليم أو المناطق الفاصلة بين الأمم و القوميات.
هـ	هـ- منظمة عالمية للمقاييس و المواصفات و تدخل في جميع المجالات التي تتطلب الجودة و النوعية.

٣ - أدرس خريطة دولة الكويت التالية جيداً ثم نفذ المطلوب:



الاسم	الحرف	البيان
		* النواة الأولى التي بنيت حولها مدينة الكويت القديمة:
		* الجزيرة الكويتية التي وُجدت فيها أولى التجمعات السكانية:
		* من قرى الكويت القديمة تقع غرب مدينة الكويت:
		* المنطقة الساحلية الجنوبية التي ينتهي فيها المخطط الهيكلي الثاني لدولة الكويت و الذي يبدأ من مدينة الكويت شمالاً:

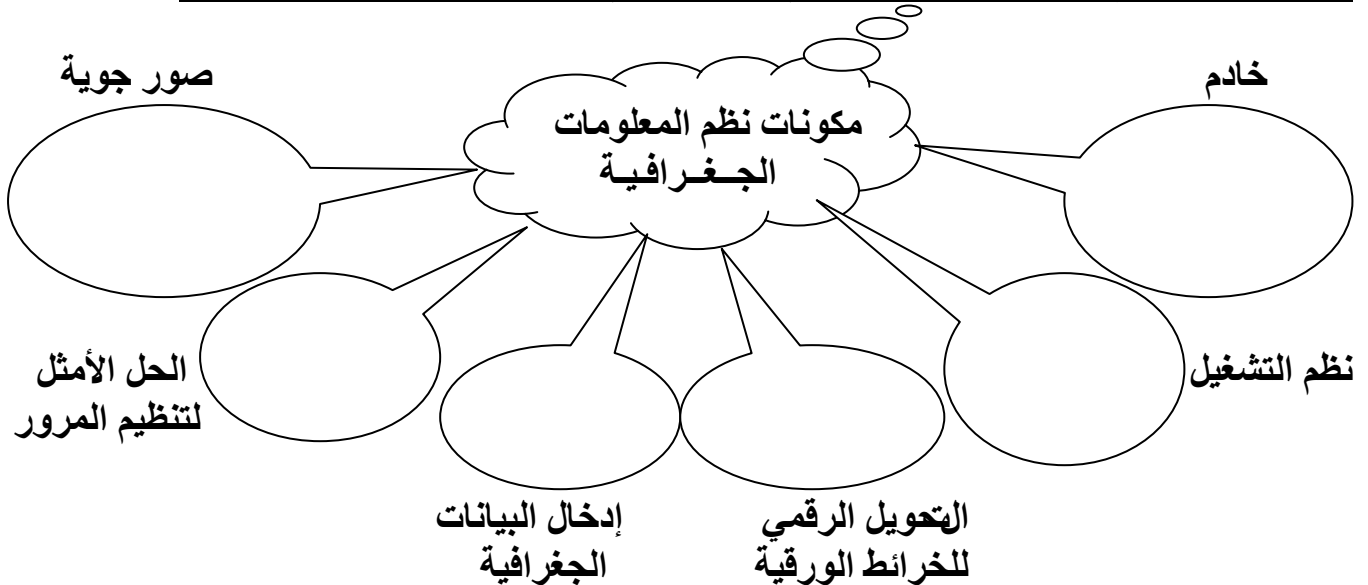
٤ - أمامك مجموعة من العبارات ضع علامة (✓) أمام العبارة الصحيحة وعلامة (×) أمام العبارة غير الصحيحة مع تصويبها:

التصويب	×	✓	العبارة
			أ- مرحلة التلوث الخطر من مراحل التلوث المتقدمة و الذي يبدأ معه التأثير السلبي على العناصر البيئية الطبيعية والبشرية.
			ب- غلاف الأرض الجوي هو طبقة تتكون من عدة غازات تحيط بالكرة الأرضية.
			ج- ينتشر الأوزون في الغلاف الجوي و يتركز في طبقة التروبوسفير.
			د- إذا حدث نقص بطبقة الأوزون بمعدل ٢% فإن الأشعة فوق البنفسجية التي قد تصل إلى الأرض سوف تزداد بمعدل ١٠%.
			هـ- الملوث الأساسي للبيئة البحرية يتمثل في مياه الصرف الصحي.
			و- من أهم الغازات الصناعية المسؤولة عن الفجوة الكبيرة في طبقة الأوزون هو غاز ثاني أكسيد الكربون.
			ز- منطقة الضغط المرتفع في العروض المدارية ومنطقة القطبين يزداد فيها تركيز الملوثات.
			ح- جملة عدد السكان الزراعيين مقسوما على مساحة الأراضي الزراعية يعرف باسم الكثافة الفيزيولوجية.

٥- اكتب المصطلح الجغرافي المناسب أمام كل من العبارات التالية :

المفهوم	العبارة
	طبقة تمثل درعا واقيا ضد خطر الأشعة فوق البنفسجية.
	مياه البحر التي تضخها ناقلات النفط في صهاريجها ثم تفرغها في البحر مرة أخرى.
	جملة عدد السكان مقسوما على جملة الدخل.
	تزايد السكان بشكل سريع جداً يفوق معدلات التنمية الاقتصادية.
	تقسيم السكان إلى فئات أو مجموعات لكل منها خصائص و سمات تختلف عن الأخرى.
	التغير الكمي أو النوعي الذي يطرأ على تركيب عناصر النظام الايكولوجي ويؤدى إلى خلله.
	جملة عدد السكان مقسوما على جملة مساحة الإقليم.
	الفرق بين أعداد المواليد و أعداد الوفيات.
	انتقال الأفراد أو الجماعات لهدف معين من مكان لآخر على سطح الأرض.
	ظاهرة أوجدتها زيادة تركيز الغازات في الهواء وأدت إلى انخفاض إنتاجية التربة الزراعية.
	درجة التلوث التي لا يتأثر فيها توازن النظام الايكولوجي.
	لجنة الأمم المتحدة الاقتصادية والاجتماعية لغربي آسيا.
	إحداث خلل و تلف في نوعية المياه و نظامها الايكولوجي.
	انخفاض أعداد المواليد بحيث تكون أقل من أعداد الوفيات.
	المعدل السنوي الذي يزداد أو ينقص فيه عدد السكان.
	منظمة عالمية للمقاييس والمواصفات وتدخل في جميع المجالات التي تتطلب الجودة و النوعية.
	عدد الأفراد في مساحة محددة من الأرض داخل المدينة أو الوحدة الإدارية.
	الأقاليم أو المناطق الحاجزة أو الفاصلة بين الأمم والقوميات و الدول.
	دراسة الوحدات أو الأقاليم السياسية كظاهرات على سطح الأرض.
	الحدود المتفق عليها في المعاهدات الدولية والتي تتبع خطوطا فلكية في رسمها.

٦- " تتكون البنية التحتية لنظم المعلومات الجغرافية من مكونات متعددة " .
سجل مكونات نظم المعلومات الجغرافية في الشكل التالي مستعيناً بالمعلومات المتوافرة:



٧- أمامك مجموعة من العبارات في الجدول التالي ضع أمام المجموعة:

* الحرف (أ) إذا كانت العبارتان صحيحتان.

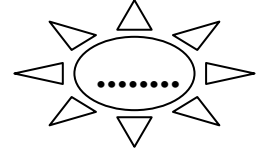
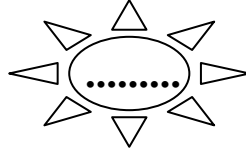
* الحرف (ب) إذا كانت العبارتان غير صحيحتان.

* الحرف (ج) إذا كانت إحداهما صحيحة و الأخرى غير صحيحة.

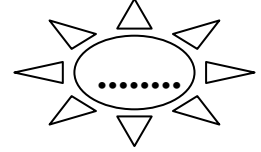
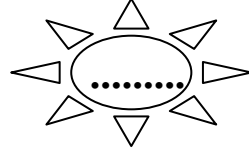
المجموعة الأولى	* النجوم: تعني الأقاليم الطبيعية مثل البحيرات و الأنهار و الصحاري.	* الجيوبوليتك يقوم على الدراسة الجغرافية للدولة من حيث سياستها الخارجية.
المجموعة الثانية	* "كانت" هو مؤسس الجغرافيا السياسية.	* فردريك راتزل ألف كتاب الجغرافيا السياسية.
المجموعة الثالثة	وَضِعْ مَخْطَطَ الْبَلَدِيَّةِ لِلتَّنْمِيَةِ عَامَ ١٩٧٧م.	* وَضِعْ الْمَخْطَطَ الْهَيْكَلِيَّ لِلْمَنَاطِقِ الْحَضْرِيَّةِ عَامَ ١٩٦٧م.

٨- حدد السبب و النتيجة في الجمل المزوجة التالية بكتابة المطلوب في الفراغ المناسب:

أ- تطور مساكن الإنسان. - تطور الإنسان الحضري.



ب- التعرض للأطعام و الهجمات. - بناء أهل الكويت للأسوار المستمرة.



٩ - اختر الإجابة الصحيحة من بين البدائل التي تلي كل من العبارات التالية :

أ- تم بناء سور الكويت الثالث في العام الميلادي:

(٤) ١٩٢٠

(٣) ١٨٢٠

(٢) ١٧٢٠

(١) ١٦٢٠

ب للمغاز الذي تبلغ نسبته في الهواء ٧٨% يسمى:

(٤) الميثان

(٣) النيتروجين

(٢) الأكسجين

(١) الأوزون

ج - زيادة تركيز أحد الغازات في الغلاف الهوائي يؤدي إلى انخفاض الإنتاجية الزراعية لتأثيره في مكونات التربة مما أوجد ظاهرة جديدة في العالم أسمها:

(٤) تغدق التربة

(٣) تملح التربة

(٢) التصحر

(١) لاجئ البيع

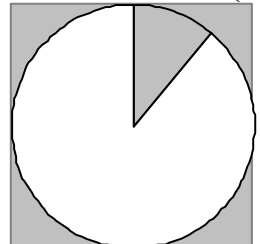
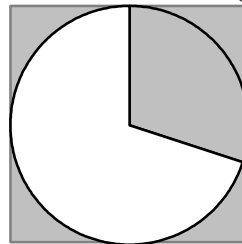
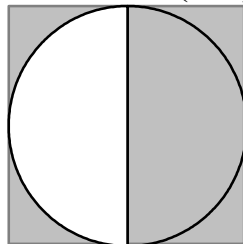
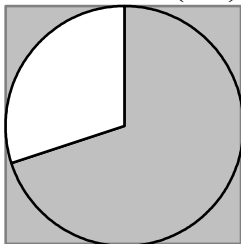
د - نسبة الغلاف المائي من مساحة الكرة الأرضية يمثلها الجزء المظلل من الدائرة البيانية رقم:

(٤)

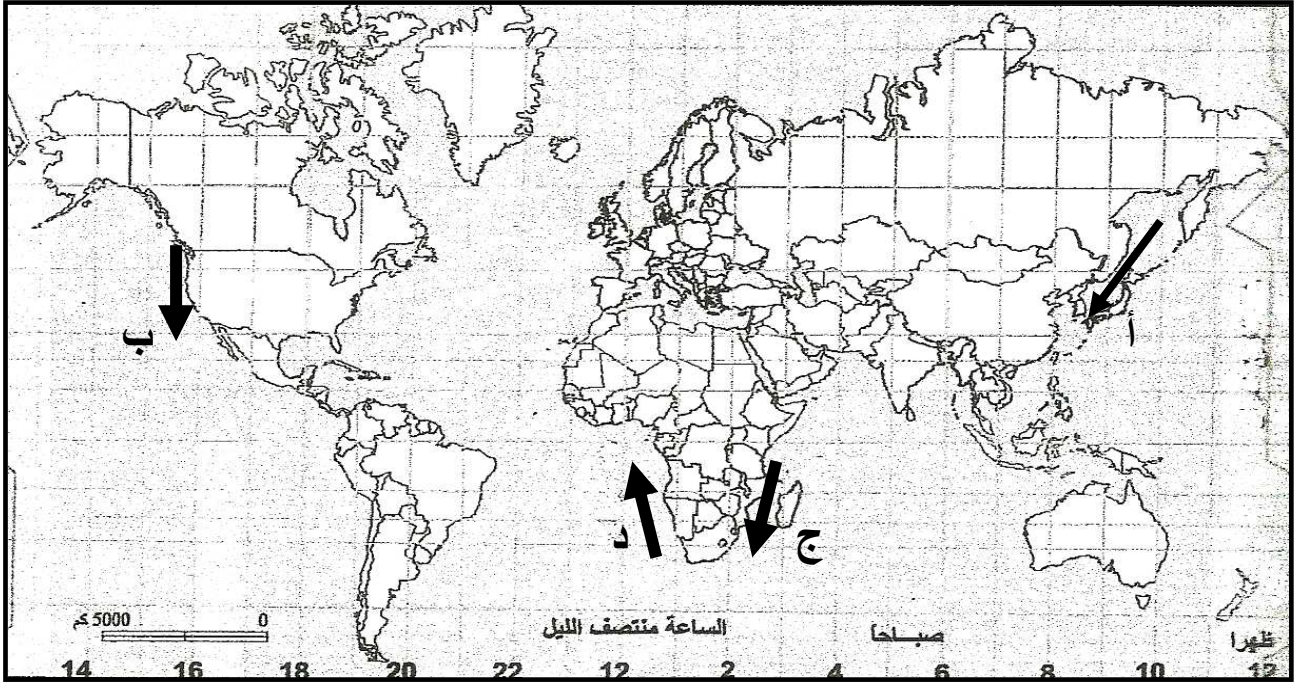
(٣)

(٢)

(١)

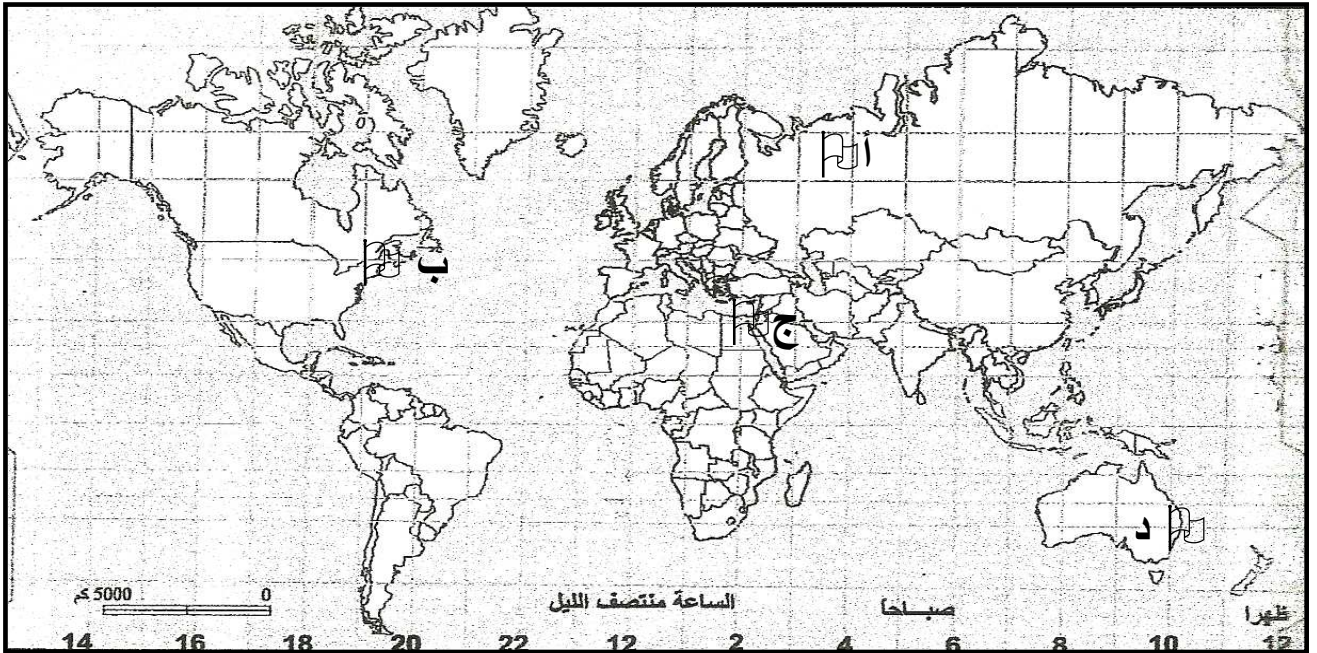


١٠- أمامك خريطة للتيارات البحرية في العالم ادرسها جيدا ثم اكتب مدلولات الأرقام :



- تيار " كاليفورنيا " يمثله على الخريطة السهم الذي يحمل الحرف ()
- تيار " بنجويلا " يمثله على الخريطة السهم الذي يحمل الحرف ()
- تيار " اجولهاس " يمثله على الخريطة السهم الذي يحمل الحرف ()
- تيار " كمتشكا " يمثله على الخريطة السهم الذي يحمل الحرف ()

١١- لاحظ خريطة العالم التالية جيدا ثم استعن بها في الإجابة عما يليها:



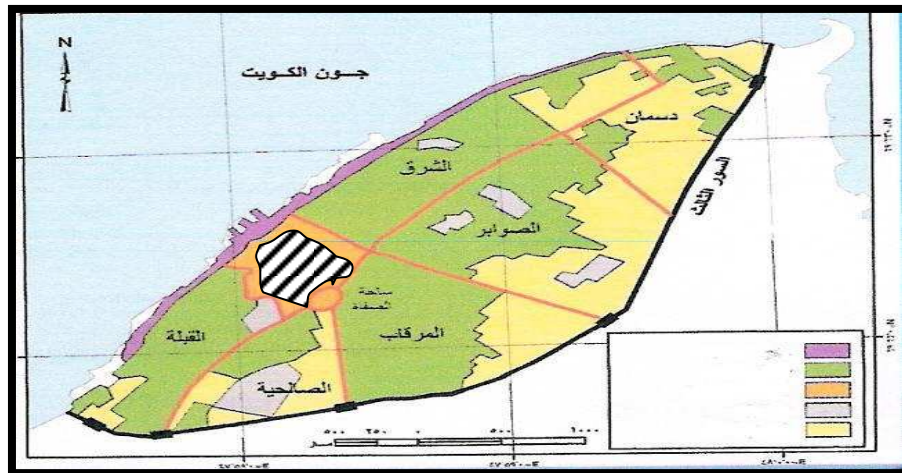
- * مدينة نشأت نتيجة الدوافع الاقتصادية يمثها العلم الذي يحمل الحرف ()
- * مدينة نشأت نتيجة الدوافع السياسية يمثها العلم الذي يحمل الحرف ()

١٢ - أكمل العبارات التالية بما يناسبها:

- أكثر أنواع التلوث البيئي انتشاراً يسمى.....
- الغاز المسئول عن الفجوة الكبيرة الموجودة في طبقة الأوزون يسمى.....
- أسس التمييز بين المدينة و القرية في الوقت الحالي تتمثل في المستوى المعيشي و.....
- صافي الزيادة الطبيعية و صافي الهجرة يسمى.....
- الدول المظلة في الخريطة التالية تتبع لجنة أسماها



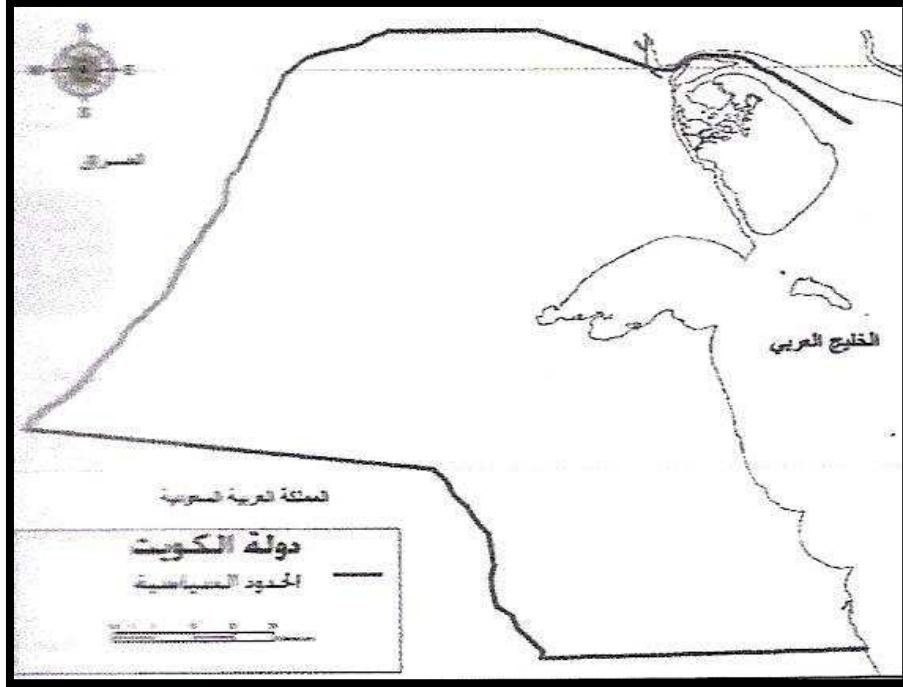
- يعيش أقل من ١٠% من سكان العالم بين دائرتي عرض صفر و.....شمالاً و جنوباً.
- وُضع المخطط الهيكلي الأول لمدينة الكويت في العام الميلادي.....
- الجزء المخطط في الخريطة التالية يمثل قطاع رئيسي لمدينة الكويت القديمة أسمه.....



- مؤسس الجغرافيا السياسية عالم ألماني أسمه.....
- منهج جديد مضمونه يقوم على الدراسة الجغرافية للدولة من حيث سياستها الخارجية يُعرف باسم.....
- تأسست لجنة الاسكوا في العام الميلادي.....
- معدل النمو السكاني في الدول النامية يصل إلى.....%

ثانياً: الأسئلة المقالية:

١- استعن بخريطة دولة الكويت التالية في الإجابة عما يليها:



أ- حدد موقع مدينة الكويت باستخدام الرمز ■ .

ب- اكتب عن نشأة هذه المدينة منذ أن كانت حصناً لبني خالد إلى أن ازدهرت و تطورت في القرن الثامن عشر الميلادي.

*

٢- تخيل أنك وجدت آلة للزمن تمكنت بواسطتها من العودة للعام ١٨١١م فماذا تتخيل أن تجد المساكن وطبيعة الحياة هناك ثم قارن ذلك بالمساكن وبحياة اليوم:

*

٣- استعن بالفقرة التالية في الإجابة عما يليها:

((أن الجغرافيا السياسية فرع من فروع الجغرافيا ويرجع تعبير الجغرافيا السياسية إلى العالم الألماني " كانت " الذي أسس الجغرافيا السياسية وتبعه بعض العلماء أمثال كارل ريتز وفردريك راتزل الذي ألف كتاب الجغرافيا السياسية)) .

أ- فسر ما تحته خط.

*

ب- ما الذي تقوم به الجغرافيا السياسية بمعناها الشامل.

*

*

*

٤- شد انتباه أخاك الصغير بعد اطلاعه على الجريدة العنوان التالي:



* فما هي ردودك على تساؤلات أخيك التالية:

أ- ما المقصود بنظم المعلومات الجغرافية؟

*

ب- ما هي مكونات بنظم المعلومات الجغرافية؟

*

*

*

*

*

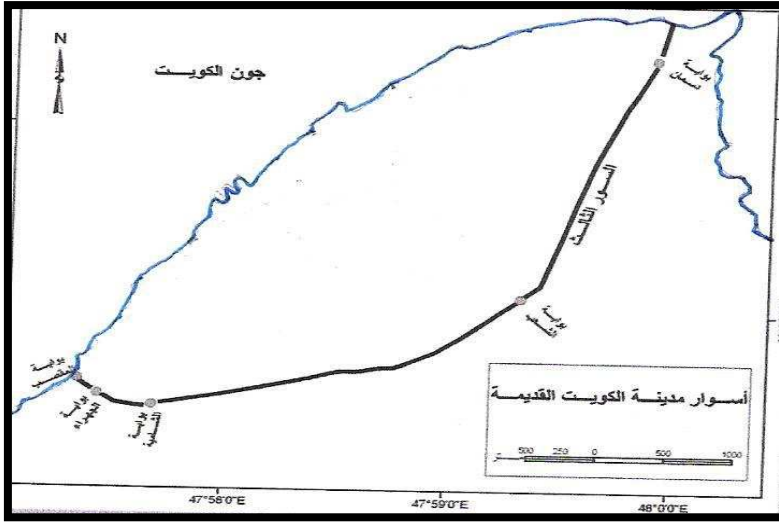
*

٥- أقرأ الفقرة التالية جيداً ثم اجب عما يليها من أسئلة:

((نشأت مدينة الكويت كحصن " كوت " عسكري محاط بسور له عدة بوابات)).

أ- فسر ما تحته خط

*



ب- ارسم السور الثاني على خريطة مدينة الكويت القديمة التالية:

٦- قارن بين ما هو مطلوب حسب الجدول التالي:

السور الثالث	السور الثاني	السور الأول	أوجه المقارنة
			سنة البناء
			عدد البوابات
			سنة الهدم

٧- ما أوجه الاختلاف بين كل مما يلي حسب الجداول الموضحة :

أولاً:

العمران الحضري (المدينة)	العمران الريفي (القرية)

ثانياً:

المخطط الهيكلية الثالث لمدينة الكويت	المخطط الهيكلية الأول لمدينة الكويت

٨- فرق بين مناهج البحث التالية في الجغرافيا السياسية:

المنهج الوظيفي	منهج جونز

٩- ما الفرق بين كل من:

أولاً:	التلوث الخطر	التلوث المدمر
ثانياً:	الهجرة الداخلية	الهجرة الدولية
ثالثاً:	التركيب العمري للسكان	التركيب النوعي للسكان
رابعاً:	الكثافة الفيزيولوجية	الكثافة الصافية
خامساً:	الدوافع السياسية لنشأة المدينة	الدوافع العسكرية لنشأة المدينة

١٠- ما الإجراءات المناسبة في رأيك التي يمكن إتباعها في الحالات التالية:

أ- التربة التي تعاني من الملوثات الهيدروكربونية الناتجة من البحيرات البترولية.

.....*

.....*

ب- معاناة سكان المدن من التلوث الضوضائي.

.....*

.....*

ج- تعرض الخليج العربي لمشكلة التلوث المائي.

.....*

.....*

د- الزيادة المستمرة و الهائلة في أعداد سكان العالم.

.....*

.....*

هـ- اختلال التوازن بين النمو السكاني و الموارد الاقتصادية.

.....*

.....*

١١ - علل لما يأتي:

أ- حدوث التلوث الهوائي.

*

.....
.....

ب- تعتبر نظم المعلومات الجغرافية المتقدمة أحد عوامل جذب الاستثمار و تنمية السياحة.

*

.....
.....

١٢ - اكتب مذكرات جغرافية لما يلي:

أ- مناهج البحث في الجغرافيا السياسية.

*

.....
.....

*

.....

*

ب- أنماط الحدود السياسية.

*

.....
.....

*

.....

*

ج- درجات التلوث.

*

.....
.....

*

.....

*

١٣ - بما تفسر حدوث ما يأتي :

أ- النمو الصفري في الدول الأوروبية.

*

.....
.....

ب- التلوث الهوائي.

*

.....
.....

ج- الانفجار السكاني في الدول النامية.

*

.....
.....

د- تعدد مجالات دراسة نظم المعلومات الجغرافية.

*

.....
.....

١٤ - ما النتائج المترتبة على:

أ- تزايد مستويات تركيز غاز ثاني أكسيد الكربون و الغازات الأخرى في الجو.

*

ب- تركيز الأوزون في طبقات الجو العليا.

*

ج- حدوث نقص في طبقة الأوزون.

*

د- قيام النظام العراقي البائد بإحراق ٧٣٧ بئراً نفطياً بدولة الكويت.

*

هـ- إنشاء نظم المعلومات الجغرافية.

*

و- وجود قاعدة بيانات جغرافية.

*

١٥ - اثبت صحة العبارات التالية:

أ- الملوثات بأنواعها لا تعترف بوجود حدود سياسية أو إقليمية.

*

ب- تساهم التجارة الدولية في إضفاء صفة العالمية على التلوث.

*

ج- المعلومة الجغرافية متغيرة و ليست ثابتة.

*

د- حفظ المعلومات الجغرافية بصورة ورقية يتسبب في معوقات مختلفة.

*

هـ- انجاز دولة الكويت للعديد من التطبيقات في مجال نظم المعلومات الجغرافية.

*

و- للتلوث الهوائي آثار سلبية على الاقتصاد الدولي.

*

١٦- ماذا تتوقع أن يحدث عند:

أ- التعرض الدائم و المستمر لمصادر الضوضاء.

*

ب- وصول معدلات الزيادة الطبيعية في دولة الكويت إلى النمو الصفري.

*

ج- لم يتم اختراع أجهزة الحاسب الآلي.

*

١٧- أقرأ الفقرة التالية جيداً و استعن بها في الإجابة:

((يتكون الغلاف الجوي من النيتروجين بنسبة ٧٨% ، و الأوكسجين بنسبة ٧١% ، و الغازات الأخرى + بخار الماء بنسبة ١%)).

• حول النسب الواردة في الفقرة السابقة إلى دائرة بيانية من تصميمك .

١٨ - استعن بالفقرة التالية في الإجابة عما يليها:

((تأسست اللجنة عام ١٩٧٣ م ، أُطلق عليها اسم الاسكوا عام ١٩٨٥ م، وهي جزء من الأمانة العامة للأمم المتحدة، تضم عدد من البلدان، لها أهداف اقتصادي و اجتماعية متعددة)).

أ- عرف الاسكوا.

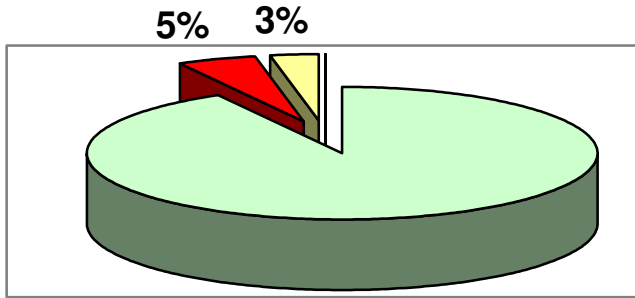
*

ب- علل : إنشاء لجنة الاسكوا.

*

ج- حول النسب المئوية في الدائرة البيانية

المقابلة إلى رسم بياني " أعمدة بيانية " .



92%

Blank area for drawing a bar chart corresponding to the pie chart data.

١٩- لاحظ الشعار المقابل و الذي يمثل منظمة عالمية مستقلة ثم أجب عما يأتي:



أ - المنظمة العالمية التي يمثلها الشعار المقابل تسمى

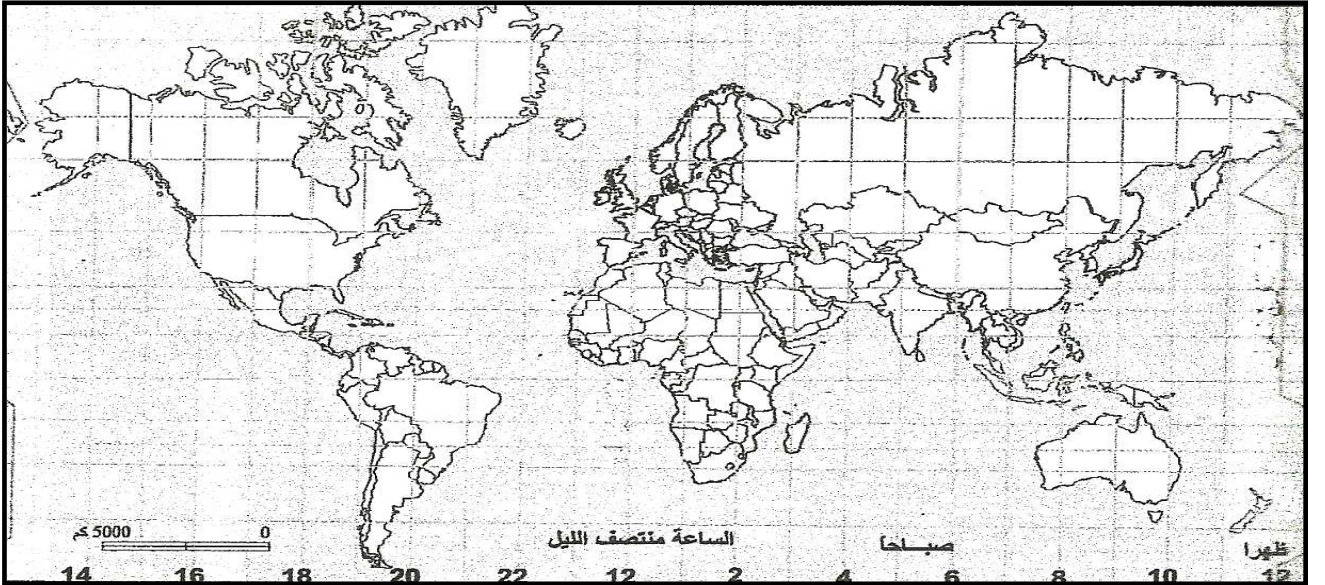
.....

ب علل : إنشاء هذه المنظمة العالمية.

*

*


ج- على خريطة العالم التالية ظل الدولة التي نشأت فيها هذه المنظمة العالمية.



٢٠- اكتب في الدوافع الاقتصادية التي أدت إلى نشأة المدن التالية:

الدوافع الاقتصادية	أسماء المدن
	أ- مدينة الأحمدى بدولة الكويت
	ب- مدينة المحلة الكبرى بجمهورية مصر العربية
	ج- مدينة دبي بدولة الإمارات العربية المتحدة
	د- مدينة الأقصر بجمهورية مصر العربية

٢١ - صمم مخططاً سهماً لمناهج البحث في الجغرافيا السياسية:



٢٢ - أدرس الأشكال التالية جيداً ثم سجل ملاحظتك:

	<p>الشكل الأول:</p>
	<p>الشكل الثاني:</p>
	<p>الشكل الثالث:</p>