

تم تحميل هذا الملف من موقع المناهج الكويتية



منطقة الفروانية التعليمية

الملف نموذج أسئلة منطقة الفروانية

[موقع المناهج](#) ← [المناهج الكويتية](#) ← [الصف السادس](#) ← [اجتماعيات](#) ← [الفصل الثاني](#)

روابط مواقع التواصل الاجتماعي بحسب الصف السادس



روابط مواد الصف السادس على تلغرام

[الرياضيات](#)

[اللغة الانجليزية](#)

[اللغة العربية](#)

[التربية الاسلامية](#)

المزيد من الملفات بحسب الصف السادس والمادة اجتماعيات في الفصل الثاني

مراجعة	1
مراجعة	2
مراجعة	3
مذكرة في مادة الاجتماعيات	4
مراجعة محلولة ومفيدة في مادة الاجتماعيات	5



وزارة التربية
الإدارة العامة لمنطقة الفروانية التعليمية
التوجيه الفني للاجتماعيات

امتحان الفترة الدراسية الثانية
لمقرر: الكويت ودول الخليج العربية
للسف السادس

العام الدراسي: ٢٠٢٢-٢٠٢٣ م
الزمن: ساعة ونصف
عدد الأوراق: ٦

أجب عن جميع الأسئلة التالية:

السؤال الأول: ويتكون من (أ ، ب ، ج ، د ، هـ ، و ، ز)

(أ) ضع خطاً تحت الخيار الصحيح من بين الخيارات التي تلي كل عبارة:

١ - أهم الدول المستوردة للنفط الكويتي هي الولايات المتحدة الأمريكية وهولندا وأيضاً :

- الهند - كوريا - اليابان - الصين

٢ - المحصول الزراعي الذي نجحت المملكة العربية السعودية كتجربة رائدة في إنتاجه

- القطن - القمح - الأرز - الشعير

٣ - البعثة التي كشفت عن وجود تشابه في الآثار الحضارية لدول الخليج العربية :

- الدانمركية - البريطانية - الفرنسية - الألمانية

٤ - الموقع الذي ساهم في ازدهار نمو صناعة النفط وتسويقه في منطقة الخليج العربية :

- الفلكي - النسبي - المكاني - الجغرافي

٦ - درع واقٍ للأحياء ضد خطر الأشعة فوق البنفسجية الضارة :

- الدخان - الضباب - الأوزون - الهواء

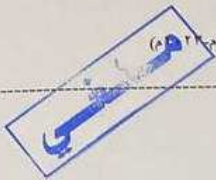
٧ - العام الذي تعرضت فيه دولة الكويت للغزو العراقي الغاشم :

١٩٩٠ - ١٩٩١ م - ١٩٩٢ م - ١٩٩٣ م

(ب) صنف الهجرات في مكانها الصحيح حسب الجدول التالي :

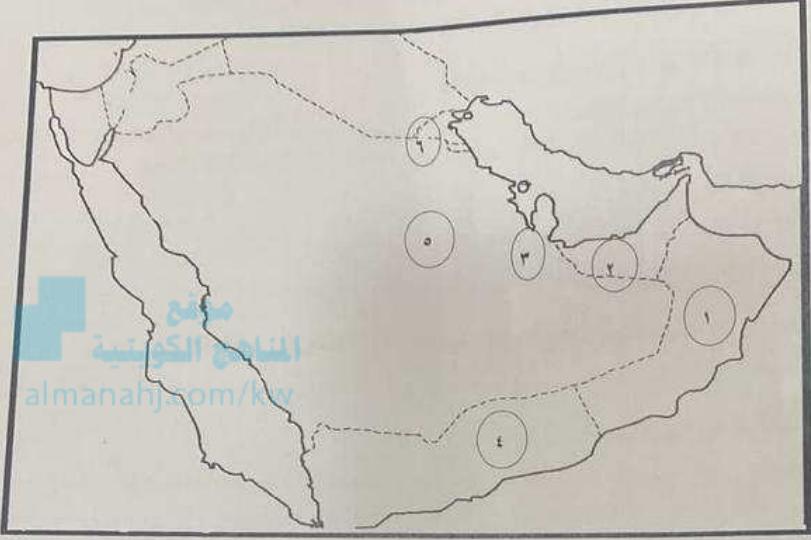
- الفواسم - المعاضيد - الأزدي - بني ياس - آل الصباح - آل خليفة

دولة الكويت	البحرين	قطر	ابوظبي	رأس الخيمة	عُمان



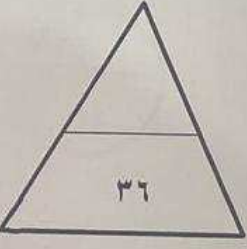
تابع : السؤال الأول :

(ز) لاحظ خريطة شبه الجزيرة العربية ثم نفذ المطلوب :



منصة
المنهج الكويتية
almanahj.com/kw

- الدولة التي يوجد بها حقل الغوار يمثلها على الخريطة الرقم
- الدولة التي يوجد بها حقل دخان يمثلها على الخريطة الرقم
- الدولة التي يوجد بها سهل الباطنة يمثلها على الخريطة الرقم
- الدولة التي يوجد بها حقل برقان يمثلها على الخريطة الرقم



ملقني

السؤال الأول :

(هـ) اكتب عنوان مشترك بين مجموعة العناصر التالية :

١ -

عدد السكان	قسمة	مساحة الدولة
------------	------	--------------

 ← (.....)

٢ -

عادات	تقاليد	قيم
-------	--------	-----

 ← (.....)

٣ -

الطباخين داخل المنزل	الخدم	الساائقين
----------------------	-------	-----------

 ← (.....)

٤ -

السوك العدواني	التخريب	التدمير
----------------	---------	---------

 ← (.....)

(جـ) اكمل العبارات التالية بما يناسبها فيما درست :

١ - العام الذي بدأ فيه التنقيب عن النفط بدولة الكويت

٢ - حاكم دولة الكويت الذي تم في عهده تصدير أول شحنة من النفط الكويتي عام ١٩٤٦م اسمه الشيخ

٣ - السبب الرئيسي في الزيادة غير الطبيعية لسكان دول الخليج العربية

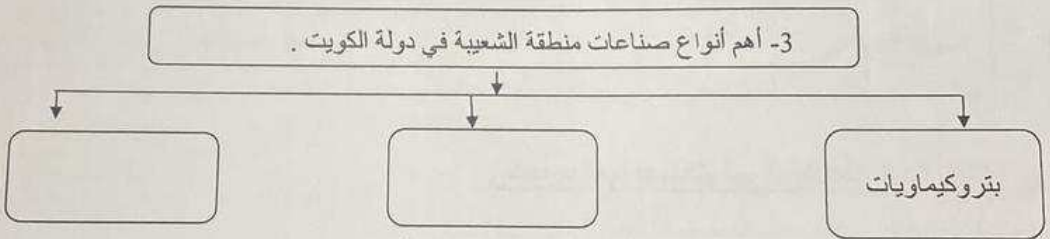
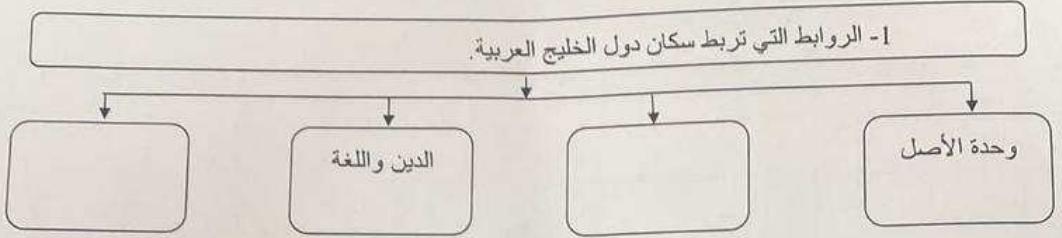
٤ - المدينة الخليجية التي تعد مقر مكتب التربية العربي لدول مجلس التعاون الخليجي تسمى

٥ - العام الذي تم فيه صدور إعلان الدوحة بشأن قيام السوق الخليجية المشترك

٦ - عدد الآبار النفطية الكويتية التي قام النظام العراقي البائد بإشغالها أكثر من بئراً

مختبر

تابع : السؤال الأول :
(ج) أكمل المخططات السهمية التالية:



(د) اكتب المفاهيم أو المصطلحات الدالة على العبارات التالية :

م	المفهوم	العبرة
١	الزراعة التي تتم في بيئة مائية أو رملية أو حصى أو نشارة خشب تضاف إليها المحاليل الغذائية	
٢	مجموعة من الناس تشترك فيما بينها في الصفات الجسمانية الرئيسية كلون الجلد وشكل الأنف والشعر وطول القامة وما إليها	
٣	التغيير الذي يحدث لعدد السكان نتيجة للزيادة الطبيعية وغير الطبيعية	
٤	إحداثيات إفساد لنوعية المياه من خلال إدخال مواد ضارة بها من قبل الإنسان مما يؤدي إلى حدوث خلل في النظام المائي .	

السؤال الثاني : ويتكون من (أ - ب - ج) :

(أ) عرف المفاهيم التالية :

١- الصناعة:

٢- الترانزيت:

(ب) اقرأ الفقرة التالية ثم أجب عما يليها من أسئلة:

تعرضت دولة الكويت للغزو العراقي الغاشم مما أسفر عن أضرار في البيئة الكويتية حيث تسبب بإحداث تلوثاً بيئياً (تلوث هوائي، تلوث أرضي) بالإضافة إلى الآثار الخطرة على صحة الإنسان والكانتات الحية.

١- اقترح عنواناً مناسباً للفقرة السابقة.

٢- عدد أنواع التلوث الناجمة من الغزو العراقي الغاشم على دولة الكويت.

موقع

المنهج الكويتي

almanarj.com.kw

٣- اذكر الآثار الخطرة من التلوث البيئي الذي أحدثه الغزو العراقي الغاشم على دولة الكويت.

٤- اذكر النتائج المترتبة من تلوث التربة.

(ج) اكتب فيما يلي مما درست :

١ - مظاهر التعاون الثقافي بين دول مجلس التعاون الخليجي

٢ - الحلول المقترحة لعلاج مشكلة العنف.

ملفني

السؤال الثالث: ويتكون من (أ - ب - ج) :

(أ) علل لما يلي :

١- استخدام البيوت البلاستيكية في الزراعة بمنطقة الخليج العربية.

٢- استخدام كلمة خليجيين للدلالة على سكان منطقة الخليج العربية بدلاً من إطلاق لفظ الدولة.

(ب) اكتب فيما يلي مما درست:

١- أسباب نمو السكان نمواً مضطرباً فجائياً لمنطقة الخليج العربية بعد اكتشاف النفط.

٢- مظاهر التعاون العسكري بين دول مجلس التعاون الخليجي.

٣- أسباب التلوث البحري (المائي) .

(ج) فرق بين كل من :

احتياطي النفط	إنتاج النفط
.....
.....
الواردات	الصادرات
.....
.....

(انتهت الأسئلة)

ملفني

المطلوب الثالث: ويتكون من (أ - ب - ج) :

علل لما يلي :

١- استخدام البيوت البلاستيكية في الزراعة بمنطقة الخليج العربية.

٢- استخدام كلمة خليجين للدلالة على سكان منطقة الخليج العربية بدلاً من إطلاق لفظ الدولة.

(ب) اكتب فيما يلي مما درست:

١- أسباب نمو السكان نمواً مضطرباً فجائياً لمنطقة الخليج العربية بعد اكتشاف النفط.

٢- مظاهر التعاون العسكري بين دول مجلس التعاون الخليجي.

٣- أسباب التلوث البحري (المائي) .

(ج) فرق بين كل من :

احتياطي النفط	إنتاج النفط
.....
الواردات	الصادرات
.....

(انتهت الأسئلة.)