

تم تحميل هذا الملف من موقع المناهج الكويتية



الملف تقرير عن استكشاف خواص المثلث

[موقع المناهج](#) ← [المناهج الكويتية](#) ← [الصف السابع](#) ← [رياضيات](#) ← [الفصل الأول](#)

روابط مواقع التواصل الاجتماعي بحسب الصف السابع



روابط مواد الصف السابع على تلغرام

[الرياضيات](#)

[اللغة الانجليزية](#)

[اللغة العربية](#)


[التربية الاسلامية](#)

المزيد من الملفات بحسب الصف السابع والمادة رياضيات في الفصل الأول

كتاب الطالب كورس اول للعام 2018	1
بنك اسئلة مهم في مادة الرياضيات	2
حل الوحدة الثالثة	3
حل الوحدة الرابعة (القياس)	4
تحضير الحس العددي والهندسة للوحدة الاولى في مادة الرياضيات	5



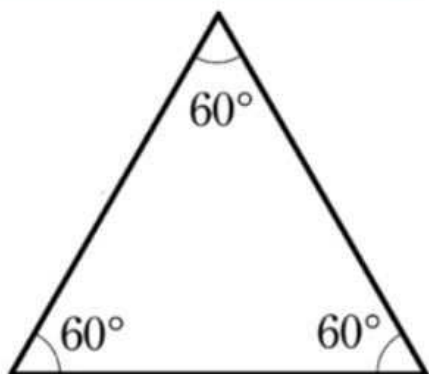
موقع
المناهج الكويتية
www.hj.com/kw



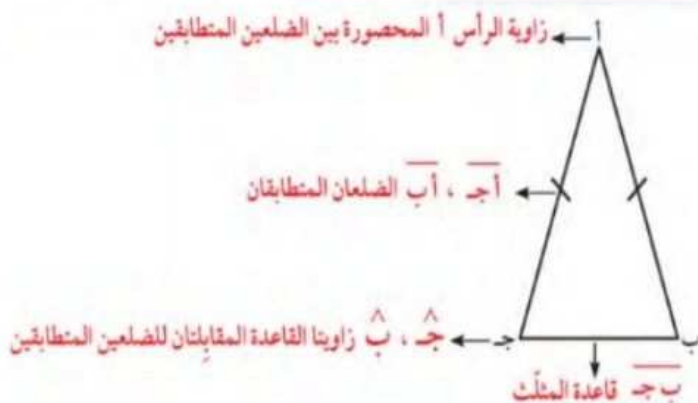
الاسم

سوف نتعلم خواص كل من المثلث المتطابق الضلعين و المثلث المتطابق الأضلاع

مثلث متطابق الأضلاع

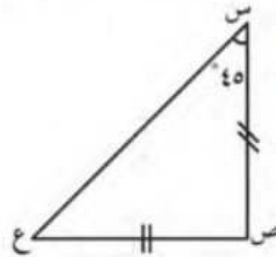


مثلث متطابق الضلعين



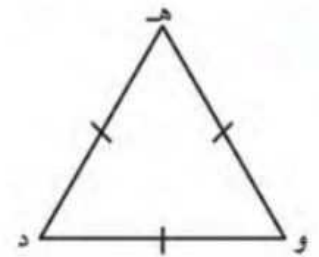
الأمثلة

أوجد قياسات الزوايا و أطوال الأضلاع المحددة في كل مما يلي مع ذكر السبب



قياس الزاوية ع = 45°

السبب: من خواص المثلث متطابق الضلعين



قياس الزاوية هـ = 60°

السبب: لأن المثلث المتطابق الأضلاع و بالتالي قياس الزوايا الثلاث $60^\circ =$

