

تم تحميل هذا الملف من موقع ملفات الكويت التعليمية



[com.kwedufiles.www//:https](https://www.kwedufiles.com)

*للحصول على أوراق عمل لجميع الصفوف وجميع المواد اضغط هنا

* للحصول على أوراق عمل لجميع مواد الصف الخامس اضغط هنا

<https://kwedufiles.com/5>

* للحصول على جميع أوراق الصف الخامس في مادة رياضيات وجميع الفصول, اضغط هنا

<https://kwedufiles.com/5math>

* للحصول على أوراق عمل لجميع مواد الصف الخامس في مادة رياضيات الخاصة بـ الفصل الأول اضغط هنا

<https://www.kwedufiles.com/5math1>

* لتحميل كتب جميع المواد في جميع الفصول للـ الصف الخامس اضغط هنا

<https://www.kwedufiles.com/grade5>

[bot_kwlinks/me.t//:https](https://t.me/bot_kwlinks)

للحصول على جميع روابط الصفوف على تلغرام وفيسبوك من قنوات وصفحات: اضغط هنا

الروابط التالية هي روابط الصف الخامس على مواقع التواصل الاجتماعي

مجموعة الفيسبوك

صفحة الفيسبوك

مجموعة التلغرام

بوت التلغرام

قناة التلغرام

رياضيات على التلغرام

أوراق قبلية للدرس الأول (٦-١)

٨						محطة وقود
٧	مركز تسوق			حديقة عامة		
٦			الحضارة			
٥	المسجد				مكتب بريد	
٤			المدرسة			
٣				المنزل		
٢		مكتبة عامة				
١					مركز الشرطة	
						د خ ح ج ث ت ب أ

١) استخدم الخريطة لتحديد موقع كلاً من:

أ) المدرسة : _____ ب) المسجد : _____

ج) مكتب البريد : _____ د) مكتب بريد : _____

هـ) مركز الشرطة : _____ و) المنزل : _____

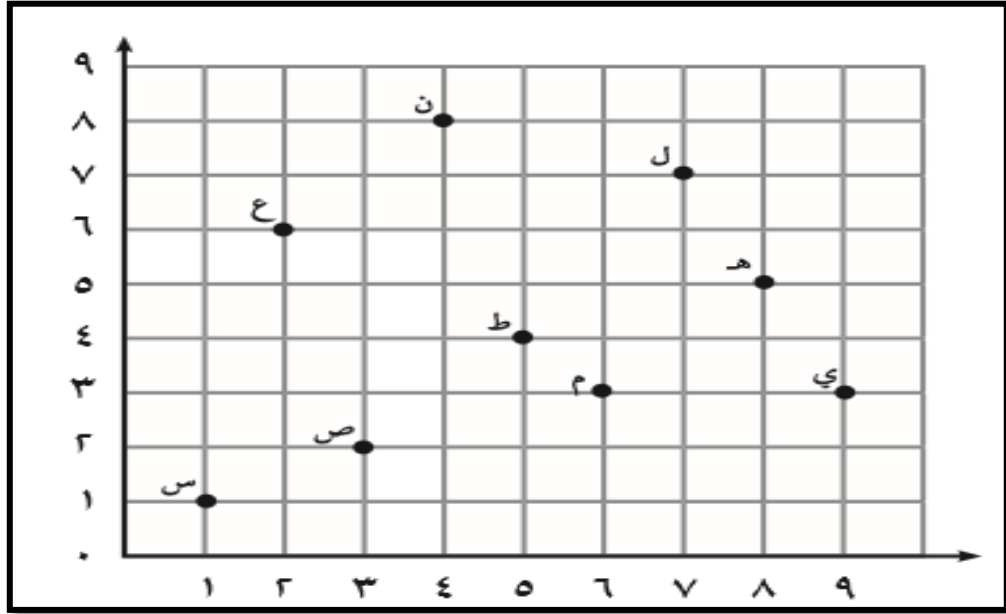
٢) سم ما يحدده كل موقع مما يلي مستخدماً الخريطة :

أ) ح ٧ : _____

ب) ج ٦ : _____

ج) د ٨ : _____

أوراق قبلية للدرس الأول (٦-١)



١) استخدم شبكة الأحداثيات لتسمية الزوج المرتب لكل نقطة :

_____ : (ب) م

_____ : (أ) س

_____ : (د) ع

_____ : (ج) ط

٢) سم النقطة التي يحددها كل من الأزواج المرتبة بحسب الشبكة الموضحة أعلاه :

_____ : (ب) (٣، ٩)

_____ : (أ) (٢، ٣)

_____ : (د) (٥، ٨)

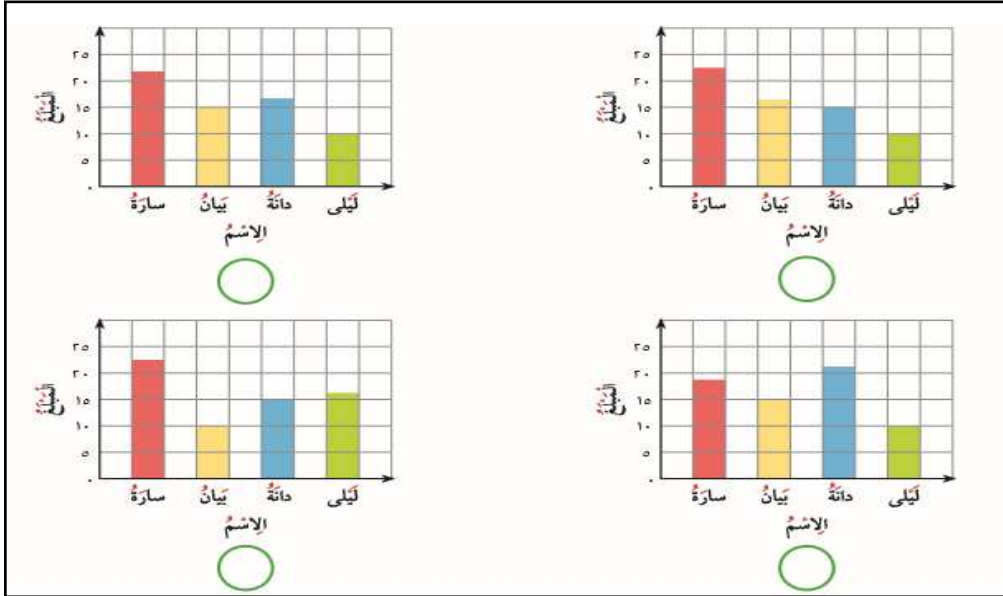
_____ : (ج) (٧، ٧)

أوراق قبلية للدرس الثاني (٦-٢)

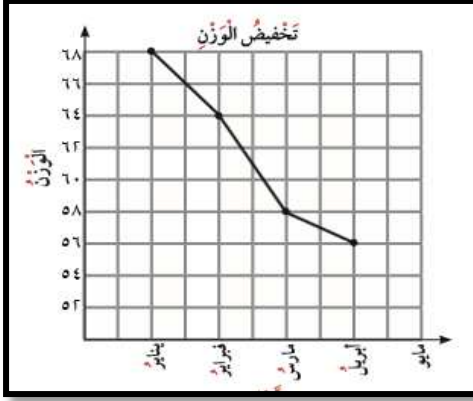
اختاري الإجابة الصحيحة :

ب) استلمت منيرة الجدول المقابل من معلمتها وطلبت منها تحديد التمثيل البياني المناسب لبيانات الجدول .
أي من هذه التمثيلات يجب على منيرة اختيارها

مقدار ما توفّره بعض المتعلّقات	
المبلغ	الإسم
٢٢ دينارًا	سارة
١٥ دينارًا	بيان
١٧ دينارًا	دانة
١٠ دنانير	ليلى



أوراق قبلية للدرس الثالث (٦-٣)



استعملت سارة نظاما لتخفيض

الوزن خلال خمسة أشهر ،

والتمثيل المجاور يبين وزن سارة

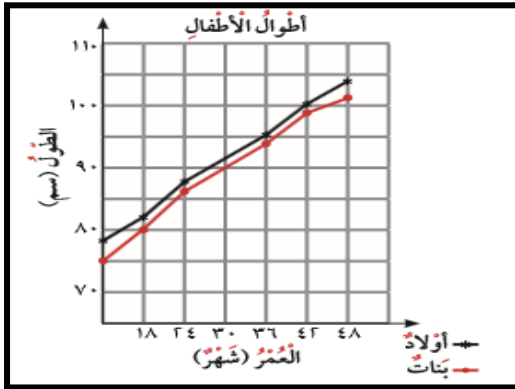
في كل شهر . استخدم التمثيل

للإجابة عن الأسئلة التالية :

أ) كم كان وزن سارة في شهر يناير ؟ _____

ب) في أي شهر أصبح وزن سارة ٥٦ كجم ؟ _____

ج) ما الفرق بين وزن سارة في شهري فبراير و أبريل ؟ _____



يبين التمثيل بالخطوط المزدوجة

المجاور أطوال أطفال من فئات

عمرية مختلفة .

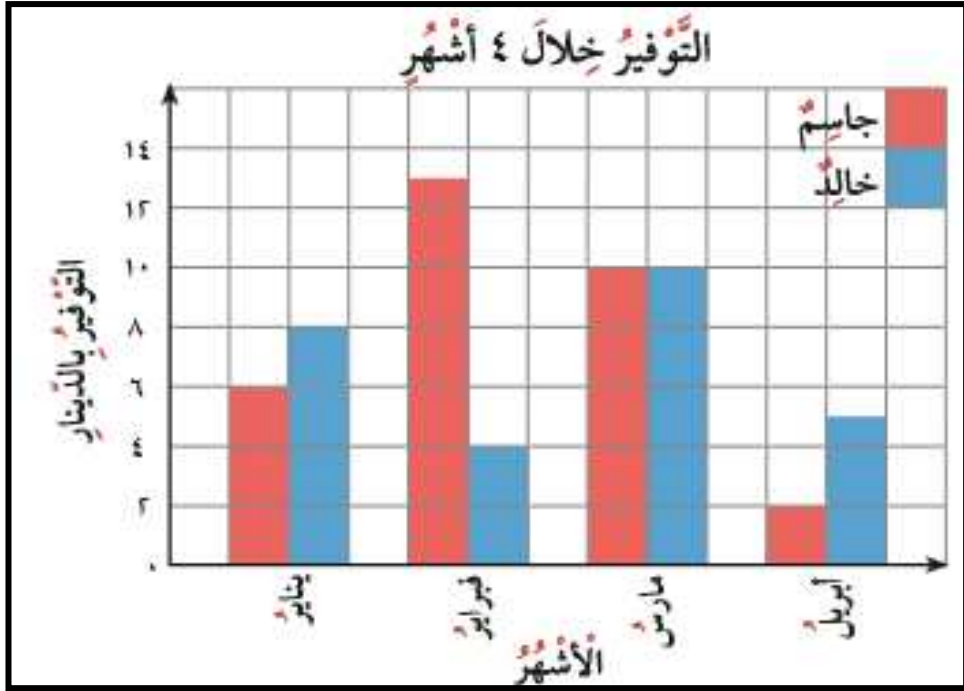
أ) ما أطوال البنات اللواتي أعمارهن ٣٠ شهرا؟ _____

ب) ما أطوال الأولاد الذين أعمارهم ٣٦ شهرا ؟ _____

ج) طول منى يساوي أطوال البنات اللواتي أعمارهن من عمرها ،

ويساوي ٨٠ سم . استخدم التمثيل لمعرفة عمرها ؟ _____

أوراق قبلية للدرس الرابع (٤-٦)



استخدم التمثيل البياني أدناه الذي يبين ما وفره جاسم وخالد خلال ٤ أشهر من المصروف الشهري في الإجابة عن الأسئلة التالية :

أ) ما المبلغ الذي وفره خالد خلال شهر فبراير؟

ب) ما المبلغ الذي وفره جاسم خلال شهر يناير؟

ج) ما الشهر الذي تساوى التوفير عند جاسم وخالد؟

د) ما المبلغ الذي وفره جاسم خلال ٤ أشهر؟

أوراق قبلية للدرس الخامس (٥-٦)

أوجد المتوسط الحسابي للقيم :

٩

٦

١٠

٤

١١

مجموع القيم = _____

عدد القيم = _____

المتوسط الحسابي = _____

السنة	عدد مرات السفر
٢٠١٤	٥
٢٠١٥	١٠
٢٠١٦	٦

في الجدول

يبين عدد مرات سفر سلطان خلال ثلاث سنوات أحسب ، المتوسط الحسابي لعدد مرات سفر سلطان في السنة الواحدة .

أوراق قبلية للدرس السادس (٦-٦)

كان عدد الرحلات اليومية لإحدى شركات السياحة لمدة أسبوع كما يلي :

٤	٩	٦	٩	٤	٩	٨
---	---	---	---	---	---	---

أوجدني المنوال والوسيط والمدى لعدد الرحلات :

الترتيب : _____

المنوال هو : _____

الوسيط : _____

المدى : _____

درجات بعض متعلمي أحد الفصول

X		X	X	
X		X	X	X
X		X	X	X
12	13	14	15	16

الرمز X يمثل متعلماً واحداً

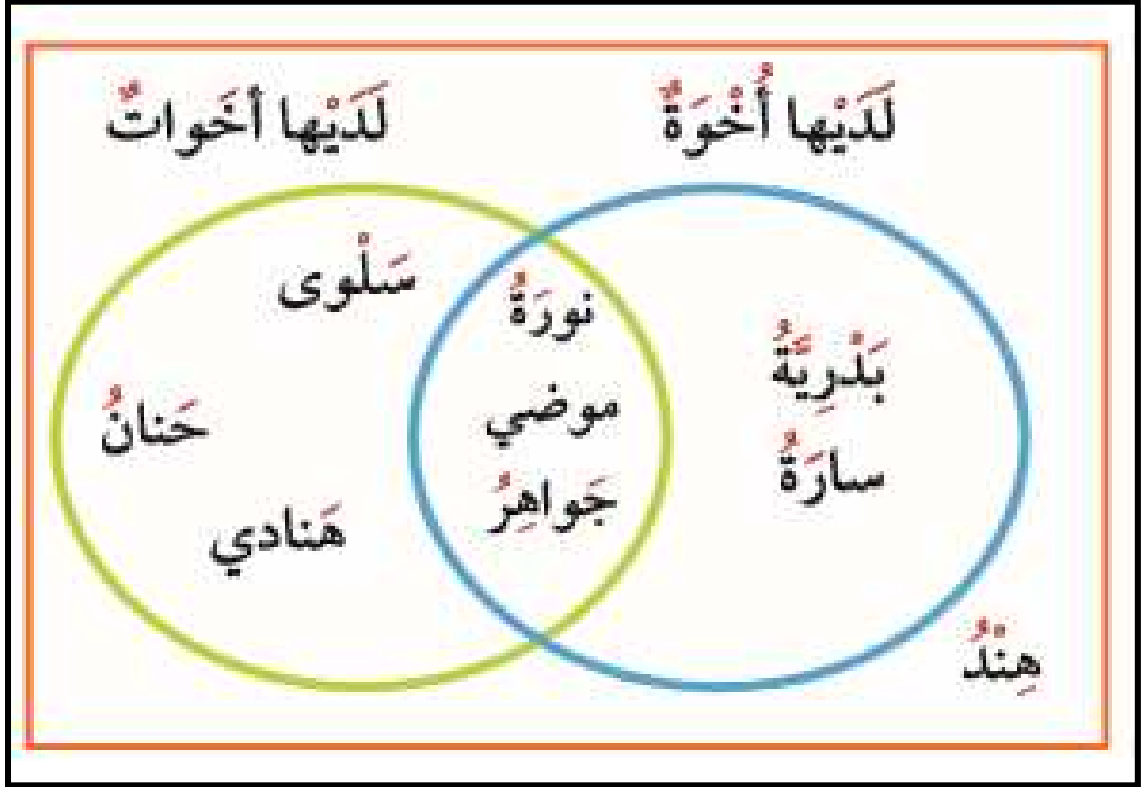
مستخدماً التمثيل البياني بالنقاط المجمعة ، أوجد :

المدى = _____

الوسيط = _____

المنوال هو = _____

أوراق قبلية للدرس السابع (٦-٧)



استعن بمخطط فن الذي يوضح تصنيف بعض المتعلمات ،
وأجب عن الأسئلة التالية :

- أ) كم عدد المتعلمات اللواتي عندهن أخوة فقط ؟

- ب) كم عدد المتعلمات اللواتي عندهن أخوات ؟

- ج) كم عدد اللواتي لديهن أخوة وأخوات معا ؟

- د) من من المتعلمات ليس لديها أخوة أو أخوات ؟
