

تم تحميل هذا الملف من موقع المناهج الكويتية



منطقة الجهراء التعليمية

الملف نموذج إجابة اختبار منطقة الجهراء التعليمية

موقع المناهج ← المناهج الكويتية ← الصف الثامن ← اجتماعيات ← الفصل الثاني

روابط مواقع التواصل الاجتماعي بحسب الصف الثامن



روابط مواد الصف الثامن على تلغرام

[الرياضيات](#)

[اللغة الانجليزية](#)

[اللغة العربية](#)

[التربية الاسلامية](#)

المزيد من الملفات بحسب الصف الثامن والمادة اجتماعيات في الفصل الثاني

تلخيص	1
امتحان دولة الكويت والعالم الاسلامي	2
حل التقويم لمادة الاجتماعيات	3
نموذج اجابة اختبار في مادة الاجتماعيات لنهاية الفترة الدراسية الثانية	4
نموذج الاحابة لامتحان الاجتماعيات فرواتية	5



أجب عن جميع الأسئلة التالية :-

السؤال الأول: موضوعي ويتكون من (أ ، ب ، ج ، د ، هـ) :-

أ- ظلل الخيار الصحيح من بين الخيارات التي تلي كل عبارة: (٦ درجات = كل نقطة درجة)

١- الدولة التي تصل فيها نسبة التلوث الهوائي ٤٠٪ بسبب عوادم السيارات :-	سورينام	ماليزيا	باكستان	اندونيسيا	ص ٨٣
٢- المركز الحدودي الذي قامت القوات العراقية عام ١٩٧٣م بالاعتداء عليه :-	العبدلي	الصامته	السالمي	النويصيب	ص ١٠٣
٣- الملك الذي اقترح إنشاء صندوق الأقصى :-	خالد بن عبدالعزيز	فهد بن عبدالعزيز	عبدالله بن عبدالعزيز	سلمان بن عبدالعزيز	ص ١٠٨
٤- الدولة الخليجية التي سجلت أعلى معدل في إلمام البالغين بالقراءة و الكتابة :-	قطر	البحرين	عمان	الكويت	ص ١٢٨
٥- عدد الدول التي تضمها منظمة التعاون الإسلامي :-	٥٤ دولة	٥٥ دولة	٥٦ دولة	٥٧ دولة	ص ١٣٨
٦- بدأت القضية الفلسطينية عقب الحرب العالمية :-	الأولى	الثانية	الثالثة	الرابعة	ص ١٠٧

ب- اكتب المفاهيم أو المصطلحات الدالة على العبارات التالية :

م	المفهوم	العبارة
١	الاحتباس الحراري	ارتفاع درجات حرارة الأرض عن معدلها الطبيعي مما يؤدي إلى تغيرات مناخية. ص ٩٠
٢	التنمية المستدامة	عبارة عن برامج تحسين نوعية الحياة ولا تتحقق إلا بمشاركة جميع المواطنين من أجل تحسين نوعية الحياة وفق بيئة صحية آمنة و مستقرة و متقدمة. ص ٩٣
٣	العولمة	نظام عالمي جديد يقوم على الابداع العلمي والتطور التقني والتكنولوجي وثورة الاتصالات. ص ٩٩
٤	التصحّر	زحف رمال الصحراء على المناطق الجافة وشبه جافة. ص ٨٨
٥	الانفجار السكاني	الزيادة الكبيرة في أعداد السكان . ص ٩٥
٦	الدولة الإسلامية	دولة يكون فيها نسبة المسلمين ٥٠٪ أو أكثر من نسبة مجموع سكانها ويحكمها حاكم مسلم . ص ١٣٧

تابع السؤال الأول:

ج- صوب ما تحته خط في العبارات التالية:

(٦ درجات = كل نقطة درجة)

- ١- القوات التي قامت بإبادة المسلمين وتعذيبهم في حرب البوسنة والهرسك تسمى القوات النازية. (الصربية) ص ١١٦
- ٢- العام الذي أنشأت فيه شرطة البيئة في الكويت ٢٠١٧م. ص ٨٢ (٢٠١٥)
- ٣- الحاكم الذي دعا إلى إنشاء تجمع يضم الدول الإسلامية الملك فهد بن عبدالعزيز. (فيصل بن عبدالعزيز) ص ١٣٧
- ٤- توسع المحتل الصهيوني عام ١٩٤٨م ليحتل حوالي ٧٠٪ من الأراضي الفلسطينية. موقع المناهج الكويتية ص ١٠٧
- ٥- بطلة كويتية من أبطال إطفاء حرائق النفط الناجمة عن الغزو العراقي الغاشم معصومة المبارك. (سارة أكبر) ص ١١٩
- ٦- عملية إعادة استخدام المخلفات لإنتاج منتجات أخرى أقل جودة من المنتج الأصلي هي النفايات. (التدوير) ص ٩١

د- اختر للمجموعة (أ) ما يرتبط بها من المجموعة (ب) بوضع الرقم في المكان المناسب:

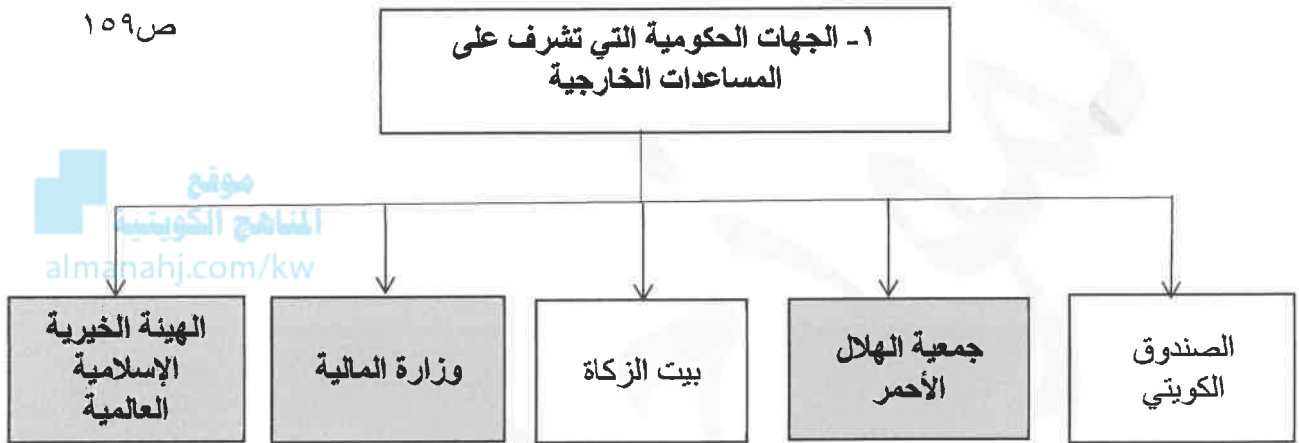
(٦ درجات = كل نقطة درجة)

م	المجموعة (أ)	الرقم المناسب	المجموعة (ب)
١	مجمع الفقه الإسلامي	(٤)	تقديم المساعدة للسلطات الرسمية في الجانب الإنساني ص ١٦٠
٢	البنك الإسلامي للتنمية	(٦)	تقديم المساعدة للدول الإسلامية في أوقات الكوارث والنكبات ص ١٤٨
٣	الهيئة الخيرية الإسلامية العالمية	(٥)	إقامة علاقات وثيقة بين دول الأعضاء وتميئها في ميدان الإعلام ص ١٤٥
٤	جمعية الهلال الأحمر الكويتي	(١)	تحقيق الوحدة الإسلامية نظرياً وعلمياً وفقاً للشرعية الإسلامية ص ١٤٥
٥	وكالة الأنباء الإسلامية الدولية (إبنا)	(٣)	تقديم الخدمات في جميع أنحاء العالم دون تمييز أو تعصب ص ١٦٠
٦	اللجنة الإسلامية للهلال الدولي	(٢)	دعم التنمية الاقتصادية والتقدم الاجتماعي للشعوب الإسلامية ص ١٤٥
		()	تقديم المساعدات للطلبة الضعاف

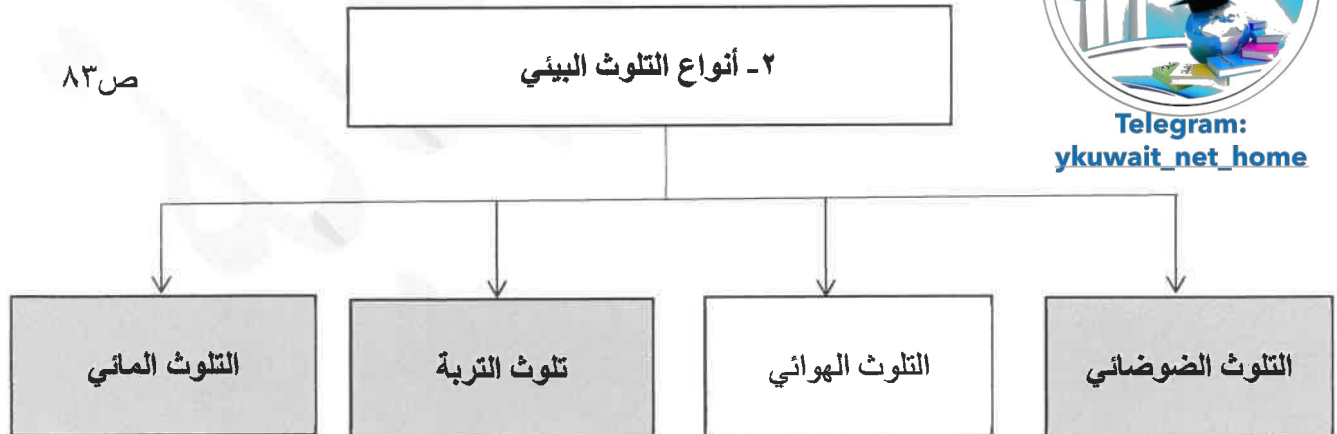
تابع السؤال الأول:

(٦ درجات = كل نقطة درجة)

هـ - أكمل المخططات السهمية التالية:



تم التحميل من شبكة ياكويت التعليمية



السؤال الثاني: مقالى ويتكون من (أ ، ب ، ج) :-

أ- عرف ما يلي: (درجتين = كل نقطة درجة)

- ١- ميزان تجاري: الفرق بين قيمة الصادرات وقيمة الواردات بالدولة. ص ١٠٠
- ٢- حدود: هي خطوط حددت بواسطة الإنسان ورسمت حتى تفصل بين سيادة دولة ودولة أخرى. ص ١٠٢

ب- فرق بين كل من: (يكتفى بنقطتين) (٤ درجات = كل نقطة درجة)

أثر التلوث الهوائي ص ٨٤	أثر التلوث المائي ص ٨٦
- سبب رئيسي لأمراض القلب والأوعية الدموية وأمراض الرئة وضيق التنفس. - اضطراب في الجهاز العصبي. - تآكل وتلف المباني والمنشآت والآثار. (لكل نقطة درجة)	- هلاك الكائنات البحرية الحيوانية والنباتية. - فقدان السواحل لقيمتها الاقتصادية والسياحية. - التأثير على صحة الإنسان لاعتماده على الغذاء البحري (لكل نقطة درجة)

ج- علل لما يلي: (يكتفى بنقطتين) (٤ درجات)

- ١- انتشار الفقر في الدول الإسلامية. (درجتين = كل نقطة درجة) ص ٩٨

- عدم توفير فرص العمل - ضعف اقتصاد الدولة - انتشار البطالة
- تضخم أسعار السلع والخدمات - قلة التبرعات والصدقات في المجتمع

- ٢- ظهور مشكلة الإدمان. (درجتين = كل نقطة درجة) ص ١٢٦

- ضعف الوازع الديني وانحدار القيم الأخلاقية - ضعف الرقابة من الأسرة على الفرد
رفاق السوء - التقليد الأعمى واستيراد قيم جديدة غريبة على مجتمعاتنا تتنافى مع مبادئ ديننا الحنيف
انتشار التدخين بين المتعلمين في المدارس - قضاء أوقات الفراغ في أمور تافهة لا تعود على الشباب بالنفع

السؤال الثالث: مقالتي ويتكون من (أ ، ب ، ج) :-

أ- قارن بين كل من: (٤ درجات = كل نقطة درجة)

المؤتمر الإسلامي الأول لمنظمة التعاون الإسلامي ص ١٤٢	المؤتمر الإسلامي الخامس لمنظمة التعاون الإسلامي ص ١٤٣	أوجه المقارنة
مدينة الرباط	دولة الكويت	مقر الانعقاد
إحراق المحتل الصهيوني الإسرائيلي للمسجد الأقصى	تلبية لدعوة أمير الكويت الراحل الشيخ جابر الأحمد الجابر الصباح لاستضافة المؤتمر الخامس في دولة الكويت	سبب الانعقاد



ب- ما النتائج المترتبة على كل من: (٤ درجات)

١- الاحتباس الحراري. ص ٩٠ (يكتفى بنقطتين) (درجتين = كل نقطة درجة)

- احتباس الحرارة في طبقة الغلاف الجوي - ارتفاع تدريجي في معدل درجات الحرارة

- تغير المناخ مثل ذوبان الجليد في القطب الشمالي والجنوبي - غرق مناطق كثيرة من العالم

٢- الحرب الأهلية في الصومال عام ١٩٩١م. ص ١١٧ (يكتفى بنقطتين) (درجتين = كل نقطة درجة)

- موجات من الجفاف والمجاعة

- انتشار الأمراض (وباء الكوليرا)

ج- نفذ المطلوب ما بين القوسين:

- أجهزة منظمة التعاون الإسلامي. ص ١٤١ (يكتفى بنقطتين) (عدد) (درجتين = كل نقطة درجة)

- القمة الإسلامية - مجلس وزراء الخارجية

- الأمانة العامة - محكمة العدل الإسلامية الدولية

السؤال الرابع: مقالى ويتكون من (أ ، ب، ج) :-

أ- أجب عن الأسئلة التالية: (درجتين) ص ١٦٠

١- الهيئة التي يمثلها الشعار الذي أمامك. (درجة واحدة)
- بيت الزكاة الكويتي.



هيئة حكومية مسجلة
دولة الكويت

٢- عدد أهداف الهيئة. (يكتفى بنقطة واحدة) (درجة واحدة)
- إحياء ركن من أركان الإسلام
- العمل على توزيع الزكاة بأفضل وأجود الطرق المشروعة



ب- عدد ما يلي: (٤ درجات)

١- أنواع الحدود السياسية. ص ١٠٢
- حدود برية.
- حدود بحرية.

٢- مصادر التلوث البيئي الطبيعية. ص ٨١
- البراكين.
- الغبار.

(درجتين)

ج- أكتب مما درست: (٤ درجات)

١- طرق تكوين الأقليات الإسلامية. ص ١١٢
- اعتناق الإسلام.
- هجرة بعض المسلمين إلى أرض غير مسلمة.

(درجتين)

٢- نطاقات الصندوق الكويتي للتنمية. ص ١٥٩ (يكتفى بنقطتين) (درجتين)

- المساعدات الزراعية - المساعدات الصناعية.
- المساعدات الصحية - المساعدات التعليمية.

انتهت الإجابة،،،



العام الدراسي ٢٠٢٢-٢٠٢٣ م
الزمن : ساعة وخمس وأربعون دقيقة
عدد الصفحات : (٦)

وزارة التربية
الإدارة العامة لمنطقة الجهراء التعليمية
التوجيه الفني للاجتماعيات
اجابة امتحان المنهج الكامل
لمقرر دولة الكويت والعالم الإسلامي
للمصف الثامن المتوسط

أجب عن جميع الأسئلة التالية :

أولا : الأسئلة الموضوعية :

السؤال الأول: ويتكون من (أ - ب - ج - د - هـ - و) :

أ- أكمل العبارات التالية بما يناسبها فيما درست:

١- المؤلف لكتاب "نزهة المشتاق في اختراق الآفاق" يسمى الشريف الإدريسي ص ٤٢

٢- الدولة التي يزيد فيها نسبة المسلمين عن ٥٠% تسمى دولة إسلامية ص ١٣٧

٣- يبلغ عدد الدول الإسلامية في قارة آسيا حوالي ٢٧ دولة ص ٥١

٤- المدينة التي انطلق منها شعاع الحضارة الإسلامية تسمى المدينة المنورة ص ١٧

٥- المركز الكويتي الحدودي الذي تعرض للهجوم العراقي عام ١٩٧٣م يسمى الصامطة ص ١٠٣

ب- ضع خطأ تحت الخيار الصحيح من بين الخيارات التي تلي كل عبارة :

١- يمتد العالم الإسلامي في قارات عددها : ص ٥٣

أ- ٢ ب- ٣ ج- ٤ د- ٥

٢- حاكم دولة الكويت الذي رفض ادعاءات العراق في مؤتمر عبدالكريم قاسم ١٩٦١م : ص ١٠٣

أ- جابر الاحمد ب- عبدالله السالم ج- صباح السالم د- مبارك السالم

٣- العام الذي تم فيه إطفاء آخر بئر نفطي : ص ١٢٠

أ- ١٩٩١م ب- ١٩٩٢م ج- ١٩٩٣م د- ١٩٩٤م

٤- ضريبة الأرض الزراعية التي تخرج مبلغا ماليا من ناتج المحصول الزراعي : ص ٢٨

أ- الوقف الاسلامي ب- الزكاة ج- الجزية د- الخراج

٥- نسبة انتاج العالم الإسلامي من الغاز الطبيعي حوالي : ص ٦٧

أ- ٣٦% ب- ٣٧% ج- ٣٨% د- ٣٩%

ج- أكتب المفاهيم أو المصطلحات الدالة على العبارات التالية :

- ١- (أهل الذمة) النصارى واليهود الذين ظلوا على دينهم مع دفع الجزية. ص ٣٦
- ٢- (غلات نقدية) محاصيل زراعية تزرع من أجل التصدير . ص٧٣
- ٣- (الحضارة) كل ما يطرأ على المجتمع من تقدم وتطور ورقي سواء في الجانب المادي أو الجانب الروحي . ص ١٨
- ٤- (أقلية إسلامية) مجموعة من المسلمين تعيش تحت سلطة دولة غير مسلمة في وسط أغلبية غير مسلمة . ص ١١٢
- ٥- (التضاريس) أشكال سطح الأرض . ص ٥٣




د - صوّب ما تحته خط في العبارات التالية :

- ١- كل قمة لا يقل ارتفاعها عن ١٠٠٠ متر تسمى التل . (الجبل) ص ٥٣
- ٢- أول الخلفاء الراشدين بعد وفاة سيدنا محمد ﷺ هو عثمان بن عفان . (أبو بكر الصديق) ص ٢٥
- ٣- بلغت نسبة التلوث الهوائي في باكستان بسبب عوادم السيارات ٨٠% (٤٠%) ص ٨٣
- ٤- تم تحرير دولة الكويت من احتلال النظام العراقي البائد عام ١٩٩٣م . (١٩٩١) ص ١٢٢
- ٥- أول الدول الإسلامية في إنتاج معدن اليورانيوم تسمى النيجر . (كازاخستان) ص ٧٠

هـ - أكمل المخطط السهمي التالي :

(١) أنواع التلوث البيئي : ص ٨٣



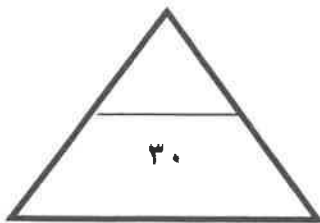
(٢) أسس الحضارة الإسلامية: ص ٢٠



موقع
المناهج الكويتية
almanahj.com/kw

و - اختر للمجموعة (أ) ما يناسبها من المجموعة (ب) بوضع الرقم في المكان المناسب: ص ٣٨

م	المجموعة (أ)	المجموعة (ب)
١-	المسجد الحرام	المدينة المنورة
٢-	بيت الحكمة	مكة
٣-	المرصد الفلكي	أوزباكستان
٤-	مجمع باي كاليان	بغداد
٥-	المسجد النبوي ص ٣٣	أذربيجان
		الرياض



ثانيا : الأسئلة المقالية :

السؤال الثاني : ويتكون من (أ - ب - ج) :

أ - علل لما يأتي : (٤ درجات / يكتفى بنقطتين)

(ص ٢٨ / درجتان)

- ١- لقيت التجارة تشجيعا كبيرا في الحضارة الإسلامية .
- لدورها الكبير في التبادل التجاري مع المناطق المجاورة .
- أسهمت في نشر الدين الإسلامي .
- موقع العالم الاسلامي الإستراتيجي .

(ص ٩٨ / درجتان)

- ٢- ظهور الفقر في الدول الإسلامية .
- عدم توفر فرص العمل .
- ضعف اقتصاد الدولة .
- انتشار البطالة .
- تضخم أسعار السلع والخدمات .
- قلة التبرعات والصدقات في المجتمع .



ب - عدد ما يلي (٤ درجات) يكتفى بنقطتين :

١- المناصب الإدارية في الدولة الإسلامية . (ص ٢٥ / درجتان)

- أهم المناصب الإدارية هي : الوزير - الوالي - الحاجب - القاضي - المحتسب - الخليفة

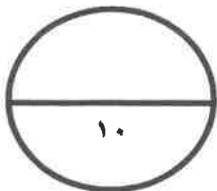
٢- المصادر البشرية للتلوث البيئي . (ص ٨١ / درجتان)

- النفايات الناتجة عن بعض التطور الصناعي - الاستخدام المفرط للأسمدة .
- رش المبيدات الحشرية على المزروعات - الحروب - الانفجارات النووية .

ج- عرف ما يلي: درجتان (درجة لكل نقطة) :

١- انفجار سكاني: الزيادة الكبيرة في اعداد السكان (ص ٩٥)

٢- احتباس حراري: ارتفاع درجات حرارة الأرض عن معدلها الطبيعي مما يؤدي الى تغيرات مناخية. (ص ٩٠)



ثالثا : الأسئلة المقالية :

السؤال الثالث : ويتكون (أ - ب - ج) :

(أ) قارن بين كل من: (٣ درجات/ ص ١٤٣، ١٤٢)

وجه المقارنة	المؤتمر الإسلامي الأول	المؤتمر الإسلامي الخامس
العام	١٩٦٩م	١٩٨٧م
مقر الانعقاد	الرباط	الكويت
سبب الانعقاد	احراق المحتل الصهيوني الإسرائيلي المسجد الأقصى	تلبية لدعوة أمير الكويت الشيخ جابر الأحمد الصباح الأحمد الصباح لاستضافة المؤتمر الخامس

موقع
المنهج الكويتية
almanahj.com/kw

ب- نفذ المطلوب منك بين الأقواس : (اربع درجات)

١- من اهم خصائص الحضارة الإسلامية هي الشمولية . (برهن)
- تميزت الحضارة الإسلامية بشموليتها لجوانب الحياة الروحية والعقلية والجمالية والأخلاقية
- طغت الآثار الإسلامية في كافة العالم واقتبس الأوروبيون كثيرا من مظاهر المدن الإسلامية لشموليتها من زخرف وفن وعمارة إسلامية مثل القصور والمساجد .

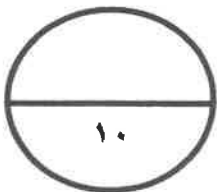
٢- لتلوث الهوائي أثر على حياة الإنسان . (أذكرها)
- سبب رئيسي لأمراض القلب والأوعية الدموية وأمراض الرئة وضيق التنفس.
- اضطراب في الجهاز العصبي.
- تآكل وتلف المباني والمنشآت والآثار.

ج- علل لما يلي : (ثلاث درجات)

١- فرار ملايين من مسلمي أركان كلاجئين للدول المجاورة . (ص ١١٣ / درجة واحدة)
- قامت السلطات الميانمارية إلى شن حملات قمعية ضد المجموعات المسلمة .
- الإبادة الجماعية والجرائم الإنسانية ضد المسلمين

٢- مشكلة إدمان المخدرات . (ص ١٢٦ / درجتان ويكتفي بنقطتين)
- ضعف الوازع الديني وانحدار القيم الأخلاقية .
- ضعف الرقابة من الاسرة على الفرد .
- رفاء السوء .

- التقليد الأعمى واستيراد قيم جديدة غريبة على مجتمعاتنا تتنافى مع مبادئ ديننا الحنيف .
- انتشار التدخين بين المتعلمين في المدارس .
- قضاء أوقات الفراغ في أمور تافهة لا تعود على الشباب بالنفع .



رابعاً: الأسئلة المقالية:

السؤال الرابع : ويتكون من (أ- ب- ج) :

أ- فرق بين كل مما يلي أسباب ونتائج التلوث الضوضائي: (ص ٨٧ / ٤ درجات)

نتائج التلوث الضوضائي	أسباب التلوث الضوضائي
- الضوضاء الشديدة تؤدي إلى ضرر خطير في الجهاز السمعي - التوتر العصبي لدى الإنسان.	- وسائل النقل السيارات بأنواعها والطائرات والقطارات - عمليات البناء والهدم وأصوات آلات الحفر.

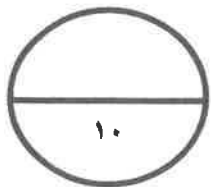
موقع
المناهج الكويتية
almanahj.com/kw

(ب) عدد ما يلي :

- ١- أهداف الصندوق الكويتي للتنمية
- تقديم القروض الميسرة للدول المحتاجة .
- تقديم المنح مثل المعونات الفنية .
- الإسهام في برامج التنمية .

ج- أكتب ما تعرفه عن : (٤ درجات / ويكتفى بنقطتين)

- ١- جهود المسلمين في الزراعة . (ص ٢٦ / درجتان)
- شق القنوات المائية والترع
- إقامة السدود
- تنظيم وسائل الري
٢- الآثار السلبية للتلوث المائي . (ص ٨٦ / درجتان)
- هلاك الكائنات البحرية الحيوانية والنباتية .
- فقدان السواحل لقيمتها الاقتصادية والسياحية .
- التأثير على صحة الإنسان لاعتمادها على الغذاء البحري.



"انتهت الأسئلة "
" مع تمنياتنا لكم بالتوفيق والنجاح "