

تم تحميل هذا الملف من موقع المناهج الكويتية



منطقة الأحمدية التعليمية

الملف نموذج أسئلة منطقة الأحمدية

موقع المناهج ← المناهج الكويتية ← الصف السابع ← اجتماعيات ← الفصل الأول

روابط مواقع التواصل الاجتماعي بحسب الصف السابع



روابط مواد الصف السابع على تلغرام

[الرياضيات](#)

[اللغة الانجليزية](#)

[اللغة العربية](#)

[التربية الاسلامية](#)

المزيد من الملفات بحسب الصف السابع والمادة اجتماعيات في الفصل الأول

<a href="#">كتاب الطالب في مادة الاجتماعيات للعام الدراسي 2018</a>	1
<a href="#">حل الوحدة الاولى في مادة الاجتماعيات</a>	2
<a href="#">تلخيص رائع في مادة الاجتماعيات</a>	3
<a href="#">حل الوحدة الثانية في مادة الاجتماعيات</a>	4
<a href="#">تلخيص ممتاز في مادة الاجتماعيات</a>	5

امتحان الفترة الدراسية الأولى  
لمقرر الكويت والوطن العربي  
للمصف السابع متوسط

أجب عن جميع الأسئلة

العام الدراسي: ٢٠٢٢/٢٠٢٣ م  
الزمن: ساعة و٥٥  
عدد اوراق: ( ٤ )

السؤال الأول: (موضوعي) يتكون من ( ا - ب - ج ) .

(أ) ظلل الخيار الصحيح من بين الخيارات التي تلي كل عبارة:

١. العام الذي انضمت فيه جزر القمر لجامعة الدول العربية:	١٩٩٠م	١٩٩١م	١٩٩٢م	١٩٩٣م
٢. تمثل مساحة الوطن العربي من جملة مساحة العالم حوالي:	١٠%	١٥%	٢٠%	٢٥%
٣. الدولة العربية التي تشرف على قناة السويس:	السودان	المغرب	سوريا	قطر
٤. أكثر الدول العربية إنتاجاً للمياه المحلاة في الوطن العربي:	سوريا	الكويت	السعودية	عند
٥. عاصمة حضارة حمير:	مارب	مبا	ريدان	عند

(ب) أكمل العبارات التالية بما يناسبها:

- المسطح المائي الذي يحد الوطن العربي من جهة الشمال يسمى .....
- مسطح مائي تحيط به اليابسة من جميع الاتجاهات يسمى .....
- الملك البابلي الذي ظهرت في عهده شرائع قانونية قديمة اسمه .....
- الدولة العربية التي قامت فيها حضارة دلمون اسمها .....
- النبي الذي نزلت عليه الديانة المسيحية اسمه .....

(ج) صنف الكلمات التالية إلى مكانها الصحيح في الجدول التالي:

( الخماسين - القبلي - الهبوب - الشرقية - الطوز )

ليبيا	مصر	السعودية	العراق	السودان

درجة السؤال الأول بالحروف .....

السؤال الثاني: (موضوعي) يتكون من (أ - ب - ج).

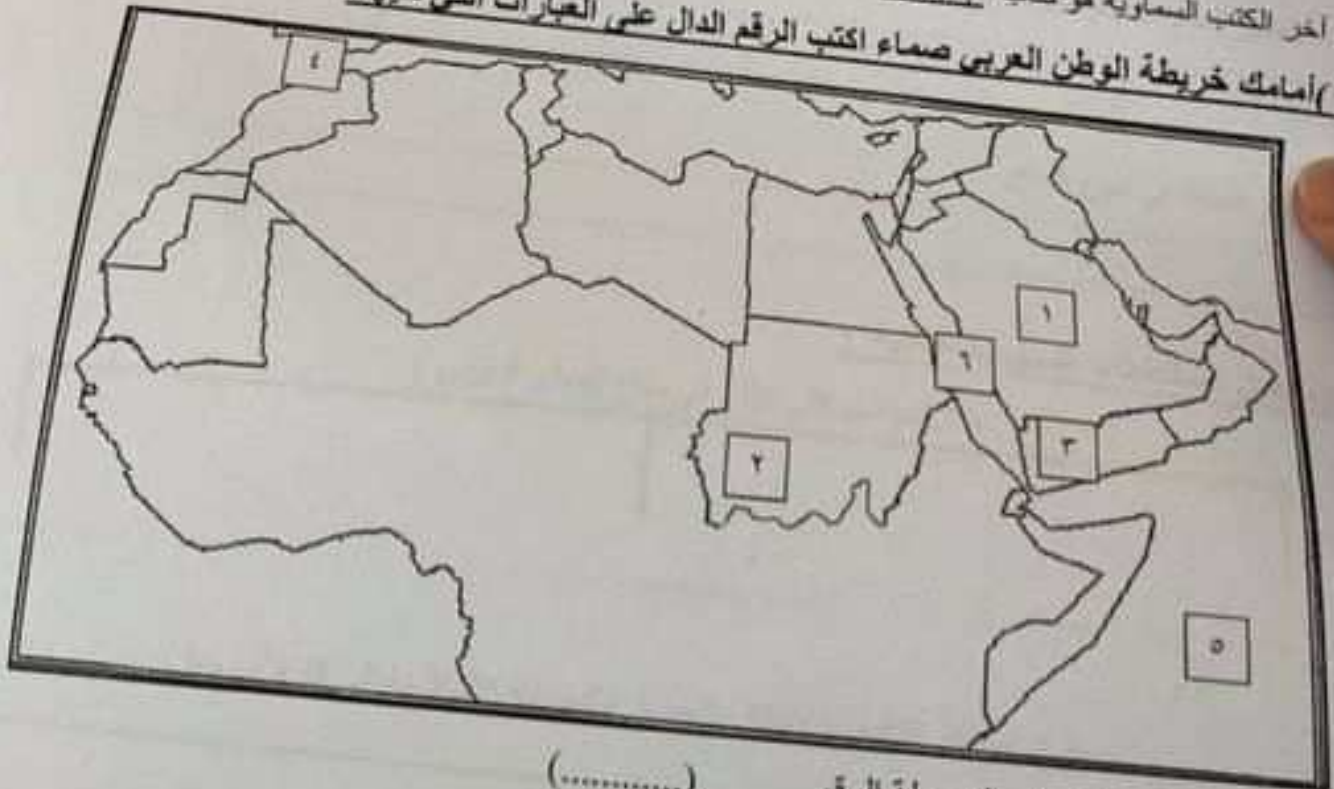
(أ) أكتب المفاهيم أو المصطلحات الدالة على العبارات التالية:

١. مياه توجد في جوف الأرض (باطن الأرض) (.....)
٢. نقطة من الكرة الأرضية يتحدد موقعها بخطوط الطول ودوائر العرض. (.....)
٣. وزن الهواء فوق أي مكان. (.....)
٤. كل ما ارتفع عن الأرض وله قمة ولا يقل ارتفاعه عن ١٠٠٠ متر. (.....)
٥. النبات الذي ينمو تلقائياً عقب سقوط المطر دون تدخل من الإنسان. (.....)

(ب) صحح ما تحته خط بكتابة الإجابة الصحيحة ما بين الأقواس:

١. يعتقد الوطن العربي في قارتي آسيا و أوروبا (.....)
٢. المحطة التي أنشأت لتحلية مياه البحر في دولة الكويت عام ١٩٥٣م اسمها الجهراء (.....)
٣. الدولة العربية التي تقع فيها جبال الحجاز اسمها عنان (.....)
٤. الكتابة التي عرف السومريون بها تسمى الأبجدية (.....)
٥. آخر الكتب السماوية هو كتاب الإنجيل (.....)

(ج) أمامك خريطة الوطن العربي صماء اكتب الرقم الدال على العبارات التي تليها:



- ١ - جبل مرة يمثلها على الخريطة الرقم (.....)
- ٢ - مضيق جبل طارق يمثلها على الخريطة الرقم (.....)
- ٣ - هضبة نجد يمثلها على الخريطة الرقم (.....)
- ٤ - حضارة بلاد اليمن يمثلها على الخريطة الرقم (.....)
- ٥ - البحر الأحمر يمثلها على الخريطة الرقم (.....)

درجة السؤال الثاني بالحروف .....

السؤال الثالث: (مقالى) يتكون من (أ - ب - ج).

(أ) عرف المفاهيم أو المصطلحات التالية:

١. السهول :
٢. الحضارة :
٣. المقصود :
٤. الأفلاج :
٥. المضيق :

(ب) علل لما يلي:

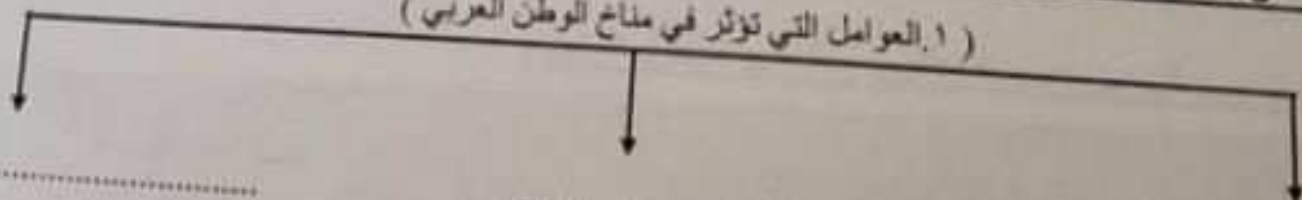
١. المدن الساحلية أكثر اعتدالاً في المناخ صيفاً.

٢. الأهمية الجغرافية للوطن العربي.


٣. يؤثر النبات في تنوع المناخ.

(ج) أكمل المخططات السهمية التالية :

١. العوامل التي تؤثر في مناخ الوطن العربي



٢. مراكز الإشعاع لانتقال الحضارة العربية الإسلامية إلى قارة أوروبا



درجة السؤال الثالث بالعرف

