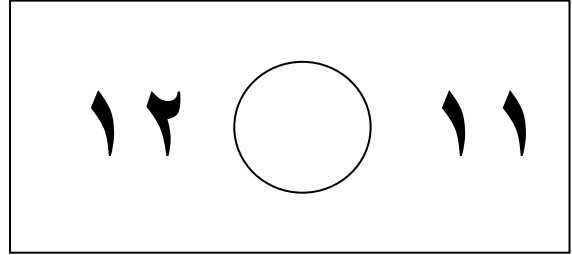


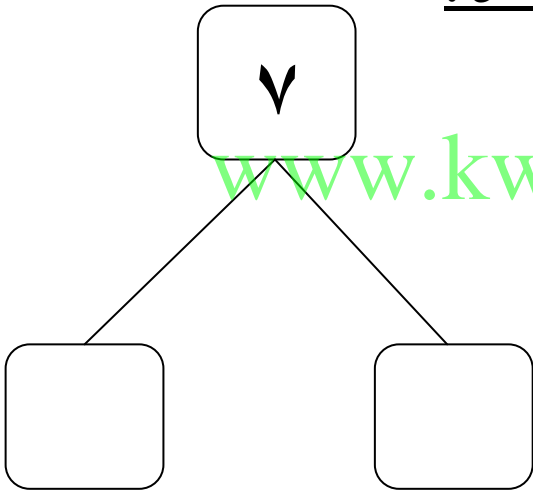
الاسم: _____ الصف: ١ / _____

السؤال الأول :

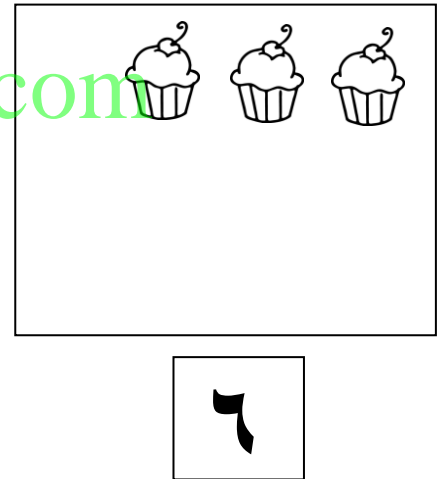
- اكتب رمز العلاقة المناسب < ، > ، = .



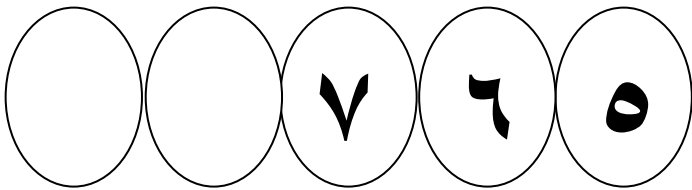
- اكمل :



- استكمل رسم العناصر بحسب
العدد الموضح رمزه.




- اكمل :



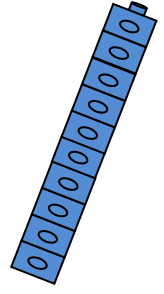
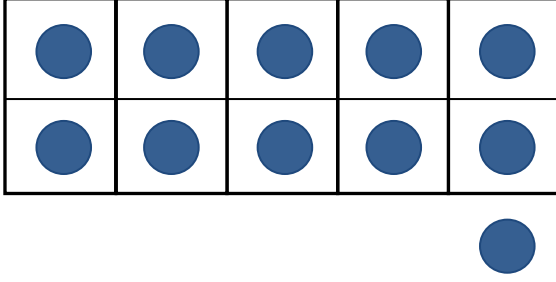
السؤال الثاني :

- حو ط رمز العدد المناسب .



١٢ ٩ ٣

-اكتب رمز العدد الممثل .



مديرة المدرسة : أ. نوال العازمي

رئيسة القسم: أ. سعاد الجدي

www.kwedufiles.com