

نموذج إجابة

العام الدراسي: ٢٠٢٣ - ٢٠٢٤ م
الزمن: ساعة وخمس وأربعون دقيقة
عدد الصفحات: ٥

امتحان نهاية الفترة الدراسية الثانية
لمقرر دولة الكويت والعالم الإسلامي
للصف الثامن المتوسط

وزارة التربية
الإدارة العامة للتعليم الخاص
التوجيه الفني للاجتماعيات


أجب على جميع الأسئلة:

السؤال الأول: موضوعي ويتكون من (أ - ب - ج) :

(١ × ٥ = ٥ درجات)

أ- ضع خطاً تحت الخيار الصحيح من بين الخيارات التي تلي كل عبارة:

١- حاكم عربي دعا لإنشاء تجمع يضم الدول الإسلامية عام ١٩٦٥ م : ص ١٣٧



(د)

(ج)

(ب)

(أ)

المناهج التحميل من شبكة ياكويت التعليمية
www.almanhaj.com/kw



Telegram:
ykuwait_net_home

٢- العام الذي اندلعت فيه الحروب الأهلية في الصومال مسببة موجات في الجفاف والمجاعة : ص ١١٧

(١٩٩١م - ١٩٩٢م - ١٩٩٣م - ١٩٩٤م)

٣- طاقة استخدمت في دولة الكويت لتشغيل أول محطة كهرباء عام ٢٠١٧ م : ص ٩٣

(المائية - الشمسية - الهوائية - النفطية)

٤- معسكراً كان مركزاً لاعتقال وتعذيب المدنيين البوسنيين والكروات : ص ١١٦

(أبو غريب - جوانتنامو - كامب - أومارسكا)

٥- رقم قرار مجلس الأمن الخاص بترسيم الحدود بين دولة الكويت والعراق عام ١٩٩٣ م : ص ١٠٤

(٨٣٣ - ٨٣٤ - ٨٣٥ - ٨٣٦)

(١ × ٥ = ٥ درجات)

ب- صنف العبارات التالية حسب مكانها المناسب في الجدول الذي يليها :

بيت الزكاة - غرفة التجارة وصناعة الكويت - جمعية الهلال الأحمر

الصندوق الكويتي - الجمعيات واللجان الخيرية ص ١٥٩

القطاع الحكومي (ثلاث درجات)	القطاع الأهلي (درجتين)
- بيت الزكاة . - جمعية الهلال الأحمر . - الصندوق الكويتي .	- غرفة التجارة وصناعة الكويت . - الجمعيات واللجان الخيرية .

(١ × ٥ = ٥ درجات)

تابع/ السؤال الأول :

ج- ظلل العبارة التي لا تنتمي للمجموعة في كل مما يلي :

رفاق السوء	انتشار التدخين
أسباب الإدمان على المخدرات ص ١٢٦	
ضعف الوازع الديني	تضخم أسعار السلع

مساعدات عسكرية	مساعدات صحية
نطاق عمل الصندوق الكويتي للتنمية ص ١٥٩	
مساعدات زراعية	مساعدات تعليمية

ارتفاع المستوى المعيشي	الطلاق
المشاكل الناتجة عن الانفجار السكاني ص ٩٥	
المخدرات	الجريمة

مجمع الفقه الإسلامي	البنك الإسلامي للتنمية
منظمات ومؤسسات إسلامية ص ١٤٥	
ايسيسكو	اليونيسكو

أفريقيا	آسيا
قارات تتواجد ضمنها دول العالم الإسلامي ص ١٣٧	
استراليا	أوروبا

تم التحميل من شبكة ياكويت التعليمية



Telegram:
ykuwait_net_home

تابع/ امتحان نهاية الفترة الدراسية الثانية/ مقرر دولة الكويت والعالم الإسلامي /الصف الثامن المتوسط / العام الدراسي ٢٠٢٣ - ٢٠٢٤ م
السؤال الثاني: موضوعي ويتكون من (أ - ب - ج) :

أ- اكتب المفاهيم والمصطلحات الدالة على العبارات التالية:

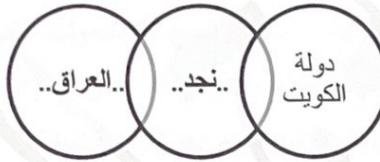
(١ × ٥ = ٥ درجات)

١	البلدان النامية	الدول التي مازالت أقل تقدماً في ميادين الاقتصاد والعلم والتكنولوجيا. ص ١٠٠
٢	خط الفقر	أدنى مستوى من الدخل يحتاجه المرء أو الأسرة حتى يكون بالإمكان توفير مستوى معيشة ملائم في بلد ما . ص ٩٧
٣	الحدود	خطوط حددت بواسطة الإنسان ورسمت حتى تفصل بين سيادة دولة ودولة أخرى. ص ١٠٢
٤	التنمية المستدامة	عبارة عن برامج تحسين نوعية الحياة ولا تتحقق إلا بمشاركة جميع المواطنين من أجل تحسين نوعية الحياة وفق بيئة صحية آمنة ومستقرة ومتقدمة. ص ٩٣
٥	التدوير	إعادة استخدام المخلفات لإنتاج منتجات أخرى أقل جودة من المنتج الأصلي. ص ٩١

ب- اكمل الأشكال التالية بما يناسبها مما درست :

(١ × ٥ = ٥ درجات)

١- الدول الأطراف في مؤتمر العقير : ص ١٠٣



٢- أجهزة منظمة التعاون الإسلامي (الهيكل التنظيمي) : ص ١٤١



ج- صوب ما تحته خط في العبارات التالية:

(١ × ٥ = ٥ درجات)

م	العبارات	التصويب
١	أبار النفط الكويتية التي احرقها المحتل العراقي حوالي ٦٣٦ بنزاً. ص ١٢٠	.. ٧٣٧ ..
٢	وقعت دولة فلسطين تحت حكم الانتداب الفرنسي. ص ١٠٧	..البريطاني..
٣	العام الذي عقدت في اتفاقية الحماية بين دولة الكويت وبريطانيا هو ١٨٩٠ م. ص ١٠٦	..١٨٩٩ م..
٤	الحاكم العربي صاحب الموقف التاريخي في مؤتمر القمة العربية عام ٢٠٠٩ م هو الملك <u>فهد بن عبدالعزيز</u> . ص ١٠٨	..عبدالله بن عبدالعزيز..
٥	الدولة الأعلى معدلاً في محو الأمية هي <u>أنريجان</u> . ص ١٢٩	..كازاخستان..

تم التحميل من شبكة ياكويت التعليمية



Telegram:
ykuwait_net_home

أ- قارن بين كل من حسب المطلوب منك في الجدول التالي: (١ × ٤ = ٤ درجات)

أوجه المقارنة	الأمية في الدول النامية (الإسلامية)	الأمية في الدول المتقدمة
١- التعريف ص ١٢٨	- الإنسان الذي بلغ الثانية عشرة من عمره ولم يتعلم مبادئ القراءة والكتابة والحساب بلغة ما .	- الشخص الذي لم يصل إلى المستوى التعليمي الذي يجعله يفهم التعليمات الكتابية في موضوعات التقنية في عمله.
٢- الأمثلة (يكتفى بنقطة) ص ١٢٩	- سيراليون/كازاخستان/اندونيسيا - سورينام/تركيا/النيجر - اليمن/أذربيجان - (أي دولة من دول العالم الاسلامي)	- اليابان - (أي دولة من دول العالم المتقدمة)

ب- اكتب فيما يلي مما درست :

موقع
(٦ درجات) الكويتية
almanahj.com/kw

١- أهداف الصندوق الكويتي للتنمية الاقتصادية . ص ١٥٩ (يكتفى بنقطتين/درجتان)

- تقديم القروض الميسرة للدول المحتاجة . - تقديم المنح مثل المعونات الفنية - الاسهام في برامج التنمية.

٢- الدور الكبير لدولة الكويت في مواجهة تحديات البيئة . ص ٨٢ (يكتفى بنقطتين/درجتان)

- انشاء مجلس حماية البيئة - إصدار قانون إنشاء الهيئة العامة للبيئة .

- إصدار قانون حماية البيئة . - إنشاء شرطة البيئة .

٣- مهام وكالة الأنباء الإسلامية الدولية (إينا) . ص ١٤٧ (يكتفى بنقطتين/درجتان)

- تغطية الشعائر الدينية - التواصل بين الشعوب الإسلامية كافة

- تحسين الرأي العام العالمي في عدالة الإسلام ومنهجيته المعتدلة في ظل حملات التشويه الموجهة نحو الإسلام.

ج- علل لما يلي :

(٥ درجات)

١- انشاء منظمة التعاون الإسلامي. ص ١٣٨ (درجة)

- بسبب قيام المحتل الصهيوني الإسرائيلي بإحراق المسجد الأقصى عام ١٩٦٩م والذي يعد أحد مقدسات المسلمين .

٢- انتشار مشكلة الفقر في دول العالم الإسلامي . ص ٩٨ (يكتفى بنقطتين / درجتان)

- ضعف اقتصاد الدولة - عدم توفر فرص العمل - تضخم أسعار السلع والخدمات

- قلة التبرعات والصدقات في المجتمع - انتشار البطالة .

٣- زيادة عدد السكان في دول العالم الإسلامي. ص ٩٥ (درجتان)

- الزيادة الطبيعية.

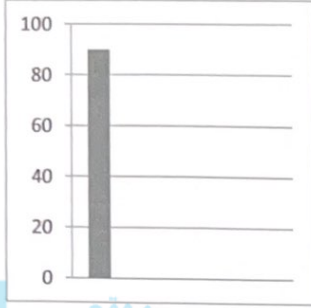
- الزيادة الغير طبيعية.



السؤال الرابع : مقالتي ويتكون من (أ - ب - ج) :

أ- **اقرأ الفقرة التالية ثم أجب عما يليها من أسئلة :** ص ٨٨-٨٩ (٤ درجات)

تعتبر التربة عنصراً مهماً من عناصر البيئة الطبيعية التي تعرضت للتلوث من خلال الأنشطة المختلفة في الزراعة مثل الإفراط في استخدام المبيدات الحشرية على المزروعات النباتية، الذي أدى بدوره إلى تدهور التربة وانحسار الغطاء النباتي مما سبب مشكلة **التصحّر** الذي تعاني منه الدول الخليجية عدا سلطنة عمان حيث وصلت نسبة التصحر إلى حوالي ٩٠%.



١- عرف ما تحته خط : (درجة)

..زحف الرمال الصحراء على المناطق الجافة وشبه جافة.....

٢- ما هي أسباب تلوث التربة ؟ (يكتفى بنقطتين/درجتان)

- الإفراط في استخدام المبيدات الحشرية على المزروعات النباتية .

- الأمطار الحمضية . - التلوث الإشعاعي الناتج عن الحروب .

- المخلفات الصناعية والكيميائية والبشرية (النفايات) .

٣- حول نسبة تصحر الدول الخليجية إلى عمود بياني . (درجة)

ب- **عدد نقطتين لكل مما يلي :**

١- أهم قرارات المؤتمر الإسلامي الخامس . ص ١٤٣ (درجتان)

- دعم القضية الفلسطينية .

- ضرورة الوقف الفوري لكل العمليات الحربية بين العراق وايران .

- الحرص التام على استقلال لبنان ووحدة أراضيه ورفض الاحتلال الإسرائيلي للجزء الجنوبي منه .

٢- أسباب التلوث الضوضائي . ص ٨٧ (درجتان)

- وسائل النقل : السيارات بأنواعها المختلفة ، الطائرات ، القطارات وغيرها .

- عمليات البناء والهدم وأصوات آلات الحفر .

٣- نتائج الاحتباس الحراري . ص ٩٠ (درجتان)

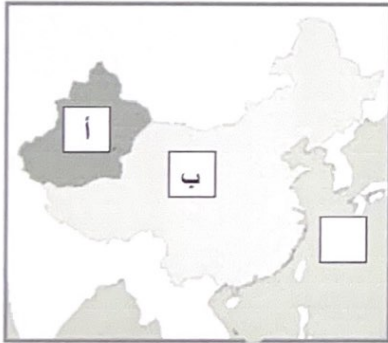
- ارتفاع تدريجي في معدل درجات الحرارة

- ذوبان الجليد عن القطبين الشمالي والجنوبي

- تكون الأعاصير .

- غرق مناطق كثيرة من العالم .

ج- **لاحظ خريطة منطقة الأقلية الإسلامية في جمهورية الصين الصماء ، ثم أجب عما يليها من أسئلة :** ص ١١٣ (٥ درجات)



١- ضع الحرف (أ) على إقليم شينجيانج اوريغور . درجة

٢- ضع الحرف (ب) على جمهورية الصين الشعبية . درجة

٣- ما المقصود بالأقليات الإسلامية ؟ ص ١١٢ درجة

..مجموعة من المسلمين تعيش تحت سلطة دولة غير مسلمة وسط أغلبية

غير مسلمة.....

٣- ماهي التحديات التي تواجه الأقليات الإسلامية حول العالم ؟

ص ١١٤ (يكتفى بنقطتين) درجتين

- سوء الظروف الاجتماعية والمادية التي يعيش بها معظم الجاليات المسلمة نتيجة

تدني الأجور أو عدم وجود فرص عمل مستقرة .

- انخفاض المستوى التعليمي نتيجة لسوء الأحوال الاجتماعية والمادية .

- الحفاظ على الهوية الإسلامية في ظل عادات وتقاليد المجتمعات الغربية ومناهجها التعليمية .

- مواجهة العديد من المسلمين تمييزاً في العمل منذ أحداث ١١/سبتمبر/٢٠٠١ م .

- فرض بعض الدول بشكل تدريجي المزيد من القيود على المسلمين في حرية ممارستهم لشعائرهم الدينية الإسلامية .

(٥)

انتهت الأسئلة،،،

شبكة
الكويتية
almanahj.com/kw
تم التحميل من شبكة الكويت التعليمية
Telegram:
ykuwait_net_home