

تم تحميل هذا الملف من موقع المناهج الكويتية



الراوي

الملف اختبار قصير للوحدة الثالثة (الموارد الاقتصادية لدول الخليج العربي)

[موقع المناهج](#) ← [المناهج الكويتية](#) ← [الصف السادس](#) ← [اجتماعيات](#) ← [الفصل الثاني](#)

روابط مواقع التواصل الاجتماعي بحسب الصف السادس



روابط مواد الصف السادس على تلغرام

[الرياضيات](#)

[اللغة الانجليزية](#)

[اللغة العربية](#)

[التربية الاسلامية](#)

المزيد من الملفات بحسب الصف السادس والمادة اجتماعيات في الفصل الثاني

<a href="#">مراجعة</a>	1
<a href="#">مراجعة</a>	2
<a href="#">مراجعة</a>	3
<a href="#">مذكرة في مادة الاجتماعيات</a>	4
<a href="#">مراجعة محلولة ومفيدة في مادة الاجتماعيات</a>	5

# مراجعة الاختبار القصير



الاجتماعيات

٢٠٢٢ - ٢٠٢٣

الصف السادس

الفصل الدراسي الثاني

## الوحدة الثالثة

### أ / الموارد الاقتصادية لدول الخليج العربية

من ص ٨٧

الى ص ٩٨



أ - الثروة النفطية:

١\_ اكتشاف النفط ٢\_ انتاج النفط

أ - أكمل العبارات التالية:

١. أول حقل نفطي في دولة الكويت اسمه ..... بحره
٢. العام الذي بدأ فيه التنقيب عن النفط في دولة الكويت ..... ١٩٣٤ م
٣. اكتشفت كميات ضخمة من النفط في حقل اسمه ..... برقان

ب - عرف التالي: أو فرق بين من حيث المفهوم

كميات النفط التي يتم استخراجها للاستفادة منها	<u>انتاج النفط</u>
كميات النفط المخزونة في باطن الأرض	<u>احتياط النفط</u>

ج - علل (اذكر السبب)

١/ اتجهت عمليات التنقيب على النفط في دولة الكويت إلى الجنوب؟

ج/ لان كميات النفط في الشمال قليلة

ص ٨٩

٢/ للتنوع الاقتصادي أهمية في دول الخليج العربية؟

/ البحث عن مصادر جديدة وبديلة

ج/ الحاجة الى التقليل من الاعتماد على النفط

للاقتصاد والطاقة

د - لاحظ الجدول الذي أمامك ثم أجب : ص ٨٨

١/ الدولة الأولى في نسبة إنتاج النفط لشهر أغسطس ٢٠٠٨ م اسمها..... السعودية

٢/ الدولة الأقل في نسبة إنتاج النفط لشهر أغسطس ٢٠٠٨ م اسمها..... قطر

حول الجدول إلى رسم بياني



نسبة إنتاج بعد دول مجلس التعاون الخليجي عام ٢٠٠٨ م	
الدولة	نسبة إنتاج النفط لشهر أغسطس ٢٠٠٨ م
الكويت	٨%
السعودية	٢٩%
الإمارات	٨%
قطر	٦%

## أ - الثروة النفطية

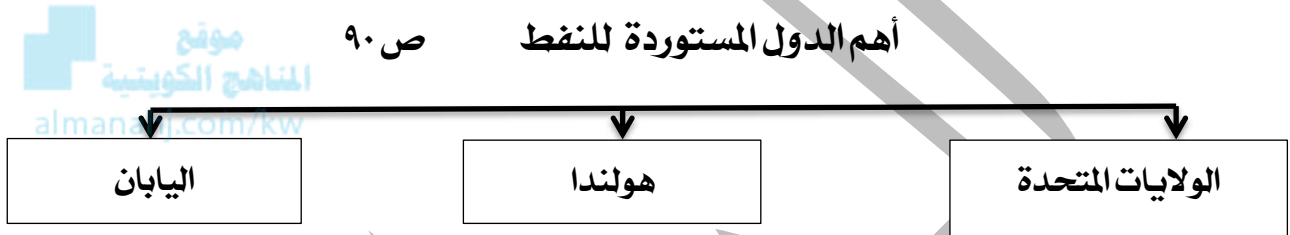
## ٣ - تصدير النفط من ص ٩٠ - ص ٩١

١ / أكمل العبارات التالية بما يناسبها فيما درست :

١ / العام الذي تم فيه إصدار أول شحنة من النفط..... ١٩٤٦ م

٢ / الشيخ الذي أصدر فيه عهده أول شحنة من النفط اسمه..... أحمد الجابر

٢ / أكمل المخططات السهمية التالية :



٣ / علل ( اذكر السبب ) :

١ / ظهور الحاجة الى إقامة العديد من الموانئ النفطية في دول الخليج العربية ؟ ص ٩٠

أ - تزايد إنتاج النفط ب - تزايد الطلب العالمي

٢ / لا يتم تصدير جميع الإنتاج من النفط للخارج ؟ ص ٩٠

للاحتفاظ بجزء منه كاحتياطي للأجيال القادمة

٣ / انتعاش الموانئ التجارية في دول الخليج العربية ؟ ص ٩٠

بسبب الصادرات والواردات بين دول الخليج العربية ودول العالم

٤ / أكمل الحدث المرتبط بالصورة : ص ٩٠



أحمد الجابر	اسم الشيخ
إصدار أول شحنة نفط	الحدث
١٩٤٦	العام

## ٥ / فرق بين كل من الواردات والصادرات من حيث المفهوم: ص ٨٨

الواردات	الصادرات
البضائع والسلع التي تشتريها دولنا من الخارج	السلع والمنتجات التي تبيعها دولنا في الخارج

## ٦ / حدد على الخريطة المعلومات التالية:



الدولة	حقل النفط	مينه التصدير
١- الإمارات	مريان	جبل الظنة
٢- البحرين	عوالي	سترة
٣- السعودية	الغوار	رأس تنورة
٤- عمان	ناطح	الفحل
٥- قطر	دخان	إمسعيد
٦- الكويت	برقان	الأحمدي

## ب - الموارد الزراعية

من ص ٩٢

الى ص ٩٤

١ / أكمل العبارات التالية بما يناسبها فيما درست :

١ - نجحت المملكة العربية السعودية في زراعة وإنتاج محصول زراعي اسمه القمح

٢ - الدولة الخليجية التي نجحت في زراعة وإنتاج محصول القمح اسمها المملكة العربية السعودية

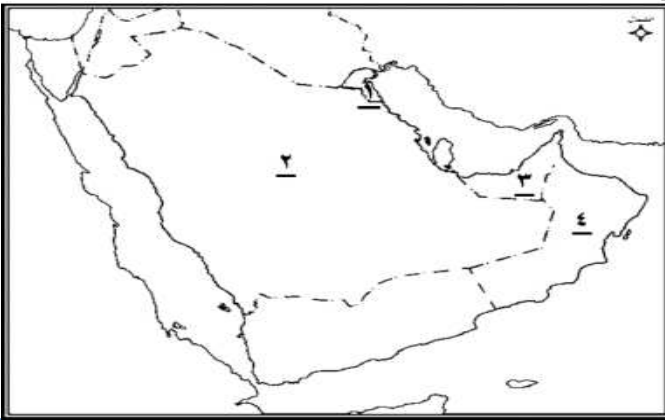


٢ / عرف المفاهيم المصطلحات التالية :

**الزراعة بدون تربة** : هي الزراعة التي تتم في بيئة مائية أو رملية أو حصى أو نشارة خشب تضاف إليها المحاليل الزراعية

**بيوت بلاستيكية** : يزرع فيها الخضروات في غير مواسمها وتقوم بحماية المحاصيل من تقلبات الطقس

٣ / حدد على الخريطة المعلومات التالية :



الدولة	المناطق الزراعية ص ٩٣
الكويت	العبدلي والوفرة
السعودية	الإحسد وسهل تهامة
الإمارات	العين وليوا
عمان	سهل الباطنة وصلالة

٤ / لاحظ الصور ثم أجب عن الاسئلة التالية

١ - الصورة التي تمثل الزراعة بدون تربة تحمل الرقم ..... (١)

٢ - الصورة التي تمثل الزراعة في البيوت البلاستيكية تحمل الرقم ..... (٢)





من ص ٩٥

الى ص ٩٩

## ج - الموارد الصناعية د - الموارد التجارية

١ / أكمل العبارات التالية بما يناسبها فيما درست :

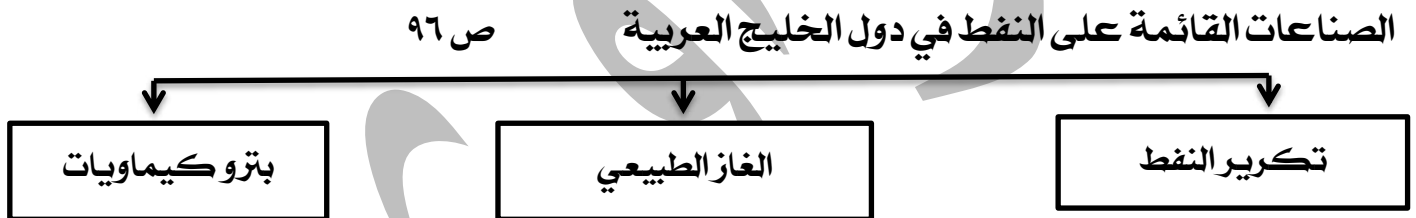
١ - من أهم الصناعات بمدينة صحار في دولة عمان صناعة اسمها..... النحاس٢ - من أهم الصناعات بمدينة الرياض في المملكة العربية السعودية صناعة اسمها..... تكسير النفط

موقع  
المناهج الكويتية  
almanahj.com/kw

٢ / عرف المفاهيم والمصطلحات التالية :

الصناعة ص ٩٥	تحويل المواد الخام الى مواد يمكن الاستفادة منها
الدخل القومي ص ٩٥	هو مجموعة الدخل التي تحصل عليها الدولة خلال عام

٣ / أكمل المخططات السهمية التالية :



٤ / علل ( اذكر السبب ) :

١ - تزدهر الصناعة في دول الخليج العربي . ص ٩٥

ج / نتيجة لاكتشاف النفط وتصديره مما يؤدي الى زيادة الدخل القومي

٢ - اهتمام حكومات دول الخليج العربية بالتوسع في صناعة تكرير النفط .

ج / لزيادة الدخل القومي - زيادة الكميات المصدرة



الدولة	الكويت	السعودية	البحرين	قطر	الإمارات	عمان
المناطق الصناعية	الشعبية	الجبيل / الرياض / ينبع	شمال سترة	إمسييد	الرويس / جبل علي	الفحل / صحار

٦ / لاحظ خريطة شبه الجزيرة العربية الصملم ثم أجب عما يليها من أسئلة :



- منطقة الشعبية يمثلها على الخريطة الرقم... (٦)
- منطقة الفحل يمثلها على الخريطة الرقم... (٤)
- منطقة الرياض يمثلها على الخريطة الرقم... (٣)

٧ / عرف المفاهيم والمصطلحات التالية :

- الصادرات : السلع والمنتجات التي تبيعها دولنا في الخارج
- الواردات : البضائع والسلع التي تشتريها دول من الخارج
- الترانزيت : إعادة تصدير البضائع المستوردة

أطيب التمنيات بالتوفيق ...