

تم تحميل هذا الملف من موقع المناهج الكويتية



منطقة الجهراء التعليمية

الملف نموذج إجابة منطقة الجهراء التعليمية

موقع المناهج ← المناهج الكويتية ← الصف السابع ← اجتماعيات ← الفصل الثاني

روابط مواقع التواصل الاجتماعي بحسب الصف السابع



روابط مواد الصف السابع على تلغرام

[الرياضيات](#)

[اللغة الانجليزية](#)

[اللغة العربية](#)

[التربية الاسلامية](#)

المزيد من الملفات بحسب الصف السابع والمادة اجتماعيات في الفصل الثاني

<a href="#">مذكرة موضوعية محلولة</a>	1
<a href="#">حل الكتاب</a>	2
<a href="#">حل الوحدة الرابعة في مادة الاجتماعيات</a>	3
<a href="#">بنك اسئلة التربية سابع</a>	4
<a href="#">مراجعات الصف السابع</a>	5



وزارة التربية  
الإدارة العامة لمنطقة الجهاد التعليمية  
التوجيه الفني للاجتماعيات

امتحان الفترة الدراسية الثانية  
لمقرر الكويت والوطن العربي  
للمستوى السابع المتوسط  
نموذج الإجابة

العام الدراسي: ٢٠٢٣م / ٢٠٢٤م  
الزمن: ساعة وخمسة وأربعون  
عدد الأوراق: ٦

أجب عن جميع الأسئلة

- السؤال الأول (موضوعي) يتكون من (أ - ب - ج - د - هـ - و):

(أ) - ضع خطأً تحت الخيار الصحيح من بين الخيارات التي تلي كل عبارة: ٥ درجات (درجة لكل نقطة)

- موريتانيا

المناهج الكويتية

almanahj.com/kw

- ١٩٦٤م

١- أكثر الدول العربية سكاناً حسب إحصائية عام ٢٠١٤ م: ص ١٠٠  
الجزائر - مصر - العراق

٢- العام الذي تأسس فيه الصندوق الكويتي للتنمية الاقتصادية العربية: ص ١٧٩  
١٩٦١م - ١٩٦٢م - ١٩٦٣م - ١٩٦٤م

٣- تحتل الصومال المرتبة الأولى عربياً في إنتاج: ص ١١٨  
الأبقار - الإبل - الماعز - الأغنام

٤- نسبة المساحة المزروعة في الوطن العربي من المساحة القابلة للزراعة تبلغ حوالي: ص ١١٦  
٥٣% - ٥٤% - ٥٥% - ٥٦%

٥- الغاز الناتج عن عوادم السيارات ويؤدي إلى ارتفاع متزايد في درجة حرارة الأرض: ص ١٦٩  
الأوكسجين - الهيدروجين - أكسيد الكربون - النيتروجين

(ب) - صوب ما تحته خط في العبارات التالية بكتابة الإجابة الصحيحة: ٥ درجات (درجة لكل نقطة)

م	العبارة	التصويب
١	عقد مؤتمر قمة الأرض في مدينة ريودي جانيرو عام <u>١٩٩٥م</u> . ص ١٦٧	١٩٩٢م
٢	الدولة العربية الوحيدة في إنتاج البن <u>العراق</u> . ص ١١٤	اليمن
٣	يبلغ عدد الدول في الوطن العربي حوالي <u>٢٤ دولة</u> . ص ٩٩	٢٢ دولة
٤	الدولة العربية الأولى في إنتاج الغاز الطبيعي حسب إحصاء ٢٠١٤م <u>البحرين</u> . ص ١٢٩	قطر
٥	الطبقة التي تحمي الأرض من الإشعاعات فوق البنفسجية الضارة تسمى <u>التروبوسفير</u> . ص ١٦٨	الأوزون

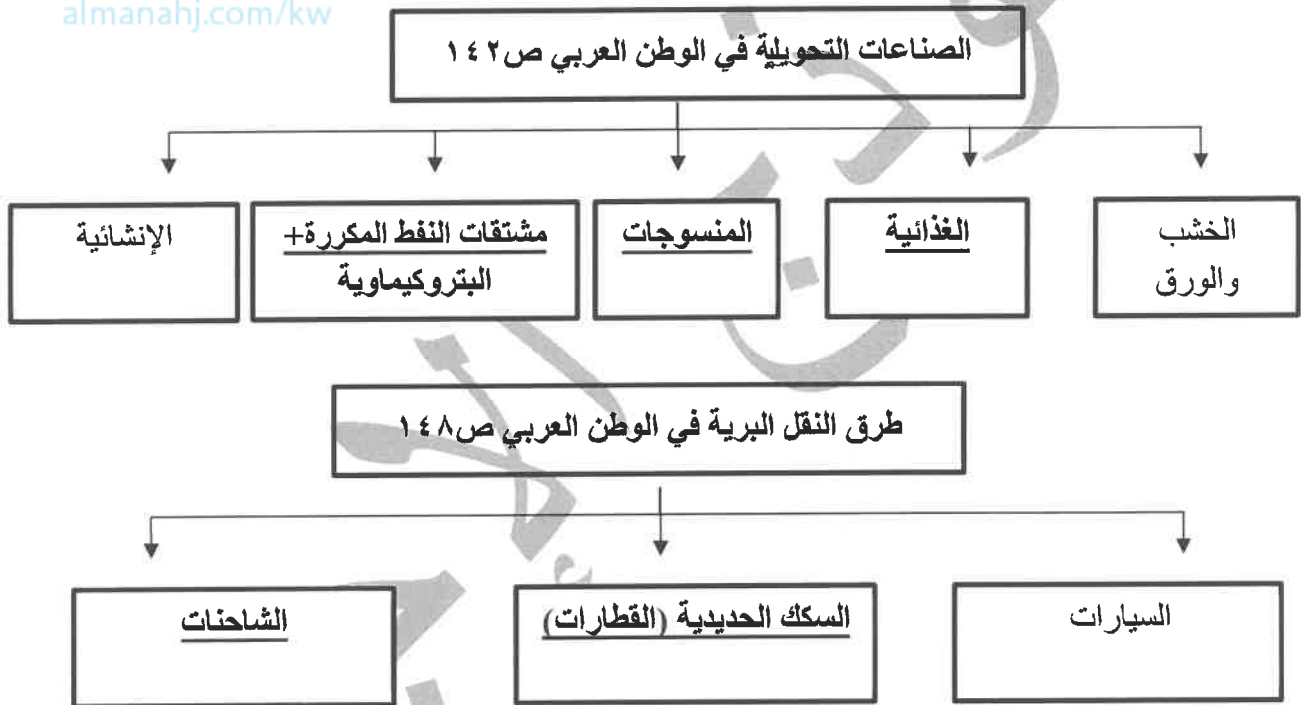
**تابع / السؤال الأول موضوعي :**

(ج)- **أكمل العبارات التالية بما يناسبها:** ٥ درجات (درجة لكل نقطة)

- ١- الحاكم العربي صاحب مبادرة عقد المؤتمر الأول لمانحي سورية أسمه الشيخ صباح الأحمد الصباح . ص ١٨٨
- ٢- القارة التي يتوزع بها ٧٠٪ من نسبة سكان الوطن العربي تسمى أفريقيا . ص ٩٩
- ٣- الدولة العربية الأولى في إنتاج التمور تسمى السعودية . ص ١١٤
- ٤- نسبة عدد السكان الكلي في دولة ما أو منطقة ما إلى المساحة الكلية لهذه الدولة أو المنطقة تسمى الكثافة السكانية ص ١٠٢
- ٥- برامج تحسين نوعية الحياة، ولا تتحقق إلا بمشاركة جميع المواطنين تسمى التنمية المستدامة ص ١٧٥



(د)- **أكمل المخططات السهمية التالية:** ٥ درجات (درجة لكل نقطة)



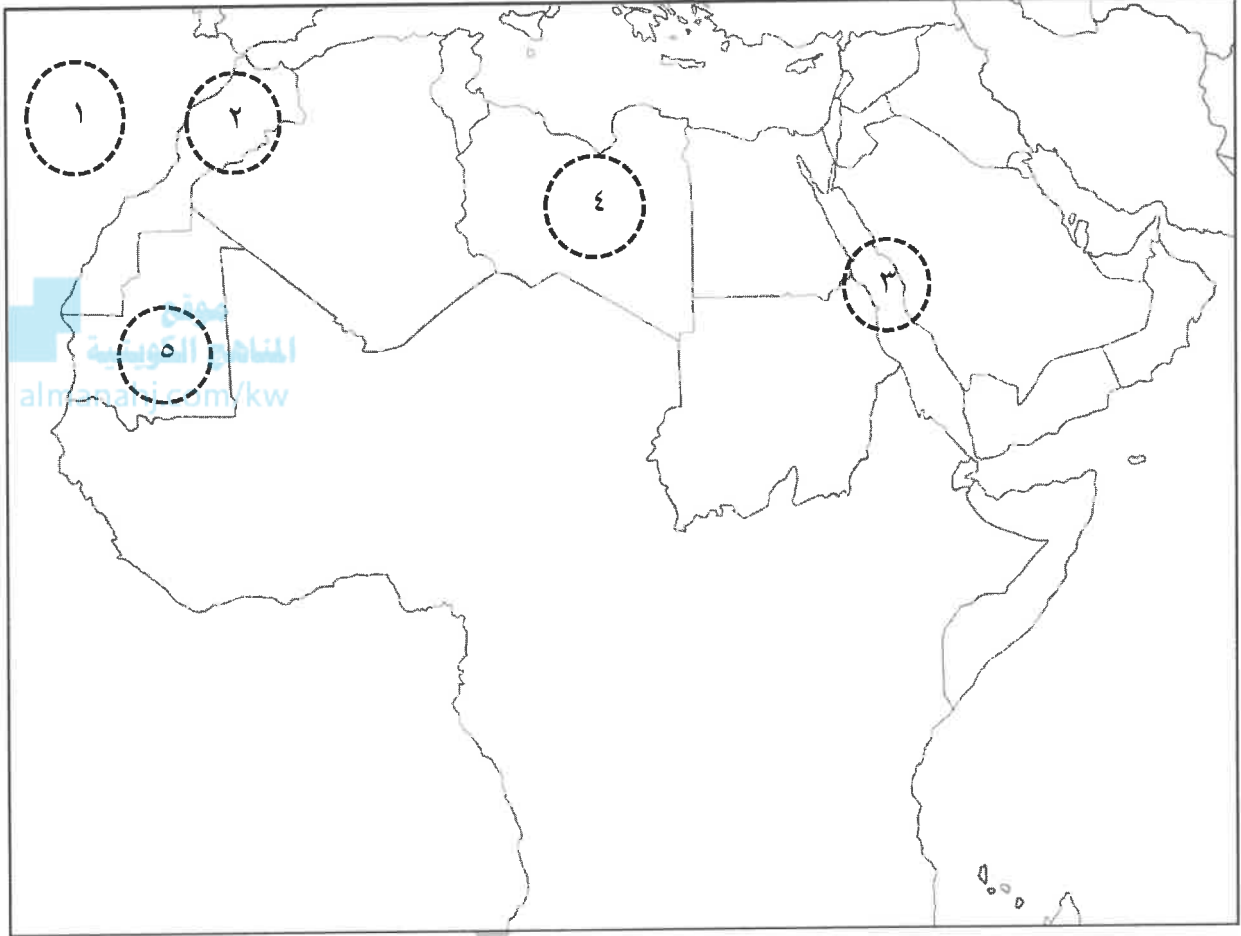
(هـ)- **صنف مقومات الصناعة الطبيعية في مكانها المناسب في الجدول الذي يليها:** ٦ درجات (درجة لكل نقطة)

( معدنية – البترول – غاز طبيعي – نباتية – حيوانية – كهرومائية ) ص ١٣٩

المواد الخام	الطاقة
- معدنية	- البترول
- نباتية	- غاز طبيعي
- حيوانية	- كهرومائية

تابع / السؤال الأول موضوعي:

(و) - لاحظ خريطة الوطن العربي ثم اكتب مدلولات الأرقام على العبارات التالية: ٤ درجات (درجة لكل نقطة)



- الدولة العربية الأولى في إنتاج الفوسفات يمثلها على الخريطة الرقم ( ٢ ) ص ١٣٢

- الدولة العربية الأولى في إنتاج الحديد يمثلها على الخريطة الرقم ( ٥ ) ص ١٣٢

- البحر الأحمر يمثل على الخريطة الرقم ( ٣ ) ص ١٣٣

- المحيط الأطلسي يمثل على الخريطة الرقم ( ١ ) ص ١٣٣

**السؤال الثاني (مقالى) يتكون من (أ - ب - ج)**

**(أ) - اقرأ الفقرة التالية ثم أجب عما يليها من أسئلة: ص ١٦٢-١٦٣ ٤ درجات**

موقع الوطن العربي في المناطق الجافة وشبه الجافة أدى إلى ظهور مشكلة التصحّر، التي كان لها الأثر السلبي على الغطاء النباتي في معظم الدول العربية، مما جعل الدول العربية تسعى لعلاج هذه المشكلة بسياسة تنموية، من خلال اعتماد خطأ إستراتيجية تهدف إلى تكثيف العمل الزراعي وتطويره واعتماد التكنولوجيا الحديثة، وتأسيس البذور واستعمال الأسمدة المناسبة.

١- ضع عنواناً للفقرة. (درجة فقط) ص ١٦٢

مشكلة التصحر في الوطن العربي (أو ما يراه المصحح مناسباً)

٢- عرف ما تحته خط. (درجة فقط) ص ١٦٢

- التصحر: زحف رمال الصحراء على المناطق الجافة وشبه الجافة.

٣- استخرج من الفقرة الدور الذي قامت به الدول العربية في معالجة مشكلة التصحر. (يكتفى بنقطتين)

ص ١٦٣

- اعتماد خطأ إستراتيجية تهدف إلى تكثيف العمل الزراعي وتطويره.

- اعتماد التكنولوجيا الحديثة

- تأسيس البذور

- استعمال الأسمدة المناسبة

**(ب) - قارن بين كل مما يلي: ٤ درجات**

وجه المقارنة	منظمة أوبك ص ١٣٤	منظمة أوبك ص ١٣٥
سنة التأسيس	١٩٦٠ م. (درجة فقط)	١٩٦٨ م. (درجة فقط)
الأجهزة التي تعمل من خلالها	- المؤتمر - مجلس المحافظين - الأمانة العامة	- المجلس الوزاري - المكتب التنفيذي - الأمانة العامة
	(درجة فقط/ يكتفى بنقطة واحدة)	(درجة فقط/ يكتفى بنقطة واحدة)

**(ج) - عرف المفاهيم أو المصطلحات التالية: درجتان (درجة لكل نقطة)**

١ - الغلات النقدية: الغلات التي تدخل في الصناعة وتزرع بغرض التجارة والحصول على نقد. ص ١١٣

٢ - التجارة البينية: التبادل التجاري بين الدول العربية. ص ١٥٢

**السؤال الثالث (مقالى) يتكون من ( أ - ب - ج )**

(أ) - علل لما يلي: ٤ درجات

- ١- تختلف أنواع المنتوجات الزراعية من دولة عربية إلى أخرى. ص ١١٠ (درجتين ويكتفى بنقطتين)
- اختلاف المناخ
  - اختلاف التربة
  - مدى توفر المياه في هذه الدول.

- ٢- تحتل الأغنام مكاناً مهماً ضمن الثروة الرعوية في الوطن العربي. ص ١١٨ (درجتين ويكتفى بنقطتين)
- الأكثر انتشاراً في المراعي العربية.
  - لأهمية منتجاتها بالنسبة للسكان.
  - أكثر الحيوانات المستأنسة والملائمة لمراعي الوطن العربي، وذلك لتحملها الجفاف والانتقال.
  - لأنها مصدر أساسي من مصادر الثروة القومية.

موقع  
المناهج الكويتية  
almanahj.com/kw

(ب) - فرق بين كل مما يلي: درجتان

الغاز الطبيعي ص ١٢٥	النفط ص ١٢٥
غاز مصاحب للنفط الخام أو يوجد منفرداً، تتم إسالته لاستخدامات عديدة. (درجة فقط)	بقايا عضوية على هيئة نباتات وحيوانات دقيقة ترسبت في عصور قديمة وانطمرت تحت رواسب سميكة وتحولت بالضغط والحرارة إلى صورتها الحالية. (درجة فقط)

(ج) - عدد لكل مما يلي: ٤ درجات

- ١- المحاور الرئيسية التي ارتكزت عليها عملية التنمية في الوطن العربي. ص ١٧٣ (درجتين ويكتفى بنقطتين)
- التنمية الاقتصادية
  - التنمية المستدامة
  - التنمية البشرية
- ٢- أهداف جامعة الدول العربية. ص ١٧٧ (درجتين ويكتفى بنقطتين)
- توثيق العلاقات بين الدول الأعضاء.
  - تنسيق التعاون فيما بين الدول الأعضاء للحفاظ على استقلالها وسيادتها.
  - النظر بصفة عامة في شئون ومصالح الدول العربية.
  - تحقيق التعاون والتكامل الاقتصادي بين الدول العربية.

### السؤال الرابع (مقالى) يتكون من ( أ - ب - ج )

( أ ) - أذكر نقطتين لكل مايلي: ٤ درجات

١- أهداف الصناعات البتروكيميائية. ص ١٤٥ (درجتين ويكتفى بنقطتين )  
- تنوع مصادر الدخل للدولة المنتجة.

- توفير المواد الأولية للصناعات التحويلية لتأمين حاجات القطاعات الاستهلاكية (خاصة مجال البناء) .  
- تطوير الصناعات البتروكيميائية إلى تقنيات متخصصة وعالية.

٢- أسباب تدهور وفرة المياه في الوطن العربي. ص ١٦٤ (درجتين ويكتفى بنقطتين )

- النمو السريع للسكان والضغط على المياه المتوفرة لكل فرد.

- الطرق التقليدية المستخدمة في استغلال المياه في معظم مناطق الوطن العربي مسؤولة عن تدهور نسبة المياه.

- ٥٠٪ من الموارد المائية في الوطن العربي تأتي من خارج حدوده وتتحكم فيها دول المنبع في غياب التشريعات الدولية.

- الشبكات المؤهلة لنقل المياه شبكات قديمة.

- افتقار الدول العربية إلى برامج لإدارة المياه كما أنها لا تستخدم الأدوات الاقتصادية اللازمة لترشيد الاستخدام المتزايد.

( ب ) - لاحظ الشكل التالي ثم أجب عن الأسئلة التالية: ٣ درجات

١- ما اسم المؤسسة التي يدل عليها هذا الشعار؟ ص ١٨٤

- الصندوق الكويتي للتنمية الاقتصادية العربية.

٢- ما أهم المساهمات التي تقوم بها هذه المؤسسة؟ ص ١٨٤ (درجتين ويكتفى بنقطتين )

- مشاريع التنمية الضرورية الخاصة بالمجالات الصحية والاجتماعية.

- تقديم المساعدات اللازمة في حالات الكوارث والنكبات.

- دعم قضايا الأمة العربية الإسلامية.

( ج ) - دل على صحة العبارة التالية: ٣ درجات

\*- تواجه التنمية البشرية في الوطن العربي عدة مشكلات.

- ضعف الاستفادة من القدرات البشرية في المنطقة العربية.

- مشكلة الأمية

- نقص ومحدودية مشاركة المرأة في المنظمات السياسية.

- الاختلاف الكبير في مستويات المعيشة بين دولة وأخرى، وفي داخل الدولة الواحدة.

انتهت الإجابة ،،،





وزارة التربية  
الإدارة العامة لمنطقة الجاهراء التعليمية  
التوجيه الفني للاجتماعيات

امتحان المنهج الكامل  
لمقرر الكويت والوطن العربي  
للمصف السابع المتوسط  
نموذج الإجابة

العام الدراسي: ٢٠٢٣م / ٢٠٢٤م  
الزمن: ساعة وخمسة وأربعون  
عدد الأوراق: ٦

أجب عن جميع الأسئلة

- السؤال الأول ( موضوعي ) يتكون من ( أ - ب - ج - د - هـ ) : درجة لكل إجابة

(أ) - أكمل العبارات التالية بما يناسبها:

- ١- اخترع السومريون نوعا من الكتابة عرفت باسم المسمارية ص ٨٣
- ٢- الدولة العربية التي توجد بها قناة السويس تسمى مصر ص ٢٨
- ٣- العام الذي انضمت فيه دولة جزر القمر لجامعة الدول العربية ١٩٩٣ ص ٢٣
- ٤- الدولة العربية الأولى في إنتاج البن تسمى اليمن ص ١١٤
- ٥- دولة عقدت فيها القمة العربية الاقتصادية والتنمية الاجتماعية في عام ٢٠٠٩ م تسمى الكويت ص ١٨٦
- ٦- عملية تتطلب التخطيط والمشاركة من الجميع وتعني التطور والتطوير تسمى التنمية ص ١٧٢

(ب) ظل الخيار الصحيح من بين الخيارات التي تلي كل عبارة:

١- الدولة التي تقع بها هضبة نجد: ص ٤٠

البحرين	السعودية	الإمارات	قطر
---------	----------	----------	-----

٢- تمثل مساحة الوطن العربي من جملة مساحة العالم: ص ٢٣

١٠%	٢٠%	٣%	٤٠%
-----	-----	----	-----

٣- الصناعة التي تهدف إلى تنقية الخامات المعدنية وتحويلها إلى صفائح أو سبائك صالحة للتنفيذ: ص ١٤١

الاستخراجية	التعدينية	التحويلية	الحرفية
-------------	-----------	-----------	---------

٤- يمتد الوطن العربي في قارة آسيا وقارة: ص ٢١

أفريقيا	أستراليا	أمريكا الشمالية	أوروبا
---------	----------	-----------------	--------

٥- تصدر المغرب المرتبة الأولى في إنتاج: ص ١٣٢

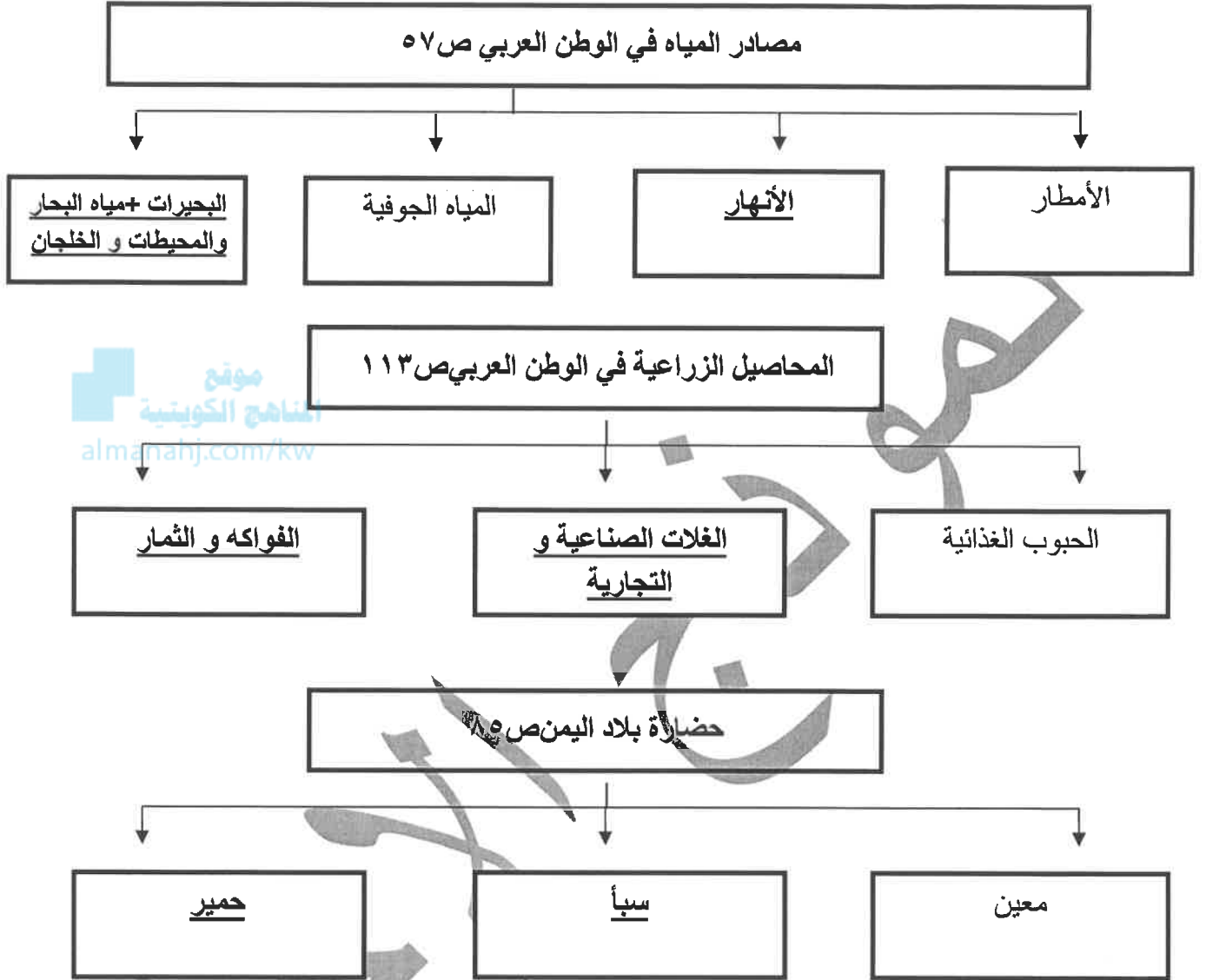
الحديد	الألومنيوم	النحاس	الغاز
--------	------------	--------	-------

٦- يطلق على البحرين قديماً: ص ٨٩

بابل	الكلدانية	أوال	تدمر
------	-----------	------	------



تابع / السؤال الأول موضوعي :  
(ج) - أكمل المخططات السهمية التالية:



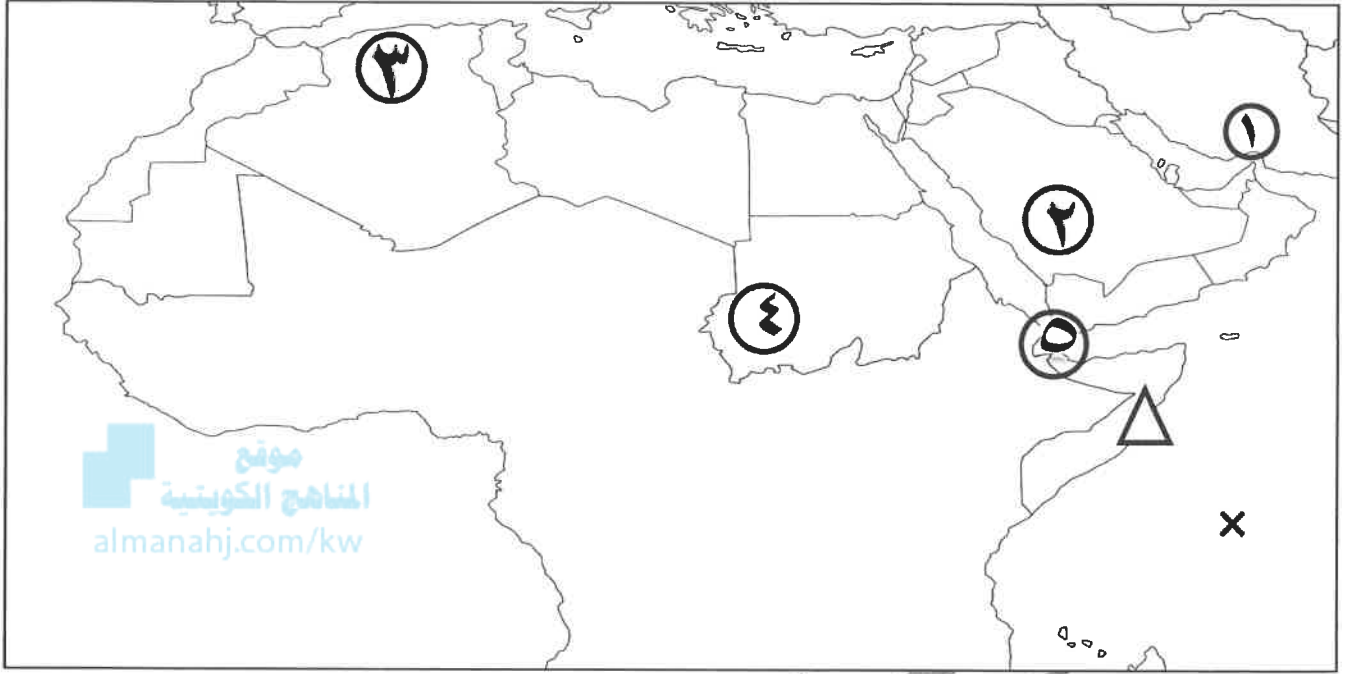
(د) صنف العناصر التالية في مكانها المناسب في الجدول الذي يليها:

( الطاقة - السوق - البترول - الأيدي العاملة - الغاز الطبيعي - رؤوس الأموال ) ص ١٣٩

المقومات البشرية للصناعة	المقومات الطبيعية للصناعة
- رؤوس الأموال	- الطاقة
- الأيدي العاملة	- البترول
- السوق	- الغاز الطبيعي

تابع / السؤال الأول موضوعي:



(هـ) لاحظ خريطة العالم ثم اكتب مدلولات الأرقام والرموز على العبارات التالية :

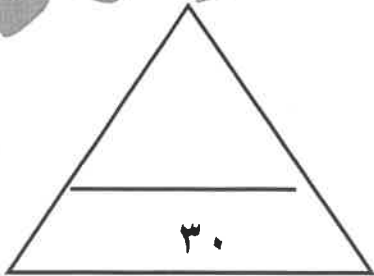


\*- اكتب الرقم الدال على العبارات التالية:

- جبل مرة يمثله على الخريطة رقم (٤) ص ٣٨
- مضيق هرمز يمثله على الخريطة الرقم (١) ص ٢٨
- الدولة التي تقع بها هضبة الشطوط يمثله على الخريطة الرقم (٣) ص ٤٤
- أولى الدول العربية في إنتاج التمور يمثله على الخريطة الرقم (٢) ص ١١٤

\*- حدد على الخريطة باستخدام الرموز التالية:

- الدولة العربية التي يمر بها خط الاستواء باستخدام الرمز  ص ٣٨
- المحيط الهندي باستخدام الرمز  ص ٤٧



مجموع درجات السؤال الأول بالحروف

**السؤال الثاني (مقالى) يتكون من ( أ - ب - ج )**

**( أ ) - قارن بين كل مما يلي: ٤ درجات (درجة لكل نقطة)**

وجه المقارنة	الغابات المدارية ص ٥٢	الغابات المعتدلة ص ٥٢
المميزات	تمتاز بضخامة أشجارها و جذوعها و تشابك أغصانها و أوراقها العريضة و ارتفاعها الكبير. (درجة فقط)	تتسم هذه الغابات بعدم كثافتها و بعضها يكون دائم الخضرة و بعضها الآخر تتساقط أوراقه في فصل الشتاء. (درجة فقط)
أسماء أهم الأشجار	الساج - الماهوجني - التاك - الأبنوس - السدر - الأثل - السنط . (درجة / يكتفى بنقطة)	الأرز - العرعر - الصنوبر الحلبي - البلوط - السنديان - أشجار الزيتون - التفاح - الحمضيات - الفواكه البرية . (درجة / يكتفى بنقطة)

**( ب ) - عرف المفاهيم أو المصطلحات التالية: ٤ درجات (درجة لكل نقطة)**

١ - الكثافة السكانية: نسبة عدد السكان الكلي في دولة ما أو منطقة ما إلى المساحة الكلية لهذه الدولة أو المنطقة. ص ١٠٢.

٢ - الحضارة: كل ما يطرأ على المجتمع من تقدم و تطور و رقي في جميع نواحي الحياة الدينية و السياسية و الاقتصادية و الفكرية. ص ٧١.

٣ - النفط: بقايا عضوية على هيئة نباتات و حيوانات دقيقة ترسبت في عصور قديمة و انطمرت تحت رواسب سميكة تحولت بالضغط و الحرارة إلى صورتها الحالية. ص ١٢٥.

٤ - الأفلاج: ( الماء الجاري ) مجرى صغير مائي في الأرض ص ٦٠.

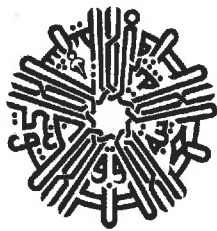
**( ج ) - لاحظ الصورة التالية ثم أجب عن الأسئلة التالية: درجتان**

١ متى تأسس الصندوق الكويتي للتنمية الاقتصادية؟ ص ١٧٩ م ١٩٦١

٢ - اذكر هدف من أهداف الصندوق الكويتي للتنمية الاقتصادية. ص ١٨٤ - المساهمة في تحقيق مشاريع التنمية الضرورية الخاصة بالمجالات الصحية و الاجتماعية.

- تقديم المساعدات اللازمة في حالات الكوارث و النكبات.

- دعم قضايا الأمة العربية الإسلامية .



الصندوق الكويتي للتنمية

مجموع درجات السؤال الثاني بالحروف.....

١٠

**-السؤال الثالث (مقالى) يتكون من ( أ - ب - ج )**

( أ ) - **علل لما يلي: ٤ درجات**

١- **تدني وفرة المياه في الوطن العربي . ص ١٦٤**

( درجتين و يكتفى بنقطتين )

- النمو السريع للسكان الذي يشكل ضغط متزايد على المياه المتوفرة لكل فرد .
- ٥٠٪ من الموارد المائية في الوطن العربي تأتي من خارج حدوده . -افتقار الدول العربية إلى برامج لإدارة المياه
- الطرق التقليدية المستخدمة في استغلال المياه في معظم مناطق الوطن العربي ( استخدام الري بالغمر و استهلاك غير المسؤول في مجالات المياه ) .
- الشبكات المؤهلة لنقل المياه شبكات قديمة .

٢- **تحتل الأقاليم العربية مكانا مهما ضمن الثروة الرعوية . ص ١١٨ ( درجتين و يكتفى بنقطتين )**

- الأكثر انتشارا في المراعي العربية .
- مصدر أساسي من مصادر الثروة القومية .
- أهمية منتجاتها بالنسبة للسكان .
- أكثر الحيوانات المستأنسة والملائمة لمراعي الوطن العربي .

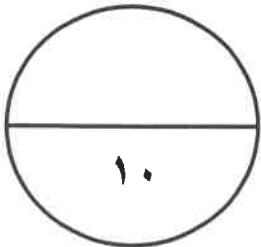
( ب ) - **فرق بين كل مما يلي: ٤ درجات**

السهول الساحلية ص ٤٢	السهول الفيضية ص ٤٢
الأراضي المنبسطة التي تجاور سواحل البحار و المحيطات . (درجة فقط)	الأراضي المنخفضة التي تكونت من التربة التي حملتها مياه الأنهار . (درجة فقط)
الطقس ص ٤٤	المناخ ص ٤٤
حالة الجو في مكان لمدة قصيرة تتراوح بين يوم أو عدة أيام من حيث درجة الحرارة و الرطوبة و الأمطار و الرياح و الضغط الجوي . (درجة فقط)	حالة الجو خلال فترة زمنية طويلة من حيث درجة الحرارة و الرطوبة و الأمطار . (درجة فقط)

( ج ) - **اكتب نقطتين فيما يلي : درجتان**

\* **الديانات في الوطن العربي . ص ٩٠**

- الديانة اليهودية و هي التي نزلت على سيدنا موسى و كتابها التوراة .
- الديانة المسيحية و هي التي نزلت على سيدنا عيسى بن مريم و كتابها الإنجيل .
- الديانة الإسلامية ويعتبر الإسلام خاتم الرسالات السماوية جميعا و نزل القرآن الكريم على سيدنا محمد .



مجموع درجات السؤال الثالث بالحروف

**-السؤال الرابع (مقالى) يتكون من ( أ - ب - ج )-**

(أ) - **اقرأ الفقرة التالية ثم أجب عما يليها من أسئلة:** درجتان ص ١٣٥

أنشأت منظمة الدول العربية المصدرة للنفط ( **أوبك** ) باتفاقية أبرمت في عام ١٩٦٨ بين كل من الكويت و السعودية و ليبيا، ويعد الهدف الأساسي من إنشائها تعميق التعاون فيما بينهم في صناعة النفط و تأمين وصول النفط للأسواق الاستهلاكية بشروط و أسعار عادلة، كما تسهم في تطوير الصناعات البترولية و تبادل الخبرات.

١- عرف ما تحته خط .

- منظمة الدول العربية المصدرة للنفط .

٢- استخرج من الفقرة أهداف منظمة الأوبك . (درجة و يكتفى بنقطة)

- تعميق التعاون فيما بينهم في صناعة النفط - و تأمين وصول النفط للأسواق الاستهلاكية بشروط و أسعار عادلة

- تطوير الصناعات البترولية . - و تبادل الخبرات.

موقع  
المنهج الكويتية  
almanahj.com/kw

( ب ) - **عدد اثنان لكل ما يلي:** ٤ درجات

١- العقبات التي تواجه الإنتاج الزراعي في الوطن العربي . ص ١٦١ (درجتين و يكتفى بنقطتين)

- عدم استغلال الأراضي القابلة للزراعة لندرة مياه الري أو تذبذب الأمطار أو قلة الأيدي العاملة .

- اتباع طرق الزراعة التقليدية في معظم أجزاء الوطن العربي .

- زحف الرمال ( التصحر ) و انجراف التربة . - الرعي الجائر .

- تلوث التربة نتيجة للإسراف في استخدام المبيدات الحشرية و ارتفاع نسبة الملوحة في التربة .

٢- أهداف القمة الاقتصادية التنموية العربية . ص ١٨٦ (درجتين و يكتفى بنقطتين)

- إنشاء بنك عربي لتمويل شتى المشاريع التنموية للتقليل من معدلات الفقر .

- القضاء على البطالة و الفقر لتوفير فرص العمل .

- الاستثمار الاقتصادي بين الدول العربية و تقوية التبادل التجاري . - الاعتناء بالعنصر البشري و التنمية المستدامة .

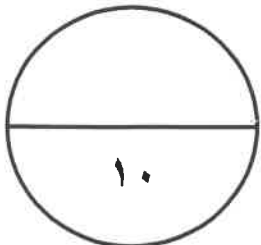
( ج ) - **أجب عن الأسئلة التالية:** ٤ درجات

١- العوامل التي تؤثر في مناخ الوطن العربي . ص ٤٦ (درجتين و يكتفى بنقطتين)

- الموقع بالنسبة لدوائر العرض - التضاريس - القرب أو البعد عن المسطحات المائية - الرياح

٢ طرق النقل و التبادل التجاري في الوطن العربي . ص ١٤٧ (درجتين و يكتفى بنقطتين)

- الطرق البرية - الطرق الجوية - الطرق المائية



مجموع درجات السؤال الرابع بالحروف

انتهت الإجابة ،،،،