

تم تحميل هذا الملف من موقع ملفات الكويت التعليمية



[com.kwedufiles.www//:https](https://www.kwedufiles.com)

*للحصول على أوراق عمل لجميع الصفوف وجميع المواد اضغط هنا

* للحصول على أوراق عمل لجميع مواد الصف الخامس اضغط هنا

<https://kwedufiles.com/5>

* للحصول على جميع أوراق الصف الخامس في مادة علوم ولجميع الفصول, اضغط هنا

<https://kwedufiles.com/5science>

* للحصول على أوراق عمل لجميع مواد الصف الخامس في مادة علوم الخاصة بـ الفصل الأول اضغط هنا

<https://www.kwedufiles.com/5science1>

* لتحميل كتب جميع المواد في جميع الفصول للصف الخامس اضغط هنا

<https://www.kwedufiles.com/grade5>

[bot_kwlinks/me.t//:https](https://t.me/bot_kwlinks)

للحصول على جميع روابط الصفوف على تلغرام وفيسبوك من قنوات وصفحات: اضغط هنا

الروابط التالية هي روابط الصف الخامس على مواقع التواصل الاجتماعي

مجموعة الفيسبوك

صفحة الفيسبوك

مجموعة التلغرام

بوت التلغرام

قناة التلغرام

رياضيات على التلغرام

المجال : علوم
عدد الأوراق : (٤)
الزمن : ساعة

امتحان نهاية الفترة الدراسية الأولى
للصف الخامس الابتدائي
العام الدراسي ٢٠١٩-٢٠٢٠

وزارة التربية
الإدارة العامة للتعليم الخاص
التوجيه الفني للعلوم

أولاً : الأسئلة الموضوعية (٢٤ درجة)

السؤال الأول (أ): اختر الإجابة الصحيحة علمياً بوضع علامة (✓) في المربع المقابل لها فيما يلي : (٥ = ١ × ٥)

١- تجمع من النجوم والكواكب والأقمار وأجسام كونية أخرى : ص ١٧

الأرض المجرة الشمس القمر

٢- كوكب نؤبته تحتوي على الحديد ويسمى بالكوكب الأحمر وله قمران: ص ٢٥

المريخ المشتري الزهرة أورانوس

٣- طبقة من طبقات الغلاف الجوي الأقرب إلى الأرض وتحدث فيها معظم الظواهر الجوية: ص ٣٧

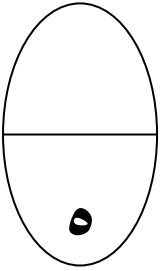
الميزوسفير الستراتوسفير التيرموسفير التروبوسفير

٤- عضلة التنفس الأساسية ، التي تتحرك إرادياً: ص ٥٨

القصبة الهوائية الرئتان الأنف الحجاب الحاجز

٥- حزمة من الأعصاب تصل الدماغ بالأعصاب المنتشرة في سائر الجسم: ص ٦٨

الحبل الشوكي الدماغ المخ المخيخ



السؤال الأول (ب): أكتب بين القوسين كلمة (صحيحة) للعبارة الصحيحة وائلمة (خطأ) للعبارة غير

الصحيحة علمياً في كل مما يأتي: (٥ = ١ × ٥):

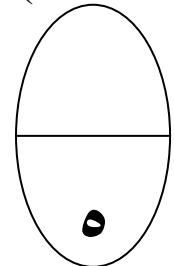
١- مدارات الكواكب حول الشمس عمودية . ص ٣١ (خطأ)

٢- التطور الصناعي له العديد من الآثار السلبية على سلامة طبقات الغلاف الجوي. ص ٥١ (صحيحة)

٣- المفاصل تعطي الهيكل العظمي القدرة على الإنحاء . ص ٦٥ (صحيحة)

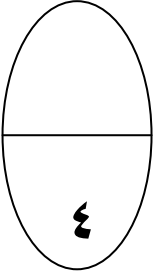
٤- النخاع المستطيل مسؤول عن الحركة والسيطرة على التوازن في جسم الإنسان. ص ٦٩ (خطأ)

٥- جسم الإنسان قادر على الإستشفاء من الإصابات بعدة عمليات حيوية . ص ٨٧ (صحيحة)



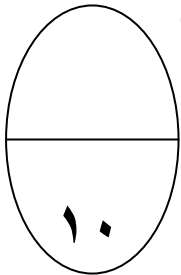
السؤال الثاني (أ): في الجدول التالي اختر العبارة من القائمة (ب) واكتب رقمها أمام ما يناسبها من عبارات القائمة (أ) (٤ = ١ × ٤):

الرقم	القائمة (أ)	القائمة (ب)
(١)	أسخن كواكب المجموعة الشمسية ولا توجد له أقمار ص ٢٤	١ - الزهرة ٢ - نبتون
(٢)	أبرد كواكب المجموعة الشمسية وله ٨ أقمار ص ٢٥	٣ - المشتري
(٥)	وعاء دموي ينقل الدم من القلب إلى أنحاء الجسم المختلفة ص ٦٢	٤ - الوريد ٥ - الشريان
(٤)	وعاء دموي ينقل الدم من أنحاء الجسم عائداً إلى القلب ص ٦٢	٦ - الشعيرات الدموية



السؤال الثاني (ب) : اكتب المصطلح العلمي الدال على كل عبارة من العبارات التالية: (١٠ = ٥ × ٢)

- خط وهمي مائل يمر بالقطبين الشمالي والجنوبي للكرة الأرضية. ص ٢٨ (محور الأرض)
- عضو عضلي كيسوي الشكل يخض الطعام ويخلطه بعصارات هضمية. ص ٥٦ (المعدة)
- أحد المكونات التي تساعد على شفاء الجروح. ص ٦٢ (الصفائح الدموية)
- نسيج متين مرن يمنع احتكاك العظام أحدهما بالآخر. ص ٦٦ (الغضروف)
- الإجراءات التي يمكن تقديمها إلى المصاب في مكان الحادث قبل وصوله إلى المركز الصحي. (الإسعافات الأولية) ص ٨٧

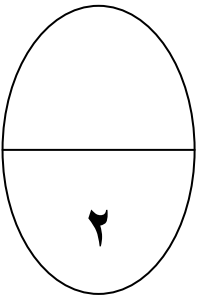


ثانياً: الأسئلة المقالية (١٦ درجة)

السؤال الثالث (أ): قارن بإكمال الجداول التالية : (٢ = ١ × ٢)

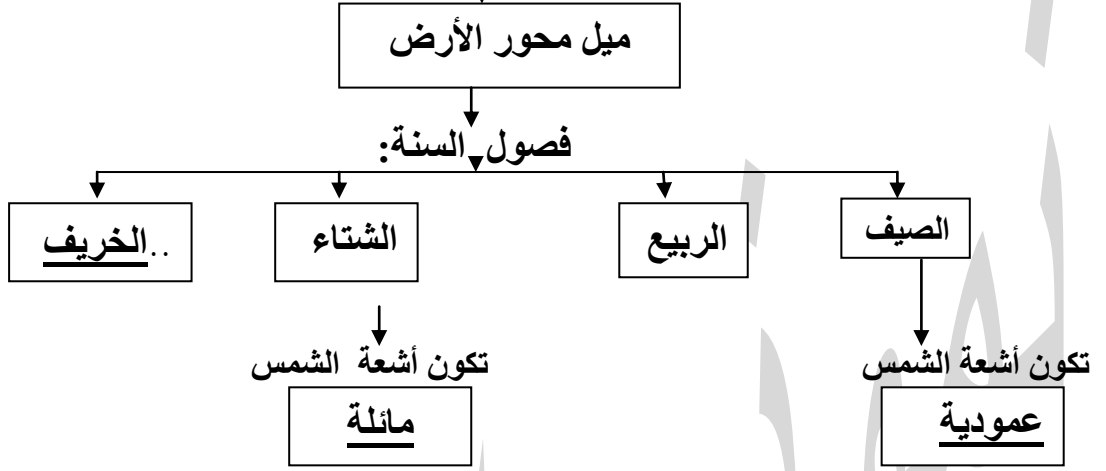
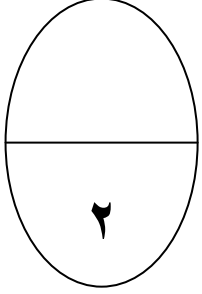
وجه المقارنة	الشهيق	الزفير
حجم الرئتين ص ٥٩يزيد.....يقبل.....

وجه المقارنة	الأمعاء الدقيقة	الأمعاء الغليظة
الوظيفة ص ٥٦عملية الهضم....	التخلص من الطعام غير المهضوم..

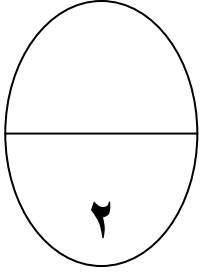


السؤال الثالث(ب): أكمل خريطة المفاهيم التالية: (٢ = ١ × ٢)

تحدث الفصول الأربعة نتيجة ص ٢٩

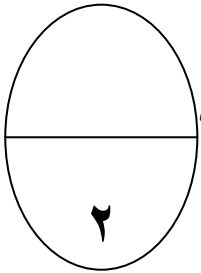


السؤال الرابع (أ): علل لما يأتي تعليلاً علمياً دقيقاً (اذكر السبب): (٢ = ١ × ٢)



١. تحلق الطائرات في طبقة الستراتوسفير ص ٣٧
.....استقرار الجو ويخلو من الظواهر الجوية.....
٢. طبقة الأوزون تعمل كدرع واق للحياة على سطح الأرض ص ٤٢
.....يحمي الأرض من الأشعة الضارة فوق البنفسجية.....

السؤال الرابع (ب): أقرأ العبارات التالية ، ثم صحح ماتحته خط لتصبح العبارة صحيحة علمياً: (٢ = ١ × ٢)



١. يتكون في منطقة الكسر تجمعات دهنية تبدأ بالتجلط ص ٨٤
.....تجمع دموي.....
٢. الاحتباس الحراري ظاهرة علمية تتمثل بانخفاض حرارة الغلاف الجوي للكرة الأرضية ص ٩٠
.....بارتفاع حرارة الغلاف الجوي.....

السؤال الرابع (ج): أجب عن الأسئلة التالية : (٢ = ١ × ٢)

(قد يصاب أحد أصدقائك بحالة من الإغماء أو النزيف أثناء طابور الصباح)

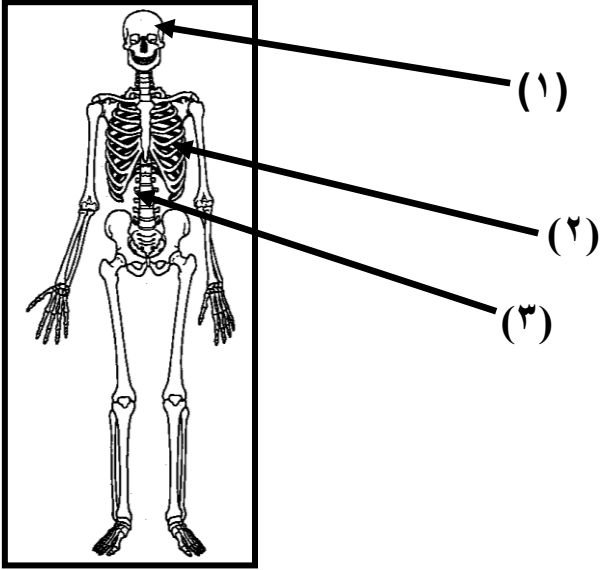
عدد الخطوات التي تتخذها لإنقاذ صديقك في كل حالة: ص ٧٨- ص ٨٢

-الإغماء: ١-....ابعد المصاب عن الخطر..... ٢-..لا تعطي المغمي عليه أي شيء بالفم.

-النزيف: ١-...رفع الجزء المصاب فوق مستوى القلب...٢-...اربط بإحكام فوق مستوى الجرح..

السؤال الخامس (أ) : ادرس الرسومات التالية ثم أجب عن ما هو مطلوب : (٣ × ٢ = ٦)

الشكل المقابل يمثل الجهاز العظمي : ص ٦٤

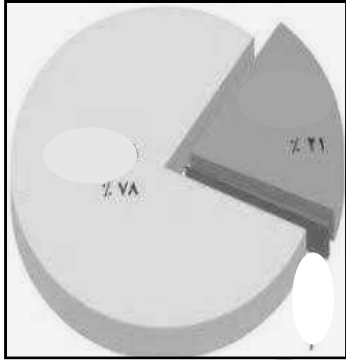


• وظيفة الجزء (١) يحمي الدماغ.....

• السهم (٢) يشير إلى القفص الصدري.....

• السهم (٣) يشير إلى.... العمود الفقري.....

السؤال الخامس (ب) : ادرس الشكل المقابل ثم أجب عن ما هو مطلوب : ص ٣٤



لاحظ الشكل المقابل ، ثم أجب عن الأسئلة التالية :

١ ما المكونان الأساسيان للغلاف الجوي؟

أ - الأكسجين ب- نيتروجين.....

٢-نسبة وجود غاز الأكسجين في الغلاف الجوي؟

..... ٢١%

٣-نسبة وجود غاز النيتروجين في الغلاف الجوي؟

..... ٧٨%

انتهت الأسئلة