

تم تحميل هذا الملف من موقع المناهج الكويتية



أسماء الفيلكا

الملف اختبار تحصيلي ثاني

[موقع المناهج](#) ← [المناهج الكويتية](#) ← [الصف الثاني](#) ← [رياضيات](#) ← [الفصل الثاني](#)

روابط مواقع التواصل الاجتماعي بحسب الصف الثاني



روابط مواد الصف الثاني على تلغرام

[الرياضيات](#)

[اللغة الانجليزية](#)

[اللغة العربية](#)

[التربية الاسلامية](#)

المزيد من الملفات بحسب الصف الثاني والمادة رياضيات في الفصل الثاني

تدريبات	1
وسائل الوحدة الحادية عشر	2
مذكرة	3
مذكرة مهمة	4
مذكرة مهمة	5



وزارة التربية
الإدارة العامة للتعليم الخاص
التوجيه الفني للرياضيات

الاختبار التحصيلي الثاني للصف الثاني

الفصل الدراسي الثاني - للعام الدراسي ٢٠٢٢/٢٠٢٣ م

محتوى الاختبار	توزيع درجات الاختبار		درجة الاختبار	مدة الاختبار	موعد الاختبار
الوحدة الثالثة عشرة من البنود (١٣-١٤) إلى (١٣-٧) + الوحدة الرابعة عشرة	مقال	موضوعي	٢٠	حصة دراسية	الأسبوع السادس عشر
	١٥	٥			

إشراف الموجه الفني : أ. أسماء الفيكاوي

السؤال الأول: اشرح .

(ب)

$$\begin{array}{r} 5 \quad 2 \quad 7 \\ 3 \quad 1 \quad 8 \\ \hline \end{array}$$

(أ)

آحاد	عشرات	مئات
٥	٣	٩
-	٠	٧

السؤال الثاني:

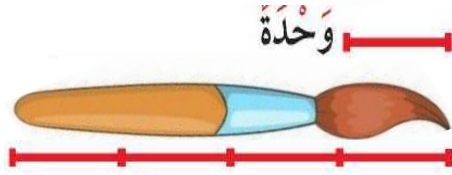
(ب) أوجد العدد المجهول .

$$\begin{array}{r} 6 \quad 8 \quad 4 \\ \square + \\ \hline 6 \quad 8 \quad 7 \end{array}$$

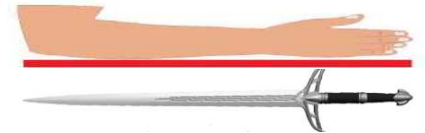
(أ) أوجد ناتج الجمع .

$$\begin{array}{r} 2 \quad 6 \quad 5 \\ 2 \quad 6 + \\ \hline \end{array}$$

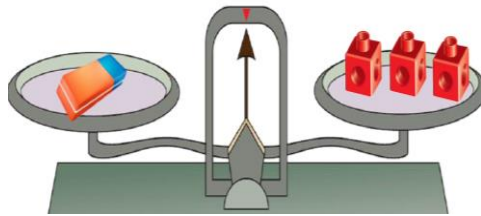
السؤال الثالث: (أ) أكمل:



(٢) طول الفرشاة _____ وحدات .



(١) طول السيف _____ ذراع .



(٤) وزن _____ = _____ .



(٣) لدى سالم _____ ديناراً و _____ فلساً .



تقريباً _____

أكتب كم كوباً تسع إذا ملأتها بالماء؟
أكتب العدد المناسب .



(٤)

(ب) عد النقود واكتب قيمة الكل .



..... فلساً .

السؤال الرابع :

(أ)

١- حوط الكوب الذي سعته اصغر .



٢- حوط الشيء الاخف .



٣ - حوط التقدير المناسب.



تقريباً ٢ ليتر

تقريباً ٢٠ ليتر

٤- حوط الإجابة الصحيحة:

لدى أصدقاء نورة قصص متنوعة عددها ٤٣٨ قصة ، ولدى أصدقاء مريم قصص متنوعة أيضاً وعددها ٣٣٩ قصة ، فكم عدد القصص لدى نورة ومريم ؟

$$٢ + ٤٨٣$$

$$٣٣٩ + ٤٣٨$$

$$٣٣٩ - ٤٣٨$$

(ب) لون عبارة الطرح التي تحتاج الى إعادة تسميه .

$$\begin{array}{r} ٩٢٨ \\ - ٢ \\ \hline \end{array}$$

$$\begin{array}{r} ٦٢٤ \\ - ١ \\ \hline \end{array}$$

$$\begin{array}{r} ٤٣٥ \\ - ٩ \\ \hline \end{array}$$

انتهت الأسئلة ،،،

السؤال الأول : ا طرح .

(ب)

$$\begin{array}{r} 1 \quad 17 \\ 5 \quad \cancel{3} \quad \cancel{7} \\ - \quad 3 \quad 1 \quad 8 \\ \hline \end{array}$$

2 0 9

(أ)

مئات	عشرات	آحاد
٩	٣	٥
٧	٠	٠ -
٢	٣	٥

السؤال الثاني :

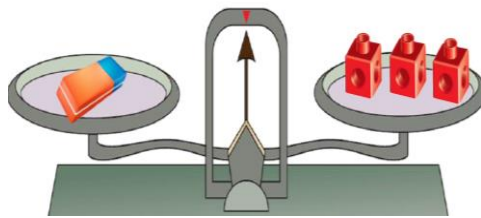
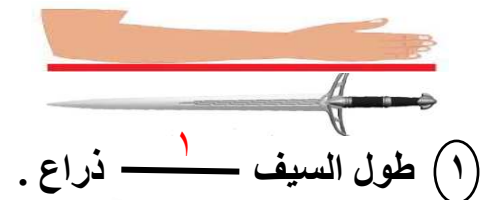
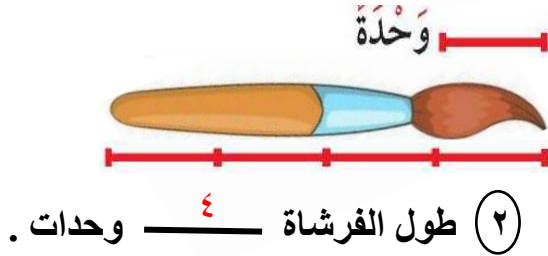
(ب) أوجد العدد المجهول .

$$\begin{array}{r} 6 \quad 8 \quad 4 \\ + \quad \boxed{3} \\ \hline 6 \quad 8 \quad 7 \end{array}$$

(أ) أوجد ناتج الجمع .

$$\begin{array}{r} 2 \quad 6 \quad 5 \\ + \quad 2 \quad 6 \\ \hline 2 \quad 9 \quad 1 \end{array}$$

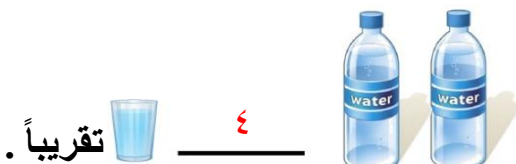
السؤال الثالث : (أ) أكمل :



(٤) وزن ٣ = ١



(٣) لدى سالم ٣٥ ديناراً و ٩٠ فلساً .



(ب) عد النقود و اكتب قيمة الكل .



٢٥ فلساً .

السؤال الرابع :

(أ)

١- حوط الكوب الذي سعته أصغر .



٢- حوط الشيء الأخف .



٣ - حوط التقدير المناسب



تقريباً ٢٠ ليتر

تقريباً ٢ ليتر

٤- حوط الإجابة الصحيحة:

لدى أصدقاء نورة قصص متنوعة عددها ٤٣٨ قصة ، ولدى أصدقاء مريم قصص متنوعة أيضاً وعددها ٣٣٩ قصة ، فكم عدد القصص لدى نورة ومريم ؟

$$٢ + ٤٨٣$$

$$٣٣٩ + ٤٣٨$$

$$٣٣٩ - ٤٣٨$$

(ب) لون عبارة الطرح التي تحتاج الى إعادة تسميه .

$$\begin{array}{r} ٩٢٨ \\ - ٢ \\ \hline \end{array}$$

$$\begin{array}{r} ٦٢٤ \\ - ١ \\ \hline \end{array}$$

$$\begin{array}{r} ٤٣٥ \\ - ٩ \\ \hline \end{array}$$

انتهت الأسئلة ،،،

(ب) أوجد الناتج

$$\begin{array}{r} 2 \ 2 \ 7 \\ + \ 3 \ 6 \ 8 \\ \hline \end{array}$$

السؤال الأول :

(أ) من البيانات الموضحة بالجدول أجب :-

الشهر	عدد الزوار في كل شهر
سبتمبر	٢٠٠
أكتوبر	٣٠٠
نوفمبر	٥٠٠
ديسمبر	٤٠٠

(١) كم عدد زوار المكتبة في شهر سبتمبر ؟

(٢) ما الشهر الذي عدد زواره يبلغ ٥٠٠ زائر ؟

(٣) كم عدد زوار المكتبة في الشهرين سبتمبر و أكتوبر ؟

(٤) بكم يزيد عدد زوار المكتبة في شهر ديسمبر عنه في شهر أكتوبر ؟

السؤال الثاني :


(أ) إذا كان

(ب) قيس طول القلم بالوحدات

وحدة



طول القلم وحدات



فإن طول ٤ ■ يساوي متر

السؤال الثالث : عد النقود ثم أكتب قيمة الكل

(ب)



فلسا

(أ)



فلسا

السؤال الرابع :

(أ) حوطة الإجابة الصحيحة

(١) مكتبة طلال فيها ١٧٢ كتابا ، تبرع ب ٩ كتب للجنة الخيرية كم عدد الكتب الباقية في مكتبته ؟

١٦٣

١٧٦

١٨٤

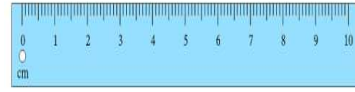
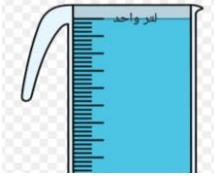
(٢) حوطة وحدة القياس المناسبة



متر

سنتيمتر

(٣) حوطة الأداة المناسبة للقياس



(ب) صل كل شكل بالكلمة المناسبة

أخف من ١ كيلو جرام

تقريبا ١ كيلو جرام



(٤)



(٥)

انتهت الأسئلة ،،،

(ب) أوجد الناتج

$$\begin{array}{r} \textcircled{1} \\ 227 \\ + 368 \\ \hline 595 \end{array}$$

السؤال الأول :

(أ) من البيانات الموضحة بالجدول أجب :-

الشهر	عدد الزوار في كل شهر
سبتمبر	٢٠٠
أكتوبر	٣٠٠
نوفمبر	٥٠٠
ديسمبر	٤٠٠

- (١) كم عدد زوار المكتبة في شهر سبتمبر؟ **٢٠٠ زائر**
(٢) ما الشهر الذي عدد زواره يبلغ ٥٠٠ زائر؟ شهر **نوفمبر**
(٣) كم عدد زوار المكتبة في الشهرين سبتمبر وأكتوبر؟ **٣٠٠ + ٢٠٠ = ٥٠٠ زائر**
(٤) بكم يزيد عدد زوار المكتبة في شهر ديسمبر عنه في شهر أكتوبر؟ **٤٠٠ - ٣٠٠ = ١٠٠ زائر**


السؤال الثاني :

(أ) إذا كان

(ب) قيس طول القلم بالوحدات



طول القلم ٤ وحدات



فإن طول ٤ يساوي ١ متر

السؤال الثالث : عد النقود ثم أكتب قيمة الكل

(ب)

(أ)



١١٠ فلسا



٢٠٠ فلسا

السؤال الرابع :

(أ) حوٲ الإجابة الصحيحة

(١) مكتبة طلال فيها ١٧٢ كتابا، تبرع ب ٩ كتب للجنة الخيرية كم عدد الكتب الباقية في مكتبته؟

١٦٣

١٧٦

١٨٤

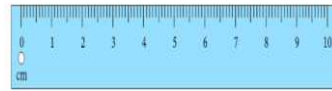
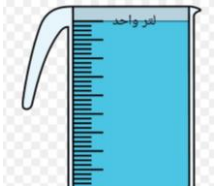
(٢) حوٲ وحدة القياس المناسبة



متر

سنتيمتر

(٣) حوٲ الأداة المناسبة للقياس



(ب) صل كل شكل بالكلمة المناسبة

أخف من ١ كيلو جرام

تقريبا ١ كيلو جرام



انتهت الأسئلة ،،،

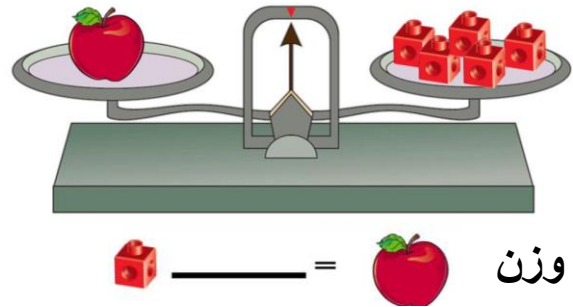
السؤال الأول :

في أحد الأيام زار المكتبة ١٥٣ زائراً ، انصرف منهم ٤٣ زائراً، ثم انصرف منهم ١٠٦ ، فكم زائراً بقي في المكتبة في نهاية اليوم ؟

<div style="border: 1px solid black; width: 100px; height: 30px; margin: 0 auto;"></div> <p style="text-align: center;">الخطوة الثانية</p> <div style="border: 1px solid black; width: 100px; height: 30px; margin: 0 auto;"></div> <div style="border: 1px solid black; width: 30px; height: 30px; border-radius: 50%; margin: 0 auto;"></div> <hr style="width: 100%; border: 0.5px solid black;"/> <div style="border: 1px solid black; width: 100px; height: 30px; margin: 0 auto;"></div>	<div style="border: 1px solid black; width: 100px; height: 30px; margin: 0 auto;"></div> <p style="text-align: center;">الخطوة الأولى</p> <div style="border: 1px solid black; width: 100px; height: 30px; margin: 0 auto;"></div> <div style="border: 1px solid black; width: 30px; height: 30px; border-radius: 50%; margin: 0 auto;"></div> <hr style="width: 100%; border: 0.5px solid black;"/> <div style="border: 1px solid black; width: 100px; height: 30px; margin: 0 auto;"></div>
--	---

السؤال الثاني :
(أ) أكمل .

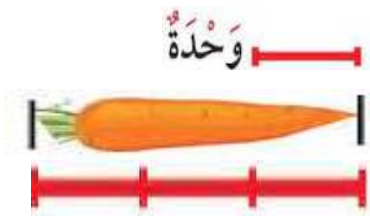
(ب) عد النقود . ثم أكتب قيمة الكل.



السؤال الثالث :

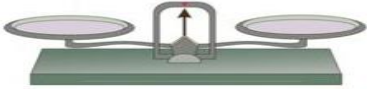
(أ) كم كوبا تسع إذا ملأتها بالماء ؟

(ب) أكمل .



السؤال الرابع :

أ) صل الأداة المناسبة للقياس :

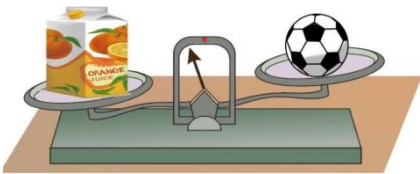


ب) حوّل الإجابة الصحيحة :

الكوب الذي سعته أصغر



ج) وزن الكرة وزن علبة العصير



يساوي

أخف من

أثقل من

انتهت الأسئلة ،،،

السؤال الأول :

في أحد الايام زار المكتبة ١٥٣ زائرا ، انصرف منهم ٤٣ زائرا ، ثم انصرف منهم ١٠٦ ، فكم زائرا بقي في المكتبة في نهاية اليوم ؟

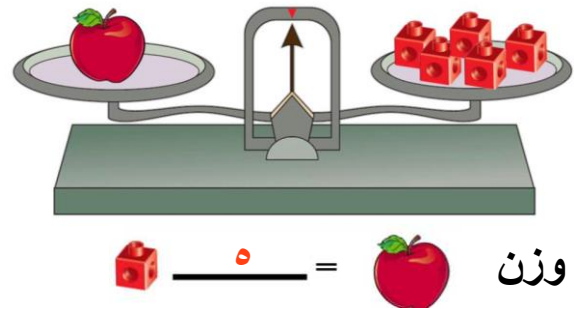
$\begin{array}{r} 153 \\ - 43 \\ \hline 110 \end{array}$	$\begin{array}{r} 110 \\ - 106 \\ \hline 4 \end{array}$
الخطوة الاولى	الخطوة الثانية

السؤال الثاني :

(ب) عد النقود . ثم أكتب قيمة الكل.

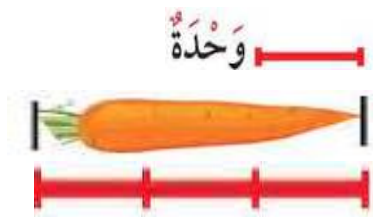


(أ) أكمل .




السؤال الثالث :

(ب) أكمل .



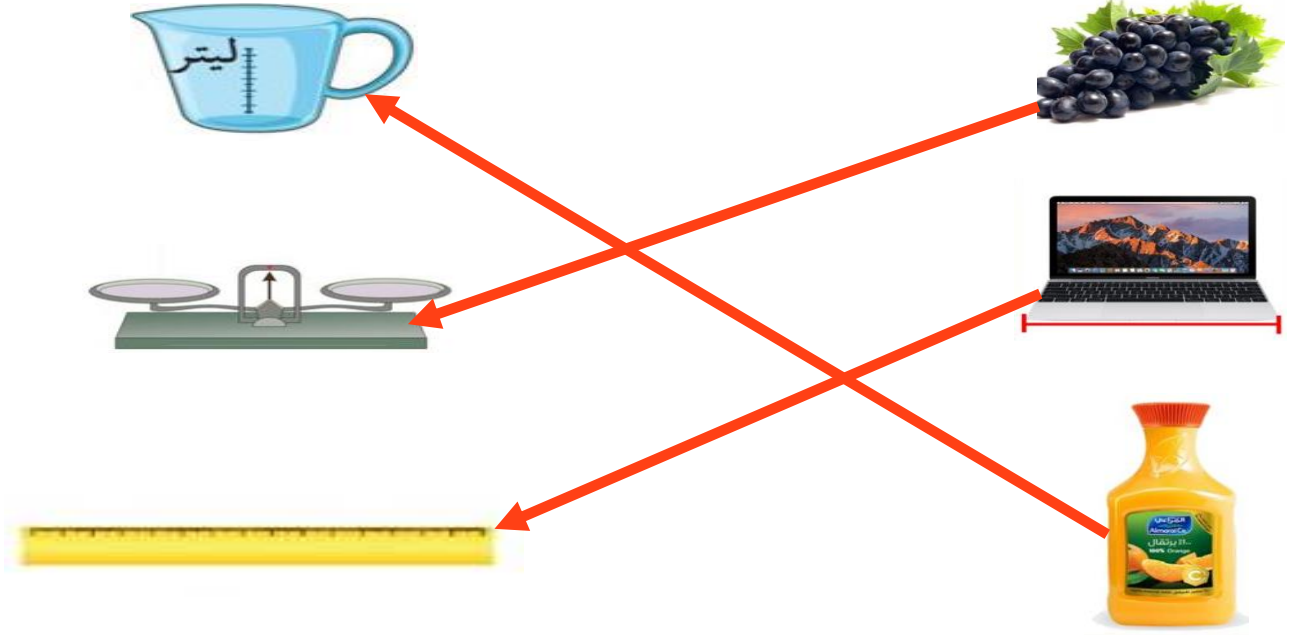
طول الجزرة 4 وحدة

(أ) كم كوبا تسع إذا ملأها بالماء ؟



السؤال الرابع :

أ) صل الأداة المناسبة للقياس :

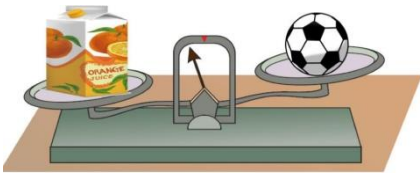


ب) حوّل الإجابة الصحيحة :

الكوب الذي سعته أصغر



ج) وزن الكرة وزن علبة العصير



يساوي

أخف من

أثقل من

انتهت الأسئلة ،،،