

تم تحميل هذا الملف من موقع المناهج الكويتية



منطقة حولي التعليمية

الملف نموذج اختبار تحصيلي تجريبي (2)

[موقع المناهج](#) ← [المناهج الكويتية](#) ← [الصف الخامس](#) ← [رياضيات](#) ← [الفصل الثاني](#)

روابط مواقع التواصل الاجتماعي بحسب الصف الخامس



روابط مواد الصف الخامس على تلغرام

[الرياضيات](#)

[اللغة الانجليزية](#)

[اللغة العربية](#)

[التربية الاسلامية](#)

المزيد من الملفات بحسب الصف الخامس والمادة رياضيات في الفصل الثاني

اوراق عمل رياضيات	1
ورقة عمل	2
ورقة عمل	3
اوراق عمل للاختبار في مادة الرياضيات	4
اختبار قصير مفيد في مادة الرياضيات	5



وزارة التربية

الإدارة العامة لمنطقة حولي التعليمية

التوجيه الفني للرياضيات

الاختبار التحصيلي التجريبي (٢) لمادة الرياضيات

للفصل الدراسي الابتدائي

للفصل الدراسي الثاني للعام الدراسي ٢٠٢٢-٢٠٢٣ م

الاسم :

الصف : خامس /



السؤال الأول :



(أ) اكتب نوع المثلث من حيث أطوال الأضلاع ومن حيث قياسات الزوايا



المنهاج الكويتي
almanahj.com/kw

نوع المثلث من حيث أطوال الأضلاع

نوع المثلث من حيث قياسات الزوايا

(ب) أكمل :

م

= ٩ كم

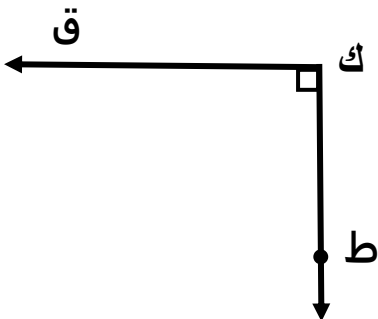
لتر

= ٢٤٠٠٠ مل

السؤال الثاني :



(أ) استعن بالشكل وأكمل ما يلي:

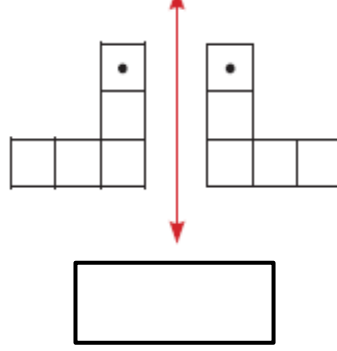


نوع الزاوية :

رمز الزاوية :

قياس الزاوية :

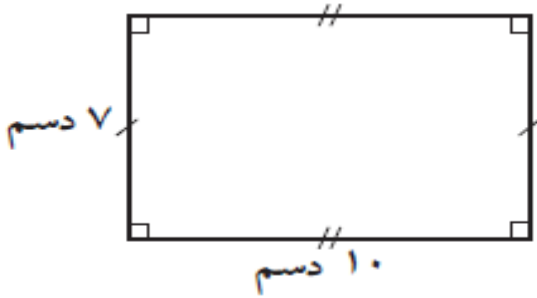
(ب) اكتب اسم الحركة المناسبة (إزاحة أو انعكاس أو دوران)



السؤال الثالث :

(أ) أوجد محيط المستطيل

محيط المستطيل =



(ب) حل المسألة

صنع منصور صندوقاً ليضع فيه طعام الحيوانات في مزرعته أبعاده ٥ م ، ٢ م ، ٣ م ، ١ م

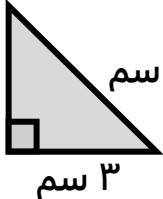
فما حجم الصندوق؟

حجم الصندوق =



السؤال الرابع :

ظلل أ إذا كانت العبارة صحيحة وظلل ب إذا كانت العبارة خاطئة

ب	أ	* الزاوية المستقيمة قياسها 108°
ب	أ	* مساحة المنطقة المثلثة الموضحة = 6 سم^2 

ظلل دائرة الرمز الدال على الإجابة الصحيحة

* منشور سباعي عدد وجوهه 9 وجوه، عدد حروفه 21 حرفاً فإن عدد رؤوسه يساوي

- أ) 30 ب) 14 ج) 2 د) 7

* الشكل الذي جميع أطوال أضلاعه متساوية في الطول وجميع زواياه قوائم هو

- أ) معين ب) مستطيل ج) مربع د) متوازي الأضلاع

* التغير الحاصل في درجة الحرارة من 17°س إلى 32°س هو

- أ) 15°س ب) 17°س ج) 32°س د) 49°س

مع تمنياتنا لكم بدوام التوفيق والنجاح

