

تم تحميل هذا الملف من موقع ملفات الكويت التعليمية



[com.kwedufiles.www//:https](https://www.kwedufiles.com)

*للحصول على أوراق عمل لجميع الصفوف وجميع المواد اضغط هنا

* للحصول على أوراق عمل لجميع مواد الصف الخامس اضغط هنا

<https://kwedufiles.com/5>

* للحصول على جميع أوراق الصف الخامس في مادة علوم ولجميع الفصول, اضغط هنا

<https://kwedufiles.com/5science>

* للحصول على أوراق عمل لجميع مواد الصف الخامس في مادة علوم الخاصة بـ الفصل الأول اضغط هنا

<https://www.kwedufiles.com/5science1>

* لتحميل كتب جميع المواد في جميع الفصول للصف الخامس اضغط هنا

<https://www.kwedufiles.com/grade5>

* لتحميل جميع ملفات المدرس اللجنة الفنية المشتركة للعلوم اضغط هنا

[bot_kwlinks/me.t//:https](https://t.me/bot_kwlinks)

* للحصول على جميع روابط الصفوف على تلغرام وفيسبوك من قنوات وصفحات: اضغط هنا

الروابط التالية هي روابط الصف الخامس على مواقع التواصل الاجتماعي

مجموعة الفيسبوك

صفحة الفيسبوك

مجموعة التلغرام

بوت التلغرام

قناة التلغرام

رياضيات على التلغرام



وزارة التربية

اللجنة الفنية المشتركة للمرحلة الابتدائية

بنك أسئلة للصف الخامس الفصل الدراسي الأول

للعام الدراسي (٢٠١٩/٢٠٢٠ م)

نموذج (٤)

أولاً : الأسئلة الموضوعية

السؤال الأول : اختر الإجابة الصحيحة علمياً لكل من العبارات التالية بوضع علامة (✓)

في المربع المقابل لها :

١- أسخن كواكب المجموعة الشمسية :

الأرض عطارد الزهرة المريخ

٢- الغاز الذي يوجد بنسبة ٢١ % في الغلاف الجوي :

الأكسجين النيتروجين الهيدروجين ثاني أكسيد الكربون

٣- غاز الأوزون يتكون من ذرات أكسجين متحدة عددها :

١ ٢ ٣ ٤

٤- أحد أجزاء الدم يقتل الجراثيم ويحمي الجسم من الأمراض هو :

خلايا الدم الحمراء خلايا الدم البيضاء الصفائح الدموية البلازما

٥- مركز الحركة والسيطرة على التوازن في جسم الانسان هو :

المخ الحبل الشوكي النخاع المستطيل المخيخ

السؤال الثاني : أكتب بين القوسين كلمة (صحيحة) للعبارة الصحيحة و كلمة (خطأ) للعبارة غير الصحيحة علميا في كل مما يأتي:

- ١- طبقة الغلاف الجوي الأقرب للأرض تعرف بالستراتوسفير. (.....)
- ٢- غاز الأوزون يحمينا من الأشعة فوق البنفسجية الضارة. (.....)
- ٣- يرتفع الحجاب الحاجز إلى الأعلى في عملية الشهيق . (.....)
- ٤- الطريقة الصحيحة لإسعاف المصاب بالرعاف هي رفع رأسه إلى أعلى . (.....)
- ٥- تبدأ شعيرات دموية جديدة بالتكون لتمد منطقة الكسر بالدم والكالسيوم. (.....)

السؤال الثالث : اكتب بين القوسين المصطلح العلمي الدال على كل من العبارات التالية:

- ١- عبارة عن تجمع من النجوم والكواكب والأقمار وأجسام كونية أخرى. (.....)
- ٢- خط وهمي مائل يمر بالقطبين الشمالي والجنوبي للكرة الأرضية. (.....)
- ٣- عضو عضلي كيسبي الشكل يخض الطعام ويخلطه بعصارات هضمية. (.....)
- ٤- نسيج متين مرن تتكون منه أجزاء من الهيكل العظمي. (.....)
- ٥- الإجراءات التي يمكن تقديمها إلى المصاب في مكان الحادث قبل الوصول إلى مركز الرعاية الصحية. (.....)

السؤال الرابع : في الجدول التالي اختر من المجموعة (أ) ما يناسبها من المجموعة (ب) وذلك بكتابة الرقم المناسب أمامها :

الرقم	المجموعة (أ)	المجموعة (ب)
()	- كوكب له (٨) أقمار .	١- عطارد.
()	- كوكب ليس له أقمار.	٢- نبتون.
		٣- المريخ.

الرقم	المجموعة (أ)	المجموعة (ب)
()	- طبقة تعكس موجات الراديو إلى الأرض.	١- الأكسوسفير.
()	- طبقة تدور فيها معظم الأقمار الصناعية حول الأرض.	٢- الميزوسفير.
		٣- الأيونوسفير

ثانياً : الأسئلة المقالية

السؤال الخامس : علل لما يأتي تعليلاً علمياً سليماً :

١ - يخفق القلب سريعاً عندما تتمرن.

.....

٢- تتجمع الصفائح عند موضع الجرح .

.....

السؤال السادس : أجب على المطلوب فيما يلي:

١- يمكن أن تتعرض طبقة الأوزون إلى تدمير بفعل عوامل مختلفة أذكر إثنان منها.

أ-.....

ب-.....

٢- اقترح طرقاً للعناية والمحافظة على سلامة طبقات الغلاف الجوي للأرض.

أ-.....

ب-.....

السؤال السابع : حل المشكلات واتخاذ القرار:

١- اقترح حلاً لمشكلة هشاشة العظام وآلامها التي قد تواجه رائد الفضاء.

السؤال الثامن : أكتب بين القوسين كلمة (صحيحة) للعبارة الصحيحة وكلمة (خطأ)

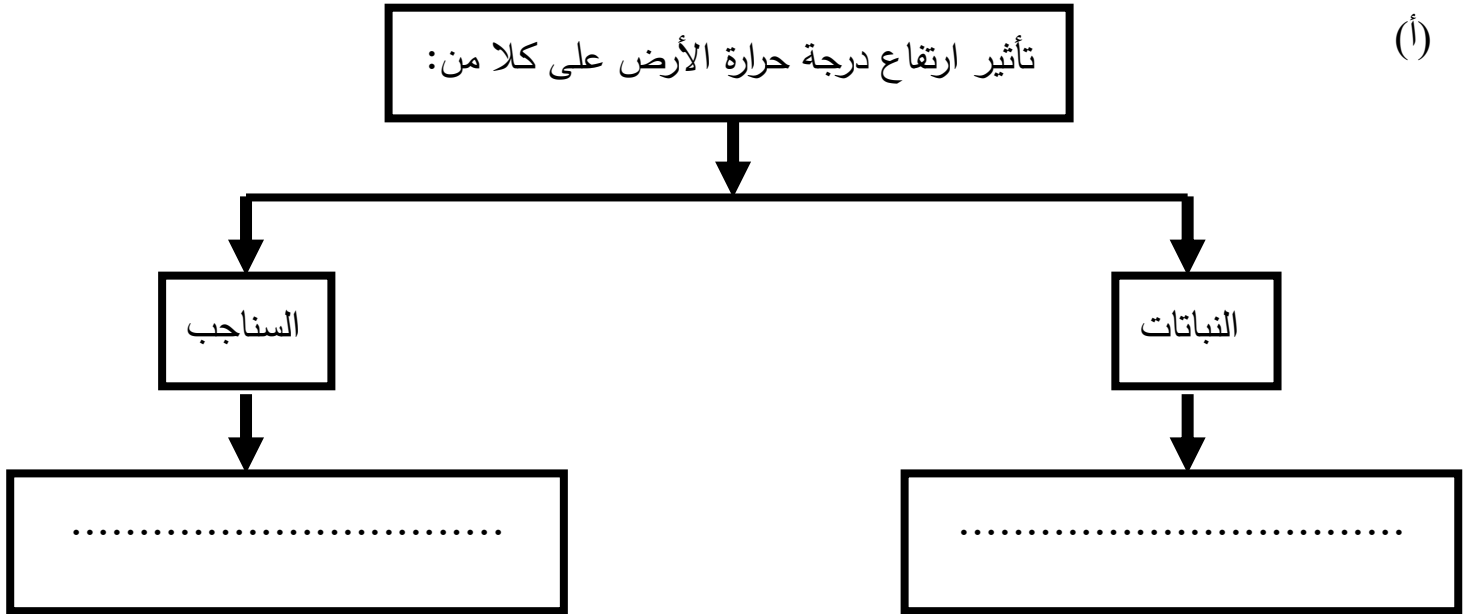
للعبارة غير الصحيحة مع وضع خط تحت الخطأ إن وجد مع تصحيحه. في كل مما يأتي:

١- الأرض هو الكوكب الرابع في النظام الشمسي. (.....)

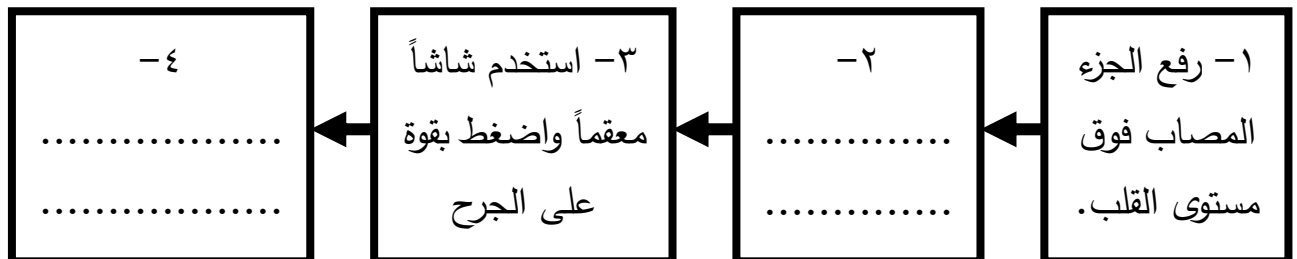
٢- عند إسعاف حالة إغماء أمل الرأس جانباً وإلى الخلف. (.....)

٣- الاحتباس الحراري ناتج عن زيادة غاز الأوكسجين وغازات أخرى. (.....)

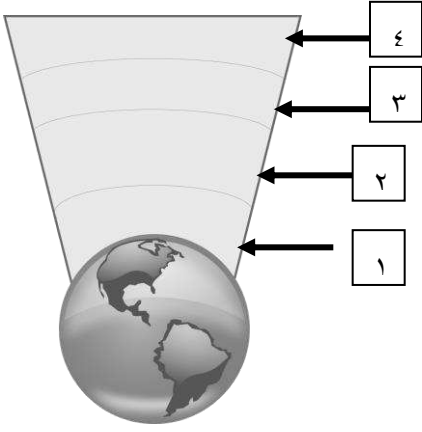
السؤال التاسع : أكمل المخطط التالي:



(ب) خطوات إسعاف النزيف



السؤال العاشر: أكتب البيانات على الأشكال التالية:



١ - الشكل يوضح طبقات الغلاف الجوي :

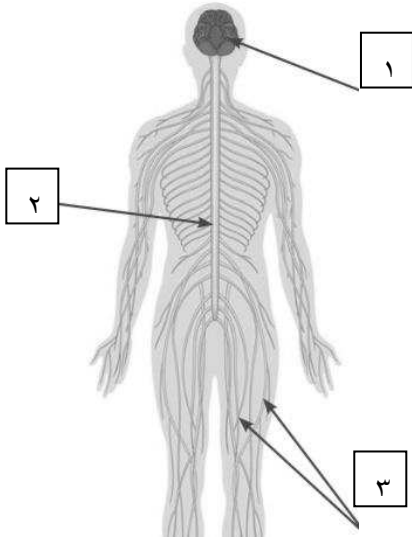
- الطبقة التي تحمي الأرض من خطر الشهب مشار إليها بالرقم (....)

- طبقة تحمي الأرض من الأشعة الضارة (....)

٢- الشكل يوضح الجهاز العصبي :

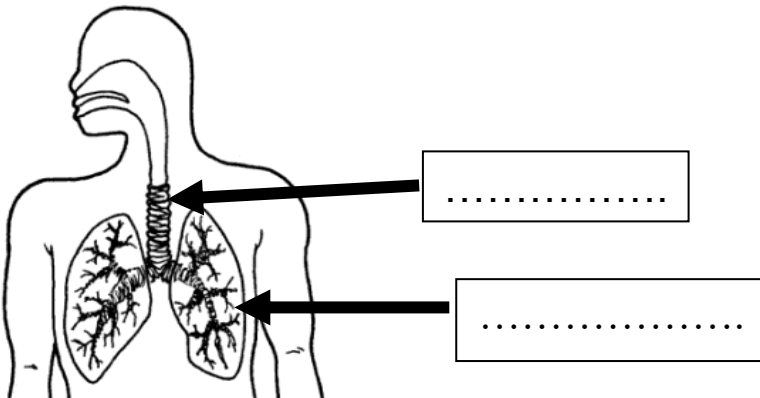
- الجزء رقم (١) يمثل

- الجزء المسؤول عن الفعل المنعكس يمثلته الرقم (....)



٣- الشكل يوضح الجهاز التنفسي :

- أكتب البيانات الناقصة على الرسم .



بالنجاح والتوفيق