



وزارة
الإدارة العامة لمنطقة الفروانية التعليمية
التوجيه الفني للاجتماعيات



مراجعة وتدقيق:

رئيسة قسم الاجتماعيات في مدرسة رقية بنت محمد : جليله الدغيم
رئيسة قسم الاجتماعيات في مدرسة عمرة الانصارية: فاطمة الصفران

تصميم وتنسيق: أ جليله الدغيم

إشراف عام: الموجه الفني: حمد البحوه

الوحدة الاولى :

١- أكمل العبارات التالية بما يناسبها فيما درست :

- ١- قامت الدولة الإسلامية في المدينة المنورة
- ٢- قامت الدولة الإسلامية على يد نبي الله محمد ﷺ
- ٣- قامت الدولة الإسلامية في القرن الثامن الميلادي
- ٤- أصدرت الجمعية العامة للأمم المتحدة قرارا بإدخال اللغة العربية لغة رسمية في عام ١٩٧٣م
- ٥- يتم الاحتفال باللغة العربية في تاريخ ١٨ ديسمبر من كل عام
- ٦- العالم اليوناني الذي استفادت منه الحضارة الإسلامية في مجال الرياضيات فيثاغورس.
- ٧- أطلقت الأمم المتحدة لقب قائد العمل الإنساني للشيخ صباح الأحمد الصباح بتاريخ ٩ سبتمبر من عام ٢٠١٤م
- ٨- توفي الرسول -صلى الله عليه وسلم- في ١٢ من ربيع الأول عام ١١ هـ
- ٩- اجتمع المسلمون بعد وفاة الرسول ﷺ في سقيفة بني ساعدة
- ١٠- أول حاكم بعد الرسول -ﷺ- إذ خلفه بإدارة شئون المسلمين هو أبي بكر الصديق رضي الله عنه
- ١١- ظهر منصب إداري جديد في الدولة الإسلامية وهو الخليفة
- ١٢- استحدث منصب إداري جديد في عهد الخليفة الراشد الثاني عمر بن الخطاب رضي الله عنه وهو المحتسب
- ١٣- ظهر العديد من الكيانات السياسية من ممالك وسلطنات وإمارات. في عهد الدولة العباسية
- ١٤- أنشأ ديوان الماء في مدينة مرو الواقعة في خراسان « إيران حاليا
- ١٥- اكتشف في دولة الكويت محطة لاستراحة قوافل الحجاج تعود للعصر الإسلامي تسمى محطة الشجي
- ١٦- مقدار الزكاة على الأموال النقدية التي حال عليها الحول بواقع ٢.٥ %
- ١٧- الجهة المسؤولة عن الوقف في دولة الكويت تسمى الوزارة الأوقاف والشؤون الإسلامية
- ١٨- الطراز المعماري الذي يعكس التصميم الأندلسي والمنقوشات الإسلامية في دولة الكويت يسمى المسجد الكبير
- ١٩- الشيخ الذي افتتح المسجد الكبير في عام ١٩٨٦م هو الشيخ جابر الاحمد الصباح رحمه الله.
- ٢٠- صناعة خشبية برع المسلمون بصناعتها تسمى أرابيسك
- ٢١- اول القبليتين وهو أكبر مساجد العالم يسمى المسجد الأقصى.
- ٢٢- الخليفة الذي ضم حجرات بيت الرسول صلى الله عليه وسلم الى المسجد هو عبد الملك بن مروان.
- ٢٣- يقع قصر الحمراء في مدينة غرناطة بالأندلس
- ٢٤- يطلق على بلاد الأندلس حاليا اسم اسبانيا
- ٢٥- كلمة اشتقت منها كلمة الكاميرا هي قمره
- ٢٦- العالم الذي له الفضل في تطوير فكرة الكاميرا هو الحسن بن الهيثم
- ٢٧- الخليفة العباسي الذي شجع على العلم وحركة الترجمة هو المأمون
- ٢٨- استفاد الأوروبيون من طريقة المسلمون في نقل الرسائل جوا عن طريق الحمام الزاجل
- ٢٩- قصر يقع في الاراضي الممتدة في شمال الحراء السورية وجنوب نهر الفرات في العراق يسمى قصر الرصافة
- ٣٠- ألف الجاحظ ٣٥٠ كتابا أهمهم كتاب كان يراقب سلوك الحيوانات عن طريق التجارب ويدرس أعضائها الداخلية يسمى كتاب الحيوان
- ٣١- تأثر العالم الانجليزي روجر بيكون بالعالم والفيلسوف الكندي في مجال الفلسفة

١/ تتواجد دول العالم الاسلامي ضمن ٤ قارات.

٢/ يقع العالم الاسلامي بين خطي طول ١٨ غربا الى ١٤١ شرقا

٣/ يقع العالم الاسلامي بين دائرتي عرض ١٣ جنوبا الى ٥٥ شمالا.

٤/ أكبر الدول الإسلامية مساحة تسمى جمهورية كازاخستان

٥/ أصغر الدول الإسلامية مساحة تسمى جمهورية المالديف.

٦/ يطلق على هضبة الصحراء الكبرى بهضبة أفريقيا الشمالية

٧/ أكثر دوله انتاجا لمعدن اليورانيوم لعام ٢٠١٤ بنسبة ٤١ % هي كازخستان

الوحدة الثانية

٩/ أكثر المعادن انتاجا في العالم الاسلامي هو اليورانيوم

١٠/ تعد الهضاب من التضاريس المهمة في العالم الاسلامي .

١١/ أكبر هضبة في العالم الاسلامي تمتد من ساحل المحيط الأطلسي غربا الى مرتفعات البحر الاحمر شرقا
تسمى هضبة الصحراء الكبرى

١٢/ تنقسم السهول في العالم الى نوعين سهول فيضيه و سهول ساحلية.

١٣/ أكثر الأقاليم المناخية انتشارا في دول العالم الاسلامي الاقليم الصحراوي .

١٤/ مساحة من الارض تتصف بعناصر مناخية متشابهة تسمى الاقليم المناخي . لا يسمح ببيعه

١٥/ من اهم مصادر الطاقة في العالم الغاز الطبيعي والنفط

١٦/ المصدر الرئيسي في العالم الاسلامي لإنتاج الغذاء هي الثروة الزراعية

١٧/ المحاصيل التي تزرع من اجل التصدير هي الغلات النقدية

١٨/ تصنع الحبال وبعض انواع الاحذية و الحقائب والأقمشة من أغصان نبات يسمى الجوت

١٩/ الدولة التي احتلت المركز الثاني على مستوى العالم للإنتاج البحري في عام ٢٠١٤ هي اندونيسيا.

٢٠/ الدولة الاسلامية الوحيدة في قارة امريكا الجنوبية هي سورينام

٢١/ يعد من المصادر غير الطبيعية لإنتاج الاسماك هو الاستزراع السمكي

٢٢/ الدولة التي لا تطل على سطح مائي تسمى دوله مغلقة

٢٣/ جبال تضم مكة وتحجز سهل تهامة في الغرب عن هضبة نجد في الشرق تسمى مرتفعات الحجاز

٢٤/ أشهر سهول دولة الكويت يمتد من جون الكويت باتجاه الجنوب موازيا للساحل يسمى سهل برقان

سهل يقع في شمال دولة الكويت يسمى الروضتين

٢٥/ أكثر الأشكال التضاريسية انتشارا في العالم الاسلامي هي التلال

مفاهيم الوحدة الاولى

٢ (اكتب المفاهيم أو المصطلحات الدالّة على العبارات التالية :

المفهوم	العبرة
١. الحضارة	هي كل ما يطرأ على المجتمع من تقدم وتطور وراقي سواء في الجانب المادي
٢. القصور	هي مقر الحاكم والمكان الذي يضم المؤسسات الادارية كالوزارة والدواوين
٣. المساجد	تقام فيها الصلوات وخطبة الجمعة والتعليم الديني .
٤. اهل الذمة	هم النصارى واليهود الذين ظلوا على دينهم مع دفع الجزية .
٥. الخراج	ضريبة الارض الزراعية التي تخرج مبلغا ماليا معيناً من ناتج المحصول الزراعي
٦. الجزية	مبلغ مالي يدفعه الرجال غير المسلمين من أهل الذمة ممن قادرون على حمل السلاح نظير حماية الدولة لهم
٧. الوقف الإسلامي	صدقه جاريه يوقفها المرء في حياته لوجوه الخير والبر ، ويكون اجرها ونفعها ما دامت باقية ويتم الاجر بعد وفاته
٨. الفسيفساء	مجموعة من المكعبات الزجاج المون والشفاف وقطع من الحجر الابيض والاسود والقطع الخزفية تثبت فوق طبقة من الجص
٩. الزكاة	هي ما يخرجها المسلم من حق الله تعالى في الاموال والثروات للفقراء وقيمتها ٢,٥٪ .

مفاهيم الوحدة الثانية

هذا العمل مجاني
لا يسمح ببيعه

١. التضاريس	أشكال سطح الارض وتطلق على الجبال والهضاب والسهول والتلال
٢. الوادي	حوض أو منخفض طبيعي على سطح الارض
٣. السهول	أجزاء فسيحة من سطح الأرض تتميز باستوائها وقلتها ارتفاعها
٤. الهضبة	أرض مرتفعة سطحها مستو، وتمتد لمساحة واسعة
٥. الجبل	كل قمة لا يقل ارتفاعها عن ١٠٠٠ متر تقريبا
٦. التل	يشبه الجبل ولكن ارتفاعه أقل من ١٠٠٠ متر
٧. المناخ	حالة الجو خلال فترة زمنية طويلة من حيث عناصره
٨. الطقس	حالة الجو في مكان لمدة قصيرة تتراوح بين يوم أو عدة أيام
٩. احتياطي النفط	كمية النفط المخزونة في باطن الارض ولم تستخرج بعد.
١٠. الإقليم المناخي	مساحة من الأرض تتصف بعناصر مناخية متشابهة.
١١. دول مغلقة	مصطلح يطلق على أي دولة لا تطل على مسطح مائي
١٢. الغلات النقدية	المحاصيل التي تزرع مت أجل التصدير مثل : القطن والمطاط الطبيعي.
١٣. الجوت	نبات ينمو في المناطق الاستوائية والموسمية. وتصنع الحبال والأحذية والحقائب والأقمشة الخشنة من أغصانه.

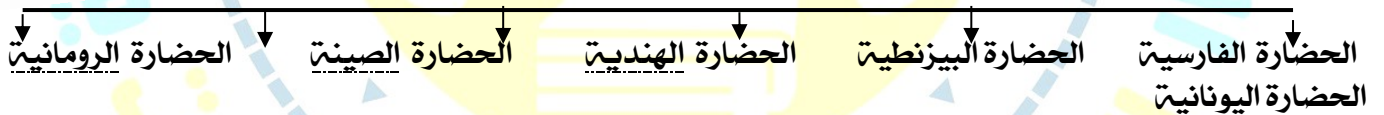
WWW.KweduFiles.Com

مخططات

الوحدة الاولى :

(٣) أكمل المخطط السهمي التالي :

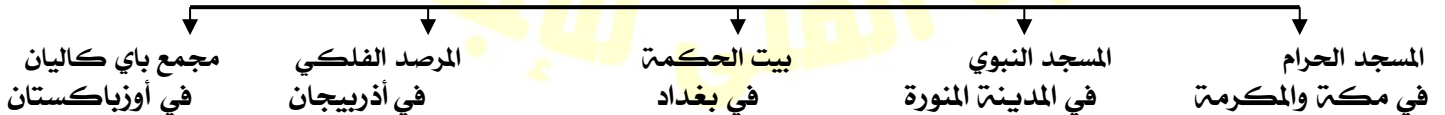
الحضارات الأخرى التي طورت الحضارة الاسلامية



المجالات التي أثرت بالعلماء الأوربيين



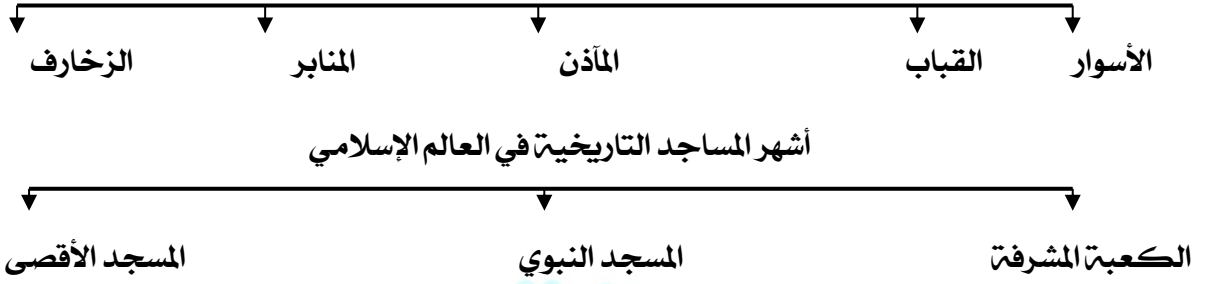
أهم المراكز العلمية في الحضارة الاسلامية



(المظاهر الاقتصادية في الحضارة الإسلامية)



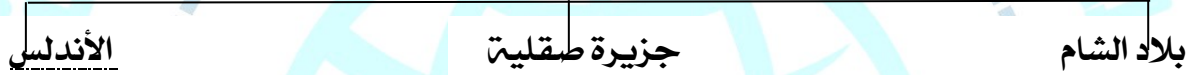
مميزات المظاهر العمرانية في الحضارة الإسلامي



المناصب الإدارية في الحضارة الإسلامية



مراكز إشعاع الحضارة الإسلامية



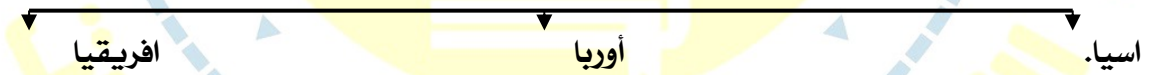
خصائص الحضارة الإسلامية



(٤) اكتب عنوانا للمخطط السهمي التالي :

مخططات
الوحدة الثانية :

قارات العالم القديمة




أشكال سطح الأرض



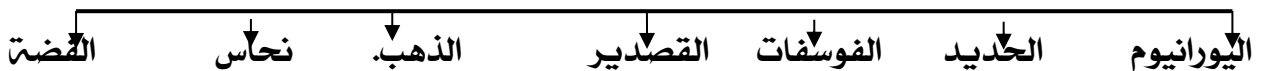
تلال الكويت



الإقليم المناخي في العالم الإسلامي



من أهم المعادن المنتجة في العالم الإسلامي



هذا العمل مجاني

لا يسمح ببيعه

اللغات النقدية

المطاط الطبيعي

الجوت

القطن.

صناعات تستخدم من نبات الجوت

الاقمشة الخشنة.

الحقائب

الحبال والاحذية.

جبال العالم الاسلامي

مره

الأخضر

الأحجار

أطلس

الهضاب في العالم الاسلامي

الصحراء الكبرى

نجد

الاناضول

مصادر انتاج الاسماك

الاستزراع السمكي

المياه العذبة

المحيطات البحار

الوحدة الاولى









(٥) استنتج الرابط بين العناصر التالية :

- ١/ الرياضيات + الفيزياء + الكيمياء + الفلسفة + الفلك
- ٢/ علوم الدين + حديث + فقه + تفسير + تاريخ
- ٣/ مساجد + قصور + مستشفيات + مكتبات + الأدوات + الاختراعات.
- ٤/ العلوم + الفكر + الأدب + الأخلاق + السياسة + الثقافة
- ٥/ القرآن الكريم والسنة النبوية + اللغة العربية + الحضارات الاخرى
- ٦/ شمولية + عالمية: + تسامح + حضارة إيمان وعمل + إنسانية
- ٧/ الوزير + الوالي + الحاجب + القاضي + المحتسب
- ٨/ سور الأحساء + سور القاهرة + سور بغداد
- ٩/ أهل الذمة + رجال الدين + حكام + خدم

الوحدة الثانية

١. الموقع + التضاريس + المناخ + الموارد المائية
٢. آسيا + أفريقيا + أوروبا
٣. وادي + سهل + هضبة + جبل
٤. الاخضر + مرة + الاحجار + الحجاز
٥. وارة + كراع المرو + جال اللياح + جال الزور
٦. موسمي + مداري + صحراوي + معتدل
٧. ثروة الطاقة والمعادن + الثروة الزراعية + الثروة السمكية
٨. يورانيوم + ذهب + فضة + نحاس
٩. مناخ + مياه + تربة خصبه + أيدي عامله

أرقام هامة

نسبة العاملين من سكان العالم الاسلامي في الزراعة تبلغ %٧٠	نسبة احتياط العالم الاسلامي من النفط الخام تبلغ %٥٨,٥	نسبة انتاج العالم الاسلامي من النفط الخام %٤١,٥	نسبة انتاج العالم الغاز الطبيعي تبلغ %٣٦	نسبة انتاج كازاخستان من معدن اليورانيوم تبلغ %٤١	تبلغ نسبة إنتاج العالم الحبوب بالنسبة للعالم حوالي ١٤ %	تبلغ مساحة العالم الاسلامي بالنسبة لمساحة العالم حوالي %٢,٢٢	تبلغ مساحة العالم الاسلامي حوالي ٣٢ مليون كم. ن
							

الوحدة الاولى

٦- (صنف - ضع - اكتب أسماء) .
أ. أسماء الكتب - أو العلماء

الادريسي	الرازي	الخوارزمي	البيروني	الجاحظ	العالم
نزهة المشتاق في اختراق الآفاق	الحاوي في الطب	الجبر والمقابلة	الصيدلة في الطب	الحيوان	الكتاب

بد اسم المسجد أو مكانه

اسم المسجد	المسجد النبوي	المسجد الأقصى
المسجد المشرفة	المدينة المنورة	القدس (فلسطين المحتلة)
مكة المكرمة:		

المسجد الأموي	جامع عمرو بن العاص	الجامع الأزهر	جامعة الزيتونة	جامع قرطبة	مسجد السلطان أحمد	مسجد عمر بن الخطاب
دمشق	الفسطاط	القاهرة	تونس	الأندلس	إسطنبول	المملكة العربية السعودية

ج- القصور + الأدب + الثقافة + الأدوات + الاختراعات + الأخلاق د- القرآن الكريم + شمولية + اللغة العربية + عالمية

الجوانب المادية	الجوانب الروحية
القصور- الأدوات- الاختراعات	الأدب- الثقافة - الأخلاق
اسس الحضارة الاسلامية	القرآن الكريم - اللغة العربية
شمولية- عالمية	شمولية- عالمية

(٢) ضع أسماء الخلفاء أو القصور التالية أسماؤهم كلا في مكانه حسب الجدول التالي :

هشام بن عبد الملك / معاوية بن ابي سفيان / يزيد بن الوليد - الرصافة / الخضر / عمرة

الخليفة	هشام بن عبد الملك	معاوية بن ابي سفيان	يزيد بن الوليد
اسم القصر	الرصافة	الخضر	عمرة
المكان	سوريا	دمشق	الاردن

٢/ النحاس - الجوت - الذهب - الارز - القطن - اليورانيوم - المطاط - الفضة
٣/ الذرة - الأرز - العنب - الموز - القطن - الجوت

الفواكه والثمار	الحبوب	الغلات النقدية
العنب الموز	الذرة الأرز	القطن الجوت

الثروة المعدنية	الثروة الزراعية
النحاس - الذهب - اليورانيوم - الفضة	الجوت - الارز - القطن - المطاط

(٧) اختر للمجموعة (أ) ما يرتبط بها من المجموعة (ب) بوضع الرقم المناسب .

م	المجموعة (أ)	الرقم المناسب	المجموعة (ب)
١	بلاد الأندلس	٣	سوريا - لبنان - فلسطين - الاردن
٢	صقلية	٢	إيطاليا
٣	بلاد الشام	١	إسبانيا والبرتغال
		—	بريطانيا

هذا العمل مجاني

لا يسمح ببيعه

١٨ فرق بين كل من

١- الصادرات والواردات في الحضارة الاسلامية-

الواردات	الصادرات
الأخشاب والتوابل والذهب	التمور والفواكه واللبن والخيول العربية

٢- مفاهيم كل من التالية :

الوقف الإسلامي	الجزية	الخراج	الزكاة
صدقة جارية يوقفها المرء في حياته لوجوه الخير والبر، ويكون أجرها ونفعها ما دامت باقية ويستمر الأجر حتى بعد وفاته.	مبلغ مالي يدفعه الرجال غير المسلمين من أهل الذمة (ممن هم قادرين على حمل السلاح نظير حماية الدولة لهم.	ضريبة الأرض الزراعية التي تخرج مبلغا ماليا معيناً من ناتج المحصول الزراعي	هي ركن من أركان الإسلام يخرجها المسلمون الأغنياء من الأموال والثروات للمستحقين من الفقراء

الوحدة الثانية

٢- أنواع المناخ من حيث صفة المطر :

المناخ المعتدل الدافئ	المناخ المداري	المناخ الموسمي الحار	المناخ الاستوائي الحار	المناخ
ممطرا شتاء وحار صيفا	الأمطار الصيفية قليلة	ممطر صيفا	ممطر طوال العام.	صفة الأمطار

٤/ مصادر انتاج الاسماك ص ٧٤

مصادر غير طبيعية	مصادر طبيعية
الاستزراع السمكي	المحيطات والبحار، المياه العذبة

٩/ قارن بين كل من

١/ عدد الدول الاسلامية في كل قارة :

قارة آسيا	قارة افريقيا	قارة أوروبا	أمريكا الجنوبية
٢٧ دولة	٢٦ دولة	دولتين البانيا و (البوسنة والهرسك)	دولة واحدة (سورينام)

٢/ جمهورية كازاخستان ، جمهورية المالديف

من حيث المساحة :

جمهورية كازاخستان	جمهورية المالديف
اكبر الدول الاسلامية	اصغر الدول الاسلامية

الجبل	التل
لا يقل ارتفاعها عن ١٠٠٠ متر تقريبا.	اقل من ١٠٠٠ متر.

٣/ الجبل والتل من حيث الارتفاع

٤/ الكويت وهضبة الصحراء الكبرى من حيث الكثافة السكانية

الكويت	هضبة الصحراء الكبرى
كثافة سكانية مرتفعة.	كثافة سكانية منخفضة جدا

٥/ المناخ والطقس من حيث الفترة الزمنية

المناخ	الطقس
فترة زمنية طويلة.	فترة زمنية قصيرة.

١٠/ أعد ترتيب الأحداث التالية ترتيبا تصاعديا من الاقدم إلى الأحدث بوضع الرقم الصحيح في المربع :


ترتيب الأحداث	الأحداث
٤	١- ظهور منصب إداري جديد في الدولة الإسلامية وهو الخليفة.
٢	٢- اجتماع المسلمون في سقيفة بني ساعدة.
٣	٣- اختيار أبي بكر الصديق - <small>رضي الله عنه</small> كأول حاكم بعد الرسول - <small>صلى الله عليه وسلم</small> .
٥	٤- استحداث منصب إداري جديد في عهد الخليفة الراشد الثاني عمر بن الخطاب - <small>رضي الله عنه</small> .
١	٥- وفاة الرسول - <small>صلى الله عليه وسلم</small> - في ١٢ من ربيع الأول عام ١١ هـ.

الرقم	السؤال ١١ / فسر	الاجابة
١.	تسمية الحضارة الإسلامية بهذا الاسم.	نسبة الى الدين الإسلامي.
٢.	تسمية صناعة الأرابيسك بهذا الاسم	سميت بهذا الاسم نسبة إلى العرب.
٣.	تسمية الزكاة بهذا الاسم .	سميت الزكاة لما فيها من تزكية للنفس وتطهيرها
٤.	أهمية الوقف الاسلامي .	يسد حاجات الفقراء ونشر العلم النافع وبناء المدارس ودور الأيتام
٥.	أهمية المساجد في العالم الاسلامي	تقام فيها الصلوات وخطبة الجمعة والتعليم الديني
٦.	تسمية هضبة أفريقيا الشمالية	نظرا لامتدادها الواسع من ساحل المحيط الاطلسي غربا الى مرتفعات البحر الاحمر شرقا.
٧.	تسمية مرتفعات الحجاز بهذا الاسم.	لان هذه المرتفعات تحجز سهل تهامة في الغرب عن هضبة نجد في الشرق
(١٢) علل / اذكر السبب .		
١.	اهتمت الحضارة الإسلامية بالموارد الاقتصادية والمالية	بسبب دورها في تقدم البلاد وازدهار وتوفير أسباب العيش الكريم.
٢.	اهتمت الدولة الإسلامية بالقطاع الصناعي اهتماما كبيرا.	من أجل استثمار الموارد الطبيعية المتوفرة بها.
٣.	تدين أوروبا بالفضل الكبير للحضارة الإسلامية.	لأنها كانت السبب في النهضة الصناعية والعلمية الأوروبية الحديثة.
٤.	لقيت التجارة تشجيعا كبيرا في الحضارة الإسلامية.	أ/ لدورها الكبير في التبادل التجاري مع المناطق المجاورة ب/ اسهمت في نشر الدين الإسلامي ج/ ازدهار التجارة
٥.	ازدهار العلم وظهور العلماء في الدولة الإسلامية	تشجيع العلماء والرعاية / التنافس العلمي بين الدول الإسلامية / حركة التعريب / الرخاء الاقتصادي
٦.	يتصل العالم الاسلامي مع بقية العالم بسهولة.	لانه يشغل موقعا جغرافيا مهما في وسط العالم ولامتداده ضمن اربع قارات
٧.	تنوع التضاريس في العالم الاسلامي.	لاتساع مساحة الارض التي يشغلها العالم الاسلامي حيث تبلغ ٣٢ مليون كم ٢.
٨.	للسهول أهمية كبيرة	لاستخدامها كموانئ طبيعية - تشييد المدن. - تركيز السكان فيها
٩.	تشييد المدن في السهول.	لان السهول عبارة عن أجزاء فسيحة من سطح الارض تتميز باستوائها وقله ارتفاعاتها.
١٠.	تركز السكان في السهول.	نظرا لسهولة التنقل فيها.
١١.	تنوع المناخ في دول العالم الاسلامي	أ- مساحة العالم الاسلامي الشاسعة. ب- الموقع بالنسبة لدوائر العرض. ج- يطل في معظم اجزائه على العديد من المسطحات المائية.
١٢.	الكثافة السكانية في الصحراء الكبرى ضئيلة	لتواجدها ضمن المناخ الصحراوي الحار.
١٣.	تنوع الثروات الطبيعية في العالم الاسلامي	أ- بسبب المساحات الشاسعة التي يمتلكها العالم الاسلامي. ب- امتلاكه تضاريس متنوعه. ج- يقع في مناخات متنوعة.
١٤.	تعد الثروة الزراعية هي المصدر الرئيسي لإنتاج الغذاء	لوجود العديد من العوامل المساعدة على الانتاج الزراعي مثل التربة الخصبة، المناخ، وجود مصادر الماء الطبيعية، سقوط الامطار، كثرة الايدي العاملة
١٥.	تنوع مصادر انتاج الاسماك في دول العالم الاسلامي	لوجود مصادر طبيعية كالمحيطات و غير طبيعية كالاستزراع السمكي
١٦.	قلّة عدد السكان في المناطق الجبلية في دول العالم الاسلامي	شدة انحدارها/ قلّة الاكسجين/ صعوبة التنقل/ انخفاض الضغط الجوي

١٣/ برهن على صحة العبارة التالية:	
١.	انعكس أثر خصائص الحضارة الإسلامية على دولة الكويت: • نشأ الشعب الكويتي على التراحم والعدل والتسامح والمساواة. • العمل على فعل الخير من خلال تأسيس المؤسسات والهيئات والجمعيات الخيرية • مد يد العون سواءً للمسلمين أو غير المسلمين
٢.	كان لجزيرة فيلكا دور يعود للعصر الإسلامي: رصد قريتا القرينية في شمال جزيرة فيلكا والقصور في وسطها ازدهرتا بازدهار الطريق التجاري البحري عبر الخليج العربي.. وكانت تمارس فيهما التجارة والغوص على اللؤلؤ والزراعة والرعي.
٣.	استفاد الاوروبيون من الحضارة الاسلامية في عدة مجالات منها الجغرافيا والفلسفة واستخراج المياه الجوفية. مجال المجاري الجوفية في مدينة (مجريط) وهي مدريد حيث قام المسلمون بمد المجاري الجوفية تحت الأرض بطريقة هندسية محكمة. مجال الجغرافيا: أثبتوا أن الأرض كروية واكتشفوا الأمريكيين نتيجة لترجمتهم لكتاب الإدريسي مجال الهندسة الإنجليزي روجر بيكون في القرن السابع الهجري تأثر بكتاب الهندسة للفيلسوف الكندي
١٤) دلل على صحة العبارة التالية:	
١.	(لقد استوعبت وتقبلت الحضارة الإسلامية شعوبا عديدة على مدار تاريخها من العرب والفرس والترك والأفارقة والآسيويين والهنود والأوروبيين)
٢.	اهتمام المسلمين في الحضارة الإسلامية بالزراعة أ/ شق القنوات المائية والترع .ب/ اقامة السدود. ج/ تنظيم وسائل الري. د/ انشاء ديوان الماء
٣.	شعب الكويت جبل على حب الخير الدائم والأجر المستمر. انشاء وزارة الأوقاف والشؤون الإسلامية
١٥/ اكتب مما درست حول :	
١.	البيروني عدد مؤلفاته 180 مؤلف أشهر مؤلفاته كتاب الصيدلة في الطب أهم اكتشافاته معادلت نصف قطر الأرض والتي سميت باسمه (معادلت البيروني)
٢.	يوم الاحتفال باللغة العربية أصدرت الجمعية العامة للأمم المتحدة في شهر ديسمبر عام ١٩٧٣ قرارا بإدخال اللغة العربية ضمن اللغات الرسمية بعد اقتراح قدمته المملكة العربية السعودية ومملكة المغرب ، واعتبر يوم ١٨ ديسمبر من كل عام يوم الاحتفال باللغة العربية
٣.	المسجد الأقصى هو أحد أكبر مساجد العالم أول القبليتين يقع في القدس وهو كامل المنطقة المحاطة بالسور ويشمل قبة الصخرة والمسجد القبلي والمصلى المرواني وعدة معالم
٤.	مجالس القصص والوعاظ، هي مجالس توجد في المجتمع الإسلامي لسماع القصص والحكايات
٥.	موقع العالم الإسلامي يملك موقع جغرافي هام ، يمتد في القارات القديمة (آسيا، أفريقيا، أوروبا) بالإضافة إلى أمريكا الجنوبية، يقع بين خطي طول ١٨ ° غربا إلى ١٤١ ° شرقا، ودائرتي عرض ١٣ ° جنوب خط الاستواء إلى ٥٥ ° شمال خط الاستواء.
٦.	جمهورية كازاخستان أكبر الدول الإسلامية من حيث المساحة، وأولى الدول في انتاج اليورانيوم

٧.	هضبة الصحراء الكبرى	أكبر الهضاب في العالم، وتمتد من ساحل المحيط الأطلسي غرباً إلى مرتفعات البحر الأحمر شرقاً.
٨.	المسجد الكبير	افتتح في عام 1986 في عهد الشيخ جابر الأحمد الصباح تم بناء المسجد الكبير وفق الطراز الأندلسي الإسلامي يقع المسجد الكبير في قلب عاصمة الكويت مقابل قصر السيف
١٦ / عدد		
١.	اسس الحضارة الاسلامية:	أ- القرآن الكريم والسنة النبوية ب- اللغة العربية ج- الحضارات الاخرى
٢.	الصناعات التي ظهرت في الحضارة الاسلامية.	صناعة السفن - صناعة الأسلحة - صناعة الورق - صناعة الأدوية - صناعة المنسوجات - صناعة الخزف والمعادن - كذلك برزت الصناعات الخشبية
٣.	العوامل أدت إلى ازدهار العلم وظهور العلماء:	١) تشجيع العلماء ورعاية وتمويل القيادات السياسية لهم من خلفاء وملوك وسلاطين وأمراء. ٢) التنافس العلمي بين الدول الإسلامية. ٣) حركة التعريب (الترجمة للكتب القديمة اليونانية والهندية والفارسية وغيرها). ٤) الرخاء الاقتصادي.
٤.	المناصب السياسية في الدولة الإسلامية.	(الخليفة - الوالي - القاضي - الحاجب)
٥.	خصائص الحضارة العربية الإسلامية.	(تسامح - إيمان وعمل - إنسانية - عالمية - شمولية)
٦.	الصناعات التي اهتم بها المسلمون.	صناعة السفن / الأسلحة / الأدوية / الورق / المنسوجات / الخزف والمعادن
٧.	الشخصيات الكويتية التي أطلق عليها لقب قائد العمل الانساني	أ- الشيخ صباح الأحمد الصباح ب- الداعية عبدالرحمن السميح
٨.	العوامل التي ساعدت في تنوع المناخ في دول العالم الإسلامي	* امتداد دول العالم الإسلامي على مساحة شاسعة. * الموقع بالنسبة لدوائر العرض. * الإطلالة على عدة مسطحات مائية في معظم أجزائه. * التنوع في التضاريس من جبال وهضاب وسهول ووديان.
٩.	أهم موارده الطبيعية في العالم الإسلامي.	أ - ثروات الطاقة والمعادن (النفط والغاز الطبيعي / الثروات المعدنية) ب - الثروة الزراعية. (الحبوب / الغلات النقدية / الفواكه والثمار) ج - الثروة السمكية
١٧ / أجب عن الأسئلة التالية :		
١.	ماهي موارد بيت مال المسلمين ؟	الزكاة - الخراج - الجزية - الوقف الإسلامي
٢.	ما أهم مميزات المظاهر العمرانية ؟	الأسوار - القباب - المآذن - المنابر - الزخارف
٣.	ماهي نتائج حضارة إيمان وعمل ؟	التمنية والإبداع / حفظ التراث
٤.	كيف تصنع الأحذية والحقائب والأقمشة الخشنة من نبات الجوت	تؤخذ أغصانه وتوضع تحت الماء وتطمر بالطين، وبعد أيام تستخرج وتغزل ويصنع منها الحبال التي تصنع الأحذية والحقائب والأقمشة الخشنة

١٨ / ضع عنوانا مناسباً للـ... (الصور- الأشكال- الخرائط- المعلومات- ... الخ) التالية :




المسجد الأقصى

الصناعات في الحضارة الاسلامية

علماء المسلمين

خريطة الادريسي

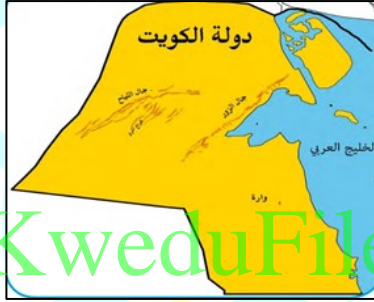
المسجد الكبير



عوامل زيادة الانتاج الزراعي

ثروات الطاقة النفط والغاز الطبيعي

أسس الحضارة الاسلامية المعادن في دول العالم الاسلامي



تكريم الشيخ
صباح الأحمد
الصباح، والذي
لقب من قبل الأمم
المتحدة (بمقاتد
العمل الإنساني)
بتاريخ ٩ سبتمبر
٢٠١٤ في مجال
العمل الخيري

خريطة توضح التلال في دولة الكويت

معايير الحضارة الاسلامية الى أوروبا أو مراكز اشعاع الحضارة الاسلامية

١٩ / اكتب مدلولات الأرقام أو الرموز أو الأشكال على الخريطة التي أمامك :



• بلاد الأندلس من مراكز الاشعاع يمثله

الحرف : أ

• المرصد الفلكي في أذربيجان يمثله الحرف و

• بيت الحكمة يمثله الحرف : ب

• مجمع باي كاليان يمثله الحرف : د

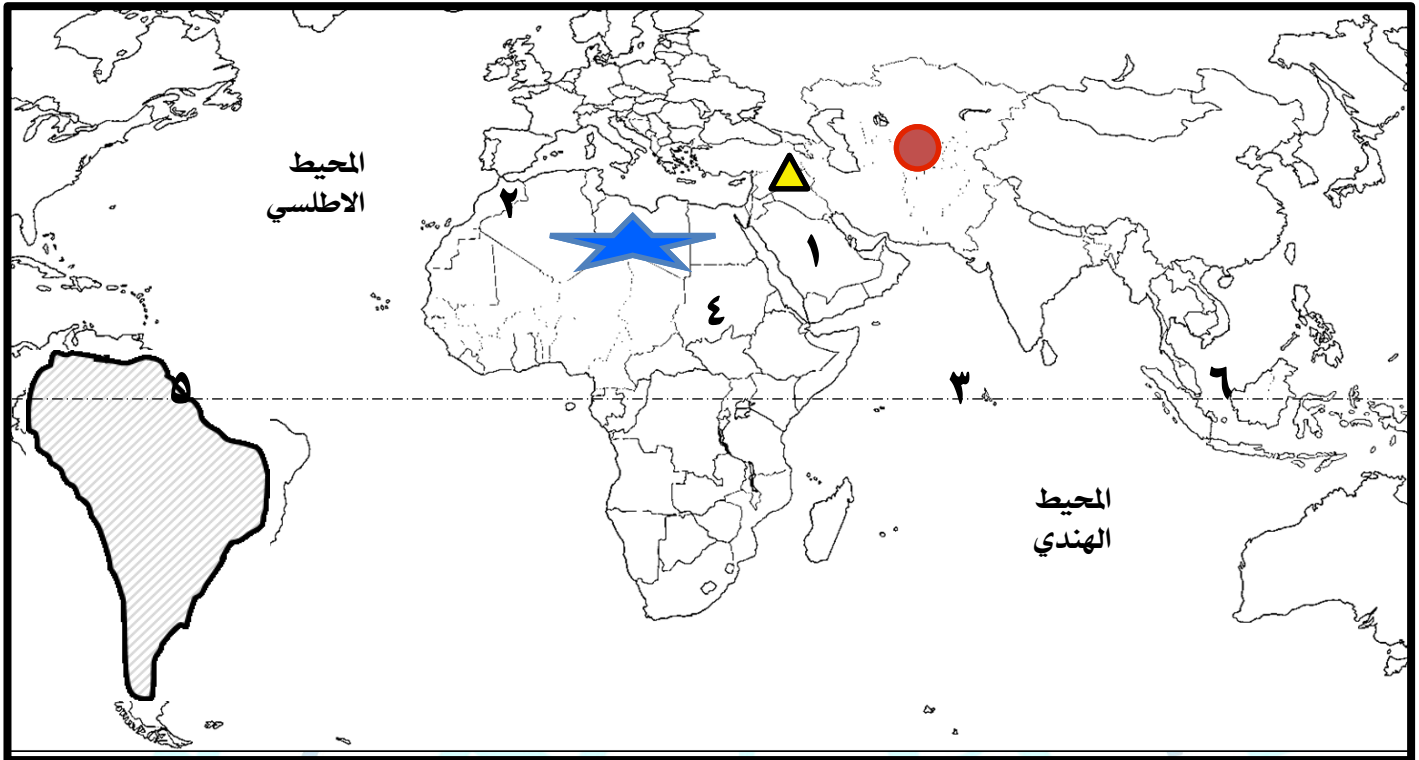
• مسجد رفعه نبي الله ابراهيم واسماعيل يمثله

الحرف : ج

• المحيط الاطلسي يمثله الحرف س

• دولة اسلامية يكثر بها الانتاج السمكي

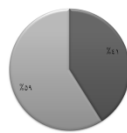
تحمل الحرف ي



دولة سورينام يمثلها الرقم ٥	أصغر الدول الإسلامية مساحة يمثلها الرقم ٣	يشير الرقم (١) الى هضبة تسمى نجد	الشكل ● يمثل اكبر الدول الإسلامية مساحة تسمى كازاخستان
ارسم خط الاستواء	الدولة الإسلامية التي يوجد بها جبل مره يمثلها الرقم ٤	يشير الرقم (٢) الى جبال تسمى أطلس	الشكل ★ يمثل هضبة الصحراء الكبرى
حدد كل من المحيط الهندي والمحيط الأطلسي كتابيا على الخريطة	ظلل قارة أمريكا الجنوبية	يشير الرقم (٦) الى دولة تحتل المركز الثاني في الانتاج البحري تسمى إندونيسيا	الشكل ▲ يمثل سهول تسمى دجلة والفرات

٢٠ / لاحظ الشكل المقابل ثم أكمل

أعد ترتيب الثلاث دول الاولى في المعادن المذكورة في الجدول ص ٢٠
كازاخستان - اوزباكستان - كازاخستان واندونيسيا
أقل نسبة انتاج في اليورانيوم (باكستان)
حول نسبة كازاخستان في اليورانيوم لدائرة بيانية



شكل (٢٨) نسبة إنتاج اليورانيوم والذهب والفضة من جملة إنتاج دول العالم الإسلامي حسب إحصاء ٢٠١٤ (١)

اقرأ الفقرة ثم أجب على التالي :

من مقولات المفكر الفرنسي في كتاب حضارة العرب ➤ . لم يعرف التاريخ أمة أرحم من العرب (المسلمين) . والرحمة والعدل عندهم متلازمان, ولقد فاق العرب (المسلمين) كل من سبقهم من الأمم وظهرت قوتهم الإبداعية في مختلف الفنون

هذا العمل مجاني
لا يسمح ببيعه

١ / من القائل؟ المفكر الفرنسي غوستاف لوبون
٢ / على ماذا تدل؟ اعتراف الغرب بدور الحضارة الإسلامية

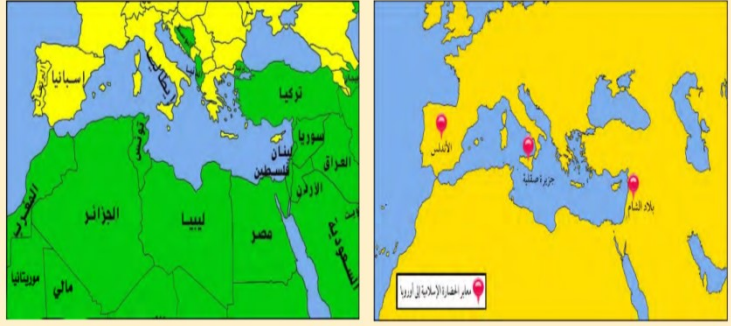
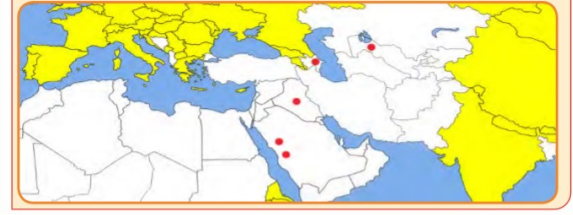
ملحق الخرائط

أهم المراكز العلمية في الحضارة الإسلامية

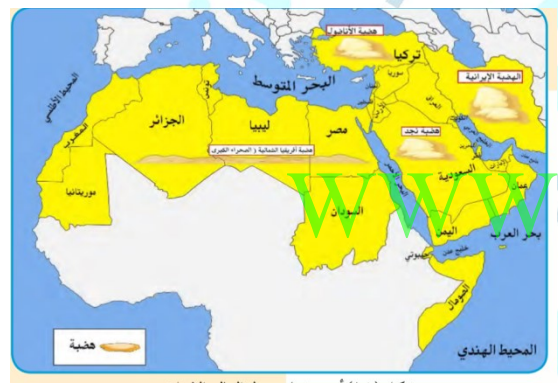
- المسجد الحرام في مكة المكرمة و المسجد النبوي في المدينة المنورة
- بيت الحكمة في بغداد
- المركز الفلكي في مراغة في أذربيجان^(١)
- مجمع باي كالبان في مدينة بخارى في أوزبكستان.

نشاط (٢)

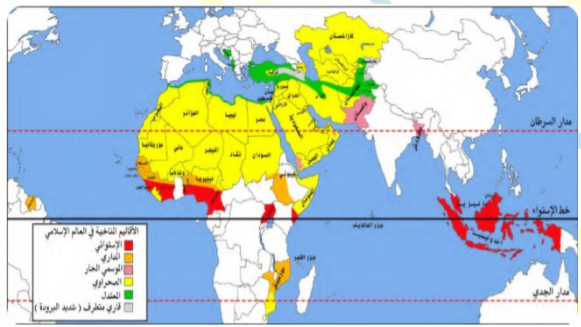
وزع أسماء المدن التي ظهرت فيها المراكز العلمية في الحضارة الإسلامية حسب الرمز الصحيح على الخريطة التي أمامك .



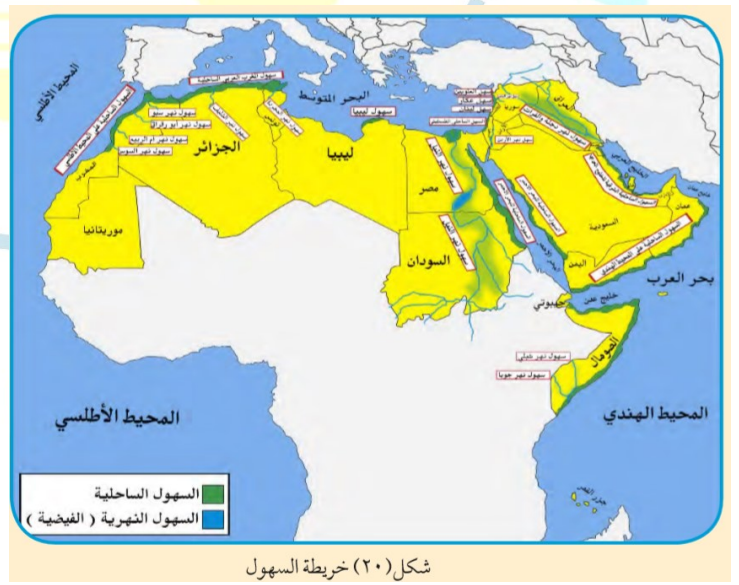
شكل (١٣) الدول الحديثة مراكز أشعاع الحضارة الإسلامية



شكل (١٨) أهم حضاب دول العالم الإسلامي



شكل (٢٤) خريطة الأقاليم المناحية في دول العالم الإسلامي



شكل (٢٠) خريطة السهول



شكل (٢٨) يوضح أهم الدول الإسلامية المنتجة للأسمك

هذا العمل مجاني
لا يسمح ببيعه

ملخص للخرائط

الجبل				تل	الهضبة	السهول		الوادي			
كل قمة من سطح الأرض لا يقل ارتفاعها عن ١٠٠٠ متر تقريبا				جزء من سطح الأرض ويشبه الجبل ولكن ارتفاعه أقل من ١٠٠٠ متر	الأرض المرتفعة وسطحها مستو وتمتد لمساحة واسعة	يطلق على الأجزاء المسطحة من سطح الأرض والتي تتميز باستوائها وقلّة ارتفاعها		الحوض أو المنخفض الطبيعي من سطح الأرض			
أمريكا الجنوبية	أوروبا	أفريقيا	آسيا	أفريقيا	آسيا	أفريقيا	آسيا				
سورينام	قمة جبال جولييانا توب	البنينا والبوسنة والهرسك	جبال الالب الدينارية	سودان	جبل مره	عمان	الجبل الاخضر		سهل بركان و الروستين		
				ليبيا	الجبل الاخضر	السعودية	جبال الحجاز وعسير		الكويت	سهل دجلة والفرات	
				الجزائر	جبال الأحجار	باكستان	جبال باكستان		العراق	سهل نهر الاردن	
				جزائر - المغرب	جبال أطلس	كشمير	جبال كشمير	الاردن			
تلال جبال التور واللباح واردة في الكويت				من مصر الى الجزائر	هضبة الصحراء الكبرى	إيران	الهضبة الإيرانية	مصر	السودان	سهل نهر النيل	الكويت
						تركيا	هضبة الأناضول	الصومال	شيبلي	العراق	الاردن
						السعودية	هضبة نجد	تونس			

www.KweduFiles.Com

طبق على خريطة العالم المظاهر التضاريسية السابقة



هذا العمل مجاني
لا يسمح ببيعه