

تم تحميل هذا الملف من موقع المناهج الكويتية



الملف نموذج إجابة منطقة مبارك الكبير

موقع المناهج ← المناهج الكويتية ← الصف السادس ← علوم ← الفصل الأول

روابط مواقع التواصل الاجتماعي بحسب الصف السادس



روابط مواد الصف السادس على تلغرام

[الرياضيات](#)

[اللغة الانجليزية](#)

[اللغة العربية](#)

[التربية الاسلامية](#)

المزيد من الملفات بحسب الصف السادس والمادة علوم في الفصل الأول

<a href="#">تلخيص مهم للكورس اول في مادة العلوم</a>	1
<a href="#">نموذج اجابة بنك أسئلة وحدة الارض والفضاء في مادة العلوم</a>	2
<a href="#">اجابة بنك اسئلة الروافع في مادة العلوم</a>	3
<a href="#">اجابة بنك اسئلة وحدة التكيف مع الكائنات الحية</a>	4
<a href="#">تلخيص الوحدة الأولاد(التكيف مع الكائنات الحية) في مادة العلوم معدل</a>	5

نموذج

الإجابته



وزارة التربية  
الإدارة العامة لمنطقة مبارك الكبير التعليمية



امتحان نهاية الفصل الدراسي الأول في مادة العلوم للصف السادس

للعام الدراسي (٢٠٢١/٢٠٢٢م)

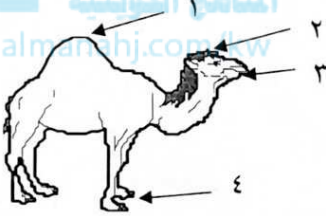
نموذج الإجابة

أولاً : الأسئلة الموضوعية ( ٣٦ درجة )

١٦

السؤال الأول : اختر الإجابة الصحيحة علمياً لكل من العبارات التالية بوضع

علامة ( ✓ ) في المربع المقابل لها : ( ٨ × ٢ ) :



١ - تكيف يساعد الجمل على تخزين الدهون كغذاء يمثله الرقم : ص ٢٤

٤

٣

٢

١

ص ٥٣



٢- يعتبر جراب الكنغر تكيف:



تلون وقائي

فطري

بنيوي

سلوكي

٣- أحد الصور التالية سلوك مكتسب: ص ٥٨



٤- أحد الأشكال التالية لا يعتبر من عناصر الرافعة : ص ٧٩

المقاومة

اله بسيطة

محور الارتكاز

القوة

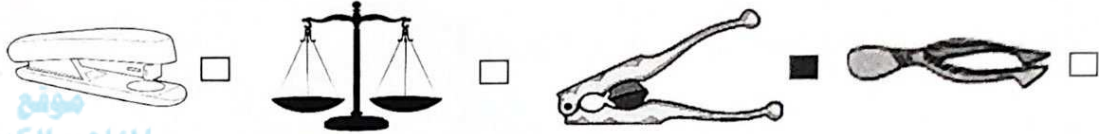


نموذج الإجابة

٥- أحد الصور التالية رافعة من النوع الثاني: ص ٨١



٦- أحد الصور التالية رافعة توفر الجهد : ص ٨٨



موقع  
المناهج الكويتية  
almanahj.com/kw

٧- عند اخراج الطعام من الفرن يتم وضعه على وسائد مصنوعة من : ص ١٢٨



□ النحاس □ الألمنيوم □ الحديد □ القش

٨- عندما يكون نصف القمر المواجه للأرض كله مظلم يسمى : ص ١٧١

□ تربيع أول □ بدر □ محاق □ تربيع ثاني

٨

**السؤال الثاني: أكتب بين القوسين كلمة ( صحيحة ) للعبارة الصحيحة وكلمة ( خطأ ) للعبارة**

**غير الصحيحة علمياً في كل مما يأتي :- ( ٨ × ٢ )**

(...صحيحة...)

١- المحميات الطبيعية أماكن تحمي النباتات والحيوانات بالقانون . ص ٣٩

(...خطأ...)

٢- كمية الدم المتدفقة قليلة في أرجل الحيوانات التي تعيش في المناطق الباردة. ص ٢٩

(...خطأ...)

٣- كلما كان الكوكب قريب من الشمس كلما انخفضت درجة حرارته. ص ١٦٩

(...صحيحة...)

٤- الهواء الساخن أخف من الهواء البارد . ص ١٣٣



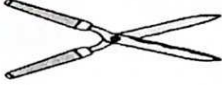


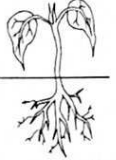


٢٠٢٢ - ٢٠٢١ - امتحان نهاية الفصل الدراسي الأول في مادة العلوم للصف السادس للعام الدراسي



السؤال الثالث في الجدول التالي اختر العبارة أو الشكل من المجموعة ( ب ) وأكتب رقمها

أمامها يفايسهما من عبارات المجموعة ( أ ) : ( ٦ × ٢ )

١٢

الرقم	المجموعة ( أ )	المجموعة ( ب )
( ١ )	ص ١٢٧ - طريقة انتقال الحرارة في السوائل والغازات .	١- الحمل . ٢- الإشعاع .
( ٢ )	- طريقة انتقال الحرارة في المواد الصلبة .	٣- التوصيل .
( ٤ )	ص ٨١ - رافعة من النوع الأول .	٤-  -٤
( ٦ )	- رافعة من النوع الثالث .	٥-  -٥ ٦-  -٦
( ٧ )	ص ٥٧-٥٥-٢٨ - الشكل الذي يمثل التكيف البنوي .	٧-  -٧
( ٩ )	- الشكل الذي يمثله التكيف السلوكي الفطري .	٨-  -٨ ٩-  -٩





نموذج الإجابة

٤

١٠

ثانياً : الأسئلة المقالية (٢٤ درجة)

السؤال الرابع : (أ) علل لما يأتي تعليلاً علمياً سليماً : (٢ × ٢)

١ - وجود طبقة من الدهون تحت جلد الذب القطبي . ص ٢٩

٣

.....لتحميه من البرد القارس.....

٢ - تذوب قطعة الثلج في اليد . ص ١٢٦



٣

.....لان حرارة الجسم تنتقل لقطعة الثلج بالتوصيل.....

السؤال الرابع : (ب) اكمل جدول المقارنة التالي : (٤ × ١)

٤

موقع المناهج الكويتية  
almanahj.com/kw

وجه المقارنة	بكرة ثابتة	بكرة متحركة
العلاقة بين القوة والمقاومة ص ١٠٥	القوة = المقاومة ١	القوة = $\frac{2}{1}$ المقاومة ١
وجه المقارنة		
نوع المعيشة ص ٦٠	جماعية ١	انفرادية ١

٢

السؤال الرابع : (ج) حلل بيانات الجدول التالي بوضع خط تحت الإجابة الصحيحة : (٢ × ١) ص ١٢٢

المواد	درجة حرارة المادة بعد التسخين لمدة ١٥ دقيقة	درجة حرارة المادة بعد التسخين لمدة ٣٠ دقيقة
المادة (أ)	٢٠ درجة	٢٠ درجة
المادة (ب)	٦٠ درجة	١٢٠ درجة

١ - المادة (أ) مادة (موصلة - رديئة التوصيل - عازلة) ١

١ - المادة (ب) مادة (موصلة - رديئة التوصيل - عازلة) ١





نموذج الإجابة

التوجيه الفني للعلوم - امتحان نهاية الفصل الدراسي الأول في مادة العلوم للصف السادس للعام الدراسي ٢٠٢١ - ٢٠٢٢

٢

٨

### السؤال الخامس: (أ) صف التكيفات التالية في الجدول التالي: (٢×١)

(وضعية الإنذار للقط - اللسان اللاصق لنقار الخشب - حمل العقرب الام صغارها على ظهرها - الفراء الأبيض للذب القطبي)  
ص ٢٩-٥٢

تكيف بنوي	تكيف سلوكي
① اللسان اللاصق لنقار الخشب	① وضعية الإنذار للقط
② الفراء الأبيض للذب القطبي	② حمل العقرب الام صغارها على ظهرها

www.almanahj.com/kw

٤

### السؤال الخامس: (ب) أي مما يلي لا ينتمي بوضع خط تحته مع ذكر السبب: (٢×٢)

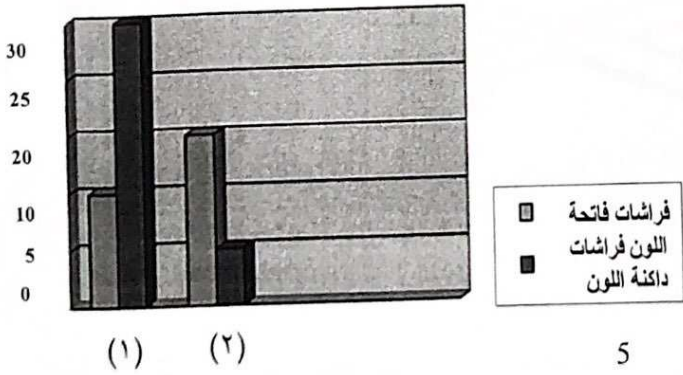
١- زرع الأشجار - المحميات الطبيعية - ارتفاع منسوب مياه المحيط ① - منع الصيد وقطع الأشجار  
ص ٣٨-٣٩-٣٦

- لأنه.... من تأثير الاحتباس الحراري ②..... الباقي: طرق حماية المواطن الطبيعية والكائنات.....  
ص ٩٧-٧٤

٢- من الروافع ③..... الباقي: بكرات ④.....  
ص ٩٧-٧٤

٢

### السؤال الخامس: (ج) ادرس الرسم البياني التالي ثم اجب عن المطلوب: (٢×١)



ص ٢١  
- البيئة النظيفة يمثلها الرقم ( ٢ ) ①  
- البيئة الملوثة يمثلها الرقم ( ١ ) ①



٢

٦

**السؤال السادس : ادرس الرسومات التالية ثم اجب عن المطلوب : (٣×٢)**



١- أي الملعقتين تفضل لتقليب الطعام اثناء الطهي . ص ١٣٠

- أفضل استخدام الملعقة رقم ( ٢ ) ( ١ )

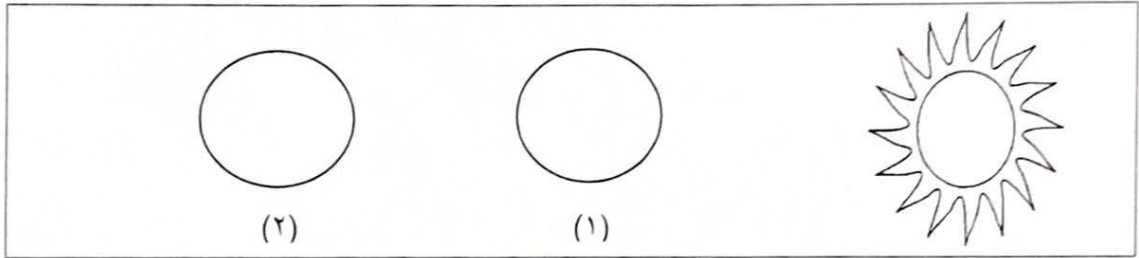
- السبب : ... لأنه مادة عازلة للحرارة .....

ملعقة خشب (٢)      ملعقة حديد (١)

موقع  
المناهج الكويتية  
almanahj.com/kw

٢

٢- حدد على الرسم التالي موقع كل من الأرض والقمر في ظاهرة كسوف الشمس . ص ١٦٧




- الأرض يمثلها الرقم ( ٢ ) ( ١ )

- القمر يمثلها الرقم ( ١ ) ( ١ )

٢

٣- حدد على الرافعة كل من موضع تأثير القوة و محور الارتكاز . ص ٧٩

محور الارتكاز (١)



انتهت الأسئلة

