

تم تحميل هذا الملف من موقع المناهج الكويتية



الملف نموذج إجابة منطقة حولي

[موقع المناهج](#) ← [المناهج الكويتية](#) ← [الصف السابع](#) ← [اجتماعيات](#) ← [الفصل الثاني](#)

روابط مواقع التواصل الاجتماعي بحسب الصف السابع



روابط مواد الصف السابع على تلغرام

[الرياضيات](#)

[اللغة الانجليزية](#)

[اللغة العربية](#)

[التربية الاسلامية](#)

المزيد من الملفات بحسب الصف السابع والمادة اجتماعيات في الفصل الثاني

مذكرة موضوعية محلولة	1
حل الكتاب	2
حل الوحدة الرابعة في مادة الاجتماعيات	3
بنك اسئلة التربة سابع	4
مراجعات الصف السابع	5



اختبار نهاية الفترة الدراسية الثانية
المناهج الكويتية
almanahj.com/kw

العام الدراسي 2022/2021م

الصف السابع

نموذج إجابة اختبار مادة

الاجتماعيات

الخميس – 2 / 6 / 2022

نموذج اجابة



وزارة التربية

الإدارة العامة لمنطقة حولي التعليمية

التوجيه الفني للاجتماعيات

العام الدراسي : ٢٠٢١/٢٠٢٢ م

الزمن: ساعة و ٤٥ دقيقة

عدد الصفحات : (٧)

امتحان نهاية الفترة الدراسية الثانية

مقرر/ دولة الكويت والوطن العربي

للسف السابع المتوسط

السؤال الأول موضوعي ويتكون من (أ - ب - ج - د - هـ - و) : (٣٠ درجة لكل سؤال درجة)

(أ) ظل الخيار الصحيح من بين الخيارات التي تلي كل عبارة :

١- الدولة العربية التي تحتل المركز الأول في إنتاج البن : ص ١١٤

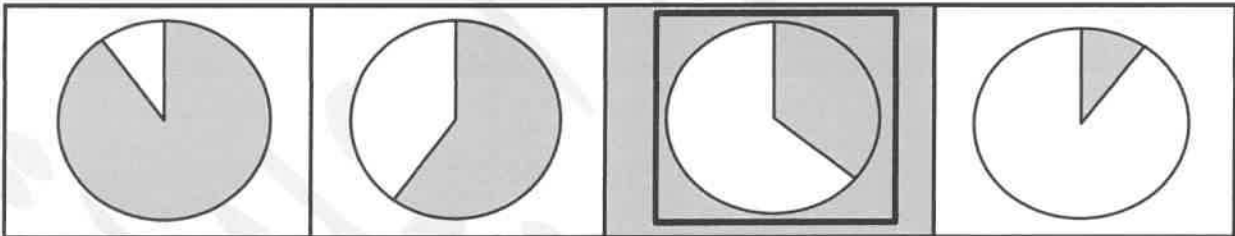
موقع
المنهج الكويتية
almanahj.com/kw

عمان	<u>اليمن</u>	السعودية	الكويت
------	--------------	----------	--------

٢- العوامل التي تساعد على تحويل المادة الخام إلى سلع إستهلاكية : ص ١٣٩

مقومات الطاقة	مقومات طبيعية	مقومات بشرية	<u>مقومات الصناعة</u>
---------------	---------------	--------------	-----------------------

٣- نسبة إنتاج الوطن العربي من النفط الخام بالنسبة للعالم يمثلها الجزء المظلل على الدائرة البيانية : ص ١٢٧



٤- العام الذي عقد فيه أكبر مؤتمر للأمم المتحدة بالبرازيل (ريودي جانيرو) : ص ١٦٧

١٩٩٤م	١٩٩٣م	<u>١٩٩٢م</u>	١٩٩١م
-------	-------	--------------	-------



٥- الشكل المقابل يمثل نوع من أنواع الصناعات : ص ١٤٤

التحويلية	التعدينية
<u>الحرفية</u>	التجميعية

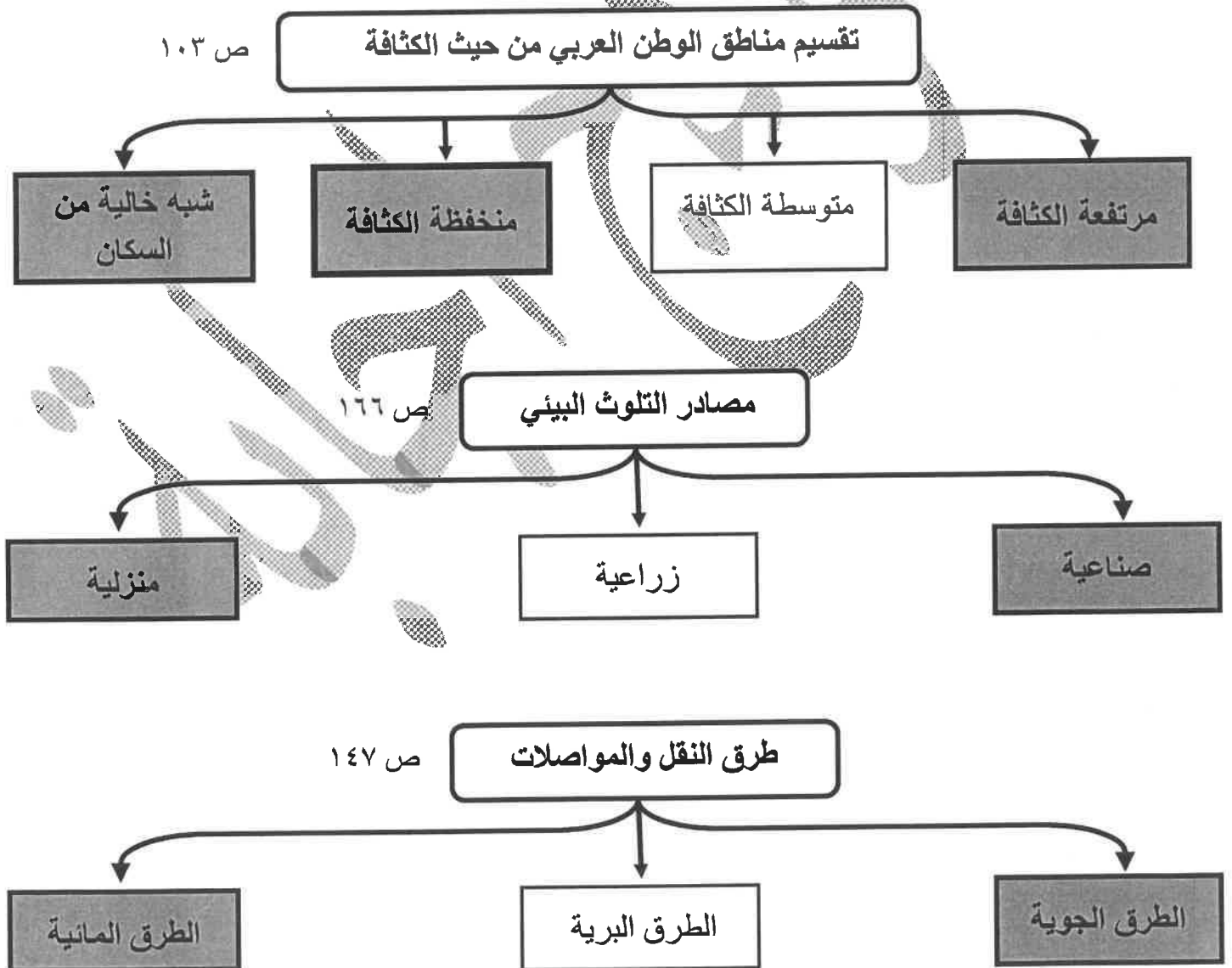
(ب) أكمل العبارات التالية بما يناسبها فيما درست :



- ١- الدولة العربية التي تحتل المركز الأول في عدد السكان اسمها مصر ص ١٠٠
- ٢- الصورة المقابلة تمثل حاكم عُقد في عهده أهم مؤتمر في دولة الكويت اسمه الشيخ صباح الأحمد الجابر الصباح ص ١٨٦
- ٣- المعدن الذي تحتل موريتانيا المرتبة الأولى عربياً في إنتاجه اسمه الحديد ص ١٣٢
- ٤- العام الذي تأسس فيه الصندوق الكويتي للتنمية الاقتصادية العربية ١٩٦١ م ص ١٧٩
- ٥- التصدير والاستيراد بين الدول يُعرف باسم التبادل التجاري ص ١٥١

موقع
المنهج الكويتية
almanahj.com/kw

(ج) أكمل المخططات السهمية التالية :



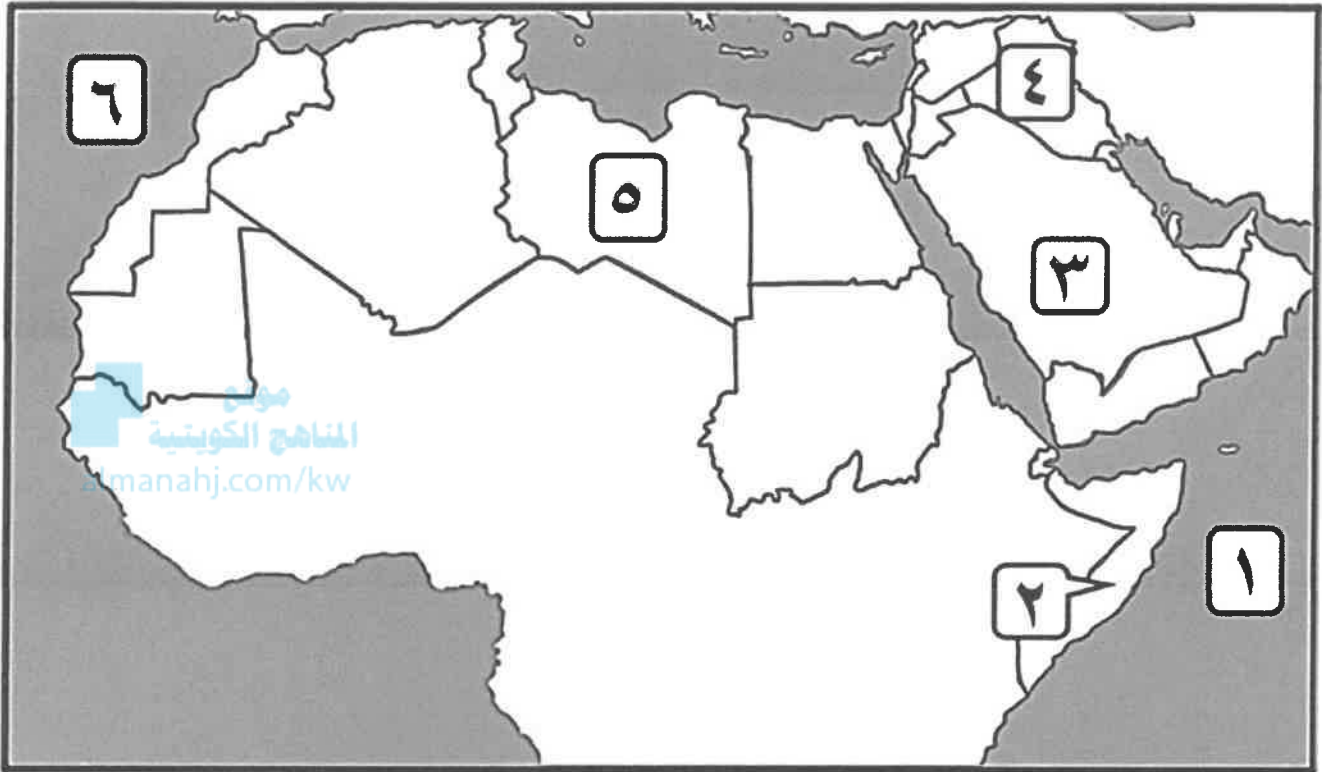
(د) ظلل الحرف (أ) إذا كانت العبارة صحيحة أو الحرف (ب) إذا كانت العبارة خاطئة :

م	العبارة	(أ)	(ب)
١	يختلف عدد السكان بين دولة وأخرى طبقاً للعوامل الطبيعية والبشرية والمساحة الكلية. ص ١٠١		
٢	الحبوب الغذائية من أهم المزروعات في الوطن العربي وتشغل مساحه كبيرة من الأراضي الزراعية . ص ١١٣		
٣	المغرب أولى دول الوطن العربي في إنتاج الأبقار. ص ١١٨		
٤	يتمتع الوطن العربي بسواحل ومنافذ بحرية قصيرة وضيقه . ص ١٥٠		
٥	طبقة الأوزون هي الطبقة التي تحمي الأرض من الإشعاعات فوق البنفسجية ص ١٦٩		

(هـ) أكتب المفاهيم أو المصطلحات الدالة على العبارات التالية :

م	المفهوم أو المصطلح	العبارة
١	التضامن العربي	العمل على توثيق الصلات بين الدول والشعوب العربية وحماية مصالحها السياسية والإقتصادية والثقافية . ص ١٧٧
٢	الإحصاء الحيوي	تسجيل المواليد والوفيات وحالات الزواج والطلاق والحصول على بياناتها من واقع السجلات الرسمية . ص ٩٩
٣	الموارد الطبيعية	الثروات التي منحها الله لإقليم من دون أن يكون للإنسان أي دور في وجودها . ص ١٠٩
٤	الغلات الصناعية والتجارية (الغلات النقدية)	الغلات التي تدخل في الصناعة وتزرع بغرض التجارة والحصول على نقد . ص ١١٣
٥	التضامن العربي	برامج تحسين نوعية الحياة ، ولا تتحقق إلا بمشاركة جميع المواطنين. ص ١٧٥

(و) أمامك خريطة الوطن العربي السياسية - أكتب الرقم الدال على العبارات التي تليها :



* دولة عربية تحتل المركز الأول في إنتاج التمور تحمل على الخريطة الرقم (٣) ص ١١٤

* المحيط الأطلسي يحمل على الخريطة الرقم (٦) ص ١٢٣

* دولة يجري بها نهري دجلة والفرات تحمل على الخريطة الرقم (٤) ص ١٤٩

* دولة عربية تحتل المركز الأول في نسبة إنتاج الأبل تحمل على الخريطة الرقم (٢) ص ١١٨

السؤال الثاني مقالي ويتكون من (أ - ب - ج) :

(أ) علل مايلي : (٤ درجات)

١- تختلف المنتوجات الزراعية من دولة عربية إلى أخرى . ص ١١٠ (يكتفى بنقطتين)
- اختلاف المناخ والتربة .

- مدى توافر المياه في هذه الدول .

٢- تحتل الأغنام مكاناً مهماً ضمن الثروة الرعوية في الوطن العربي . ص ١١٨ (يكتفى بنقطتين)

- الأكثر إنتشاراً في المراعي العربية .

- أكثر الحيوانات المستأنسة والملائمة لمراعي الوطن العربي وذلك لتحملها الجفاف والإنتقال .

- لأهمية منتجاتها بالنسبة للسكان.

- لأنها مصدر أساسي من مصادر الثروة القومية.

(ب) فرق بين كل من : (٦ درجات)

الصناعات التجميعية ص ١٤٣	الصناعات التحويلية ص ١٤٢
هي عملية تركيب وجمع المواد المصنعة ، على اختلاف مصادرها كي نحصل على سلع متنوعة.	هي تقوم على تحويل المواد الأولية من معدنية نباتية وحيوانية إلى سلع استهلاكية صالحة للإستعمال ، حيث تؤمن حاجات الإنسان من مسكن وغذاء ولباس وأدوات وآلات.
أهداف منظمة الأوبك ص ١٣٥	أهداف منظمة الأوبك (OPEC) ص ١٣٤
- تعميق التعاون فيما بينها في مختلف أوجه النشاط الاقتصادي في صناعة النفط \ تأمين وصول النفط إلى الأسواق الاستهلاكية بشروط وأسعار عادلة - اتسهم في تطوير الصناعات البترولية في جميع المجالات وتبادل الخبرات. (<u>يكتفى بنقطة واحدة</u>)	الحرص على استقرار أسعار النفط في الأسواق العالمية.
الغاز الطبيعي ص ١٢٥	النفط ص ١٢٥
غاز مصاحب للنفط الخام ، أو يوجد منفرداً، تتم إيسالته لاستخدامات عديدة.	بقايا عضوية على هيئة نباتات وحيوانات دقيقة ترسبت في عصور قديمة وانطمرت تحت رواسب سمكية ، وتحولت بالضغط والحرارة إلى صورتها الحالية.

(ج) اقترح حلولاً للمشكلات التالية : (٥ درجات)

١- تدني وفرة الثروة المائية في الوطن العربي . ص ١٦٥ (يكتفى بثلاث نقاط)

- ترشيد استخدام المياه والحد من التبذير في المنازل .
- الحد من هدر المياه في عمليات الري وذلك باستخدام الوسائل الحديثة كالرش بالتنقيط والمحوري .
- تنظيم عملية الاستفادة من المياه الجوفية ومنع تسرب الأملاح الملوثة إليها واستثمارها على الوجه الأمثل .
- تطوير استعمال مياه الصرف الصحي المعالجة في الزراعة.
- إقامة البحيرات والسدود لتجميع مياه الأمطار والسيول للاستفادة منها في فصل الجفاف .
- توقيع اتفاقيات مع الدول المشاركة ودول المنبع لتحقيق مصالح الدول العربية المعنية .

٢- قلة وانخفاض الإنتاج الزراعي في الوطن العربي . ص ١٦٣ (يكتفى بنقطتين)

- زيادة الإنتاج عن طريق الأساليب العلمية ,
- زيادة المساحات المزروعة .
- إقامة مشروعات الري.

السؤال الثالث مقالتي ويتكون من (أ - ب - ج) :

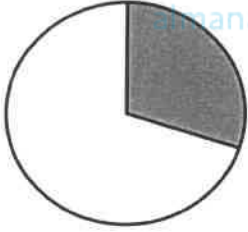
(أ) اقرأ الفقرة التالية ثم أجب عما يليها من أسئلة: ص ٩٩ - ص ١٠٢ (٦ درجات)

يغطي الوطن العربي مساحة كبيرة من الأرض ويتألف من ٢٢ دولة ، ويتوزع سكانه بنسبة ٧٠% في القارة الأفريقية و ٣٠% في القارة الآسيوية ، وتختلف الكثافة السكانية فيه من دولة لأخرى ، إختلافاً كبيراً طبقاً لعوامل عديدة ، حيث يتركز السكان في المناطق التي تتوفر فيها مصادر المياه والمناطق السهلية ذات المناخ المعتدل ، بينما ينخفض السكان في المناطق الجبلية الوعرة والصحراوية ذات المناخ القاسي .

١- عرف ما تحته خط : الكثافة السكانية : نسبة عدد السكان الكلي في دولة ما ، أو منطقة ما ، إلى المساحة الكلية لهذه الدولة أو المنطقة . ص ١٠٢

٢- استخرج من الفقرة السابقة ما يلي :

- مناطق يتركز فيها السكان : ■ المناطق التي تتوفر فيها مصادر المياه ■ المناطق السهلية . ■ مناطق ذات مناخ معتدل .
- مناطق ينخفض فيها السكان : ■ المناطق الجبلية الوعرة ■ الصحراوية ■ ذات المناخ القاسي .



٣- حول نسبة سكان الوطن العربي في القارة الآسيوية إلى دائرة بيانية مع التظليل . ص ١٠٣

(ب) عرف ما يلي : (٥ درجات)

١- التلوث	هو الضرر الذي يلحق بالتربة والهواء والماء ويصيب التلوث عناصر البيئة من عدة مصادر للملوثات . ص ١٦٦
٢- الطاقة	قوى محركة للآلات ، وعنصر مهم للتقدم والتطور الاقتصادي في جميع المجالات . ص ١٢٥
٣- الموارد البشرية	هي التي ترتبط بالسكان من حيث أعدادهم وتوزيعهم ومناسبة أعدادهم لمساحة الأرض التي يستغلونها . ص ١٠٩
٤- الصناعات التعدينية	تهدف إلى تنقية الخامات المعدنية وتحويلها إلى صفايح أو سبائك صالحة لتنفيذ صناعات معدنية مختلفة . ص ١٤١
٥- التصحر	هو زحف رمال الصحراء على المناطق الجافة وشبه الجافة . ص ١٦٢

(ج) دلل على صحة العبارات التالية : (٤ درجات)

١- يواجه الإنتاج الزراعي في الوطن العربي العديد من العقبات . ص ١٦١ (يكتفى بنقطتين)

- عدم استغلال الأراضي القابلة للزراعة لندرة مياه الري أو تذبذب الأمطار أو قلة الأيدي العاملة . / - اتباع طرق الزراعة التقليدية في معظم أجزاء الوطن العربي / - زحف الرمال (التصحر) وانجراف التربة . / - تلوث التربة نتيجة للإسراف في استخدام المبيدات الحشرية وارتفاع نسبة الملوحة بالتربة . / الرعي الجائر .

٢- تعاني التنمية البشرية في الوطن العربي من مشكلات عديدة . ص ١٧٥ (يكتفى بنقطتين)

- ضعف الاستفادة من القدرات البشرية في المنطقة العربية . / - مشكلة الأمية / - نقص ومحدودية مشاركة المرأة في المنظمات السياسية . \ الاختلاف الكبير في مستويات المعيشة بين دولة وأخرى ، وفي داخل الدولة الواحدة .