




وزارة التربية والتعليم
الإدارة العامة لمنطقة الأحمدية التعليمية
مدرسة هدية الابتدائية بنين

• وسائل الوحدة (١٢) WWW.KweduFiles.Com

للمعلم الثالث



• معلمات الصف الثالث

إعداد


• أ. شيمة المطيري

إشراف

• قياس الطول باستخدام المتر والسنتيمتر


WWW.KweduFiles.Com

بند (١٢-١)



أكمل ما يلي

الأداة المستخدمة في القياس




الشيء المراد قياس طولهُ

تقريباً _____

تقريباً _____

تقريباً _____



تقريباً _____

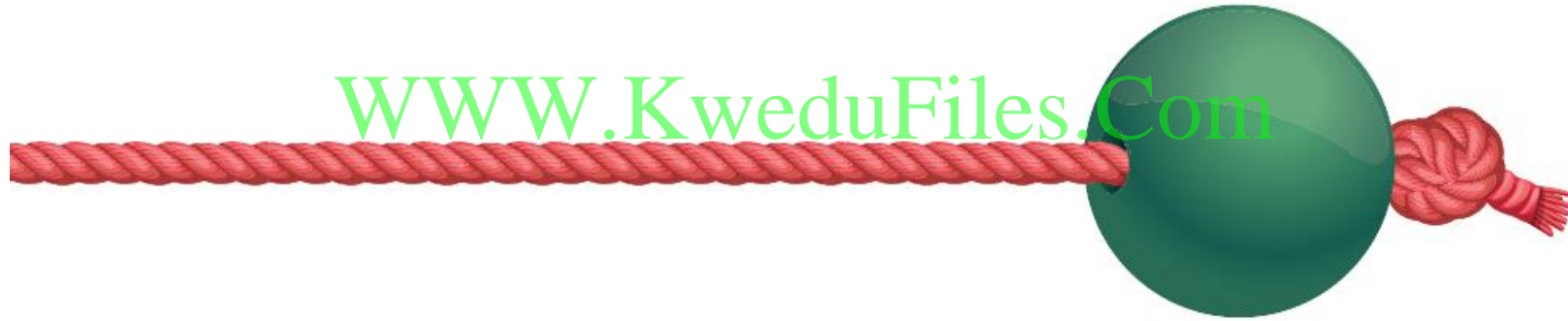
تقريباً _____

تقريباً _____



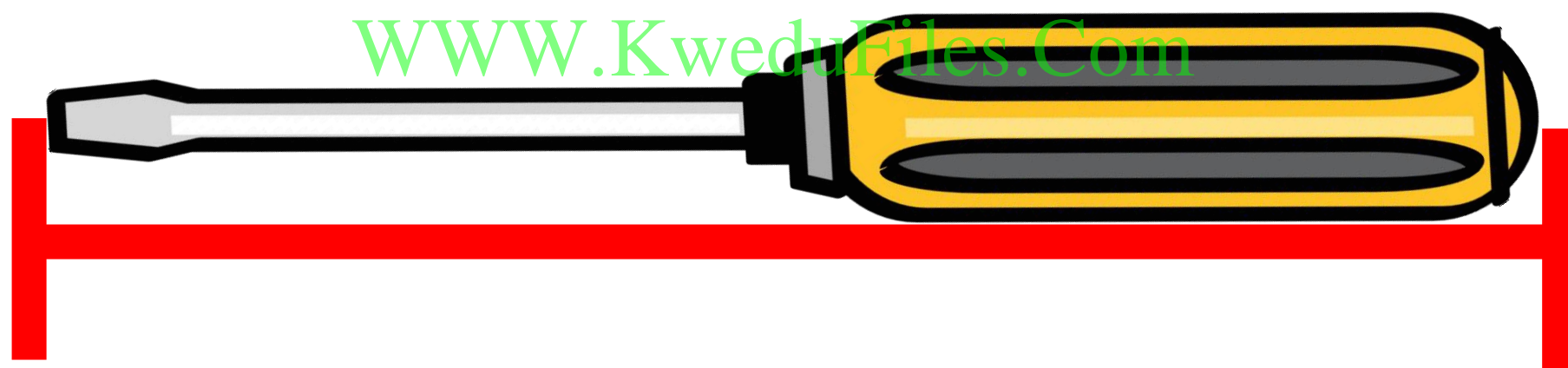
حوظ الإجابة الأنسب

كم خرزة تستخدم لقياس طول الحبل تقريبا؟




١ تقريبا ٤ تقريبا ١٠ تقريبا

استخدم المسطرة لقياس طول ما يلي



سهم

استخدم المسطرة لقياس طول ما يلي



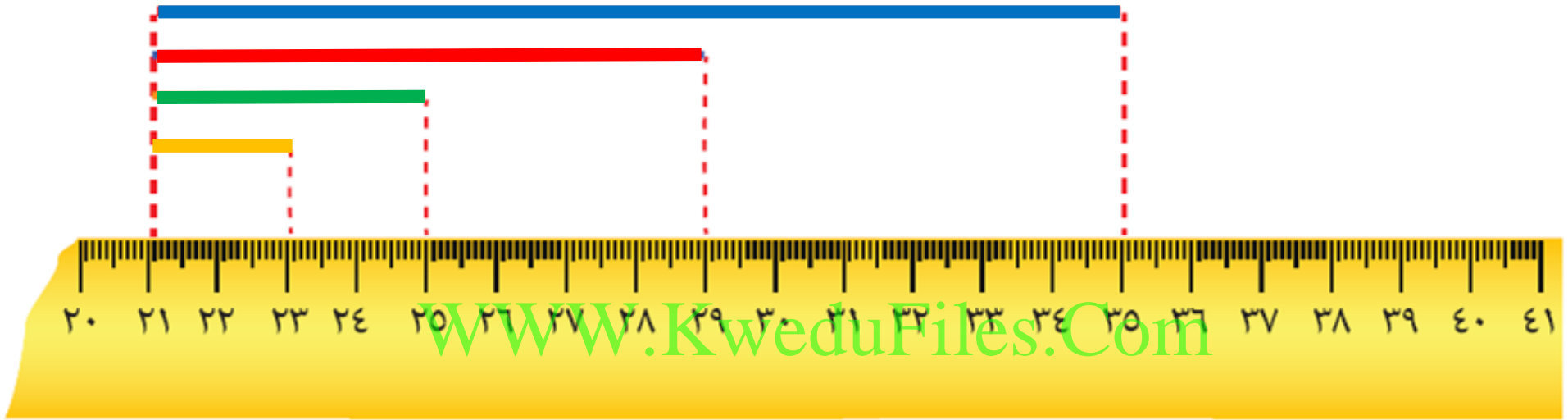
سم

استخدم المسطرة لقياس طول ما يلي



سج

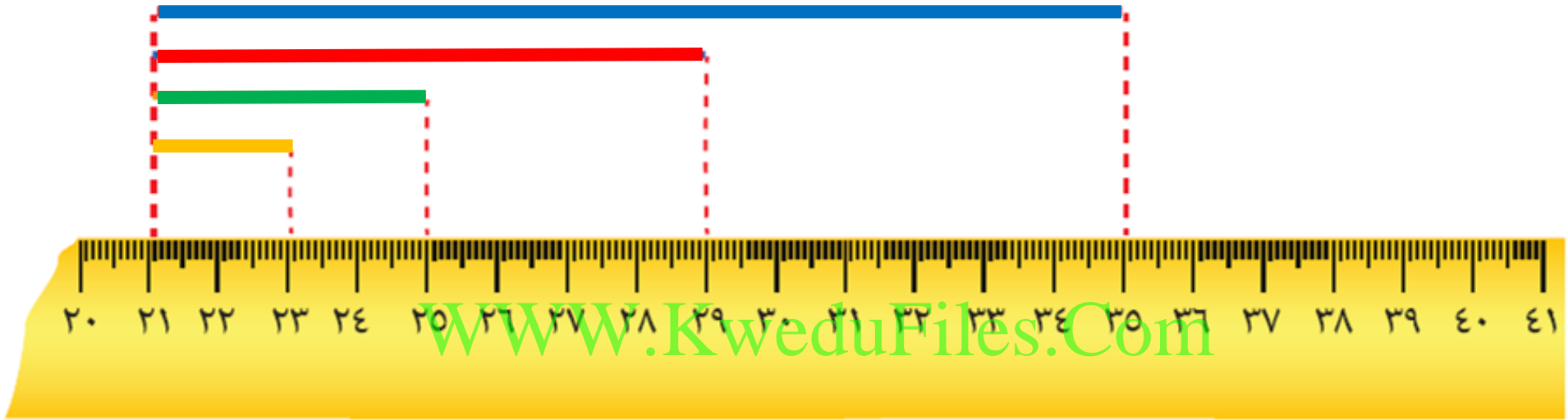
أكمل مستعيناً بالشكل



طول الخط الأحمر _____ سم

طول الخط الأزرق _____ سم

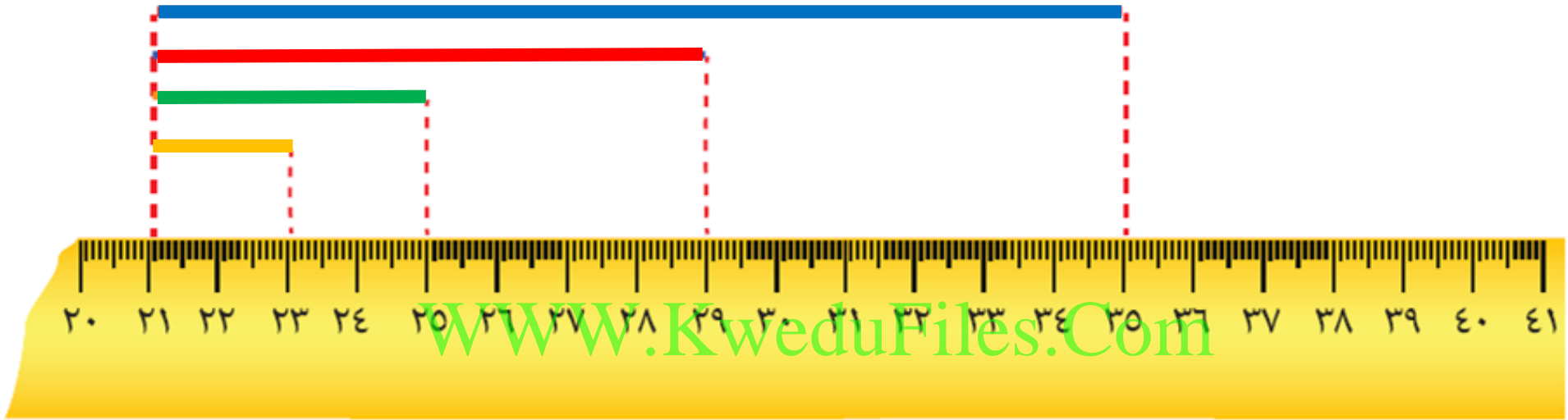
أكمل مستعيناً بالشكل



طول الخط الأخضر _____ سم

طول الخط البرتقالي _____ سم

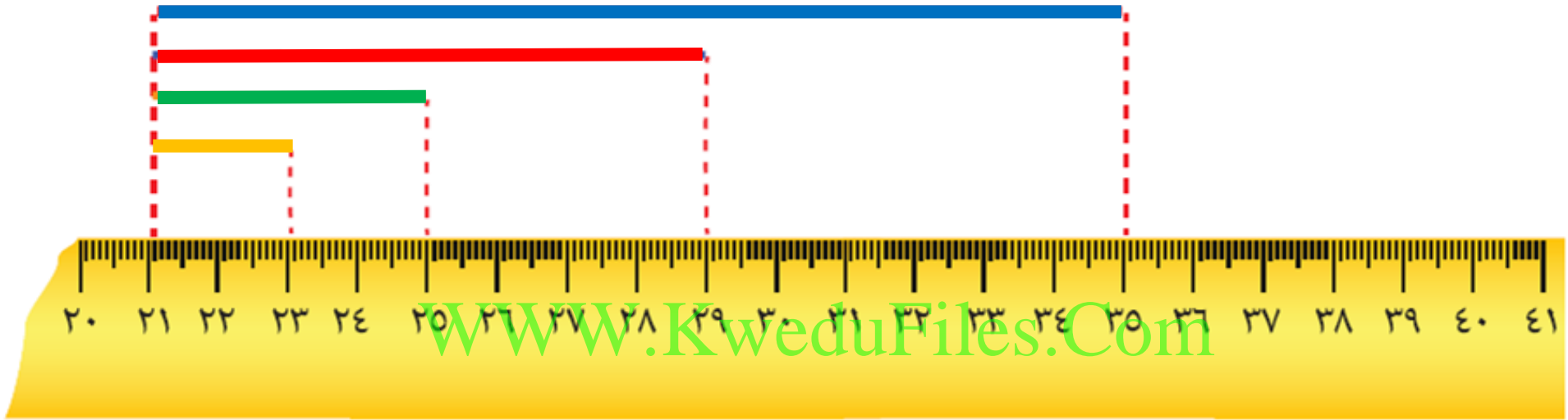
أكمل مستعيناً بالشكل



الخط الأخضر أطول من الخط

الخط الأحمر أقصر من الخط

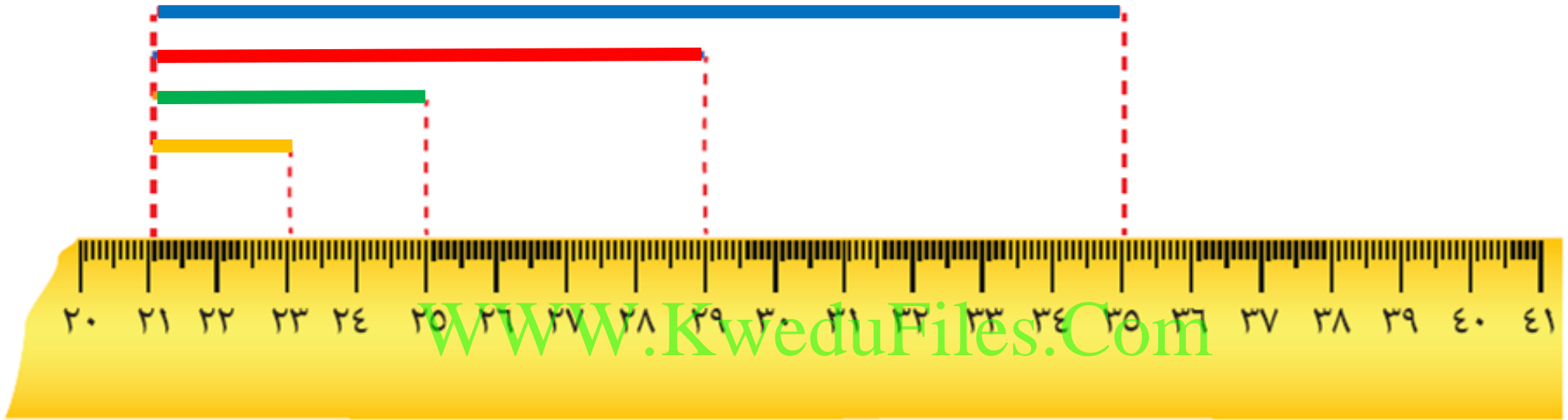
أكمل مستعيناً بالشكل



كم خطأ برتقالي تستخدم لتحصل على خط

طوله يساوي طول الخط الأخضر ؟ —

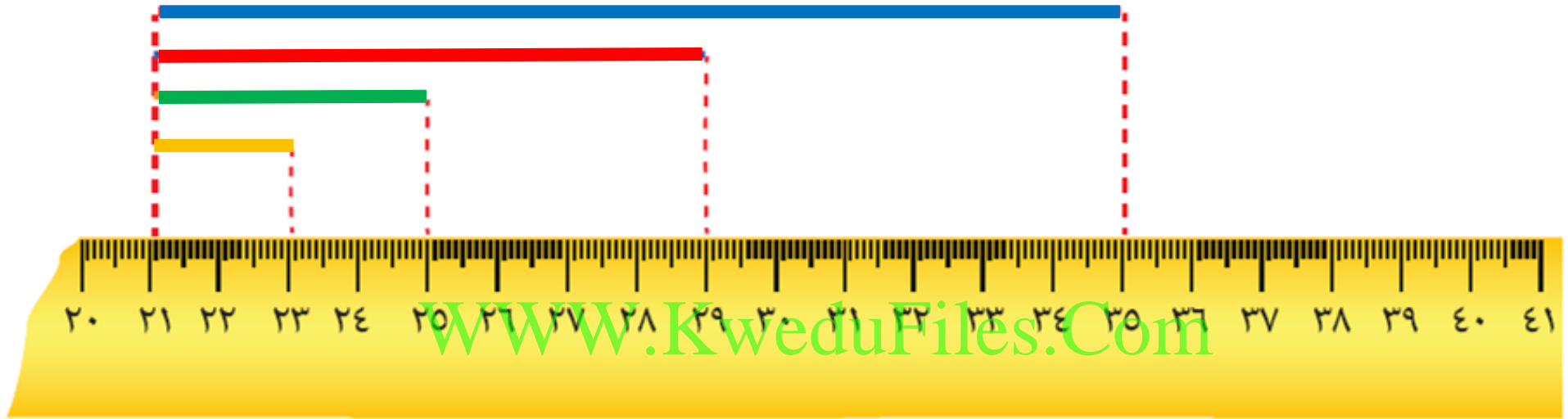
أكمل مستعيناً بالشكل



كم خطأ برتقالي تستخدم لتحصل على خط

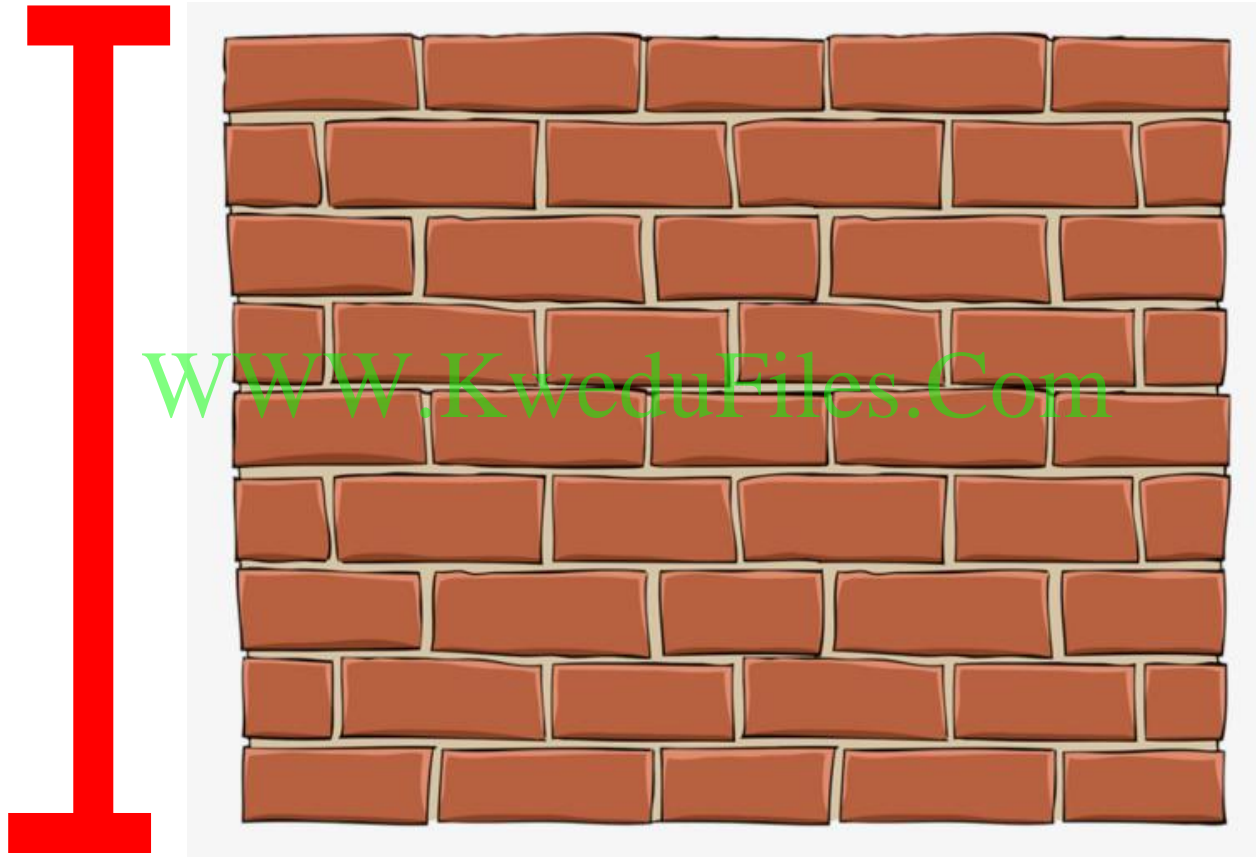
طوله يساوي طول الخط الأحمر ؟ —

أكمل مستعيناً بالشكل



كم خطأ أخضر وكم خطأ برتقالي تستخدم
لتحصل على خط طوله يساوي طول الخط الأحمر؟

اختر أفضل وحدة قياس مترية لقياس الأبعاد الحقيقية لما يأتي



سُم

م

اختر أفضل وحدة قياس مترية لقياس الأبعاد الحقيقية لما يأتي

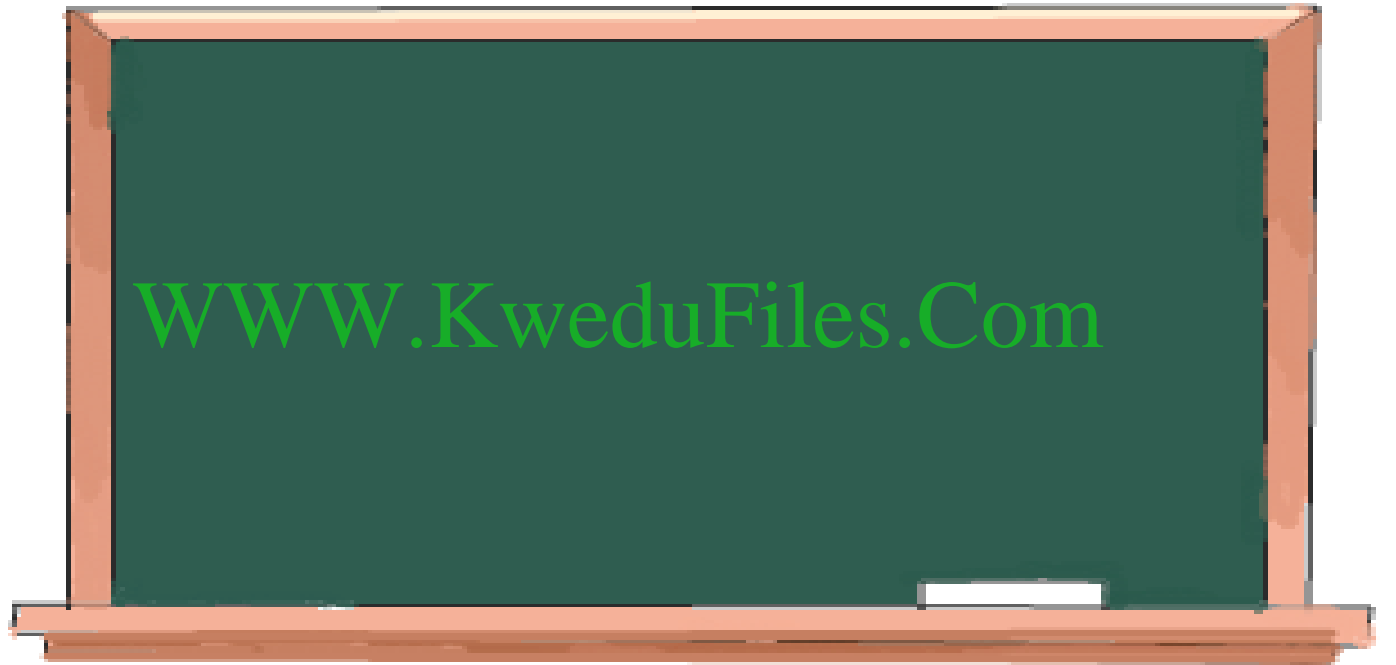


www.KweduFiles.Com

سم

م

اختر أفضل وحدة قياس مترية لقياس الأبعاد الحقيقية لما يأتي



سم

م

أَكْمَل

سَمِعَ _____ = مَعَ

WWW.KweduFiles.Com

سَمِعَ _____ = مَعَ

سَمِعَ _____ = مَعَ

أكمل

_____ م = ٣٠٠ سم

WWW.KweduFiles.Com

_____ م = ٧٠٠ سم

_____ م = ١٠٠٠ سم

حل المسألة

أيهما أطول؟ مفرش طوله ٩٦ سم أم



مفرش طوله ١ م؟ وضح إجابتك.

www.kwedufiles.com

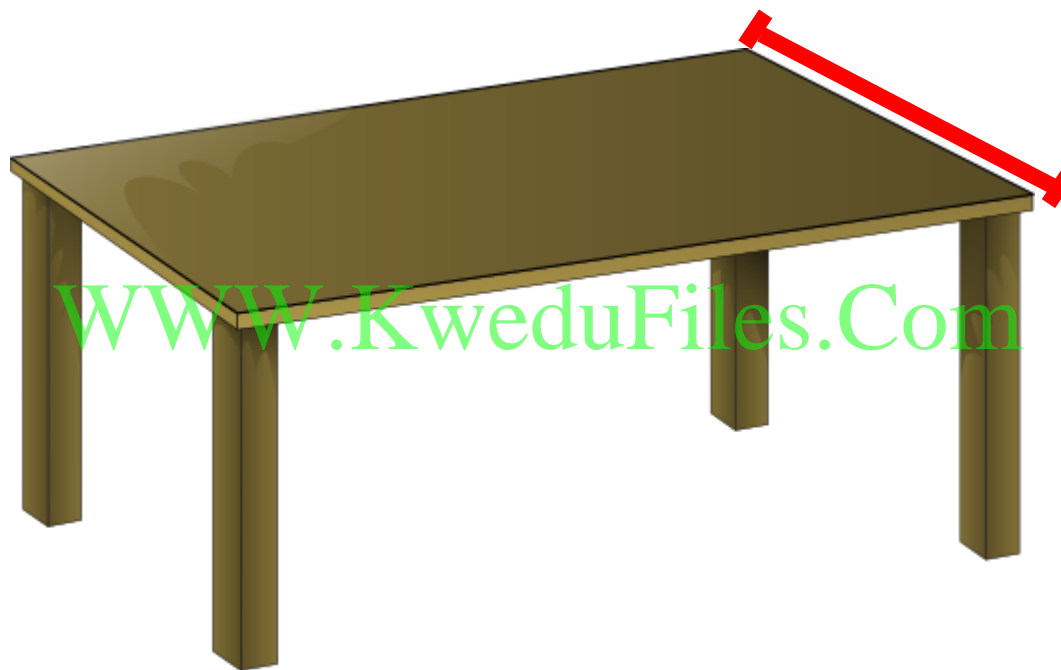
• الڊيسيمٽر والميمٽر

www.kwedufiles.com

بند (۲-۱۲)



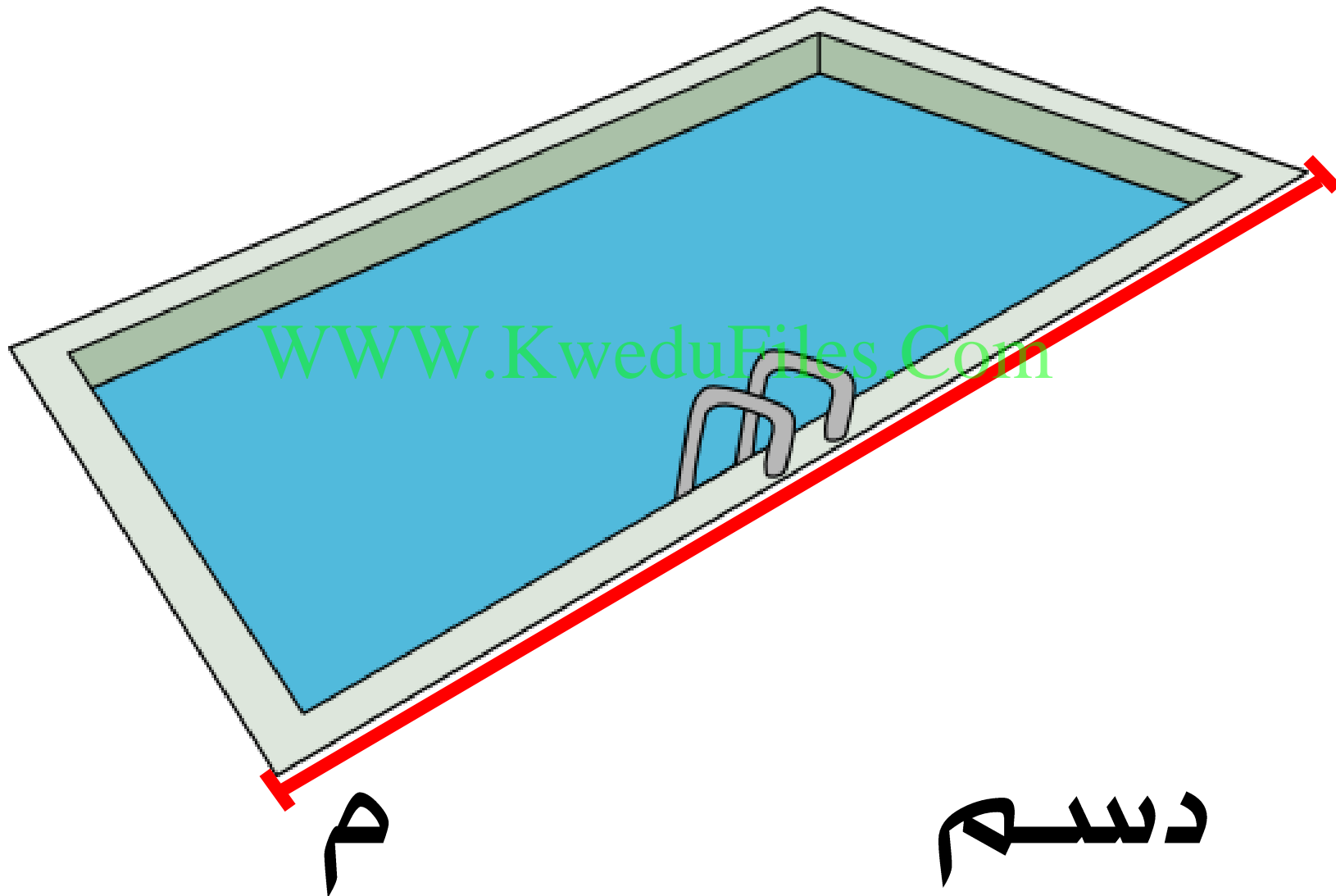
حوط أفضل وحدة لقياس الأبعاد الحقيقية لما يأتي



سليم

محمد

حوط أفضل وحدة لقياس الأبعاد الحقيقية لما يأتي



حوط أفضل وحدة لقياس الأبعاد الحقيقية لما يأتي




WWW.KweduFiles.Com

مم

دسم

حوط أفضل وحدة لقياس الأبعاد الحقيقية لما يأتي



سلك

صمغ

اكتب رمز العلاقة المناسب (< أو > أو =)


١٥ دسم ١٥ سم

WWW.KweduFiles.Com

٧ دسم ٧ م


٤ سم ٤ سم

اكتب الطول



الطول = ١ سم

اكتب الطول



الطول = ١ سم


يقول ناصر :

٤ سم يساوي ٣ دسم + ٤ سم

WWW.KweduFiles.Com

هل توافقه الرأي ؟ فسر إجابتك .

WWW.KweduFiles.Com
الكيلو متر



بند (۱۲-۳)



أَكْمَل

م ————— = م ك ه

WWW.KweduFiles.Com

م ————— = م ك ه

م ————— = م ك ه

أَكْمَل

م ٤ . . . = كَم _____

WWW.KweduFiles.Com

م ٦ . . . = كَم _____

م ١ . . . = كَم _____

صل بوحدۃ القياس الأنسب

مم

● المسافة من الأحمدى إلى هدية ●

سم

● طول أرضية الفصل ● WWW.KweduFiles.Com

كم

● طول قلم الرصاص ●

م

● سماكة زجاج النافذة ●

حوط الأَطول

٧٣ م

www.Kwedufiles.Com

٧٣ م

٧٣ م

حوط الأَقصر

٨٢ سم

www.KweduFiles.Com

٨٢ سم

٨٢ م

حل المسألة

لنفترض أن طول غرفة الطعام ٩ أمتار

WWW.KweduFiles.Com

فكم طول هذه الغرفة بالسنتيمترات ؟

حل المسألة

لنفترض أنك قطعت مسافة ٣٥٠ متر في ذهابك

إلى المدرسة و عدت من نفس الطريق . هل قطعت

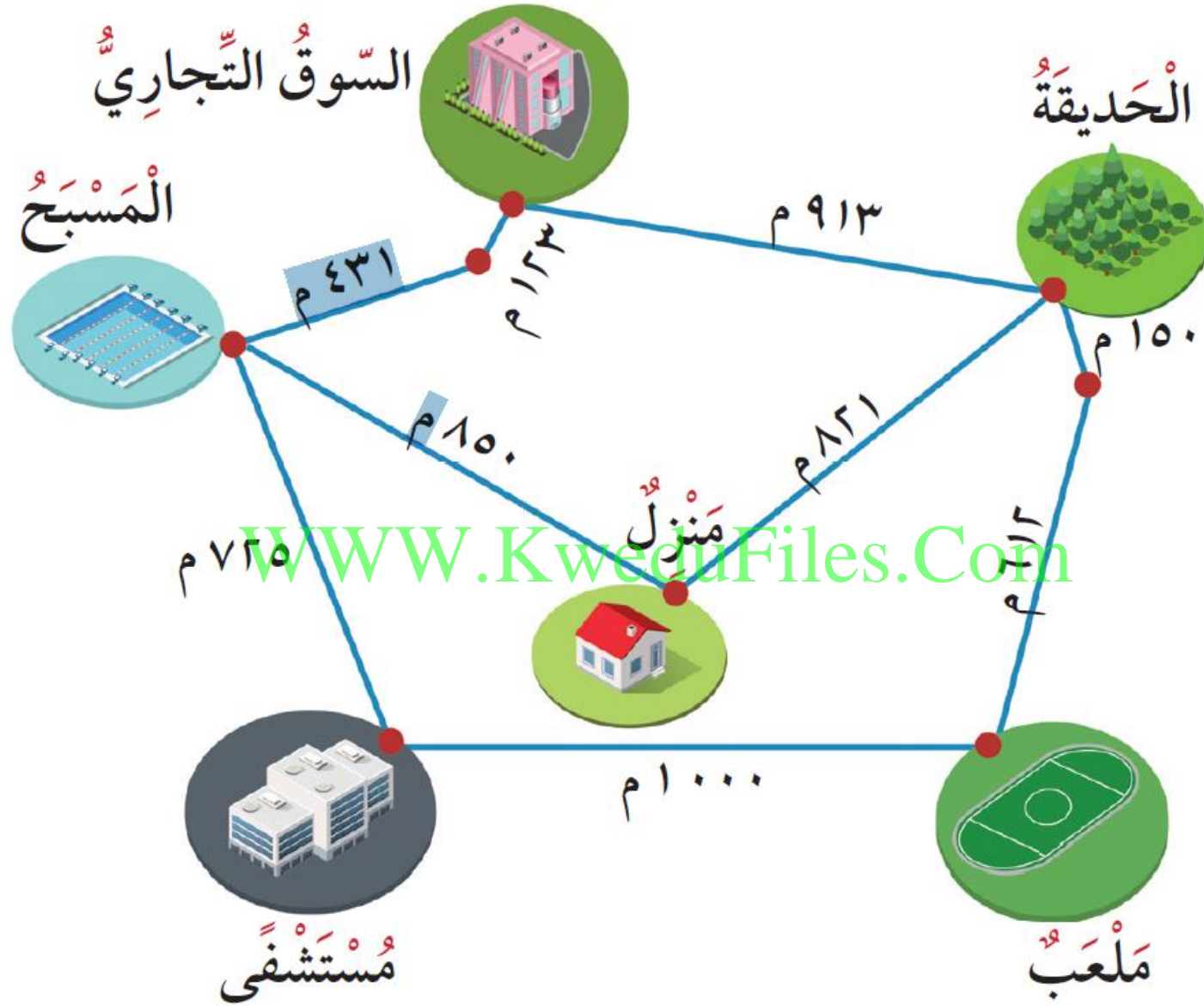
مسافة ١ كيلومترا تقريبا ؟ وضح ذلك .

حل المسألة

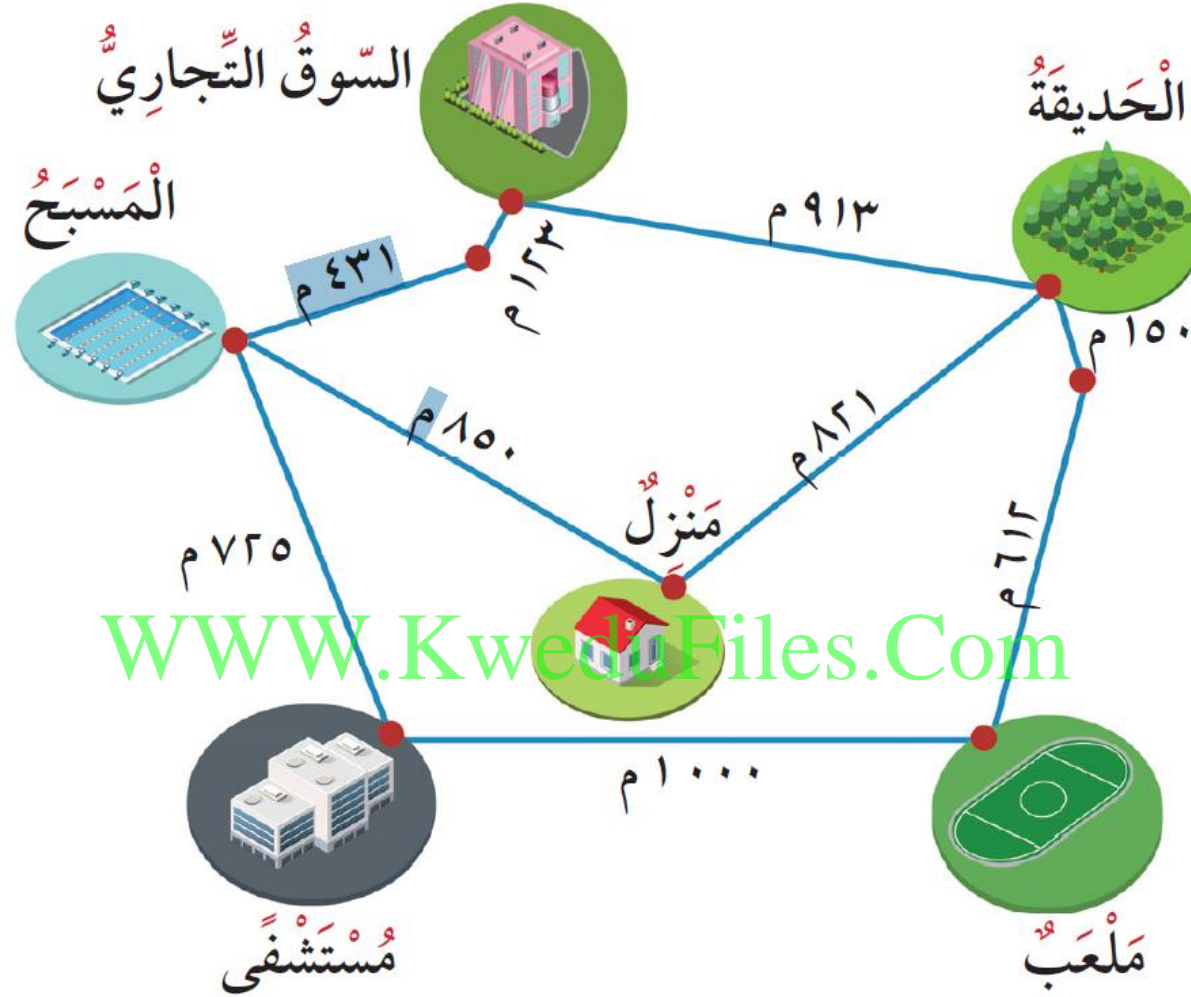
كم قميص يستطيع الخياط أن يصنع من قطعة

قماش طولها 2 م إذا كان يلزم 2 متر لخياطة

القميص الواحد ؟



ما طول أقصر طريق من المنزل إلى الحديقة؟




يقول حمد عند الانتقال من الملعب إلى السوق التجاري

قطعت أكثر من ١ كم هل توافقه الرأي؟ وضح ذلك.

WWW.KyeduFiles.Com

بند (۱۲-۴)



أكمل

هـ كجبه = ا جبه

WWW.KweduFiles.Com

هـ كجبه = ا جبه

هـ كجبه = ا جبه


أكمل

ربع كيلو جرام = ————— جرام

WWW.KweduFiles.Com

٧٠٠ جرام + ————— جرام = ١ كجم

اختر التقدير الأفضل لوزن ما يأتي



٨٠ كجم

٨٠ جم

اختر التقدير الأفضل لوزن ما يأتي



WWW.KweduFiles.Com

الكجم

جـ Pixiz

اختر التقدير الأفضل لوزن ما يأتي



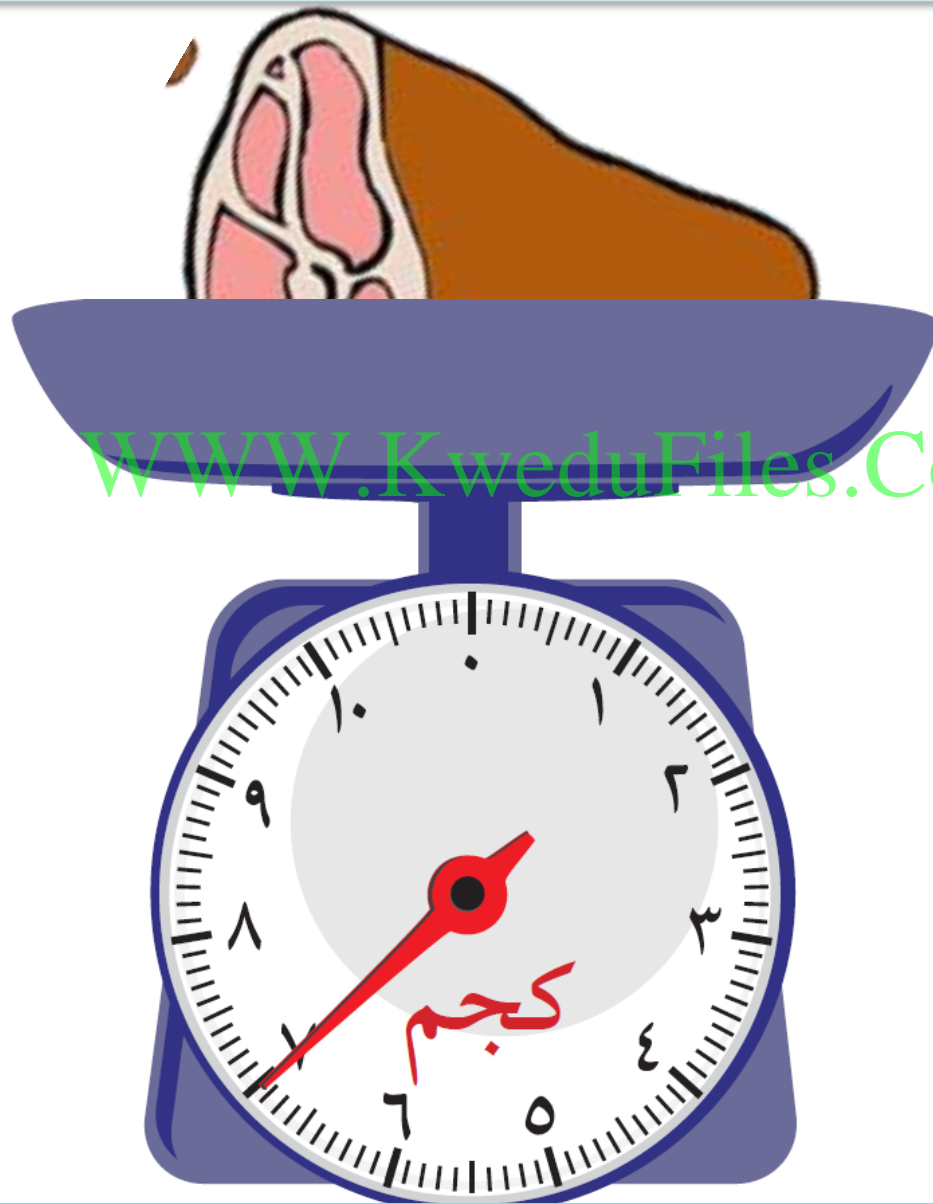
١. جـ
٢. كـ

حوط الأثقل



www.KweduFiles.Com

اكتب الوزن




اكتب الوزن



WWW.KweduFiles.Com


اكتب الوزن



اكتب (مستحيل ، مؤكد ، ربما)

يقول فواز : ألقىت حجر النرد مرتين متتاليتين .

فإن العددين الظاهريين على الوجه العلوي يمكن ان يكون





مجموعهما يساوي ٤

مجموعهما يساوي ٩

www.السعة
www.KweduFiles.Com

بند (١٢-٥)






WWW.KweduFiles.Com

نون التي تحتاج إليها لتفريغ



اختر التقدير الأنسب لسعة ما يأتي

WWW.KweduFiles.Com



١ لتر

١ مل

اختر التقدير الأنسب لسعة ما يأتي



WWW.KweduFiles.Com

التر

امل

اختر التقدير الأنسب لسعة ما يأتي

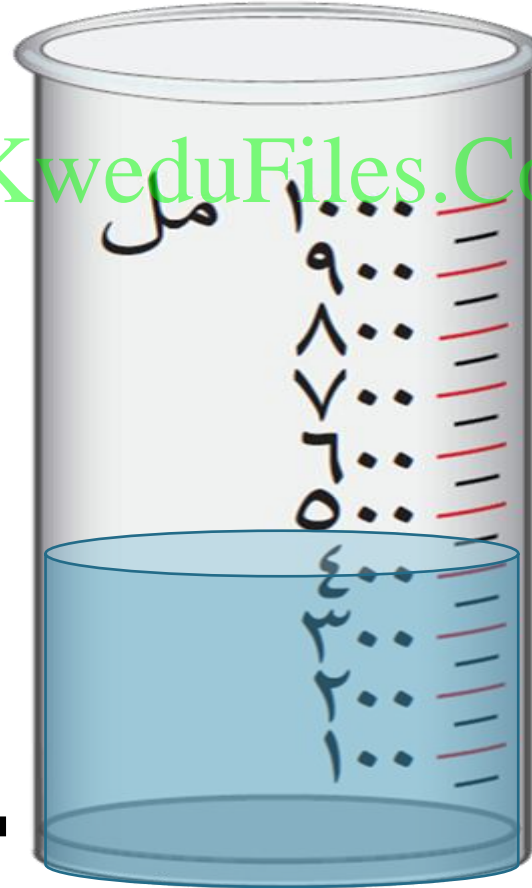


٢ لتر

٢ مل

كم سعة الإناء

WWW.KweduFiles.Com



مل



كم سعة الإناء



WWW.KweduFiles.Com



مل




كم سعة الإناء



WWW.KweduFiles.Com

مل

لون لتوضح ١ لتر ونصف اللتر من الماء



أيهما أقل سعة ، وعاء يحوي لتراً من

الحليب أم وعاء يحوي ٩٠٠ ميليلتر من

WWW.KweduFiles.Com

الحليب ؟

خزان يحوي ١٠٠ لتر من الماء يراد تفريغه في

قوارير مختلفة السعة . فإلى كم قارورة من كل نوع

www.kwedufiles.com
نحتاج لتفريغ كامل

سعة القارورة	٢ لتر	٤ لتر	٥ لتر
العدد			

عبر مستخدما (ممكن ، مؤكد ، مستحيل)



تفريغ وعاء يحوي ٢٠ لتر من الزيت في ٤ زجاجات

WWW.KweduFiles.Com

سعة الواحدة ٣ لتر دون أن يبقى في الوعاء شيء .

WWW.KweduFiles.Com

بند (۱۲-۶)



صل باليوم المناسب

الأحد

اليوم الذي يأتي قبل يوم الجمعة مباشرة

WWW.KweduFiles.Com

الأربعاء

اليوم الذي يأتي بعد يوم السبت مباشرة

الخميس

اليوم الذي يأتي بين يومي الثلاثاء والخميس

اِسْتِخْدَمِ قَائِمَتِي الْأَشْهُرِ الْمِيلَادِيَّةِ وَالْهَجْرِيَّةِ لِكِتَابَةِ الشَّهْرِ الْمُنَاسِبِ لِلْحَدَثِ فِي كُلِّ مِمَّا يَلِي:

الأشهر الهجرية

مُحَرَّمٌ صَفَرٌ ربيع الأول ربيع الآخر
 جُمَادَى الْأُولَى جُمَادَى الثَّانِيَّةُ رَجَبٌ شَعْبَانٌ
 رَمَضَانٌ شَوَّالٌ ذُو الْقَعْدَةِ ذُو الْحِجَّةِ

الأشهر الميلادية

يناير فبراير مارس أبريل
 مايو يونيو يوليو أغسطس
 سبتمبر أكتوبر نوفمبر ديسمبر

عيد الفطر

تتويج صاحب السمو الشيخ صباح
 الأحمد الجابر الصباح قائد الإنسانية

المولد النبوي الشريف

العيد الوطني

قام فريق نادي الرياضيات في إحدى المدارس بتنظيم رحلاتٍ لعددٍ من معالم الكويت التاريخية. رتب تلك الزيارات بحسب تاريخ كل منها مُبتدئاً بأولها.

متحف شهداء القرين

٢ نوفمبر

متحف العثمان

٦ أكتوبر

المتحف العلمي

٢١ أكتوبر

القصر الأحمر

١٥ ديسمبر

أكمل

٤ أسابيع = _____ يوماً

WWW.KweduFiles.Com



٦ أسابيع = _____ يوماً

١٤ يوم = _____ أسبوع

النقود المعدنية

WWW.KweduFiles.Com

بند (٧-١٢)



عد اكتب قيمة الكل



فلساً _____

عد اكتب قيمة الكل



WWW.KweduFiles.Com

فلساً _____

عد اكتب قيمة الكل



فلساً _____

عد اكتب قيمة الكل



فلساً _____

حوط القطع النقدية التي تحتاج إليها

لشراء علبة الحليب :



حوط القطع النقدية التي تحتاج إليها

لشراء اللعبة :



WWW.KweduFiles.Com

وفر سعد مبلغاً من المال لشراء اللعبة الموضحة
بالصورة هل تكفي نقوده لشرائها ؟ وضح إجابتك .



٣١٥ فلساً



www.KweduFiles.Com

ما قيمة الكل ؟

WWW.KweduFiles.Com



٨ قطع من

ما قيمة الكل ؟

WWW.KweduFiles.Com



١ قطع من

ما قيمة الكل ؟





WWW.KweduFiles.Com

٥ قطعة من

• النقود الورقية

WWW.KweduFiles.Com

بند (١٢-٨)



حوط القطع التي تتناسب مع الثمن



حوط القطع التي تتناسب مع الثمن


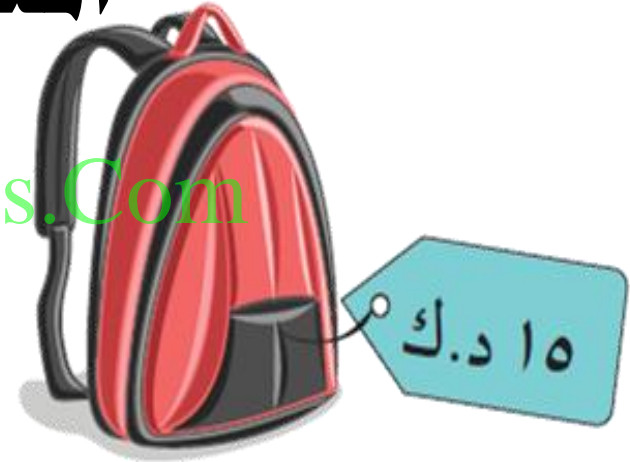


WWW.KweduFiles.Com



معك ٣٥ دينار ، اختر شيئين تستطيع شراءهما من

المتجر . وضح ذلك



اذا كان لديك ١٠٠٠ دينار، هل

يمكنك شراء ٣ أشياء سعر كل منها ٤١ و

WWW.KweduFiles.Com

شيئين سعر كل منهما ٢٢ دينار؟ فسر

إجابتك .

• حل المسائل (استخدام معطيات الصورة)

بند (۹-۱۲)



اكتب قيمة الكل ، ثم حوِّط ما يمكنك شراءه

فلس

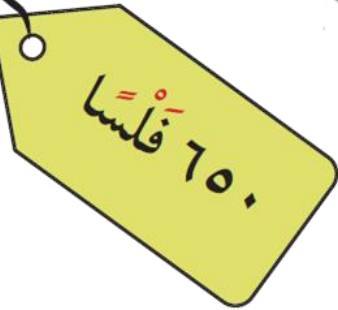


www.KweduFiles.Com



اكتب قيمة الكل ، ثم حوط ما يمكنك شراؤه


فلس



www.kwedufiles.com

حل المسألة

سارة





مرام




تقول مرام أن معها نقود أكثر من سارة . هل توافقها
الرأي ؟ فسر إجابتك .

•مراجعة الوحدة (١٢)

بند (١٠-١٢)



قس باستخدام المسطرة



طول القلم الأخضر = ٣ سم

طول القلم الأحمر = ٥ سم

صل بوحدة القياس المناسبة :

● ساعة الزجاجية ● كيلومتر

WWW.KweduFiles.Com

● وزن حمد ● لتر

● طول الملعب ● كيلوجرام

أجب عن الأسئلة التالية :

شهر مايو

الأحد	الاثنين	الثلاثاء	الأربعاء	الخميس	الجمعة	السبت
		١	٢	٣	٤	٥
٦	٧	٨	٩	١٠	١١	١٢
١٣	١٤	١٥	١٦	١٧	١٨	١٩
٢٠	٢١	٢٢	٢٣	٢٤	٢٥	٢٦
٢٧	٢٨	٢٩	٣٠	٣١		

كم أسبوعاً كاملاً في شهر مايو؟ —

ما التاريخ الذي يكون بعد أسبوعين من ٦ مايو؟ —

ما عدد أيام شهر مايو؟ —

أكمل

١ كجم = _____ جم

WWW.KweduFiles.Com

_____ م = ٢٠ دسم

١٠٠٠ مل = _____ لتر

أكمل

٣ أسابيع = _____ يوم

WWW.KweduFiles.Com

٢٨ يوم = _____ أسبوع

٤٨ شهر = _____ سنوات

حل المسألة

سعد



عمر



جمع عمر وسعد مبلغ من المال ، ما مجموع ما جمعاها ؟



اختر الإجابة الصحيحة بوضع


طول القلم الموضح بالرسم يساوي




٧
دسم



٧
مم



٧
سم


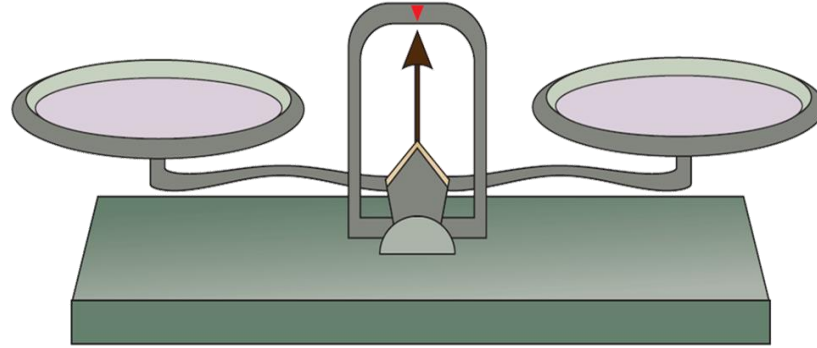




اختر الإجابة الصحيحة بوضع

الأداة المستخدمة لقياس السعة هي

WWW.KweduFiles.Com





اختر الإجابة الصحيحة بوضع

طول سعود قبل سنتين يمكن أن يكون

WWW.KweduFiles.Com



١٦٠ سم

١٤٠ سم

١٢٠ سم

