

تم تحميل هذا الملف من موقع المناهج الكويتية



الملف نموذج أسئلة منطقة حولي

[موقع المناهج](#) ⇨ [المناهج الكويتية](#) ⇨ [الصف السابع](#) ⇨ [علوم](#) ⇨ [الفصل الأول](#)

روابط مواقع التواصل الاجتماعي بحسب الصف السابع



روابط مواد الصف السابع على تلغرام

[الرياضيات](#)

[اللغة الانجليزية](#)

[اللغة العربية](#)

[التربية الاسلامية](#)

المزيد من الملفات بحسب الصف السابع والمادة علوم في الفصل الأول

كتاب الطالب في مادة العلوم لعام 2018	1
تلخيص وحدة المغذيات	2
تلخيص مهم للكورس اول في مادة العلوم	3
اوراق عمل مهمة في مادة العلوم	4
اوراق عمل ممتازة في مادة العلوم لعام	5

امتحان نهاية الفترة الدراسية الأولى

العام الدراسي ٢٠٢١ / ٢٠٢٢ م
الزمن: ساعة وخمسة وأربعون دقيقة
عدد الصفحات: ٦ صفحات

لمقرر الكويت والوطن العربي

للفص السابع المتوسط

السؤال الأول: (موضوعي) ويتكون من (أ - ب - ج - د - هـ - و) :-

(أ) اختر البديل الصحيح من بين البدائل التي تلي كل عبارة مما يلي وضع خطأ تحتها :-

١- عدد الجزر المستقلة التي تتكون منها جمهورية جزر القمر هو :

أ - أربع جزر ب- خمس جزر ج- ست جزر د- سبع جزر

٢- يمتد الوطن العربي من خط الاستواء الى بحر في جهة الشمال اسمه:

موقع
المناهج الكويتية
almanahj.com/kw

د- قزوين

أ - الأحمر ب- المتوسط ج- الميت

٣ - عاصمة مصر مدينة اسمها:

أ-المنامة ب- الكويت ج- القاهرة د- جدة

٤ - أي موقع ذي مكانة مهمة بين دول العالم يعرف باسم الموقع :

أ - الفلكي ب- النسبي ج- الاستراتيجي د- الاحداثي

٥ - الدولة العربية التي يصب فيها نهري دجلة والفرات اسمها :

أ - قطر ب- البحرين ج - لبنان د - العراق

٦- أهم مناطق تحلية المياه في المملكة العربية السعودية منطقة اسمها :

أ - أبو ظبي ب - رأس عبود ج - الاحساء د - الدوحة

(ب) صنف أسماء المظاهر التضاريسية التالية حسب مكانها الصحيح في الجدول ادناه :-

(نجد - عسير - عكار - أطلس - الشطوط - ليبيا)

السهول	الهضاب	الجبال
-	-	-
-	-	-

تابع : امتحان نهاية الفترة الدراسية الأولى - لمقرر الكويت والوطن العربي - للصف السابع المتوسط - العام الدراسي ٢٠٢١/٢٠٢٢ م

السؤال الثالث: (مقالي) ويتكون من (أ - ب - ج):

(أ) أقرأ الفقرة التالية ثم أجب عما يليها من أسئلة :

((الأشكال التضاريسية متنوعة في الوطن العربي مثل الهضاب والسهول وغيرها من الأشكال ، فنجد ان السهول تتنوع وتتنوع على مختلف انحاء الوطن العربي ويوجد منها نوعين رئيسيين هما السهول الفيضية (النهرية) والسهول الساحلية)) .

١- ضع عنواناً للفقرة السابقة .

موقع
المناهج الكويتية
almanahj.com/kw

٢- عرف ما تحته خط .

٣- اذكر أنواع التضاريس في الوطن العربي .

(ب) اكتب اثنين لكل مما يلي : -

١- مناخ الوطن العربي في فصل الصيف .

٢- مقومات الهوية العربية .

٣- أسماء الرياح المحلية في الوطن العربي .

(ج) عرف لما يلي : -

١- الأفلاج :

٢- الضغط الجوي :


٣- البحيرة :

مجموع درجات السؤال الثالث

تابع : امتحان نهاية الفترة الدراسية الأولى - لمقرر الكويت والوطن العربي - للصف السابع المتوسط - العام الدراسي ٢٠٢١/٢٠٢٢ م
تابع / السؤال الأول (موضوعي)

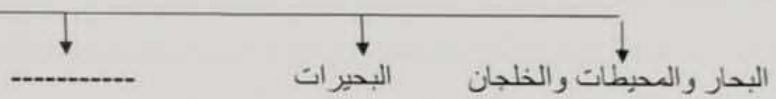
(هـ) أكمل المخططات السهمية بما يناسبها :

١- عوامل قيام الحضارة .

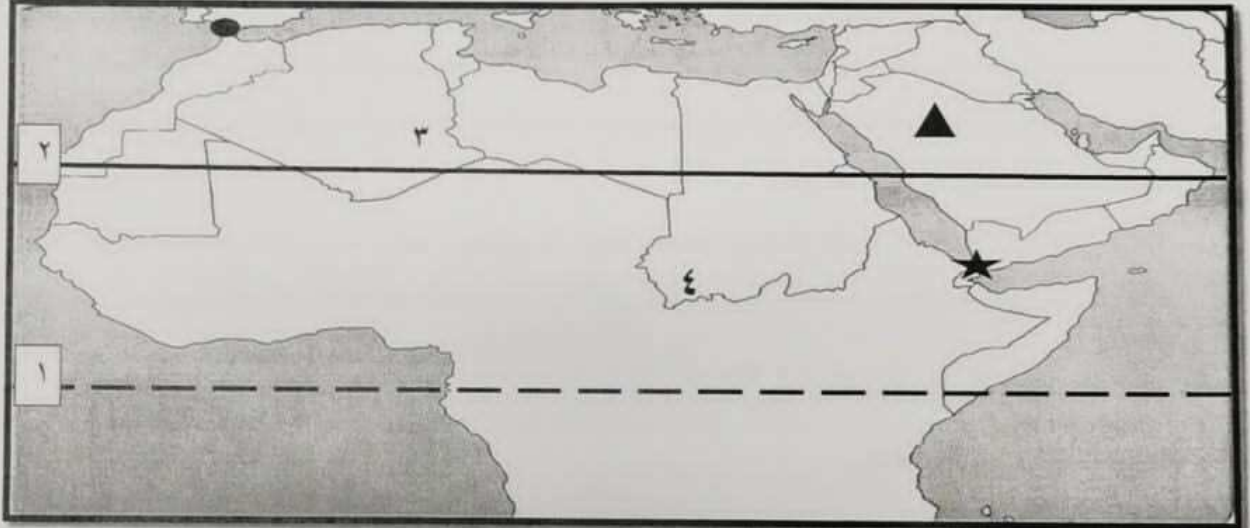


٢- مصادر المياه في الوطن العربي .

موقع
المنهج الكويتية
almanahj.com/kw



(و) لاحظ خريطة دول الوطن العربي ، ثم استعن بالمدلولات التي عليها لإكمال العبارات التالية :



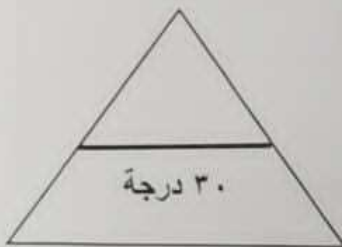
- الدولة التي تحمل الشكل ▲ على الخريطة اسمها -----

- مضيق جبل طارق يمثله على الخريطة الشكل -----

- مدار السرطان يمثله على الخريطة الرقم -----

- جبل مرة يحمل على الخريطة الرقم -----

مجموع درجات السؤال الأول -----



(ج) صحح ما تحته خط في كل عبارة مما يلي بوضع الإجابة الصحيحة ما بين الأقواس :-

- ١-النبات الذي ينمو تلقائياً عقب سقوط المطر دون تدخل الإنسان يعرف باسم النبات الصناعي . (-----)
- ٢- يحد الوطن العربي من جهة الغرب المحيط الهندي . (-----)
- ٣- البحر الذي يفصل الجناح الآسيوي عن الجناح الأفريقي اسمه البحر المتوسط (-----)
- ٤- حالة الجو خلال فترة زمنية طويلة من حيث درجة الحرارة والرطوبة والأمطار والرياح تسمى الطقس . (-----)
- ٥- تكون الشمس عمودية شتاء على المنطقة العربية الواقعة بين خط الاستواء ومدار جريتش . (-----)
- ٦- المياه التي توجد في جوف الأرض (باطن الأرض) اسمها المياه السطحية . (-----)

المنهج الكويتية
almanahj.com/kw

(د) اكتب المفاهيم أو المصطلحات الدالة على كل من العبارات التالية :-

- ١- (-----) مجموعة الدول العربية التي يجمعها عدد من السمات المشتركة (الدين واللغة) ويمتد ضمن قارتين من أكبر قارات العالم مساحة .
- ٢- (-----) جميع اشكال المياه على سطح الأرض مثل البحار والخلجان والمحيطات والبحيرات والانهار... الخ.
- ٣- (-----) مجرى مائي عذب ينحدر على الدوام لينتهي الى بحر او الى نهر او ينتهي تدريجياً في الصحراء .
- ٤- (-----) كل ما يطرأ على المجتمع من تقدم وتطور ورفق في جميع نواحي الحياة الدينية والسياسية والاقتصادية والاجتماعية والفكرية.

تاريخ : امتحان نهاية الفترة الدراسية الأولى - المقرر : الكويكبات والناسخ العربي - المصنف : المذوق العربي - اليوم الدراسي : ١٩١ / ٢٠١٩ م

السؤال الثاني : (مقالتي) ويتكون من (أ - ب - ج) :

(أ) عثر ما يلي (افكر المصيبا) :-

١- الأهمية الاقتصادية للناسخ العربي .

.....

٢- أنواع النسخ العلمي في الناسخ العربي .

.....

٣- المصن المصنوعة في الناسخ العربي انظر اعتدالا في المذبح صديقا وأغيا صديقا ممتداه .

.....

٤- كانت أوروبا تعيش في عصور الظلام منذ القرن العاشر الميلادي .

.....

(ب) عدد (التكرار) لكل مما يلي :-

١- صفات المسر في الناسخ العربي .

.....

.....

٢- أسماء الحضارات في الناسخ العربي .

.....

.....

(ج) فرق بين كل مما يلي من حيث (التعريف) :-

الموقع النسبي	الموقع الفلكي
الشمس	الجهل



مجموع درجات السؤال الثاني

تابع : امتحان نهاية الفترة الدراسية الأولى - لمرور الكويت والوطن العربي - للصف السابع المتوسط - العام الدراسي ٢٠٢١/٢٠٢٢ م

السؤال الرابع: (مقال) ويتكون من (أ - ب - ج) :-

(أ) قارن بين كل مما يلي حسب المطلوب في الجدول أدناه :

الغابات المعتدلة	الغابات المدارية الحارة	أوجه المقارنة
-	-	مميزاتها (سماتها)
-	-	أهم اشجارها

(ب) ما النتائج المترتبة على كل مما يلي :-

١- هبوب الرياح من منطقة باردة في مناخ الدول العربية .

٢- الأهمية الجغرافية للوطن العربي .

٣- مرور الرياح على بحار محملة ببخار الماء .

ج- اكتب المطلوب لما بين الأقواس :-

١- القارات التي يمتد فيها الوطن العربي .

(الأسماء)

٢- النباتات الصحراوية.

(المميزات أو الصفات)

٣- المياه الجوفية .

(الأشكال)

٤- الهضاب في الوطن العربي .

(الأقسام)

مجموع درجات السؤال الرابع

انتهت الأسئلة....

مع تمنياتنا لكم بالتوفيق والنجاح

