

تم تحميل هذا الملف من موقع المناهج الكويتية



منطقة الأحمدية التعليمية

الملف نموذج إجابة منطقة الأحمدية

[موقع المناهج](#) ← [المناهج الكويتية](#) ← [الصف الثامن](#) ← [اجتماعيات](#) ← [الفصل الأول](#)

روابط مواقع التواصل الاجتماعي بحسب الصف الثامن



روابط مواد الصف الثامن على تلغرام

[الرياضيات](#)

[اللغة الانجليزية](#)

[اللغة العربية](#)

[التربية الاسلامية](#)

المزيد من الملفات بحسب الصف الثامن والمادة اجتماعيات في الفصل الأول

مسودة كتاب الطالب في مادة الاجتماعيات لعام 2018	1
خطة توزيع منهج العام الجديد في مادة الاجتماعيات	2
حل الوحدة الاولى في مادة الاجتماعيات	3
ورقة عمل في مادة الاجتماعيات	4
ورقة عمل في مادة الاجتماعيات	5

المجال الدراسي: اجتماعيات
(دولة الكويت والعالم الإسلامي)
الزمن: ساعة وخمس وأربعون دقيقة
عدد الأوراق: ٤

نموذج الإجابة
امتحان نهاية الفترة الدراسية الأولى
للفصل الثامن المتوسط
للعام الدراسي ٢٠٢٢-٢٠٢٣م

وزارة التربية
الإدارة العامة لمنطقة الأحمدية التعليمية
التوجيه الفني للاجتماعيات

الامتحان يتكون من أربعة أسئلة جميعها إجبارية



السؤال الأول: (موضوعي) يتكون من (أ - ب - ج) (15 نقطة × درجة واحدة = 15 درجة)
(أ) أكمل العبارات التالية بما يناسبها فيما درست:

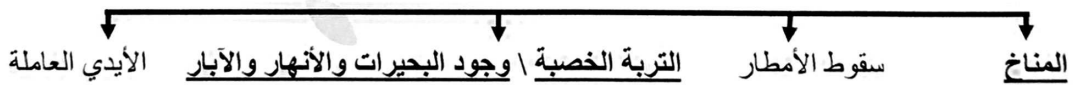
1. تقع دولة الكويت ضمن إقليم مناخي يسمى الصحراوي. ص 63
2. العالم المسلم الذي ألف كتاب "الصيدلية في الطب" اسمه البيروني. ص 18
3. الدولة الإسلامية الأولى في إنتاج الذهب تسمى أوزباكستان. ص 70
4. افتتح المسجد الكبير في دولة الكويت عام 1986 م. ص 31
5. يوجد المسجد الأقصى في مدينة إسلامية تسمى القدس. ص 33
6. أكبر الدول الإسلامية من حيث المساحة تسمى كازاخستان. ص 52

(ب) صوب ما تحته خط في العبارات التالية واكتب التصويب في المكان المناسب من الجدول:

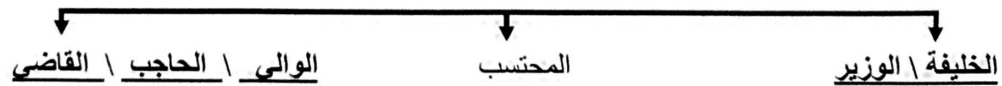
م	العبارة	التصويب
1	تضم قارة آسيا <u>26</u> دولة إسلامية.	27 ص 51
2	توفي الرسول صلى الله عليه وسلم في 12 ربيع الأول عام <u>10</u> هـ.	11 ص 25
3	يعمل في مهنة الزراعة من سكان العالم الإسلامي <u>40</u> %.	70 ص 72
4	أمير دولة الكويت الذي لقب بقائد العمل الإنساني عام 2014م هو الشيخ <u>جابر الأحمد الصباح</u> .	صباح الأحمد الصباح ص 24
5	مظهر تضاريسي يشبه الجبل ولكن ارتفاعه أقل من 1000 متر يسمى <u>الهضبة</u> .	تل ص 60

(ج) أكمل المخططات السهمية التالية بما يناسبها:

1. العوامل التي ساعدت على زيادة الإنتاج الزراعي في دول العالم الإسلامي ص 72



2. المناصب الإدارية التي ظهرت في الدولة الإسلامية ص 25



السؤال الثاني: (موضوعي) يتكون من (أ - ب - ج) (15 نقطة × درجة واحدة = 15 درجة)

(أ) اختر البديل المناسب من بين البدائل التي تلي كل عبارة بوضع خط تحته:

1. العام الذي أصدرت فيه الجمعية العامة للأمم المتحدة قراراً بإدخال اللغة العربية ضمن اللغات الرسمية: ص 21

أ- 1972م ب- 1973م ج- 1974م د- 1975م

2. أنشأ ديوان الماء في مدينة: ص 27
أ- مرو ب- دمشق ج- الفسطاط د- مجريط

3. انطلقت الحضارة الإسلامية من المدينة المنورة إلى بقاع الأرض في القرن الميلادي: ص 17
أ- السابع ب- الثامن ج- التاسع د- العاشر

4. أصغر دول العالم الإسلامي مساحة: ص 52
أ- كازاخستان ب- بنغلادش ج- ألبانيا د- المالديف

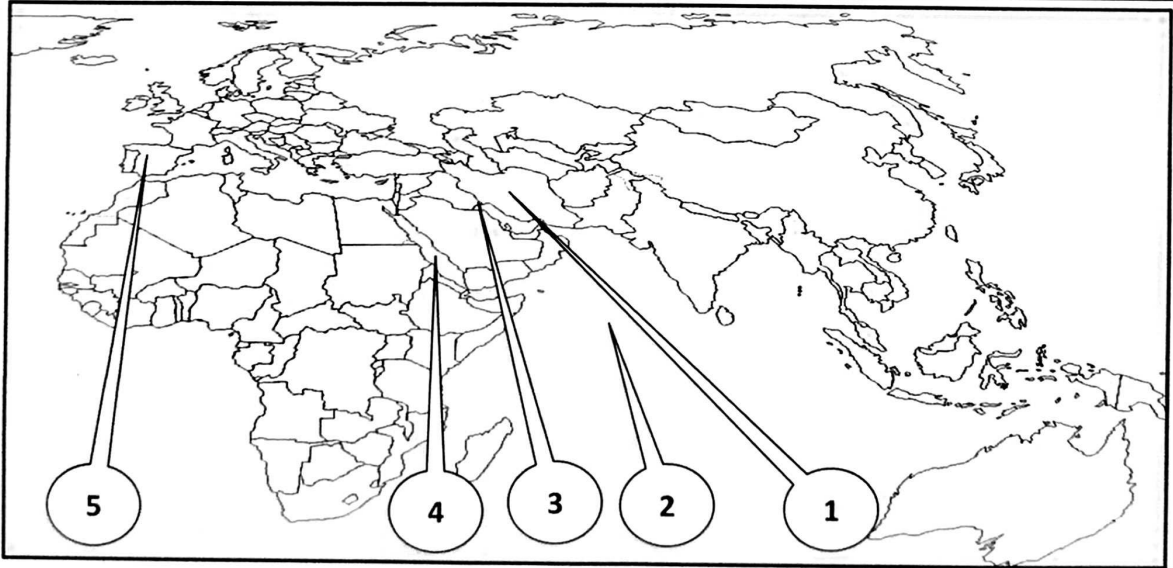
5. النبات الذي يصنع منه الحبال والأحذية والحقائب والأقمشة الخشنة: ص 73
أ- قصب السكر ب- المطاط ج- الجوت د- القطن

(ب) صنف المظاهر التضاريسية التالية في الجدول الذي يليها:

هضبة نجد - الجبل الأخضر - سهل الروضتين - سهول نهر جوبا - جبال الأحجار

اسم الدولة	ليبيا	دولة الكويت	الجزائر	السعودية	الصومال
المظاهر التضاريسية	الجبل الأخضر	سهل الروضتين	جبال الأحجار	هضبة نجد	سهول نهر جوبا
	ص 54	ص 58	ص 54	ص 56	ص 59

(ج) لاحظ خريطة العالم ثم اكمل ما يليها مستعيناً بالأرقام الموضحة على الخريطة:



- مركز إشعاع الحضارة الإسلامية إلى أوروبا يمثلها على الخريطة الرقم 5. ص 41
- المحيط الهندي يمثلها على الخريطة الرقم 2. ص 74
- الهضبة الإيرانية يمثلها على الخريطة الرقم 1. ص 56
- بحر القلزم قديماً يمثلها على الخريطة الرقم 4. ص 17
- دولة الكويت يمثلها على الخريطة الرقم 3. ص 63

السؤال الثالث: (مقالي) يتكون من (أ - ب - ج) (15 نقطة × درجة واحدة = 15 درجة)
(أ) عرف المفاهيم والمصطلحات التالية:

1. أهل الذمة: هم النصارى واليهود الذين ظلوا على دينهم مع دفع الجزية. ص36

2. تضاريس: هي أشكال سطح الأرض. ص53

3. احتياطي النفط: هو كمية النفط المخزونة في باطن الأرض ولم تستخرج بعد. ص68

(ب) أجب عن الأسئلة التالية:

1. عدد خصائص الحضارة الإسلامية. ص22 (يكتفي بثلاث نقاط)

- حضارة تسامح \ حضارة إيمان وعمل

- حضارة إنسانية \ حضارة عالمية

- حضارة شمولية

2. اذكر مميزات المظاهر العمرانية في الحضارة الإسلامية. ص30 (يكتفي بثلاث نقاط)

- الأسوار \ المنابر

- القباب \ الزخارف

- المآذن

3. ما أهم مصادر إنتاج الأسماك في العالم الإسلامي؟ ص74 (مطلوب النقطتين)

- مصادر طبيعية (المحيطات والبحار، المياه العذبة)

- مصادر غير طبيعية (الاستزراع السمكي)

(ج) قارن بين كل مما يلي حسب الجدول التالي:

وجه المقارنة	أبوبكر الرازي ص40	الشريف الإدريسي ص42
أهم مؤلفاته	الحواري في الطب	نزهة المشتاق في اختراق الأفاق
المجال العلمي	الطب	الجغرافيا



السؤال الرابع: (مقالي) يتكون من (أ - ب - ج) (15 نقطة × درجة واحدة = 15 درجة)
(أ) علل لما يلي:

1. تسمية الزكاة بهذا الاسم. ص 28
لما فيها من تركية للنفس وتطهيرها.
2. قلة عدد السكان في المناطق الجبلية في دول العالم الإسلامي. ص 55 (يكتفى بنقطتين)
- انخفاض الضغط الجوي \ صعوبة التنقل
- شدة انحدارها \ قلة وجود الأوكسجين
3. لقيت التجارة تشجيعاً كبيراً في الحضارة الإسلامية. ص 28 (يكتفى بنقطة واحدة)
- دورها في التبادل التجاري مع المناطق المجاورة \ أسهمت في نشر الإسلام \ يمتلك موقع العالم الإسلامي الإستراتيجي خطوط التجارة البرية والبحرية مما انعكس على صادراته و وارداته.



(ب) فرق بين كل مما يلي:

1. العلوم العقلية (مثال) ص 17	العلوم النقلية (مثال) ص 17
رياضيات/ فيزياء/ كيمياء / الفلسفة/ الفلك (يكتفى بمثال واحد)	علوم الدين من حديث وفقه وتفسير وتاريخ (يكتفى بمثال واحد)
2. الأمطار في المناخ الاستوائي ص 64	الأمطار في المناخ المعتدل ص 64
مطر طوال العام	مطر شتاء
3. تعريف الطقس ص 64	تعريف المناخ ص 64
حالة الجو في مكان لمدة قصيرة تتراوح بين يوم أو عدة أيام من حيث درجة الحرارة والرطوبة والأمطار والضغط الجوي	حالة الجو خلال فترة زمنية طويلة من حيث درجة الحرارة والرطوبة والأمطار والضغط الجوي

(ج) دلل على صحة العبارات التالية:

1. اهتم المسلمون في الحضارة الإسلامية بالزراعة. ص 26 (يكتفى بنقطتين)
- شق القنوات المائنة والترع \ إقامة السدود
- تنظيم وسائل الري

2. تقوم الحضارة العربية الإسلامية على أسس قوية ثابتة. ص 20 (مطلوب النقاط الثلاث)

- الدين الإسلامي
- اللغة العربية
- الحضارات الأخرى



Telegram:
ykuwait_net_home