

تم تحميل هذا الملف من موقع المناهج الكويتية



منطقة الأحمدية التعليمية

الملف نموذج أسئلة منطقة الأحمدية التعليمية

[موقع المناهج](#) ← [المناهج الكويتية](#) ← [الصف السابع](#) ← [اجتماعيات](#) ← [الفصل الثاني](#)

روابط مواقع التواصل الاجتماعي بحسب الصف السابع



روابط مواد الصف السابع على تلغرام

[الرياضيات](#)

[اللغة الانجليزية](#)

[اللغة العربية](#)

[التربية الاسلامية](#)

المزيد من الملفات بحسب الصف السابع والمادة اجتماعيات في الفصل الثاني

| | |
|---|---|
| مذكرة موضوعية محلولة | 1 |
| حل الكتاب | 2 |
| حل الوحدة الرابعة في مادة الاجتماعيات | 3 |
| بنك اسئلة التربية سابع | 4 |
| مراجعات الصف السابع | 5 |

الثاني : (موضوعي) يتكون من (أ - ب - ج) :

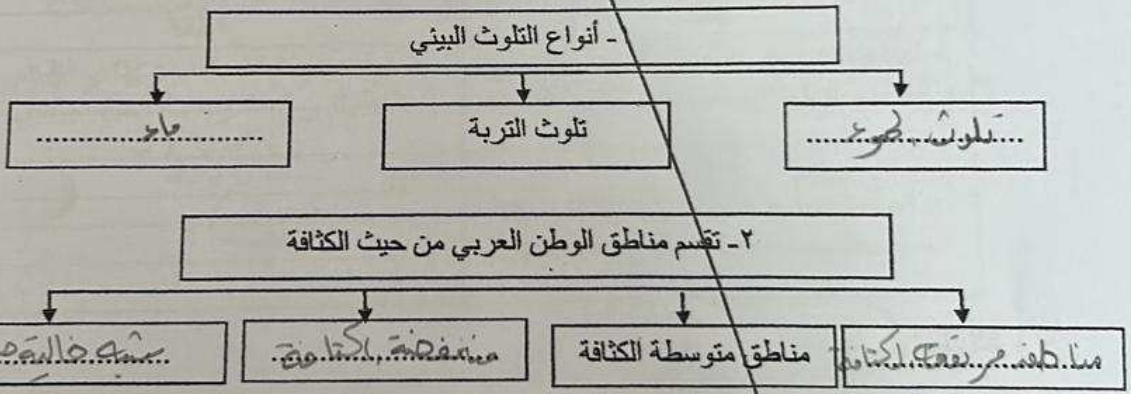
ضع خطأ تحت الخيار الصحيح من بين الخيارات التي تلي كل عبارة :



تمثل نسبة :

- ١- احتياط النفط الخام (ب) إنتاج النفط الخام ج - احتياط الغاز الطبيعي د - إنتاج الغاز الطبيعي
- ٢- المدينة العربية التي تأسست فيها منظمة الأوبك : أ - أبو ظبي ب - الرياض ج - بغداد د - الكويت
- ٣- عملية تركيب وجمع المواد المصنعة على اختلاف مصادرها كي تحصل على سلع متنوعة : (أ) الصناعات التجميعية ب - الصناعات الحرفية ج - الصناعات التحويلية د - الصناعات التعدينية
- ٤- الأسواق التي تحتل المكانة الأولى بالنسبة لتجارة الصادرات العربية : أ - اليابان ب - العربية ج - الأوروبية د - الأمريكية
- ٥- استضافت الكويت المؤتمر الدولي الأول لمانحي سوريا في عهد الشيخ : أ - عبدالله السالم الصباح ب - صباح السالم الصباح ج - جابر الأحمد الصباح د - صباح الأحمد الصباح

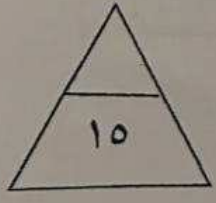
(ب) أكمل المخططات السهمية التالية :



(ج) صنف الصناعات التالية حسب مكانها المناسب في الجدول التالي :

(الصناعات الغذائية - الفحم - المنسوجات - المعادن - الخشب والورق)

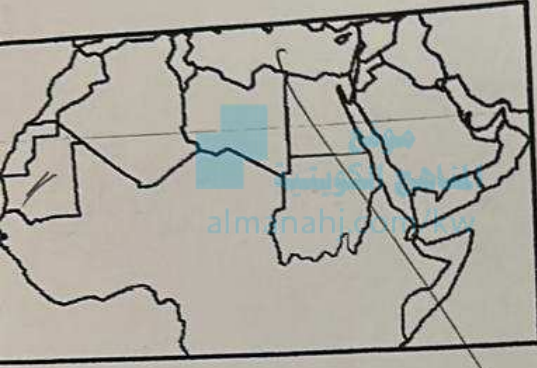
| الصناعات التحويلية | الصناعات الاستخراجية |
|--------------------|----------------------|
| | |
| | |
| | |



درجة السؤال الثاني بالحروف

السؤال الثالث : (مقالي) يتكون من (أ - ب - ج) :


(أ) لاحظ خريطة الوطن العربي الصماء ثم أجب عن الأسئلة التالية :



١- ظل على الخريطة الدولة العربية الأولى في إنتاج الحديد .

٢- اذكر نسبة إنتاج الوطن العربي من معدن الفوسفات بالنسبة للعالم .

٣- حول نسبة إنتاج الوطن العربي من معدن الفوسفات إلى دائرة بيانية



(ب) فرق بين كل مما يلي من حيث التعريف :

| الموارد البشرية | الموارد الطبيعية |
|---|---|
| <p>الموارد البشرية هي تلك التي تتوفر لدى الإنسان، وتتمثل في قدراته العقلية والجسدية، وتعتبر من أهم الموارد الطبيعية.</p> <p>ومما يميزها أنها لا تنضب طالما تتوفر لها الطاقة.</p> | <p>الموارد الطبيعية هي تلك التي تتوفر في الطبيعة، وتتمثل في المعادن والنفط والغاز والمياه العذبة، وتعتبر من أهم الموارد الطبيعية.</p> <p>ومما يميزها أنها محدودة الكمية، وتحتاج إلى وقت طويل لتتجدد.</p> |
| النقط | أوبك |
| <p>النقط هي تلك التي تتوفر في الطبيعة، وتتمثل في المعادن والنفط والغاز والمياه العذبة، وتعتبر من أهم الموارد الطبيعية.</p> <p>ومما يميزها أنها محدودة الكمية، وتحتاج إلى وقت طويل لتتجدد.</p> | <p>أوبك هي منظمة دول الخليج العربية، وتتمثل في الكويت والقطر والبحرين والعمان والإمارات العربية المتحدة، وتعتبر من أهم المنظمات الإقليمية.</p> <p>ومما يميزها أنها تهدف إلى تعزيز التعاون الاقتصادي بين دولها، والحفاظ على استقرار أسعار النفط.</p> |

(ج) علل لما يلي :

١- تحتل الأغنام العربية مكاناً مهماً ضمن الثروة الرعوية.

لأنها تعتبر من أهم الثروة الرعوية، وتتميز بقدرة عالية على التكيف مع البيئة الصحراوية، وتعتبر من أهم مصادر الدخل للمزارعين والرعاة.

٢- تواجه التنمية البشرية في الوطن العربي عدة مشكلات.

من أهمها: نقص الاستثمار في التعليم والصحة، وارتفاع معدلات البطالة، وانخفاض الدخل الفردي، مما يؤدي إلى تدهور المستوى المعيشي للسكان.

درجة السؤال الثالث بالحروف

- الاختلاف في مستويات المعيشة

السؤال الرابع: (مقالى) يتكون من (أ - ب - ج) :

أقرأ الفقرة التالية ثم أجب عما يليها من أسئلة :

" يعتمد التبادل التجاري ودرجة نشاطه على مدى توافر وسهولة سبل النقل ووسائله الثلاث وهي طرق النقل البرية وطرق النقل المائية النهرية والبحرية لما يتمتع فيه الوطن العربي من سواحل ومنافذ بحرية طويلة ساعدت على إنشاء العديد من الموانئ التجارية والنفطية ، وأيضاً طرق النقل الجوي "

١- ضع عنواناً مناسباً للفقرة السابقة: تبادل تجارى / وسائل نقل
٢- عرف ما تحته خط: طرق / بحري

٣- اعلل / إنشاء العديد من الموانئ التجارية والنفطية في الوطن العربي .
موقع الموانئ الرئيسية
almanahj.com/kw

٤- اذكر أمثلة لطرق النقل البرية في الوطن العربي .
سيارات / سكة حديدية / شاحنات

(ب) قارن بين كل من حسب المطلوب منك فى الجدول التالى :

| أوجه المقارنة | إنتاج النفط الخام | إنتاج الغاز الطبيعى |
|----------------------------------|-------------------|---------------------|
| نسبة الجناح الآسيوي | ١١.٥ % | ٦٦.٦ % |
| الدولة العربية الأولى فى الإنتاج | السعودية | قطر |

(ج) اكتب فيما يلى مما درست :

١- مقومات الصناعة البشرية فى الوطن العربي .
المهارات والخبرة
وسائل النقل

٢- أهداف الصناعات البتروكيماوية .
المواد الخام
المواد البترولية

٣- أسباب التصحر .

درجة السؤال الرابع بالحروف

١٥

(انتهت الأسئلة)



أجب على جميع الأسئلة

السؤال الأول: (موضوعي) يتكون من (أ-ب-ج):

(أ) أكمل العبارات التالية بما يناسبها مما درست:


- ١- القارة التي يتوزع بها ٧٠% من سكان الوطن العربي اسمها.....
- ٢- أقل دولة في الوطن العربي من حيث عدد السكان اسمها.....
- ٣- تبلغ نسبة المساحة المزروعة في الوطن العربي حوالي.....%
- ٤- يقصد بالغاز المصاحب للنفط الخام أو يوجد منفرداً.....
- ٥- العام الذي أنشئ فيه الصندوق الكويتي للتنمية الاقتصادية العربية.....م
- ٦- الشعار المقابل يمثل منظمة خليجية تسمى.....

(ب) صحح ما تحته خط في العبارات التالية بكتابة الإجابة الصحيحة ما بين الأقواس:

- ١- تشكل نسبة القطاع الزراعي من الاقتصاد العربي حوالي ٣٠% . (.....)
- ٢- تفرد اليمن بزراعة محصول القطن . (.....)
- ٣- الدولة العربية الأولى في إنتاج الأسماك هي المغرب . (.....)
- ٤- يبلغ عدد الدول المؤسسة لجامعة الدول العربية ٥ دول . (.....)
- ٥- أنشئ صندوق أبوظبي للتنمية في عام ١٩٧٤م . (.....)

(ج) اكتب المفاهيم أو المصطلحات الدالة على العبارات التالية:

| المفهوم | العبرة |
|---------|---|
| | الغلات التي تدخل في الصناعة وتزرع بغرض التجارة والحصول على نقد. |
| | التبادل التجاري بين الدول العربية . |
| | زحف رمال الصحراء على المناطق الجافة وشبه الجافة . |
| | التطور والتطوير وهي عملية تتطلب التخطيط والمشاركة من الجميع . |



درجة السؤال الأول بالحروف.....