

تم تحميل هذا الملف من موقع المناهج الكويتية



منطقة الفروانية التعليمية

الملف نموذج أسئلة منطقة الفروانية التعليمية

موقع المناهج ← المناهج الكويتية ← الصف السابع ← اجتماعيات ← الفصل الأول

روابط مواقع التواصل الاجتماعي بحسب الصف السابع



روابط مواد الصف السابع على تلغرام

[الرياضيات](#)

[اللغة الانجليزية](#)

[اللغة العربية](#)

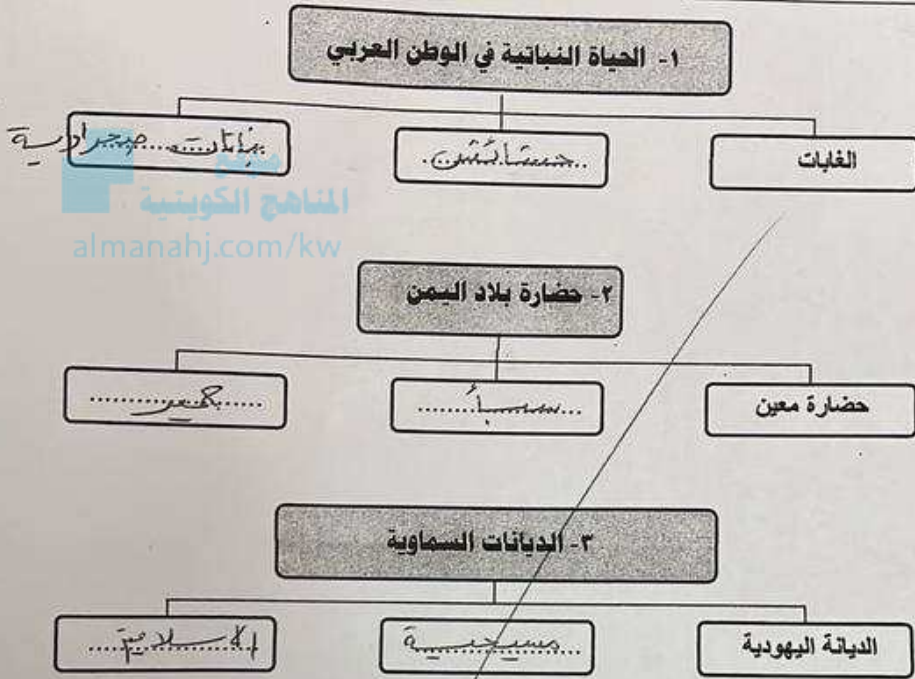
[التربية الاسلامية](#)

المزيد من الملفات بحسب الصف السابع والمادة اجتماعيات في الفصل الأول

كتاب الطالب في مادة الاجتماعيات للعام الدراسي 2018	1
حل الوحدة الاولى في مادة الاجتماعيات	2
تلخيص رائع في مادة الاجتماعيات	3
حل الوحدة الثانية في مادة الاجتماعيات	4
تلخيص ممتاز في مادة الاجتماعيات	5

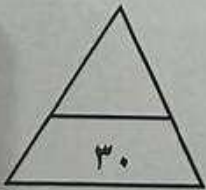
تابع السؤال الأول (الموضوعي) :

أكمل المخططات السهمية التالية :



و اكتب المفهوم أو المصطلح الدال على العبارات التالية :-

- ١- (الوطن العربي) مجموعة الدول العربية التي يجمعها عدد من السمات المشتركة ويمتد ضمن قارتين من أكبر قارات العالم مساحة .
- ٢- (مسطحات مائية) جميع أشكال المياه على سطح الأرض مثل البحار والخلجان والمحيطات والبحيرات والأنهار.
- ٣- (النباتات الصحراوية) هو النبات الذي ينمو تلقائياً عقب سقوط المطر دون تدخل من الإنسان .
- ٤- (الحضارة) كل ما يطرأ على المجتمع من تقدم وتطور وراقي في جميع نواحي الحياة الدينية والسياسية والاقتصادية والاجتماعية والفكرية .





وزارة التربية
الإدارة العامة لمنطقة الفروانية التعليمية
التوجيه الفني للاجتماعيات

امتحان نهاية الفترة الدراسية الأولى
لمقرر / الكويت والوطن العربي
(الصف السابع)
للعام الدراسي (٢٠٢٣ / ٢٠٢٤ م)

عدد الأوراق : (٦)

زمن الإجابة: ساعة وخمس وأربعون

(أجب عن جميع الأسئلة)

السؤال الأول : (الموضوعي) ويتكون من (أ - ب - ج - د - هـ - و) :

أ) اختر الإجابة الصحيحة من بين البدائل التي تلي كل عبارة بوضع خط تحتها:

١- عاصمة جمهورية جزر القمر مدينة هي :

- الرباط - موروني - القاهرة - مسقط

٢- يحد الوطن العربي من جهة الغرب مسطح مائي هو :

- بحر العرب - البحر الأحمر - المحيط الأطلسي - البحر المتوسط

٣- كل ما ارتفع من الأرض وله قمة لا يقل ارتفاعها عن ١٠٠٠ متر هو :

- السهل - الوادي - الهضبة - الجبل

٤- يوجد نهر النيل في دولة عربية هي :

- الجزائر - مصر - لبنان - تونس

٥- أكثر الدول العربية إنتاجاً للمياه المحلاة هي :

- الكويت - البحرين - قطر - ليبيا

ب) أكمل العبارات التالية بما يناسبها :

١- أكثر الأشكال التضاريسية انتشاراً في الوطن العربي اسمها الهضاب

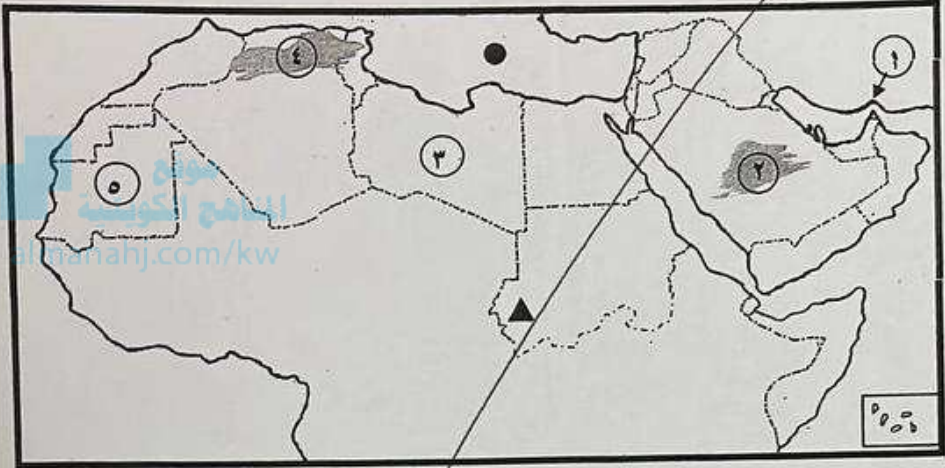
٢- حالة الجو في مكان لمدة قصيرة تتراوح بين يوم أو عدة أيام تسمى الطقس

٣- الرياح المحلية التي تهب على دولة الكويت تسمى رياح الطورز

٤- أطلق على حضارة دلمون (البحرين) قديماً قبل الفتح الإسلامي اسم أزال

تابع / السؤال الأول (الموضوعي) :

ج) لاحظ خريطة الوطن العربي ثم نفذ المطلوب :



- الشكل (▲) على الخريطة يرمز إلى جبل يطلق عليه اسم

.....

- الشكل (●) على الخريطة يرمز إلى مسطح مائي اسمه

..... البحر المتوسط - الأبيض

- الرقم (١) على الخريطة يشير بالسهم إلى مضيق اسمه

.....

- دولة موريتانيا يمثلها على الخريطة الرقم

.....

- هضبة نجد يمثلها على الخريطة الرقم

.....

د) صف الأسماء التالية بمكانها الصحيح في الجدول الذي أمامك :

[مسلة حمورابي - سد مأرب - الأهرامات - الكتابة الهيروغليفية - الكتابة المسمارية - الخط المسند]

حضارة بلاد اليمن	حضارة بلاد الرافدين	الحضارة المصرية
بيد الخط المسند	الكتابة المسمارية مسلة حمورابي	الأهرامات الكتابة الهيروغليفية

السؤال الثالث (المفالي) : ويتكون من (أ - ب) :-

أ) عدد لكل مما يلي :

- ١- مقومات الهوية العربية .
 الألفاظ العربية / التاريخ المشترك
 اللحن الموسيقي / وجه التراث
 الدين الإسلامي /
- ٢- مصادر المياه في الوطن العربي .
 الأنهار / الأمطار / البحار
 الجبال / المياه الجوفية / البحار والمحيطات والجزر
- ٣- صفات المطر في الوطن العربي .
 قليلة / منبسطة / كمية الأمطار فيه عام وأخر
 تتساقط على الأجزاء الشمالية والجنوبية

ب) قارن بين كل من حسب الجدول التالي :

أوجه المقارنة	الحشاش الحارة (السافانا)	الحشاش المعتدلة (الأستبس)
التعريف	حشائش (هولي) خضراء	حشائش قصيرة
الحيوانات التي تتربى عليها	الماسية	الأبقار - الماعز - الخيول - الحمير

السؤال الرابع (المقال) : ويتكون من (أ - ب)

(أ) اقرأ الفقرة التالية ثم أجب عما يليها من أسئلة :

" الوطن العربي يتمتع بموقع إستراتيجي مهم ، أكسبه مكانة مهمة بين دول العالم في أوقات السلم والحرب ، حيث يشغل مكاناً وسطاً بين قارات العالم الثلاث ، ويطل على مسطحات مائية واسعة ذات أهمية كبيرة للملاحة والتجارة العالمية "

١- عرّف ماتحته خط في الفقرة السابقة
..... موقع .. ذي .. ملاحة .. أهمية .. كبيرة .. دول .. العالم ..

٢- استخرج من الفقرة .. الأهمية الجغرافية للوطن العربي .

..... يقع .. في .. وسط .. العالم ..
..... يطل .. على .. مسطحات .. مائية ..
..... ذات .. أهمية .. كبيرة .. للملاحة .. والتجارة .. العالمية ..

(ب) أجب عن الأسئلة التالية :

١- عدد - الوسائل التي تتخذها النباتات الصحراوية لمقاومة الجفاف .
..... صبار .. شوكية ..
..... بقرة .. كلب ..

٢- اكتب - أسماء الحيوانات السائدة في المناطق الصحراوية في الوطن العربي .

..... البعوض ..
..... الجراد ..
..... الضفادع ..

٣- عرّف - حرص المصريون القدماء على تحنيط جثث موتاهم .
..... للحفاظ .. على .. الجثث ..

انتهت الأسئلة

مع تمنياتنا لكم بالنجاح والتوفيق

السؤال الثاني (المفالي) : ويتكون من : [أ ، ب]

أ) لاحظ الخريطة التي أمامك ثم أجب عن الأسئلة التالية :



- ١- اكتب - اسم الحضارة القديمة التي تمثلها الخريطة التي أمامك .
..... حضارة بلاد الروافدين
- ٢- استخرج من الخريطة الممالك التي قامت في هذه الحضارة .
..... البابليين الكلدانيين
- ٣- عطل - اشتهر سكان هذه الحضارة بالزراعة .
..... خصوبة تربتها سهولة
وفرة مياهها -

ب) فرق بين كل من المفاهيم التالية :

القناة	المضيق
..... مجرى كين ما تحسب هنا جيب ليد ليد الرعي النخل ما تحسب جيب بين بحر ما تحسب البحر البحر كبريت
السهول الفيضية (النهرية)	السهول الساحلية
..... الأبر المنخفضة تكونت الترسبة اليم جملتها مياه جيب الأبر المنخفضة اليم تحاور سواحل البحار البحيرات
المياه الجوفية	الأفلاج
..... المياه التي تخرج من الأرض المياه الجارية (مجرى مخرج من)