

تم تحميل هذا الملف من موقع المناهج الكويتية



مدرسة التميز النموذجية

الملف مراجعة نهائية تحضيراً للاختبار

موقع المناهج ← المناهج الكويتية ← الصف الثامن ← اجتماعيات ← الفصل الأول

روابط مواقع التواصل الاجتماعي بحسب الصف الثامن



روابط مواد الصف الثامن على تلغرام

[الرياضيات](#)

[اللغة الانجليزية](#)

[اللغة العربية](#)

[التربية الاسلامية](#)

المزيد من الملفات بحسب الصف الثامن والمادة اجتماعيات في الفصل الأول

مسودة كتاب الطالب في مادة الاجتماعيات لعام 2018	1
خطة توزيع منهج العام الجديد في مادة الاجتماعيات	2
حل الوحدة الاولى في مادة الاجتماعيات	3
ورقة عمل في مادة الاجتماعيات	4
ورقة عمل في مادة الاجتماعيات	5



مراجعة الاجتماعيات

موقع
المنهاج الكويتية
almanahj.com/kw

الفصل الدراسي الأول 2024 – 2025 م

للمصف (الثامن)



إعداد
قسم الاجتماعيات



السؤال الأول : اكتب المصطلح العلمي :

1. (الحضارة): هي كل ما يطرأ على المجتمع من تقدم وتطور ورفي سواء في الجانب المادي أو الروحي
2. (البيمارستانات) هي دار المرضى أو المستشفى ومراكز الصيدلة والتحليل وصناعة الأدوية
3. (الجزية) مبلغ مالي يدفعه الرجال غير المسلمين من أهل الذمة
4. (أهل الذمة) هم اليهود والنصارى الذين ظلوا على دينهم مع دفع الجزية.
5. (الوقف) صدقة جارية يوقفها المرء في حياته لوجوه الخير والبر
6. (الزكاة) ركن من أركان الاسلام يخرجها المسلمون الأغنياء للمستحقين من الفقراء
7. (دمشق) اشتقت من الدمقس وهو نوع من الحرير الذي اشتهرت به تلك المدينة قبل الاسلام
8. (القصر) هي مقر الحاكم والمكان الذي يضم المؤسسات الادارية كالداوين والوزارة
9. (التضاريس) هي أشكال سطح الأرض
10. (السهول) أجزاء فسيحة من سطح الأرض تتميز باستوائها وقلة ارتفاعها
11. (الهضبة) أرض مرتفعة سطحها مستوي ومساحتها واسعة
12. (الوادي) حوض أو منخفض طبيعي على سطح الأرض
13. (الجبل) كل قمة لا يقل ارتفاعها عن 1000 متر تقريبا
14. (التل) يشبه الجبل لكنه أقل من 1000 متر
15. (الطقس) : حالة الجو في مكان ما لمدة قصيرة بين يوم أو عدة أيام.
16. (المناخ) : حالة الجو في مكان ما خلال فترة زمنية طويلة.
17. (احتياط النفط) هو كمية النفط المخزونة في باطن الأرض ولم تستخرج بعد.
18. (الجوت) هو نبات ينمو في المناطق الاستوائية والموسمية
19. (الغلات النقدية) هي المحاصيل التي تزرع من أجل التصدير



السؤال الثاني: صحح ما تحته خط بكتابة الاجابة الصحيحة بين القوسين فيما يلي :

1. أشهر مؤلفات البيروني كتاب الحاوي (الصيدلة في الطب)
2. القصر الذي يعتبر نموذجًا مميّزًا للعمارة الإسلامية ويقع في الأندلس قصر الرصافة (قصر الحمراء)
3. العالم المسلم الذي يرجع له الفضل في تطوير فكرة الكاميرا هو البيروني (الحسن بن الهيثم)
4. العالم المسلم الذي ألف كتاب الحيوان هو البكري (الجاحظ)
5. صاحب كتاب نزهة المشتاق في اختراق الآفاق هو الكندي (الإدريسي)
6. تقع الهضبة الإيرانية في دولة البنابيا (إيران)
7. من أشهر السهول في دولة الكويت سهل الروضتين والبقاع (برقان)
8. الدولة التي تحتل المركز الأول في إنتاج الذهب هي السودان (أوزباكستان)
9. نسبة العاملين بالزراعة من سكان العالم الاسلامي حوالي 80% (70%)
10. الدولة الاسلامية التي تحتل المركز الثاني عالميًا في الإنتاج البحري هي تركيا (أندونيسيا)
11. يبلغ إجمالي احتياط النفط الخام في دول العالم الاسلامي حوالي 59% (58.5%)

السؤال الثالث : أكمل العبارات التالية بما يناسبها مما درست :

1. انطلقت الحضارة الإسلامية في شبه الجزيرة العربية من مدينة تسمى المدينة المنورة.
2. العالم المسلم الذي ألف في الرياضيات والفلك قدرت مؤلفاته 180 مؤلفا البيروني.
3. أمير الكويت الذي أختير قائدًا للعمل الإنساني الشيخ صباح الأحمد.
4. توفي الرسول صلى الله عليه وسلم عام 11 هجريا.
5. ركن من أركان الإسلام يخرجها المسلمون الأغنياء للمستحقين من الفقراء والمساكين تسمى الزكاة.
6. الهيئة المسؤولة حالياً عن الوقف في دولة الكويت وزارة الأوقاف والشؤون الاسلامية
7. مظاهر إهتمام الحضارة الإسلامية بالزراعة إنشاء ديوان الماء في مدينة تسمى مرو
8. افتتح المسجد الكبير بالكويت في عهد الشيخ جابر الأحمد الصباح
9. المدينة التي يوجد بها المسجد الأموي تسمى دمشق
10. جامع عمرو بن العاص والجامع الأزهر يقع في مدينة القاهرة (الفسطاط).
11. القصر الذي بناه الخليفة الأموي معاوية بن أبي سفيان في دمشق يسمى قصر الخضراء
12. القصر الذي بناه الخليفة الأموي يزيد بن الوليد في الأردن يسمى قصر عمرة
13. القصر الذي بناه الخليفة هشام بن عبد الملك في سوريا يسمى قصر الرصافة
14. العالم والفيلسوف الذي ينسب الى قبيلة كندة اليمانية يسمى الكندي



15. تبلغ مساحة العالم الإسلامي حوالي 32 مليون كم2
16. أكبر الدول الإسلامية من حيث المساحة دولة تسمى كازاخستان
17. أصغر الدول الإسلامية من حيث المساحة دولة تسمى جمهورية المالديف
18. تمثل مساحة الدول الإسلامية من جملة مساحة العالم حوالي 22.2%.
19. تم إدخال اللغة العربية ضمن اللغات الرسمية في الأمم المتحدة عام 1973م
20. لقب الشيخ صباح الأحمد بقائد العمل الانساني في 9 سبتمبر عام 2014 م
21. تم الكشف في دولة الكويت عن محطة لإستراحة قوافل الحجاج تسمى الشجي
22. استفادت الحضارة الأوربية من شبكة موارد المياه الجوفية التي أقامها المسلمون في مدينة مجريط.

السؤال الرابع : اختر الإجابة الصحيحة من بين الخيارات التي تلي كل عبارة فيما يلي وضع خطأ تحتها :

- 1 . أول الخلفاء الراشدين هو
(عثمان بن عفان - علي بن ابي طالب - عمر بن الخطاب - أبو بكر الصديق)
- 2 . الخليفة الذي استحدث وظيفة المحتسب
(عثمان بن عفان - علي بن ابي طالب - عمر بن الخطاب - أبو بكر الصديق)
- 3 . تم افتتاح المسجد الكبير بالكويت في عام
(1985م - 1986م - 1987م - 1988م)
- 4 . المدينة التي يوجد بها جامع الزيتونة
(الجزائر - مصر - تونس - ليبيا)
- 5 . قصر عمرة الذي بناه يزيد بن الوليد يقع في
(سوريا - الأردن - لبنان - فلسطين)
- 6 . قصر الرصافة يقع في دولة (الأردن - اليمن - سوريا - الكويت)
- 7 . أشهر علماء الجبر الذي ألف كتاب الجبر والمقابلة :
(البيروني - الخوارزمي - الحسن بن الهيثم - بن سينا)
- 8 . عدد الدول الإسلامية في قارة آسيا (25 - 26 - 27 - 28)
- 9 . عدد الدول الإسلامية في قارة أفريقيا (25 - 26 - 27 - 28)
- 10 . عدد الدول الإسلامية في قارة أوروبا (1 - 2 - 3 - 4)

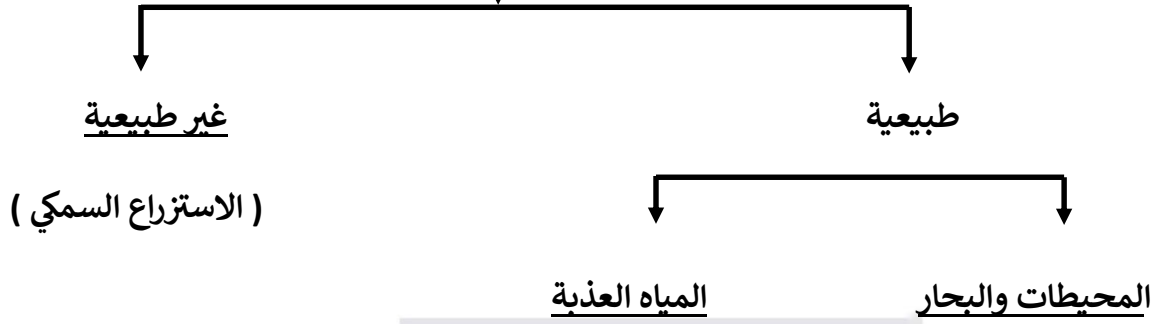


11. عدد الدول الإسلامية في قارة أمريكا الجنوبية (1 - 2 - 3 - 4)
12. تقع هضبة نجد في دولة (الكويت - البحرين - قطر - السعودية)
13. ينتج العالم الإسلامي من النفط الخام حوالي (45.5% - 44.5% - 43.5% - 41.5%)
14. ينتج العالم الإسلامي من الغاز الطبيعي حوالي (35% - 36% - 37% - 38%)
15. أولى دول العالم الإسلامي إنتاجاً لليورانيوم (كازاخستان - أوزباكستان - النيجر - باكستان)
16. يبلغ إنتاج العالم الإسلامي من الحبوب حوالي (14% - 15% - 16% - 17%)
17. تجب الزكاة في الأموال النقدية بنسبة (1.5% - 2.5% - 3.5% - 4.5%)
18. أقامت مدينة مرو ديواناً يسمى (ديوان الجند - ديوان الخراج - ديوان الماء - ديوان الزكاة)

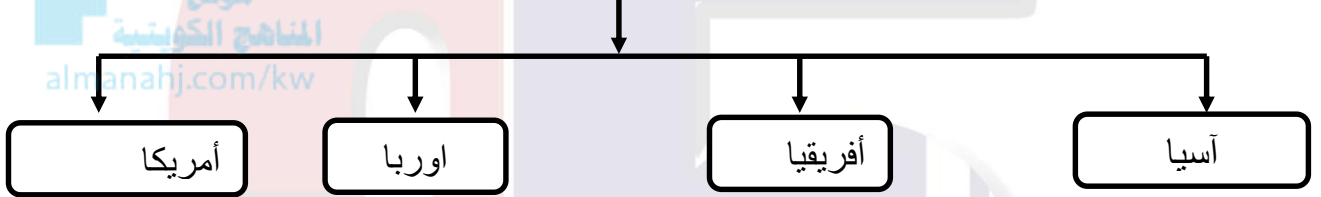
السؤال الخامس : أكمل المخططات السهمية التالية بالإجابات الصحيحة :



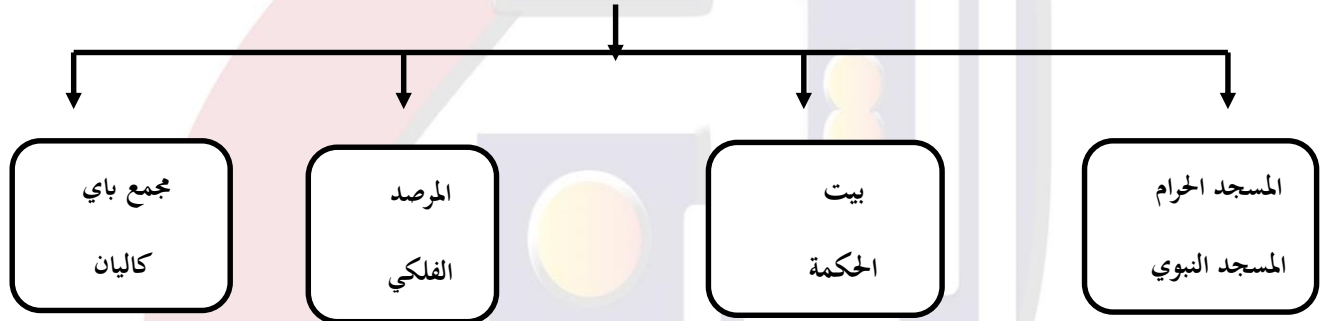
3- مصادر الانتاج السمكي في العالم الاسلامي



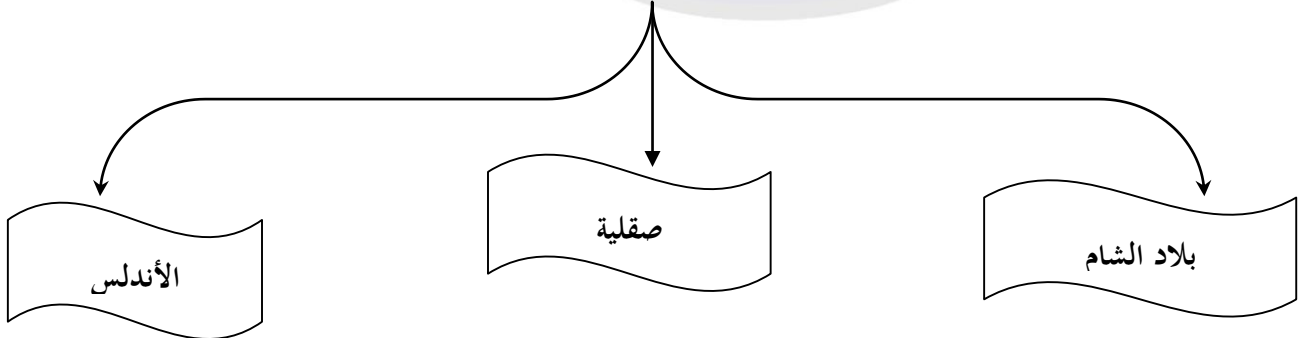
4- القارات التي يمتد فيها العالم الاسلامي



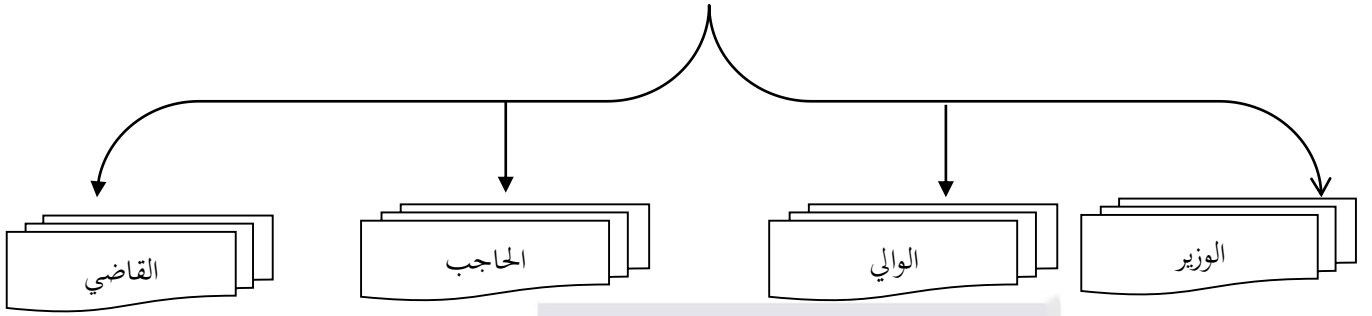
5 - أهم المراكز العلمية في الحضارة الاسلامية



6- مراكز إشعاع الحضارة الاسلامية الى أوروبا



7 - المناصب الادارية في الدولة الاسلامية



السؤال السادس : علل ما يلي :

موقع
المناهج الكويتية
almanahj.com/kw

1. ظهور منصب الخليفة بعد وفاة الرسول صلى الله عليه وسلم ؟

* لحاجة الدولة الاسلامية لمن يخلف الرسول صلى الله عليه وسلم وحماية وقيادة الأمة الاسلامية .

2. تسمية الزكاة بهذا الاسم ؟

* لما فيها من تزكية للنفس وتطهيرها

3. اهتمام الحضارة الإسلامية بالصناعة ؟

* من أجل استغلال الموارد الطبيعية المتوفرة

4. تسمية صناعة الأرابيسك بهذا الاسم ؟

* نسبة للعرب

5. لقيت التجارة تشجيعاً كبيراً في الحضارة الإسلامية ؟

* لدورها الكبير في التبادل التجاري مع المناطق المجاورة ونشر الدين الاسلامي.

6. تسمية مرتفعات الحجاز بهذا الاسم ؟

* لأنها تحجز سهل تهامة في الغرب عن هضبة نجد في الشرق.

7. تعد الثروة الزراعية في العالم الإسلامي المصدر الرئيسي لإنتاج الغذاء

* لأنها تمثل الدخل الرئيسي لمعظم دوله ومادة خام في كثير من الصناعات.



السؤال السابع: اكتب فيما يلي مما درست :

1. العوامل التي ساعدت على زيادة الانتاج الزراعي في دول العالم الاسلامي .

- المناخ
- التربة الخصبة
- الأمطار
- كثرة السكان والأيدي العاملة

2. خصائص الحضارة الاسلامية .

- حضارة إنسانية
- حضارة إيمان وعمل
- حضارة عالمية
- حضارة شمولية

3. أهم مصادر بيت مال المسلمين .

- الزكاة
- الخراج
- الجزية
- الوقف الإسلامي

4. فضائل الوقف الاسلامي .

- سد حاجات الفقراء والمساكين والمرضى
- نشر العلم النافع
- بناء المدارس ودور الأيتام

5. جهود المسلمين في الاهتمام بالزراعة.

- شق القنوات المائية والترع
- إقامة السدود
- تنظيم وسائل الري

6. عدد الصناعات عند المسلمين .

– السفن – الأسلحة – الورق – الأدوية

7. العوامل التي أدت إلى ازدهار العلم وظهور العلماء .

- تشجيع الخلفاء والملوك للعلم والعلماء

- التنافس العلمي بين الدول الإسلامية

- حركة التعريب والترجمة

- الرخاء الاقتصادي

موقع
المنهج الكويتية
almanahj.com/kw

8. العوامل التي أدت إلى نقل الحضارة الإسلامية إلى أوروبا .

- حركة الترجمة

- العلاقات التجارية

9. أهمية السهول .

- استخدامها كموانئ طبيعية

- تشييد المدن

- تركيز السكان فيها

10 . عوامل تنوع المناخ في دول العالم الإسلامي .

خمسة وعشرون عاماً من التميز

- امتداد دول العالم الإسلامي

- الموقع بالنسبة لدوائر العرض

- المسطحات المائية

- تنوع التضاريس



السؤال الثامن : (أ) صنف مايلي حسب الجدول :

1. (الخيول العربية - اللبان - الاخشاب - التوابل - الذهب - التمور - الفواكه)

الواردات	الصادرات
الاششاب - التوابل - الذهب	التمور - الفواكه - الخيول العربية - اللبان

2. (الأحجار - مرة - زاجروس - الحجاز)

الحجاز	الأحجار	مرة	زاجروس
السعودية	الجزائر	السودان	إيران

3. (القاهرة - اسطنبول - الأندلس - تونس - السعودية - دمشق)

المدينة	المسجد
دمشق	المسجد الأموي
الفسطاط (القاهرة)	عمرو بن العاص - الازهر الشريف
تونس	الزيتونة
الأندلس (إسبانيا)	قرطبة
اسطنبول	السلطان حسن
السعودية	عمر بن الخطاب



4 . أكمل الناقص في الجدول التالي :

الدولة	القارة	الجبل
<u>عمان</u>	آسيا	الجبل الأخضر
إيران	<u>آسيا</u>	زاجروس
<u>السعودية</u>	آسيا	الحجاز
مصر والسودان	<u>افريقيا</u>	جبال البحر الأحمر
<u>السودان</u>	افريقيا	جبل مرة
ليبيا almanahj.com/kw	<u>افريقيا</u>	الجبل الأخضر
<u>الجزائر</u>	افريقيا	مرتفعات الاحجار
البانيا	<u>أوريا</u>	جبال الألب الدينارية
<u>سورينام</u>	امريكا الجنوبية	جوليانا توب

السؤال التاسع : أكتب مذكرات تاريخية عن :

1 . الجاحظ .

- عالم مسلم ألف 350 كتابا أهمها كتاب الحيوان كان يراقب سلوك الحيوانات عن طريق التجارب ويدرس أعضائها الداخلية .

2 . العالم الشريف الإدريسي

- اشتغل بتأليف الجغرافيا وألف كتابه المشهور (نزهة المشتاق في اختراق الآفاق) الذي أعجب به الاوربيون وكان الادريسي يؤمن بكروية الأرض ورسم خريطة تمثلها .

3 . البيروني .


- من العلماء المسلمين المتميزين ألف 180 مؤلف شملت الرياضيات والفلك والتاريخ والجغرافيا ومن أشهر مؤلفاته كتاب الصيدلة في الطب وأكتشف معادلة نصف قطر الأرض وسميت باسمه معادلة (البيروني) .



4 . قصر الحمراء .

يعتبر نموذجا مميذا للعمارة الاسلامية ويقع في مدينة غرناطة بالأندلس إسبانيا حاليا ويتميز القصر بالجدران والسقوف المزخرفة ومن أجمل أجزائه ساحة الأسود مع نافورته .

السؤال العاشر: أكتب مدلول الصور الآتية أسفل كل صورة فيما يلي :



2 . الأرابيسك



1 . الصناعات عند المسلمين



4 . المسجد النبوي بالمدينة المنورة
خمسة وعشرون عاماً من التميز



3 . المسجد الكبير بالكويت




6 . المسجد الأقصى (1)



5 . المسجد الحرام (الكعبة المشرفة بمكة)



8 . المسجد الأموي في دمشق



7 . المسجد الأقصى



10 . مسجد عمر بن الخطاب (السعودية)



9 . مسجد السلطان أحمد (الجامع الأزرق اسطنبول)



12 . قصر عمرة (الأردن)



11 . قصر الخضراء (دمشق)



15 . إنتاج النفط



14 . إنتاج الغاز



13 . قصر الرصافة (سوريا)

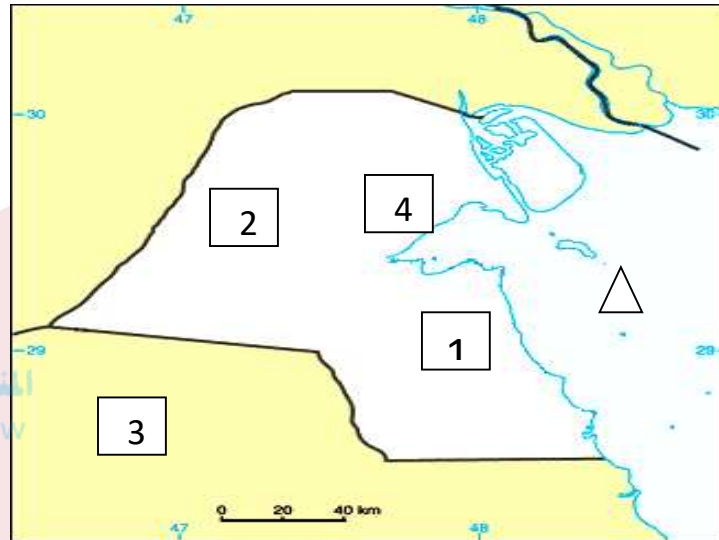


السؤال الحادي عشر: أكمل الجدول التالي حسب ما هو موضح:

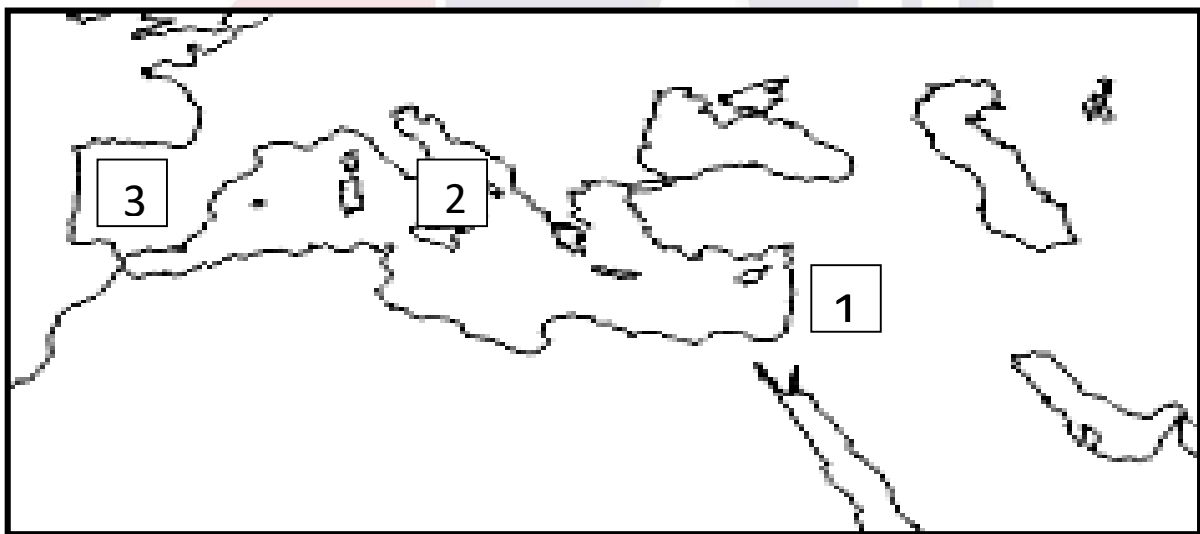
الصورة	اسم العالم	أهم مؤلفاته
	الحسن بن الهيثم	يرجع له الفضل في تطوير فكرة الكاميرا (مؤلف كتاب المناظر)
	الخوارزمي	أشهر علماء الجبر ألف كتاب (الجبر والمقابلة)
	الجاحظ	ألف كتاب (الحيوان)

السؤال الثاني عشر : (أ) لاحظ خريطة دولة الكويت الصماء ثم أجب عن الأسئلة التي تليها :

- 1 . تلال جال الزور على الخريطة يمثلها الرقم (4) . 2 . تلال اللياح على الخريطة يمثلها الرقم (2)
3 . تلال وارة على الخريطة يمثلها الرقم (1) . 4 . حدد الخليج العربي بوضع الرمز \triangle

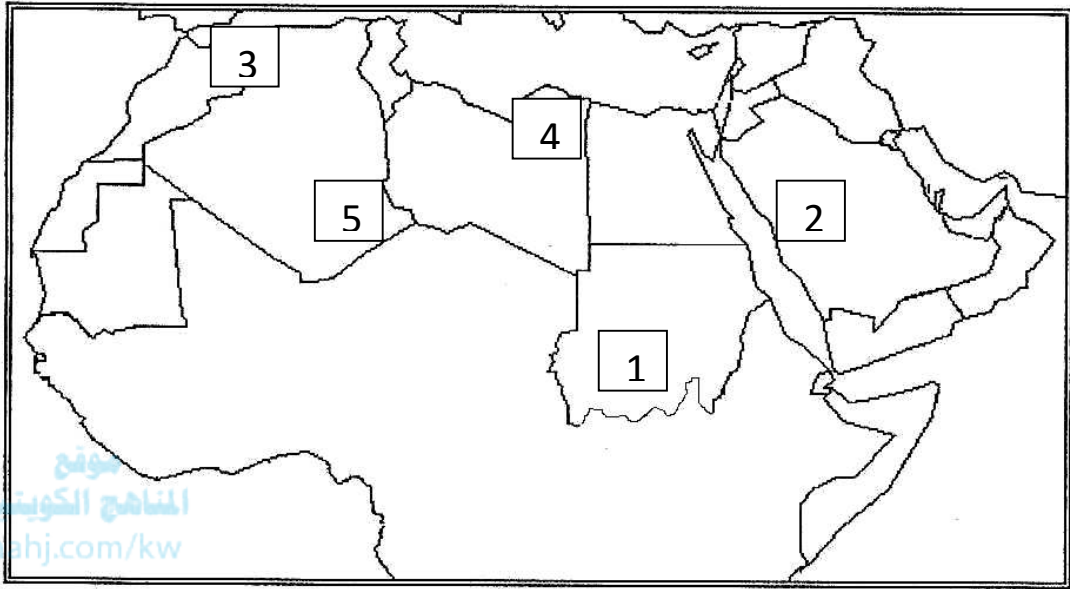


(ب) لاحظ خريطة مراكز إشعاع الحضارة الإسلامية الى أوروبا ثم اجب عما يليها من أسئلة :



- 1 . بلاد الاندلس على الخريطة يمثلها الرقم (3)
2 . بلاد الشام على الخريطة يمثلها الرقم (1)
3 . جزيرة صقلية على الخريطة يمثلها الرقم (2)

(ج) لاحظ الخريطة التالية ثم اجب عما يليها من أسئلة :-

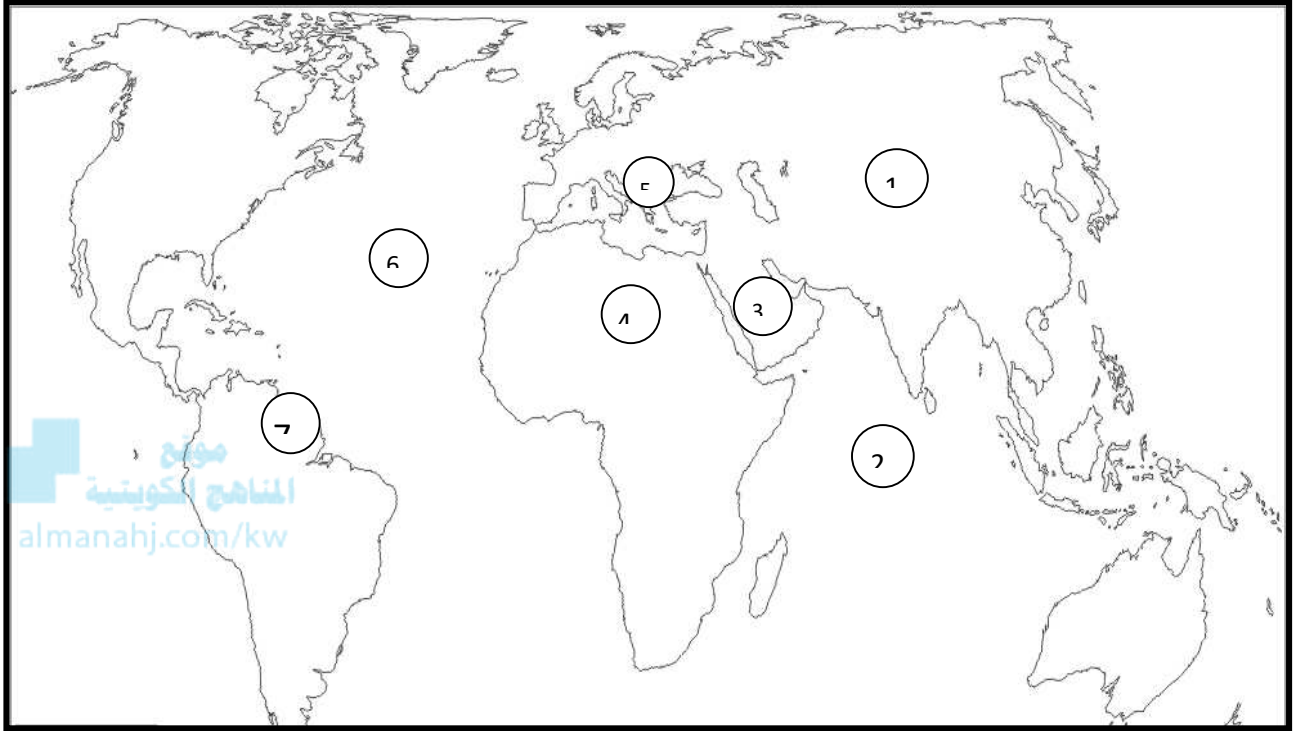


- 1 . جبل مرة على الخريطة يمثله الرقم (1)
- 2 . مرتفعات الاحجار على الخريطة يمثله الرقم (5)
- 3 . جبال الحجاز على الخريطة يمثله الرقم (2)
- 4 . الجبل الأخضر على الخريطة يمثله الرقم (4)
- 5 . جبال أطلس على الخريطة يمثله الرقم (3)

خمسة وعشرون عاماً من التميز



(ج) لاحظ خريطة العالم التالية ثم اجب عما يليها من أسئلة :



1 . قارة آسيا على الخريطة يمثلها الرقم (1)

2 . الصحراء الكبرى الأفريقية على الخريطة يمثلها الرقم (4)

3 . دولة سورينام على الخريطة يمثلها الرقم (7)

4 . هضبة نجد على الخريطة يمثلها الرقم (3)

5 . دولة البانيا على الخريطة يمثلها الرقم (5)

6 . المحيط الهندي على الخريطة يمثلها الرقم (2)

خمسة وعشرون عاماً من التميز





مدرسة التميز النموذجية
(ابتدائي - متوسط - ثانوي)
الجهاز الفني التربوي

منصات التميز التعليمية

لزيارة منصة التميز التعليمية في اليوتيوب امسح الباركود التالي :



لزيارة منصة التميز التعليمية في تليجرام امسح الباركود الخاص بقناة كل فصل مما يلي :



الصف الرابع



الصف الثالث



الصف الثاني



الصف الأول



الصف التاسع



الصف الثامن



الصف السابع



الصف السادس



الصف الخامس



الصف الثاني عشر
أدبي



الصف الثاني عشر
علمي




الصف الحادي عشر
علمي



الصف الحادي عشر
أدبي



الصف العاشر



لزيارة صفحتنا في تويتر

لزيارة صفحتنا في الإنستقرام

عنواننا : خيطان - ق ٤ - ش ١٠٠