

العام الدراسي: ٢٠١٧/٢٠١٨ م
الزمن: ساعة وخمس وأربعون
عدد الأوراق: ٧

امتحان الفترة الدراسية الثانية
مقرر الكويت والعالم (اجتماعيات)
للمصف التاسع

وزارة التربية
الادارة العامة للتعليم الخاص
التوجيه الفني للاجتماعيات

- السؤال الأول: ويتكون من (أ - ب - ج):

أ- أكمل الأشكال التالية بما يناسبها مما درست: درجة لكل نقطة $1 \times 5 = 5$ درجات

الأقاليم المناخية في قارة استراليا		
المناخ <u>الصحراوي</u>	المناخ المعتدل	مناخ <u>التندرا</u>
ص ٨٦		

المساواة	الحرية
الديمقراطية	
سيادة القانون	حكم الشعب
ص ١٠٥	

الاحتباس الحراري

الأمطار الحمضية

تآكل طبقة الأوزون

بعض الظواهر المناخية
الناجمة عن التلوث الهوائي

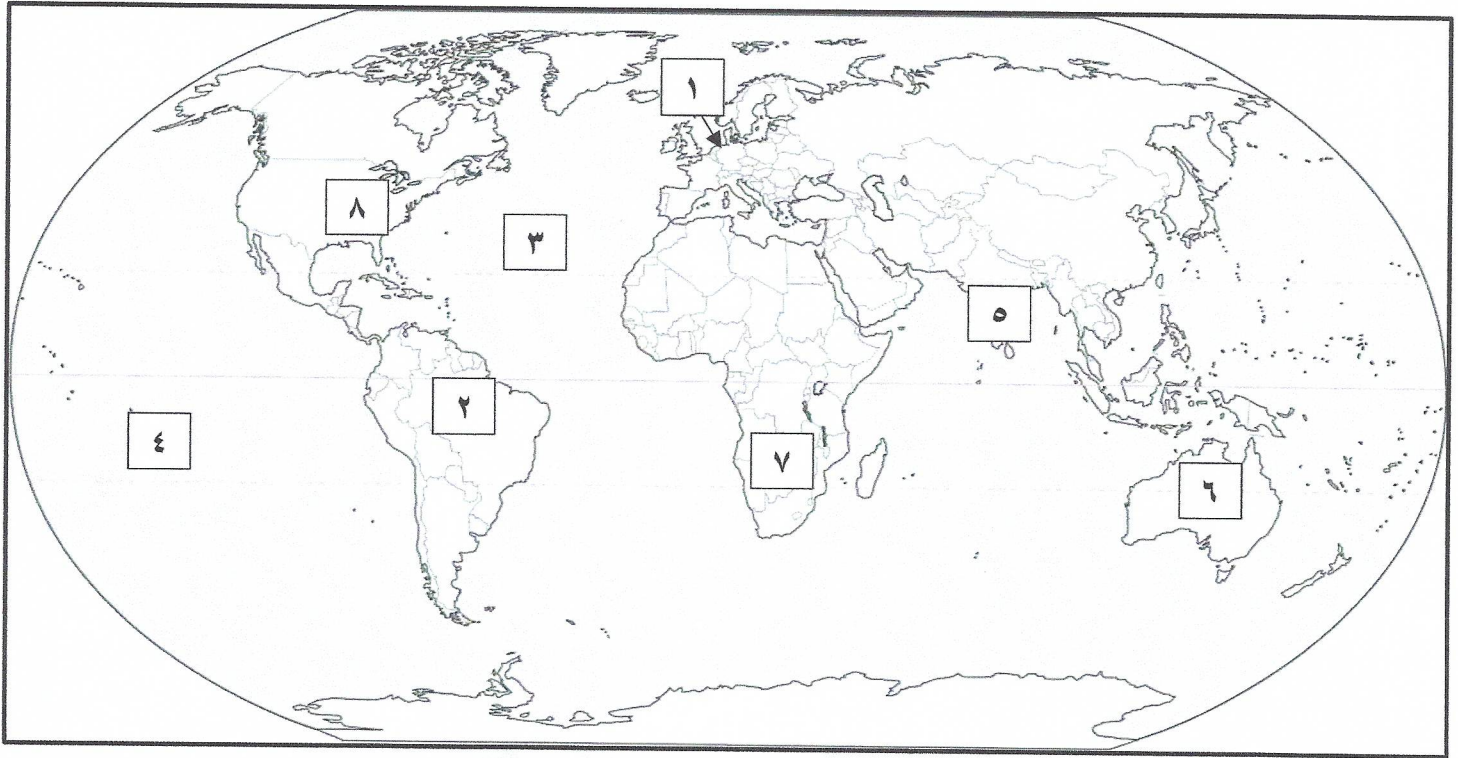
ص ١٣٣

ب- صنف الدول التالية والتي شاركت في الحرب العالمية الثانية حسب موقعها في الجدول : درجة لكل نقطة
 $1 \times 5 = 5$ درجات

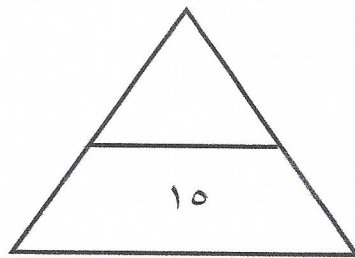
(ألمانيا - بريطانيا - اليابان - فرنسا - الولايات المتحدة) ص ١٢٤

دول المحور	دول الحلفاء
ألمانيا - اليابان	بريطانيا - فرنسا - الولايات المتحدة

ج- أمامك خريطة العالم - أكتب الرقم الدال على العبارات التالية: درجة لكل نقطة $1 \times 5 = 5$ درجات



- ١- ثاني أكثر البلدان في العالم من حيث التعداد السكاني يحمل على الخريطة الرقم. (٥) ص ٩٠
- ٢- المحيط الأطلسي يحمل على الخريطة الرقم. (٣) ص ٧٩
- ٣- محكمة العدل الدولية تقع في الدولة التي تحمل على الخريطة الرقم. (١) ص ١٢٨
- ٤- نهر الأمازون يحمل على الخريطة الرقم. (٢) ص ٨١
- ٥- صحراء كلاهاري تحمل على الخريطة الرقم. (٧) ص ٨٠



- السؤال الثاني: ويتكون من (أ - ب - ج):

أ- أكتب مدلولات الصور التالية: درجة لكل نقطة $١ \times ٥ = ٥$ درجات



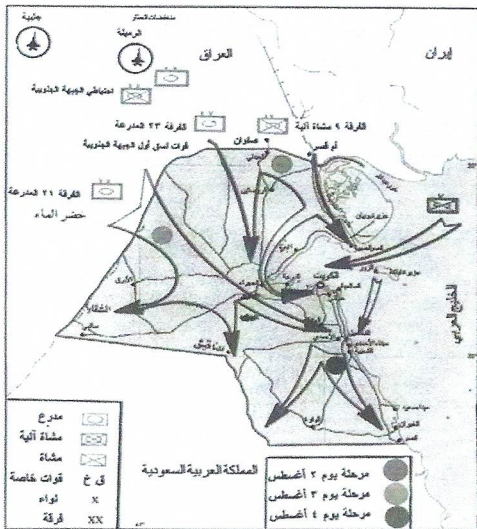
فاسكو دي جاما ص ٨٩



شعار هيئة الأمم المتحدة ص ١٢٨



صخرة استراليا الضخمة ص ٨٥



لينين ص ١٢٢

تابع امتحان الكويت و العالم - للصف التاسع - الفترة الدراسية الثانية - العام الدراسي ٢٠١٧/٢٠١٨م

ب- ظلل الحرف (أ) إذا كانت العبارة صحيحة والحرف (ب) إذا كانت العبارة غير الصحيحة فيما يلي:

درجة لكل نقطة $٥ \times ١ = ٥$ درجات

(ب)	(أ)	العبارة
		١- يقصد بالإدخار توظيف الفائض من الأموال أو النقود الناتج عن دخل الدولة. ص ١٠٨
		٢- أقيمت قنبلتين ذريتين على مدينتي هيروشيما وناجازاكي سنة ١٩٥٤م. ص ١٢٥
		٣- مخترع الهاتف يسمى ألكسندر غراهام بل. ص ٩٥
		٤- المنظمة الاقليمية لحماية البيئة البحرية مقرها دولة الكويت. ص ١٤٦
		٥- الفاشية في إيطاليا بزعامة موسوليني. ص ١٢٢

ج- ضع خطا تحت الخيار الصحيح من بين الخيارات التي تلي كل عبارة: درجة لكل نقطة $٥ \times ١ = ٥$ درجات

١- يقصد بمجموع معدل النمو الطبيعي وغير الطبيعي: ص ٨٣

(معدل النمو السكاني - عدد السكان - الكثافة السكانية - معدل النمو الطبيعي)

٢- إقتصرت مساعدات الصندوق الكويتي للتنمية الاقتصادية على البلاد العربية حتى عام: ص ١٤٤

(١٩٦٤م - ١٩٦٩م - ١٩٧٠م - ١٩٧٤م)

٣- بلغ مجموع الدول المشتركة في الحرب العالمية الثانية حوالي: ص ١٢٤

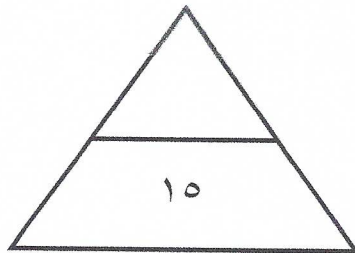
(٦٠ دولة - ٦١ دولة - ٦٢ دولة - ٦٣ دولة)

٤- يقصد بها النهوض بمختلف المجالات البشرية والانسانية في المجتمع: ص ١١٠

(التعاون - التنمية الاجتماعية - التكافل الاجتماعي - العدالة الاجتماعية)

٥- أصغر قارات العالم مساحة: ص ٧٩

(استراليا - أوروبا - أفريقيا - آسيا)



تابع امتحان الكويت و العالم - للصف التاسع - الفترة الدراسية الثانية - العام الدراسي ٢٠١٧/٢٠١٨م

- السؤال الثالث: ويتكون من (أ - ب - ج):

أ- أكتب فيما يلي: يكتفى بنقطتين (٢ × ٤ = ٨ درجات)

١- أنشطة الصندوق الكويتي للتنمية الاقتصادية. ص ١٤٤

- تقديم القروض و الضمانات للدول النامية.
- تقديم المنح على سبيل المعونة الفنية.

٢- أهم آثار الناتجة عن تآكل طبقة الأوزون. ص ١٣٤

- ارتفاع درجة حرارة الجو المحيط بالكرة الأرضية.
- ارتفاع الإصابة بالأمراض الجلدية، وأمراض العيون.
- إتلاف الغطاء النباتي وانخفاض إنتاجية المحاصيل الزراعية.

٣- أهداف هيئة الأمم المتحدة. ص ١٢٧

- المحافظة على السلام والأمن في العالم.
- تنمية العلاقات الودية بين الدول.

٤- أهم العوامل المؤثرة في تشكيل الرأي العام. ص ١٠٦

- وسائل الإعلام المختلفة.
- القيم.

ب- قارن بين استراليا و الهند حسب المطلوب في الجدول التالي: ص ٨٧ / ٩١ ٤ درجات

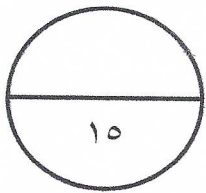
وجه المقارنة	استراليا	الهند
أهم الصادرات يكتفى بنقطتين	السلع المصنعة - المنتجات الزراعية - المعادن - الوقود الحفري درجة = $2 \times \frac{1}{2}$	المنتجات الزراعية - المنسوجات - الأحجار الكريمة - المجوهرات درجة = $2 \times \frac{1}{2}$
سنة الاستقلال	١٩٤٢م درجة واحدة	١٩٤٧م درجة واحدة

ج- عرف ما يلي: درجة لكل نقطة $1 \times 3 = 3$ درجات

١- الأوقيانوسيا: قارة استراليا والجزر المحيطة بها. ص ٨٥

٢- المادة الخام: هي كل مادة يمكن إعادة تشكيلها وتصنيعها بما يحقق للإنسان فوائد أكبر منها. ص ٩٤

٣- الكشوف الجغرافية: هي الرحلات التي قام بها الأوروبيون لأكتشاف عوالم جديدة. ص ١١٥



تابع امتحان الكويت و العالم - للصف التاسع - الفترة الدراسية الثانية - العام الدراسي ٢٠١٧/٢٠١٨م

- السؤال الرابع: ويتكون من (أ - ب - ج):

أ- علل لما يلي: يكتفى بنقطتين (٨=٤×٢ درجات)

١- يعتبر النفط والغاز الطبيعي مادة إستراتيجية في عصرنا الحاضر. ص ١٣٠

- توفرهما بكميات كبيرة في مناطق محددة.
- سهولة نقلهما وتخزينهما.
- يعتبران مادتان هامتان وقت السلم والحرب.

٢- قيام الحرب العالمية الأولى. ص ١١٦

- زيادة المنافسة بين الدول الأوروبية من أجل السيطرة على منابع الثروات الطبيعية في الدول الأخرى.
- الصراع حول المستعمرات في قارتي آسيا وأفريقيا.
- السبب المباشر للحرب هو قيام طالب صربي باغتيال ولي عهد النمسا في مدينة سراييفو عاصمة البوسنة.

٣- مساهمة الكويت في حل المشاكل التي تواجه بعض دول العالم. ص ١٤٤

- نتيجة للمركز المالي الذي تحتله دولة الكويت بعدما أنعم الله عليها بالثروة الناتجة من عائدات النفط.
- ونظرا لأن الكويت من الدول المحبة للسلام.

٤- تمكن اليابانيون من زراعة الأرز في شمال جزيرة هوكايدو حيث المناخ المعتدل البارد. ص ٩٣

- باستخدام وسائل التدفئة للتربة.
- استنباط سلالات من البذور.

ب- فرق بين كلا مما يلي:

المنظمة الإقليمية ص ١٤٣ درجة واحدة	المنظمات الدولية ص ١٢٧ درجة واحدة
مجموعة من الدول تقع في منطقة جغرافية معينة من العالم تنشأ بينها علاقات تدعو إلى تكوين منظمة للتعاون فيما بينها في سبيل حل مشاكلها.	هي هيئة يشترك فيها عدد من الدول للقيام بمجموعة من الأعمال ذات الأهمية المشتركة.
الدكتاتورية ص ١٢٣ درجة واحدة	الديمقراطية ص ١٠٤ درجة واحدة
هي شكل من أشكال الحكم تكون فيه السلطة مطلقة في يد فرد واحد (دكتاتور) دون التقيد بالدستور أو القوانين.	هي كلمة يونانية تعني شكل من أشكال السلطة يكون الحكم بمقتضاه بيد الشعب.

ج- شاهد الصورة التي أمامك ثم أجب عن الأسئلة التي تليها: ص ١٤٣



١- ضع عنوانا مناسباً للصورة؟ درجة واحدة

- رفع علم الكويت في هيئة الأمم المتحدة. أو ما يراه المصحح.

٢- في أي عام انضمت دولة الكويت إليها؟ درجة واحدة

- عام ١٩٦٣م.

٣- ما موقفها من الغزو العراقي على دولة الكويت؟ ص ١٤٩ درجة واحدة

- كان لهيئة الأمم المتحدة متمثلة في مجلس الأمن دوراً فعالاً في إصدار عدة قرارات حاسمة بشأن الاحتلال العراقي وتأكيداً للشرعية الدولية ومبادئ القانون الدولي التي كفلها ميثاق هيئة الأمم المتحدة.

انتهت الأسئلة مع تمنياتنا لكم بالتوفيق ،،

