

تم تحميل هذا الملف من موقع المناهج الكويتية



منطقة الفروانية التعليمية

الملف نموذج إجابة اختبار منطقة الفروانية التعليمية

موقع المناهج ← المناهج الكويتية ← الصف السابع ← اجتماعيات ← الفصل الثاني

روابط مواقع التواصل الاجتماعي بحسب الصف السابع



روابط مواد الصف السابع على تلغرام

[الرياضيات](#)

[اللغة الانجليزية](#)

[اللغة العربية](#)

[التربية الاسلامية](#)

المزيد من الملفات بحسب الصف السابع والمادة اجتماعيات في الفصل الثاني

<a href="#">مذكرة موضوعية محلولة</a>	1
<a href="#">حل الكتاب</a>	2
<a href="#">حل الوحدة الرابعة في مادة الاجتماعيات</a>	3
<a href="#">بنك اسئلة التربية سابع</a>	4
<a href="#">مراجعات الصف السابع</a>	5

تم التحميل من شبكة ياكويت التعليمية



Telegram:  
ykuwait\_net\_home

موقع  
المنهج الكويتية  
almanahj.com/kw





نموذج الإجابة

السؤال الأول ( الموضوعي ) ويتكون من ( أ - ب - ج - د - هـ - و ) : ( لكل إجابة درجة )

( أ ) اختر الخيار الصحيح من بين الخيارات التي تلي كل عبارة بوضع خط تحتها:

١- الدولة العربية الأكثر سكاناً في الوطن العربي : ص ١٠٠

أ - سوريا      ب - ليبيا      ج - الجزائر      د - مصر

٢- تبلغ نسبة المساحة المزروعة في الوطن العربي من المساحة القابلة للزراعة حوالي : ص ١١٦

أ - ٣٦%      ب - ٤٦%      ج - ٥٦%      د - ٦٦%  
موقع  
الكويتية  
almanahj.com/kw

٣- الدولة التي تحتل المرتبة الأولى عربياً في إنتاج معدن الفوسفات : ص ١٣٢

أ - الكويت      ب - المغرب      ج - قطر      د - الصومال

٤- الصناعات التي تعد الأولى في العالم في استخدام مواد أولية وتعتمد على المجهود البشري : ص ١٤٣

أ - الحرفية      ب - التحويلية      ج - التعدين      د- التجميعية

٥- العام الذي تأسس فيه الصندوق الكويتي للتنمية الاقتصادية العربية : ص ١٧٩

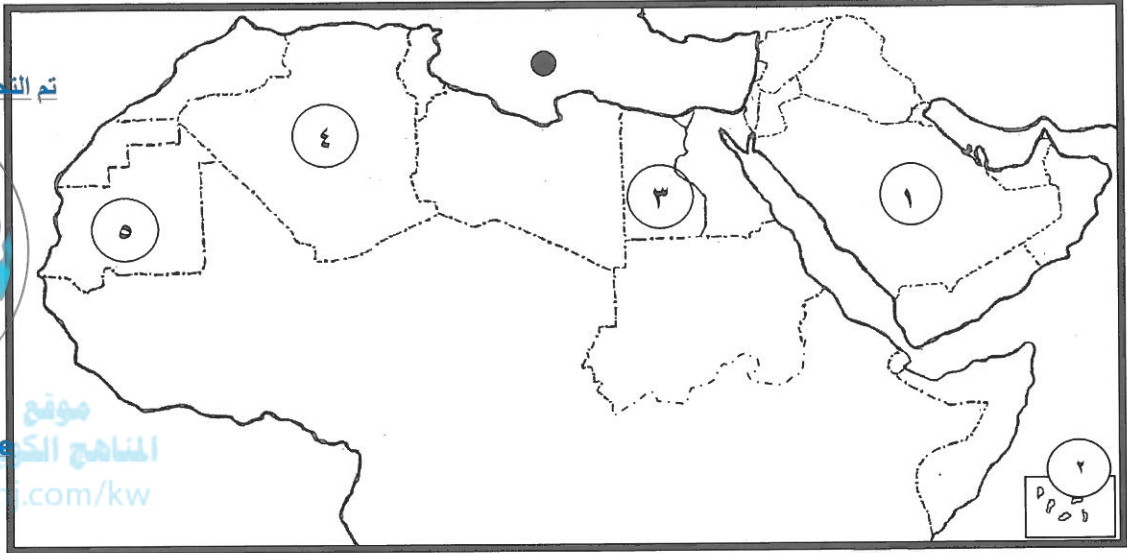
أ - ١٩٤١م      ب - ١٩٥١م      ج - ١٩٦١م      د - ١٩٧١م

(ب) صنف الكلمات مابين القوسين حسب موقعها في الجدول التالي :

ص ١١٤ ( العنب - البن - الموز - الشعير - التمور )

الدولة الأولى في الإنتاج	الصومال	السعودية	سوريا	اليمن	المغرب
الغلة الزراعية	الموز	التمور	العنب	البن	الشعير

ج) لاحظ خريطة الوطن العربي ثم أجب عن الأسئلة التي تليها :



تم التحميل من شبكة ياكويت التعليمية



Telegram: ykuwait\_net\_home  
المنهج الكويتي  
almanah.com/kw

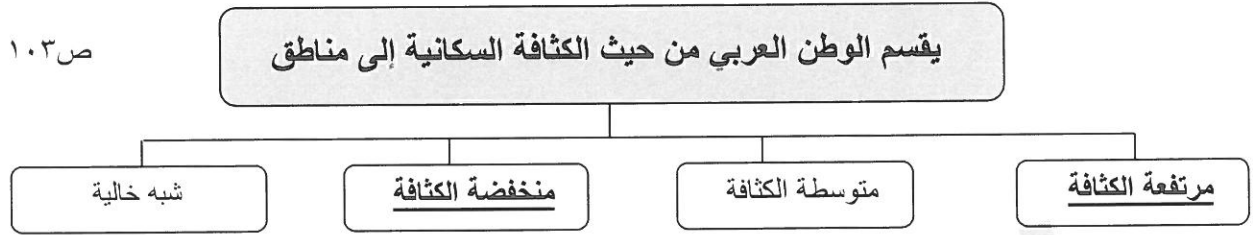
- ١٠٠ ص - أقل الدول العربية سكاناً يمثلها الرقم (٢..)
- ١٠٠ ص - أكبر الدول العربية مساحة في الجناح الآسيوي يمثلها الرقم .. (١)...
- ١١٤ ص - الدولة العربية الأولى في إنتاج القطن يمثلها الرقم ..(٣)..
- ١٣٢ ص - الدولة العربية الأولى في إنتاج معدن الحديد يمثلها الرقم ... (٥)...
- ١٣٣ ص - الشكل ( ● ) على الخريطة يرمز إلى بحر يسمى ..... (البحر المتوسط).....

د) أكتب المفهوم أو المصطلح الدال على العبارات التالية :-

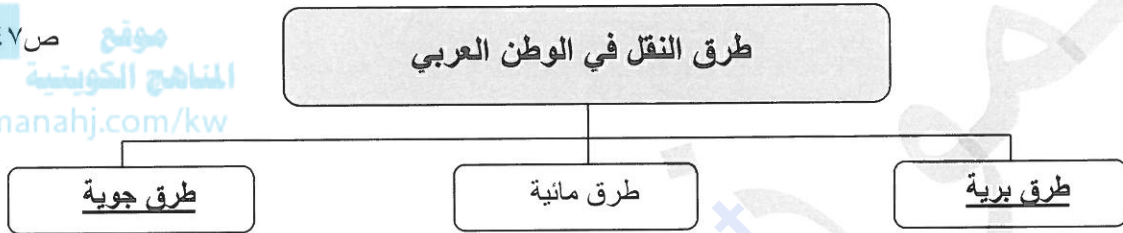
- ١- ( الإحصاء الحيوي ) تسجيل المواليد الوفيات وحالات الزواج والطلاق . ص ٩٩
- ٢- ( التبادل التجاري ) عمليتا التصدير والاستيراد بين الدول . ص ١٥١
- ٣- ( الغلات النقدية ) الغلات التي تزرع بغرض التجارة والحصول على نقد. أو ( غلات صناعية / غلات تجارية ) ص ١١٣
- ٤- ( التنمية ) التطور والتطوير وهي عملية تتطلب التخطيط والمشاركة من الجميع. ص ١٧٢
- ٥- ( التضامن العربي ) العمل على توثيق الصلات بين الدول والشعوب العربية وحماية مصالحها. ص ١٧٧



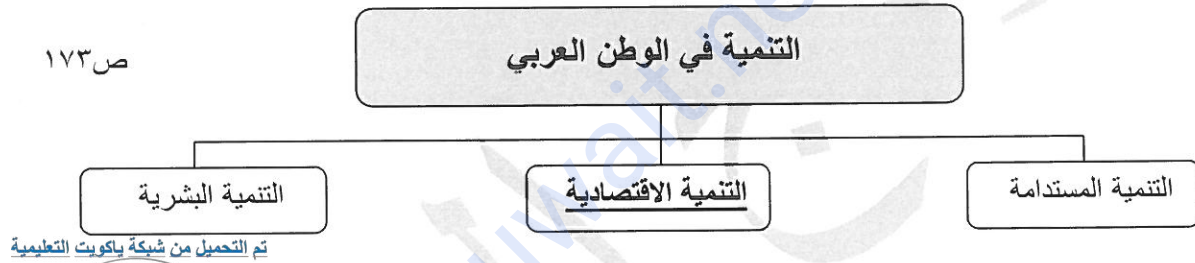
هـ) أكمل المخططات السهمية التالية :



١٤٧ ص  
موقع  
المناهج الكويتية  
almanahj.com/kw



١٧٣ ص



و) أكمل العبارات التالية بما يناسبها مما درست :

- ١- يبلغ عدد دول الوطن العربي ..... ٢٢ ..... دولة
- ٢- الهجرة التي تكون من دولة إلى دولة أخرى تسمى بالهجرة ... الخارجية ...
- ٣- الغاز الناتج عن عوادم السيارات ويؤدي إلى ارتفاع متزايد في حرارة الأرض اسمه ثاني أكسيد الكربون . ص ١٦٨
- ٤- الصناعة التي تقتصر على استخراج مصادر الطاقة كالنفط والغاز والفحم والمعادن تسمى...الاستخراجية. ص ١٤١
- ٥- صاحب مبادرة عقد القمة العربية الاقتصادية والتنمية والاجتماعية عام ٢٠٠٩ م اسمه .الشيخ صباح الأحمد ص ١٨٦

السؤال الثاني : يتكون من : [ أ ، ب ]

( أ ) فرّق بين كل من : ( ٤ درجات / لكل تعريف درجة )

الزيادة غير الطبيعية	ص ١٠٦	الزيادة الطبيعية	ص ١٠٦
- الزيادة الناتجة عن طريق الهجرة . ( درجة )		- الفرق بين معدل المواليد ومعدل الوفيات. ( درجة )	
الموارد البشرية	ص ١٠٩	الموارد الطبيعية	ص ١٠٩
- ترتبط بالسكان من حيث أعدادهم وتوزيعهم ومناسبة أعدادهم لمساحة الأرض التي يستغلونها. ( درجة )		- الثروات التي منحها الله لإقليم من دون أن يكون للإنسان أي دور في وجودها. ( درجة )	

( ب ) أجب عما يلي: - ( ٦ درجات )

١- علّل - تحتل الأغنام العربية مكاناً مهماً ضمن الثروة الرعوية . ( درجتين ويكتفى بنقطتين ) ص ١١٨

تم التحميل من شبكة الكويت التعليمية



Telegram:  
ykuwait\_net\_home

- الأكثر انتشاراً في المراعي العربية .
- أكثر الحيوانات المستأنسة والملائمة لمراعي الوطن العربي.
- تحملها الجفاف والانتقال
- لأهمية منتجاتها بالنسبة للسكان.
- لأنها مصدر أساسي من مصادر الثروة القومية.

٢- عدّد - أهداف جامعة الدول العربية . ( درجتين ويكتفى بنقطتين ) ص ١٧٧

- توثيق العلاقات بين الدول الأعضاء.
- تنسيق التعاون في ما بينها للحفاظ على استقلالها وسيادتها.
- النظر بصفة عامة في شؤون ومصالح الدول العربية .

٣- اكتب - أمثلة عن أنواع الصناعات التحويلية في الوطن العربي . ( درجتين ويكتفى بنقطتين ) ص ١٤٢


- الصناعة الغذائية - صناعة المنسوجات - صناعة الخشب والورق - صناعة مشتقات النفط المكررة
- الصناعات البتروكيمياوية - الصناعات الإنشائية .

السؤال الثالث ويتكون من ( أ - ب ) :

( أ ) لاحظ الصورتان أمامك ثم أجب عن الأسئلة التي تليها : ص ١٦٢



( ٢ )



( ١ )

almanahj.com/kw

١- اكتب - أسباب التصحر لكل من :  
- الصورة رقم ( ١ ) : بشرية / الرعي الجائر  
- الصورة رقم ( ٢ ) : طبيعية (درجتين)

٢- اقترح - حلاً لمشكلة التصحر في الصورة رقم ( ٢ ) . ص ١٦٢ ( درجتين ويكتفى بنقطتين )  
- اعتمدت خطط استراتيجية / تكثيف العمل الزراعي وتطويره / اعتماد التكنولوجيا الحديثة / تأصيل البذور / استعمال الأسمدة المناسبة . / زيادة الإنتاج عن طريق الأساليب العلمية . / زيادة المساحات المزروعة . / إقامة مشروعات الري . ( حسب ما يراه المصحح )

( ب ) قارن بين كل من :

أوجه المقارنة	منظمة الدول المصدرة للنفط (أوبك) ١٣٤	منظمة الأقطار العربية المصدرة للنفط (أوابك) ص ١٣٥
سنة الانشاء	عام ١٩٦٠م (درجة)	عام ١٩٦٨م (درجة)
مقرها	فيينا (درجة)	الكويت (درجة)
أجهزتها	المؤتمر - مجلس المحافظين - الأمانة العامة (درجة ويكتفى بنقطة فقط)	المجلس الوزاري - المكتب التنفيذي - الأمانة العامة (درجة ويكتفى بنقطة فقط)



السؤال الرابع : ويتكون من ( أ - ب )

(أ) إقرأ الفقرة التالية ثم أجب عما يليها من أسئلة : (ص ١٦٦)

يصيب **التلوث** عناصر البيئة من عدة مصادر للملوثات : صناعية ، زراعية ، منزلية ، ومن أكثر هذه الملوثات الغازات السامة الصادرة من محطات التحلية ودخان المصانع وعوادم السيارات ، وكذلك الملوثات الصادرة عن البقايا الصلبة وتراكم النفايات والمواد البلاستيكية .

( درجتين )

موقع  
المنهج الكويتية  
a)jz.com/kw (درجتين)

١- عرف ما تحته خط في الفقرة السابقة .  
( التلوث ) : الضرر الذي يلحق بالتربة والهواء والماء .

٢- استخراج من الفقرة أسباب التلوث : -

- البقايا الصلبة - تراكم النفايات والمواد البلاستيكية  
- الغازات السامة - دخان المصانع - عوادم السيارات

( ب ) عدد لكل من : ٦ درجات ( يكتفى بنقطتين )

( درجتين ويكتفى بنقطتين ) ص ١٣٩

١- المقومات البشرية للصناعة في الوطن العربي .

- رؤوس الأموال .
- الأيدي العاملة .
- المهارة والخبرة
- السوق.
- وسائل النقل.

( درجتين ويكتفى بنقطتين ) ص ١٨٦

٢- أهداف القمة الاقتصادية التنموية العربية عام ٢٠٠٩ م.

- إنشاء بنك إسلامي عربي لتمويل المشاريع التنموية لتقليل من معدلات الفقر
- القضاء على البطالة والفقر بتوفير فرص العمل.
- الاستثمار الاقتصادي بين الدول وتقوية التبادل التجاري.
- الاعتناء بالعنصر البشري والتنمية المستدامة .

( درجتين ويكتفى بنقطتين ) ص ١٦٤

٣- أسباب تدني وفرة المياه في الوطن العربي .

- النمو السريع للسكان .
- ٥٠٪ من الموارد المائية في العالم العربي تأتي من خارج حدوده .
- استخدام الطرق التقليدية في استغلال المياه ( مثل الري بالغمر ) .
- الشبكات المؤهلة لنقل المياه شبكات قديمة .
- افتقار الدول العربية إلى برامج لإدارة المياه ولا تستخدم الأدوات الاقتصادية لترشيد استهلاك المياه .

تم التحميل من شبكة ياكويت التعليمية



Telegram:  
ykuwait\_net\_home