

تم تحميل هذا الملف من موقع المناهج الكويتية



مدرسة الجهراء الأهلية الإبتدائية

الملف مراجعة الاختبار الأول لدرس القمر ودورانه حول الأرض

[موقع المناهج](#) ← [المناهج الكويتية](#) ← [الصف الخامس](#) ← [علوم](#) ← [الفصل الثاني](#)

روابط مواقع التواصل الاجتماعي بحسب الصف الخامس



روابط مواد الصف الخامس على تلغرام

[الرياضيات](#)

[اللغة الانجليزية](#)

[اللغة العربية](#)

[التربية الاسلامية](#)

المزيد من الملفات بحسب الصف الخامس والمادة علوم في الفصل الثاني

مراجعة	1
نموذج اختبار فصل ثاني	2
نموذج اجابة	3
مذكرة شاملة	4
انفوجرافيك للاختبار الاول	5

١. حركة القمر
٢. تأثير حركة القمر على الأرض
٣. خسوف القمر وكسوف الشمس

السؤال الاول : أكتبى بين القوسين كلمة صحيحة للعبارة الصحيحة وكلمة خطأ أمام العبارة الغير صحيحة:



١. قمر الأرض أكبر أقمار المجموعة الشمسية . (.....)
٢. تؤثر جاذبية القمر على ماء الأرض. (.....)
٣. القمر جرم سماوي يتبع أحد الكواكب . (.....)
٤. للمد والجزر فوائد عديدة. (.....)
٥. لخسوف القمر أضرار . (.....)

السؤال الثاني : اختري الأجابة الصحيحة بوضع علامة (√) في المربع المقابل لها:

١. إذا كان وجه القمر المواجه للأرض كله مضاء فإنه يكون
 بدر نصف بدر هلال محاق
٢. يحدث المد المنخفض عندما يكون وجه القمر
 بدر محاق نصف بدر هلال
٣. إذا كان وجه القمر المواجه للأرض كله مظلم فإنه يكون
 محاق نصف بدر هلال بدر
٤. يحدث كسوف الشمس عندما يقع القمر بين الأرض و
 الشمس زحل عطارد نبتون





السؤال الثالث : اقرأى العبارات التالية وصوبى ما تحته خط:

١. للقمر ٧ حركات.

.....

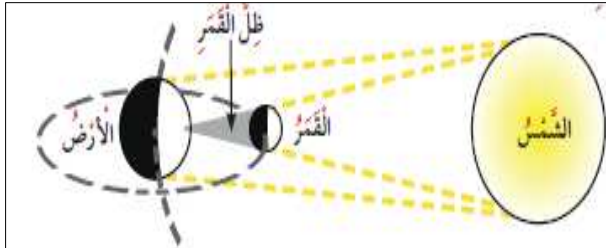
٢. يتم القمر دورة كاملة حول الأرض كل ٤٥ يوم.

.....


٣. الخسوف الجزئي يحجب القمر كلياً .

.....

السؤال الرابع : ادرسى الأشكال التالية وأكملى المطلوب :

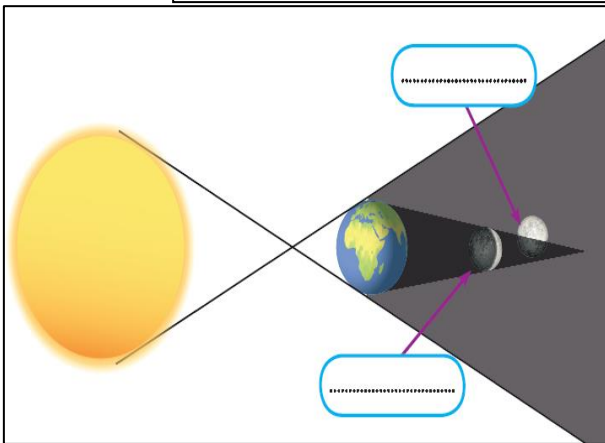


ظاهرة
حيث يحجب القمر




نوع المد
حيث تقع الأرض والقمر والشمس على

أكتبي نوع خسوف القمر في الحالتين



أكتبي أسماء أوجه القمر



١. حركة القمر
٢. تأثير حركة القمر على الأرض
٣. خسوف القمر وكسوف الشمس

السؤال الاول : أكتبى بين القوسين كلمة صحيحة للعبارة الصحيحة وكلمة خطأ أمام العبارة الغير صحيحة:



١. قمر الأرض أكبر أقمار المجموعة الشمسية . (..صحيحة..)
٢. تؤثر جاذبية القمر على ماء الأرض. (...صحيحة...)
٣. القمر جرم سماوي يتبع أحد الكواكب . (...صحيحة...)
٤. للمد والجزر فوائد عديدة. (..صحيحة..)
٥. لخسوف القمر أضرار . (....خطأ....)

السؤال الثاني : اختري الأجابة الصحيحة بوضع علامة (√) في المربع المقابل لها:

١. إذا كان وجه القمر المواجه للأرض كله مضاء فإنه يكون بدر نصف بدر هلال محاق
٢. يحدث المد المنخفض عندما يكون وجه القمر بدر محاق نصف بدر هلال
٣. إذا كان وجه القمر المواجه للأرض كله مظلم فإنه يكون محاق نصف بدر هلال بدر
٤. يحدث كسوف الشمس عندما يقع القمر بين الأرض و الشمس زحل عطارد نبتون





السؤال الثالث : اقرأى العبارات التالية وصوبى ما تحته خط:

١. للقمر ٧ حركات.

..... ٣ حركات

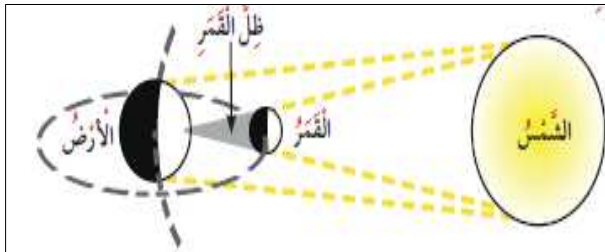
١. يتم القمر دورة كاملة حول الأرض كل ٤٥ يوم.

..... 29. $\frac{1}{2}$


٣. الخسوف الجزئي يحجب القمر كلياً .

..... جزئياً

السؤال الرابع : ادرسى الأشكال التالية وأكملى المطلوب :

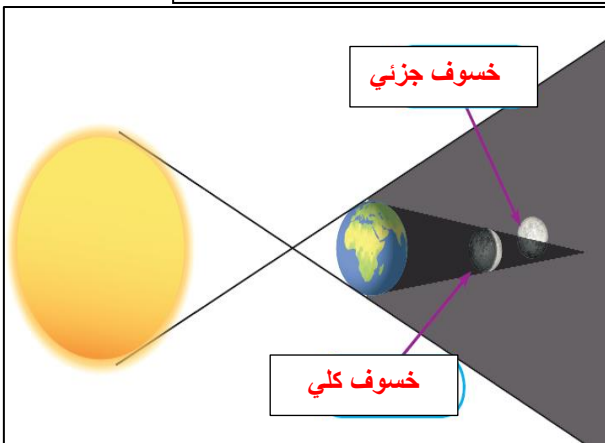


١. ظاهرة خسوف الشمس
حيث يحجب القمر .. ضوء الشمس عن الأرض ..



نوع المد ... عالي ..
حيث تقع الأرض والقمر والشمس على . استقامة واحدة ..

أكتبى نوع خسوف القمر في الحالتين



أكتبى أسماء أوجه القمر

