

تم تحميل هذا الملف من موقع ملفات الكويت التعليمية



[com.kwedufiles.www//:https](https://www.kwedufiles.com)

*للحصول على أوراق عمل لجميع الصفوف وجميع المواد اضغط هنا

* للحصول على أوراق عمل لجميع مواد الصف الخامس اضغط هنا

<https://kwedufiles.com/5>

* للحصول على جميع أوراق الصف الخامس في مادة رياضيات وجميع الفصول, اضغط هنا

<https://kwedufiles.com/5math>

* للحصول على أوراق عمل لجميع مواد الصف الخامس في مادة رياضيات الخاصة بـ الفصل الأول اضغط هنا

<https://www.kwedufiles.com/5math1>

* لتحميل كتب جميع المواد في جميع الفصول للصف الخامس اضغط هنا

<https://www.kwedufiles.com/grade5>

[bot_kwlinks/me.t//:https](https://t.me/bot_kwlinks)

للحصول على جميع روابط الصفوف على تلغرام وفيسبوك من قنوات وصفحات: اضغط هنا

الروابط التالية هي روابط الصف الخامس على مواقع التواصل الاجتماعي

مجموعة الفيسبوك

صفحة الفيسبوك

مجموعة التلغرام

بوت التلغرام

قناة التلغرام

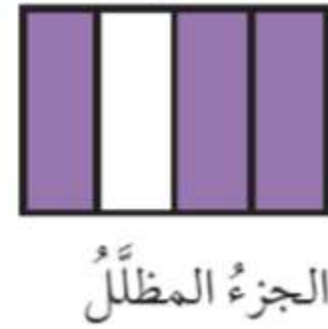
رياضيات على التلغرام

المهارة : تعرف الكسور الاعتيادية و قراءتها و كتابتها و تمثيلها على خط الأعداد

الكسُرُ قَدْ يُمَثَّلُ جُزْءًا مِنَ الكُلِّ، أَوْ جُزْءًا مِنْ مَجْمُوعَةٍ. وَيَدُلُّ البَسْطُ عَلَى عَدَدِ الأجزاء، وَيَدُلُّ المَقَامُ عَلَى عَدَدِ أَجْزَاءِ الكُلِّ.

تمرين :

اكتب الكسر الذي يمثل الجزء المطلوب تحت كل شكل في ما يلي :



المهارة : المقارنة والترتيب و التكافؤ بين الكسور (الاعتيادية - العشرية)

أولاً الكسور المتكافئة وهي الكسور التي تمثل الكمية نفسها

ويمكننا إيجاد الكسور المكافئة لكسر ما عن طريق الضرب أو القسمة

مثال إيجاد كسور متكافئة

أوجد ثلاثة كسور متكافئة لـ $\frac{4}{8}$

لإيجاد كسور متكافئة، بإمكانك أن تستعمل الضرب أو القسمة.

الطريقة (٢) : القسمة		الطريقة (١) : الضرب	
اقسم البسط	$\frac{2}{4} = \frac{2 \div 2}{4 \div 2}$	اضرب البسط	$\frac{8}{16} = \frac{2 \times 4}{2 \times 8}$
والمقام على	$\frac{1}{2} = \frac{2 \div 2}{2 \div 2}$	والمقام في العدد	
العدد نفسه (٢)		نفسه (٢)	

إذن $\frac{1}{2}$ ، $\frac{2}{4}$ ، $\frac{8}{16}$ ثلاثة كسور متكافئة كلٌّ منهم الكسر $\frac{4}{8}$

تمرين :

اوجد كسراً مكافئاً لكل مما يأتي :

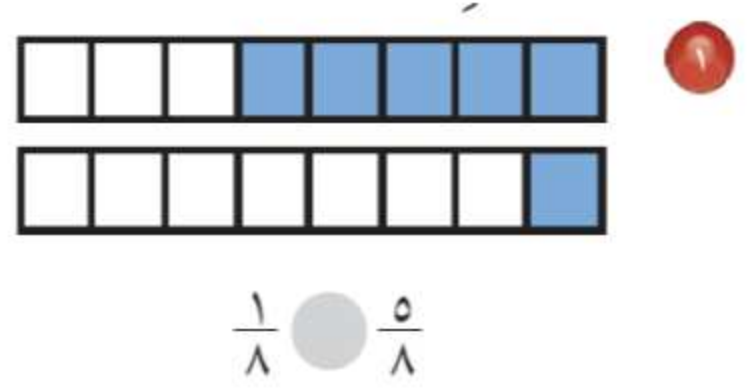
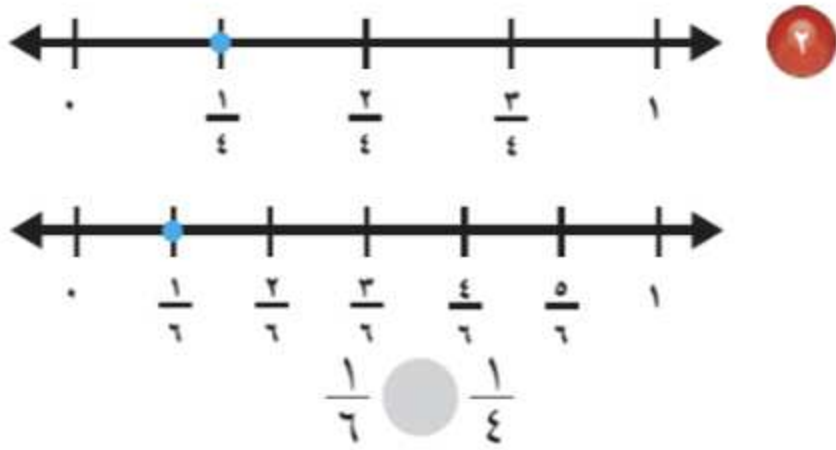
$$= \frac{1}{10}$$

$$= \frac{4}{6}$$

$$= \frac{1}{4}$$

ثانياً مقارنة الكسور الاعتيادية ويمكن المقارنة بينها باستعمال النماذج أو خط الأعداد أو الكسور المتكافئة

تمرين :



$\frac{3}{4} \circ \frac{3}{6}$

$\frac{1}{2} \circ \frac{3}{4}$

ثالثاً : الكسور العشرية

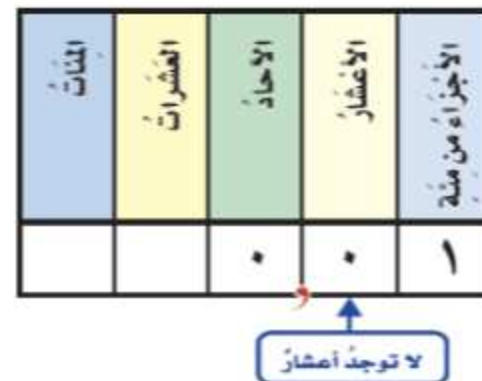
الكسر العشري هو عدد تستعمل فيه القيمة المنزلية و الفاصلة العشرية ليمثل جزءاً من كل

مثال : ما الكسر الذي يمثل الجزء المظلل ؟

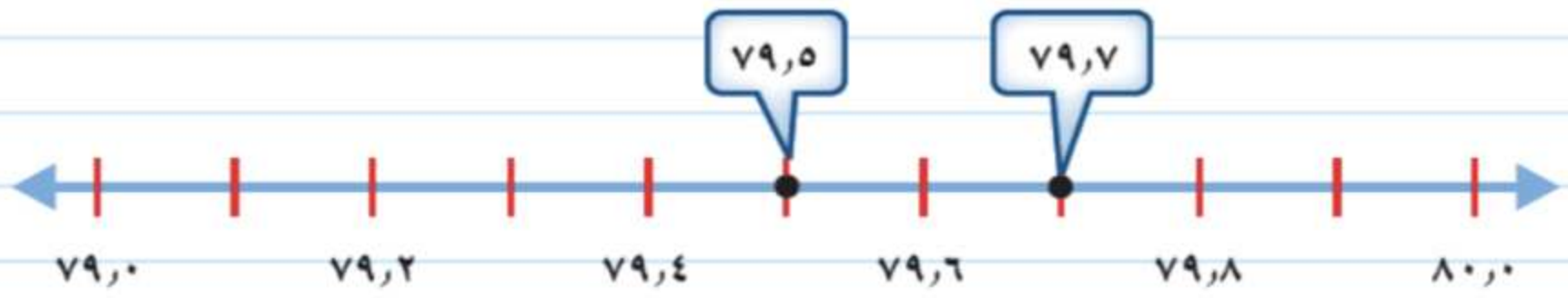
الطريقة (٢) : الكسور العشرية				الطريقة (١) : الكسور الاعتيادية			
الأعشار	الأحاد	العشرات	المئات				
٥	٠			اقرأ: خمسة أعشار.			
				اكتب: $\frac{5}{10}$			
				عدد القطع الزرقاء →			
				عدد القطع كلها →			

وقد تكتب الكسور العشرية بوصفها أجزاء من مئة

تكتب الكسور العشرية بوصفها أجزاء من مئة.



الطريقة (١): خط الأعداد



تقع ٧٩,٧ على يمين ٧٩,٥؛ إذ $٧٩,٥ < ٧٩,٧$

الطريقة (٢): جدول المنازل

ضع الفاصلة العشرية فوق الفاصلة العشرية، ثم قارن أرقام كل منزلة ابتداءً من اليسار.

لاحظ تساوي رقمي العشرات والآحاد. وفي منزلة الأعداد لاحظ أن $٥ < ٧$

إذن ٧٩,٧ أكبر من ٧٩,٥

الأعداد	الآحاد	العشرات
٧	٩	٧
٥	٩	٧

تمرين :

قارن مستعملًا (<, >, =):

٥,٦ ٥,٦٠ ١,٢٠٧ ١٢,٠٧ ١,٦ ١,٢

يتم جمع الكسور العشرية أو طرحها عن طريق ترتيب الفاصلة أولاً ثم اتمام العملية الحسابية كما هو مطلوب إما بالجمع أو الطرح .

مثال :

اجمع $1,5 + 2,3$

الخطوة ٢ :	الخطوة ١ :
<div style="border: 1px solid black; padding: 5px; width: fit-content;"> <p>اجمع الأرقام في كل منزلة، ثم ضع الفاصلة العشرية في مكانها.</p> </div>	<p>رتب الفواصل العشرية بعضها فوق بعض.</p>
$\begin{array}{r} 1,5 \\ + 2,3 \\ \hline 3,8 \end{array}$	$\begin{array}{r} 1,5 \\ + 2,3 \\ \hline \end{array}$

تمرين :

اجمع كلاً مما يلي :

أ - $4,82 + 6,27$

ب - $25,85 + 8,49$

اطرح كلاً مما يلي :

أ - $4,67 - 2,36$

ب - $8,72 - 2,95$

،،، انتهى ،،،