

تم تحميل هذا الملف من موقع المناهج الكويتية



منطقة حولي التعليمية

الملف نموذج أسئلة منطقة حولي التعليمية

موقع المناهج ← المناهج الكويتية ← الصف السابع ← اجتماعيات ← الفصل الأول

روابط مواقع التواصل الاجتماعي بحسب الصف السابع



روابط مواد الصف السابع على تلغرام

[الرياضيات](#)

[اللغة الانجليزية](#)

[اللغة العربية](#)

[التربية الاسلامية](#)

المزيد من الملفات بحسب الصف السابع والمادة اجتماعيات في الفصل الأول

كتاب الطالب في مادة الاجتماعيات للعام الدراسي 2018	1
حل الوحدة الاولى في مادة الاجتماعيات	2
تلخيص رائع في مادة الاجتماعيات	3
حل الوحدة الثانية في مادة الاجتماعيات	4
تلخيص ممتاز في مادة الاجتماعيات	5

امتحان نهلية الفترة الدراسية الأولى
مقرر/ دولة الكويت والوطن العربي
للسف السابع

العام الدراسي: ٢٠٢٣/٢٠٢٤ م
الزمن: ساعة و ٤٥ دقيقة
عدد الاسئلة:



السؤال الأول موضوعي ويتكون من (أ - ب - ج - د - هـ - و) :

(أ) ظل الخيار الصحيح من بين الخيارات التي تلي كل عبارة :

العلم الذي اتضعت فيه جمهورية جزر القمر إلى جامعة الدول العربية:

١٩٩٧م	١٩٩٦م	١٩٩٥م	١٩٩٣م
-------	-------	-------	-------

موقع
المنهج الكويتية
almanahj.com/kw

٢- العلم الذي أنشئت فيه محطة الشويخ لتحلية مياه البحر:

١٩٥٤م	١٩٥٣م	١٩٥٢م	١٩٥١م
-------	-------	-------	-------

٣- أشجار تستخدم في صناعة الفلين:

الماهوجني	الساج	البلوط	المدر
-----------	-------	--------	-------

٤- عدد الشعوب التي سيطرت على بلاد الرافدين خلال تاريخها القديم:

١١	٩	٧	٥
----	---	---	---

٥- الدولة التي يقع فيها جبل مرة:

السودان	الجزائر	مصر	تونس
---------	---------	-----	------

(ب) أكمل العبارات التالية بما يناسبها فيما درست :

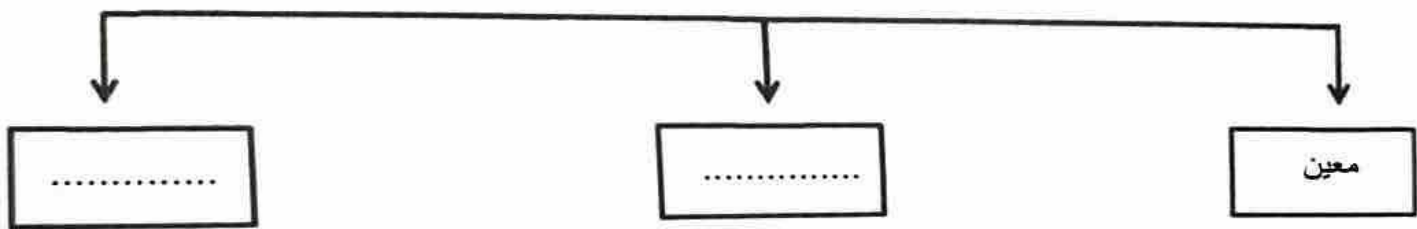
- ١- عرفت حضارة لمون قبل الفتح الإسلامي باسم
- ٢- ملكة اليمن التي ورد ذكرها في القرآن الكريم اسمها
- ٣- النبات الذي ينمو تلقائياً عقب سقوط المطر دون تدخل الإنسان يسمى
- ٤- حالة الجو خلال فترة زمنية طويلة من حيث درجة الحرارة والرطوبة والأمطار والرياح يسمى
- ٥- المياه التي توجد في جوف الأرض (باطن الأرض) تسمى

تابع السؤال الأول :
(ج) صوب ما تحته خط في العبارات التالية :

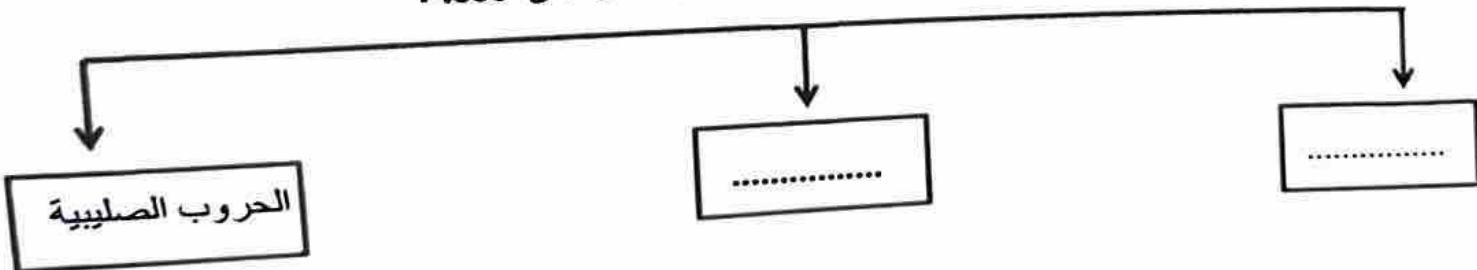
التصويب	العبارة	م
.....	نقطة من الكرة الأرضية يتحدد موقعها بخطوط الطول ودوائر العرض تسمى <u>الموقع النسبي</u> .	١
.....	تهب الرياح الخماسين على <u>المملكة العربية السعودية</u> .	٢
.....	من المنسوجات التي اشتهرت بتصديرها بلاد الرافدين هي المنسوجات <u>القطنية</u> .	٣
.....	وزن الهواء فوق أي مكان يسمى <u>الرطوبة</u> .	٤
.....	الملك البابلي الذي وضع أقدم الشرائع القانونية اسمه <u>فرعون</u> .	٥
.....	تعرف حشائش الاستبس في بلاد المغرب باسم <u>الأبنوس</u> .	٦

(د) أكمل المخططات السهمية التالية:

١- دويلات حضارة جنوب غرب شبه الجزيرة العربية (بلاد اليمن) :



٢- مراكز انتقال الحضارة العربية الإسلامية إلى أوروبا:



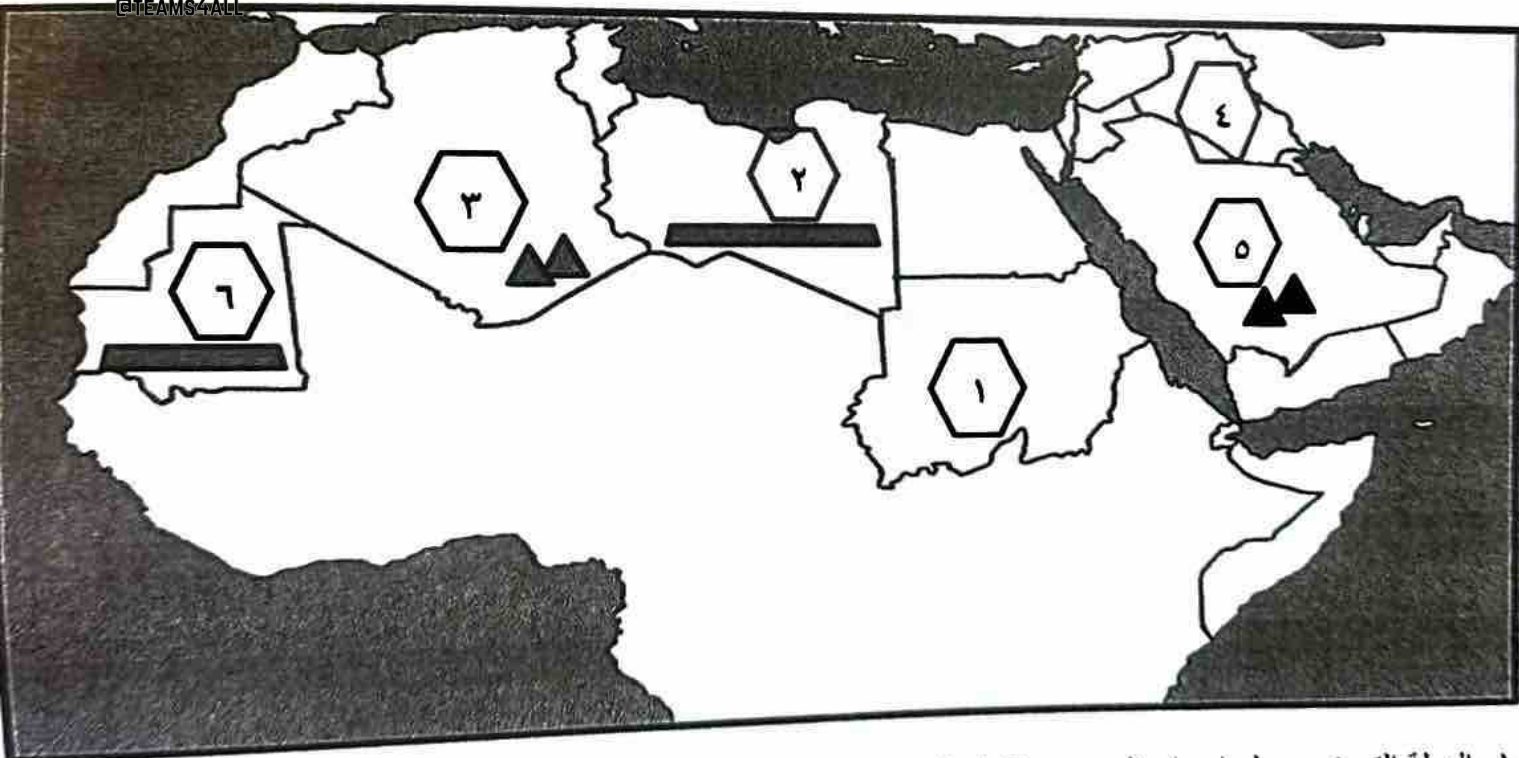
تابع السؤال الأول :

(هـ) صنف الكلمات التالية إلى مكانها المناسب في الجدول الذي يليها :

(صناعة السفن - صناعة الحلوى - الأهرامات - الكتابة المسمارية - حدائق بابل المعلقة - الكتابة الهيروغليفية)

حضارة بلاد الرافدين	الحضارة المصرية القديمة
.....
.....
.....

(و) أمامك خريطة الوطن العربي - أكتب مدلولات الأرقام في العبارات التي تليها :

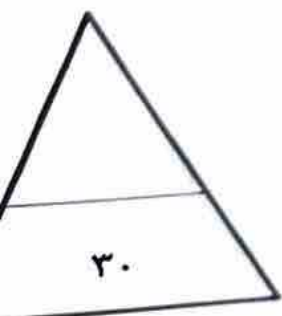


١- الدولة التي تهب عليها رياح الهبوب يمثلها على الخريطة الرقم (.....)

٢- جبل الأحجار يمثلها على الخريطة الرقم (.....)

٣- الدولة التي ظهرت بها حضارة بلاد الرافدين يمثلها على الخريطة الرقم (.....)

٤- هضبة أفريقيا الشمالية (الصحراء الكبرى) يمثلها على الخريطة الرقم (.....)



السؤال الثاني مقالي ويتكون من (أ - ب - ج) :

فرق بين كل مما يلي من حيث التعريف :

المضيق	القناة
.....
.....
الهبشة	الجبل
.....
.....
الحضائن المعتلة (الاستبين)	الحضائن الحارة (السافانا)
.....
.....



ممنه
amanahj.com/kw

أذكر نقطتين حول كل مما يلي :

سائر المياه في الوطن العربي.

عوامل الرئيسية المؤثرة في تنوع النبات الطبيعي في الوطن العربي .

مقومات الأساسية لقيام الحضارات.

علل لما يلي :

درص المصريون القدماء على تخنيط جثث موتاهم.

شتهر سكان بلاد الرافدين بحرفة الزراعة.

الأهمية الجغرافية للوطن العربي

السؤال الثالث مقالي ويتكون من (أ - ب - ج) :

(أ) اقرأ الفقرة التالية ثم أجب عما يليها من أسئلة:

يتمتع الوطن العربي بأهمية اقتصادية كبيرة منذ القدم كم منطقة عبور لحركة الملاحة والتجارة العالمية لأنه يربط بين قارات العالم القديم الثلاث، كما أدى ظهور النفط بكميات كبيرة بمنطقة الخليج العربي وبعض مناطق شمال أفريقيا إلى تزايد هذه الأهمية.

١- استخراج من الفقرة السابقة ما يلي:

أ- الأهمية الاقتصادية للوطن العربي قديماً.

ب- الأهمية الاقتصادية للوطن العربي حديثاً.

٢- عرف ما تحته خط .

(ب) قارن بين كل من :

وجه المقارنة	الديانة اليهودية	الديانة المسيحية	الديانة الإسلامية
النبى المرسل
الكتاب المنزل

(ج) أجب عن الأسئلة التالية : (يكتفى بذكر نقطتين)

١- عدد طرق ترشيد استخدام المياه والمحافظة عليها.

٢- أذكر طرق تكيف النباتات الصحراوية مع البيئة الصحراوية الجافة.

٣- أكتب العوامل التي تؤثر في مناخ الوطن العربي.

انتهت الأسئلة مع تمنياتنا لكم بالنجاح والتوفيق