

تعليم / امتحان الفترة الدراسية الأولى - لتصف الصف المتوسط - لمدارس الكويت ودول الخليج العربية - للعام الدراسي ٢٠٢٣-٢٠٢٤م

السؤال الرابع : (مقال) يتكون من (أ - ب - ج) .

(أ) أقرأ الفقرة التالية ثم أجب عما يليها من أسئلة :

" أعلن قيام مجلس التعاون لدول الخليج العربية في عام ١٩٨١م في مدينة أبوظبي في دولة الإمارات العربية المتحدة ويتخذ من مدينة الرياض مقراً له، وقد جاء إنشاؤه لما بين الدول الأعضاء من علاقات خاصة وصفات مشتركة وأنظمة متشابهة، واقتناعاً بأن التنسيق والتعاون فيما بينها يخدم الأهداف للأمة العربية "

١- ضع عنوان مناسباً للفقرة السابقة .

٢- اذكر اسم المدينة التي يقع فيها مقر مجلس التعاون لدول الخليج العربية .

٣- عدد الصفات المشتركة بين دول مجلس التعاون لدول الخليج العربية .

(ب) عدد اثنين لكل مما يلي :

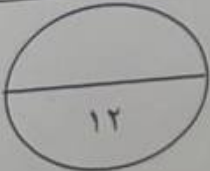
١- وسائل صيد الأسماك في منطقة الخليج العربية قديماً .

٢- العوامل المؤثرة في نشأة الحضارات بمنطقة الخليج العربية .

(ج) فرق بين كل مما يلي :

القفال	الدشة
.....
المنطقة التي هاجر لها بني ياس	المنطقة التي هاجر لها القواسم
.....

ترجمة السؤال الرابع بالحروف



السؤال الثاني : (موضوعي) يتكون من (أ - ب - ج) :

(أ) صنف الأعمال التي يقوم بها أبناء منطقة الخليج العربية قديماً حسب مكانها الصحيح في الجدول:

(صيد الأسماك - الرعي - الزراعة - التجارة البحرية)

الأنشطة البرية	الأنشطة البحرية
.....
.....

(ب) ظلل الخيار الصحيح من بين الخيارات التي تلي كل عبارة مما يلي :

١- أول دولة استعمارية وصلت منطقة الخليج العربي:

الإنجليز	البرتغال	فرنسا	هولندا
----------	----------	-------	--------

٢- الحاكم الذي ألغيت في عهده معاهدة الحماية مع بريطانيا عام ١٩٦١م:

عبدالله السالم الصباح	صباح السالم الصباح	جابر الأحمد الصباح	صباح الأحمد الصباح
-----------------------	--------------------	--------------------	--------------------

٣- أحد الحيوانات المستأنسة التي تعيش في منطقة الخليج العربية:

الثعبان	الذئب	الماعز	السحلية
---------	-------	--------	---------

٤- العام الذي انطلق فيه السوق الخليجي المشترك:

٢٠٠٥م	٢٠٠٦م	٢٠٠٧م	٢٠٠٨م
-------	-------	-------	-------

(ج) اكتب مدلولات الصور التي أمامك في الفراغات أدناه :




(.....)



(.....)



(.....)



(.....)

درجة السؤال الثاني بالحروف

.....

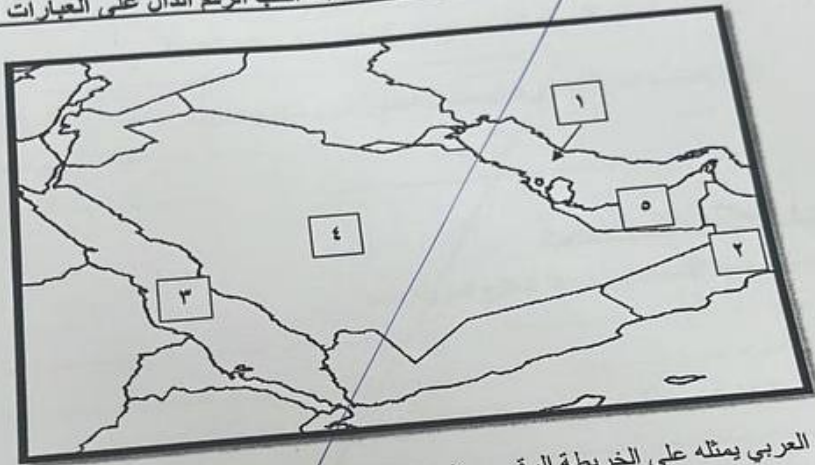


تعد امتحان القارة العربية المتحدة - تصف المساس المتوسط - لظرف الكويت ونحو الخليج العربية - للعام الدراسي ٢٠٢٣-٢٠٢٤ م

السؤال الثالث : (موضوعي) يتكون من (أ - ب - ج) :

(أ) صحح ما تحته خط في العبارات التالية بكتابة الإجابة الصحيحة ما بين الأقواس :

- ١- يبلغ عدد خطوط الطول ١٨٠ خط. (.....)
 - ٢- الرياح الجنوبية الشرقية في منطقة الخليج العربية تسمى الزواج. (.....)
 - ٣- الحضارة التي اشتهرت بأفران صهر المعادن هي يلمون. (.....)
 - ٤- الدولة الخليجية الوحيدة التي لم تتعرض للاستعمار اسمها الكويت. (.....)
- (ب) أمامك خريطة شبه الجزيرة العربية الصماء - اكتب الرقم الدال على العبارات التالية :**



- الخليج العربي يمثله على الخريطة الرقم (.....)
- البحر الأحمر يمثله على الخريطة الرقم (.....)
- الدولة الخليجية التي يوجد بها الجبل الأخضر يمثله على الخريطة الرقم (.....)
- الدولة الخليجية التي توجد بها جبال الحجاز يمثله على الخريطة الرقم (.....)

(ج) اكتب المفاهيم أو المصطلحات الدالة على العبارات التالية :

- ١- (.....) سيطرة دولة قوية على دولة ضعيفة بهدف استغلال موقعها ومواردها (خيراتها) .
- ٢- (.....) حالة الجو في مكان ما خلال فترات زمنية طويلة .
- ٣- (.....) منطقة تقع في الصحراء فيها مياه عذبة صالحة للزراعة .
- ٤- (.....) الموقع بالنسبة للماء واليابس .

درجة السؤال الثالث بالحروف



تبع / امتحان فترة الدراسة الأولى - تصف النفس المتوسط - لظرف الكويت ودول الخليج العربية - للعام الدراسي ٢٠٢٣-٢٠٢٤ م
السؤال الخامس: (مقالي) يتكون من (أ - ب - ج):

(أ) قارن بين كل من:

أوجه المقارنة	تحت معمر	تحت حولي
المفهوم
الأمثلة

(ب) علل لما يلي:

١- كانت حياة السكان في منطقة الخليج العربية قديما تتصف بأنها قاسية وخشنة.

٢- إصدار وثيقة الدستور الكويتية عام ١٩٦٢ م.

(ج) اكتب فيما يلي:

١- أهداف مجلس التعاون لدول الخليج العربية.

٢- أسماء المتاحف المتخصصة في دول الخليج العربية الحديثة.

درجة السؤال الخامس بالحروف

انتهت الأسئلة.

١٢

أجب عن جميع الأسئلة

السؤال الأول: (موضوعي) يتكون من (أ - ب - ج):

(أ) أكمل الجبارات التالية بما يناسبها مما درست:

- ١- القارة التي تقع فيها منطقة الخليج العربية اسمها
- ٢- الجزيرة التي ظهرت بها الحضارة الهلينستية اسمها
- ٣- العام الذي استقلت فيه مملكة البحرين م

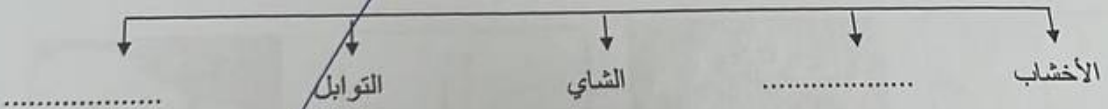
٤- الحاكم الذي أطلق اسمه على القمة السابعة والعشرون لمجلس التعاون لدول الخليج العربية اسمه

(ب) اختر من القائمة (أ) ما يناسبها من القائمة (ب) بوضع الرقم الصحيح في المكان المناسب:

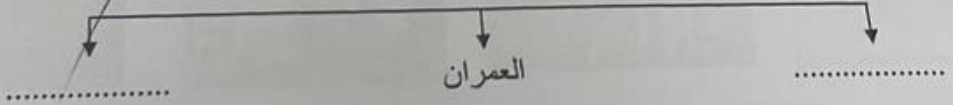
م	القائمة (أ)	الرقم المناسب	القائمة (ب)
١	صانع السفينة	النوخة
٢	تاجر اللؤلؤ	النهام
٣	ربان السفينة	القلاب
٤	مطرب السفينة	الغواص
		الطواش

(ج) أكمل المخططات السهمية التالية:

١- البضائع المستوردة إلى منطقة الخليج العربي قديماً



٢- مظاهر الحضارة الإسلامية



درجة السؤال الأول بالحروف



السؤال الخامس: مقال: يتكون من (أ - ب) :

(أ) فرق في الجدول الذي أمامك من حيث المفهوم بين كل مما يلي :

النباتات المعمرة	النباتات الحولية
-----	-----
الاستعمار	الاستقلال
-----	-----
الموقع الفلكي	الموقع النسبي
-----	-----

(ب) قارن في الجدول الذي أمامك بين كل من :

وجه المقارنة	خطوط الطول	دوائر العرض
التعريف	----- -----	----- -----
الخط الرئيسي (صفر)	-----	-----
العدد	-----	-----