



وزارة التربية
الإدارة العامة لمنطقة الأحمدية التعليمية
مدرسة هدية الابتدائية بنين



www.KweduFiles.Com
الوحدة الثانية



للف الرابع



• أ. شيمه صقر المطيري


رئيسة القسم

www.kwedeFiles.com

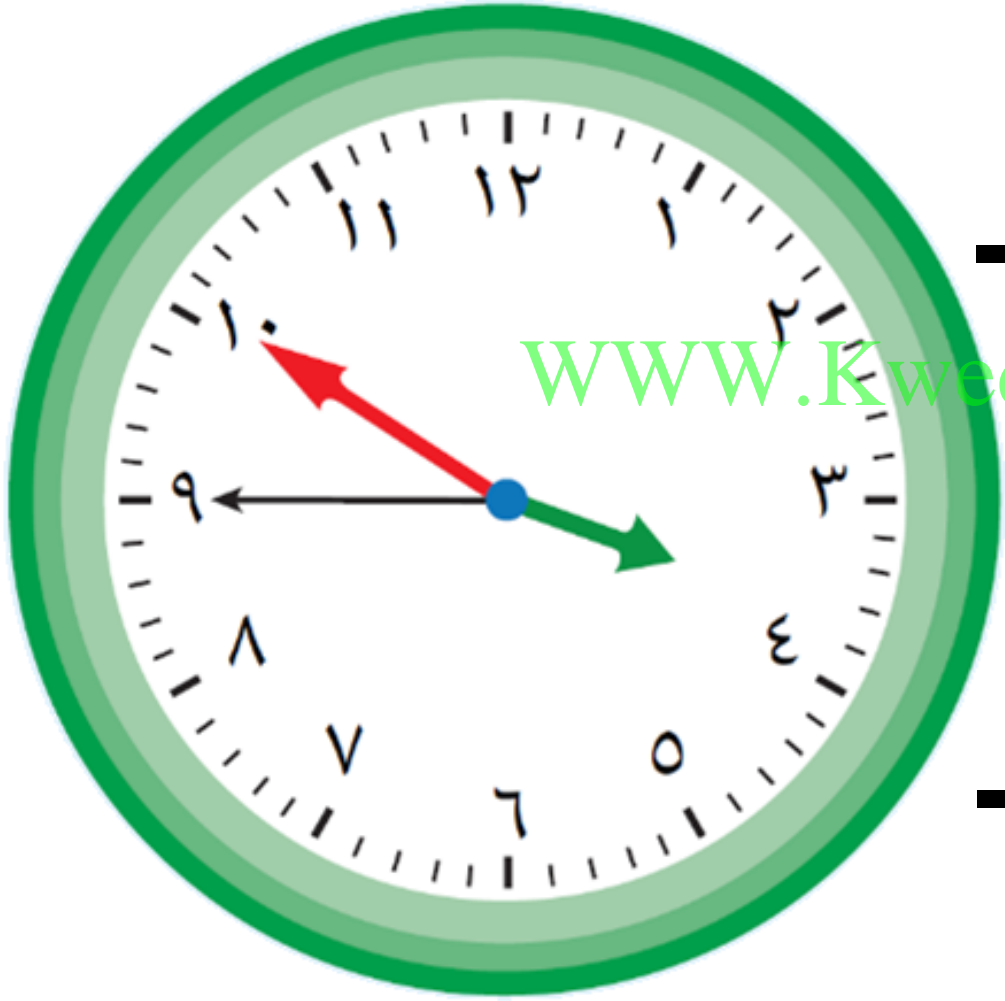
مراجعة السنة



بند (١٠-١)



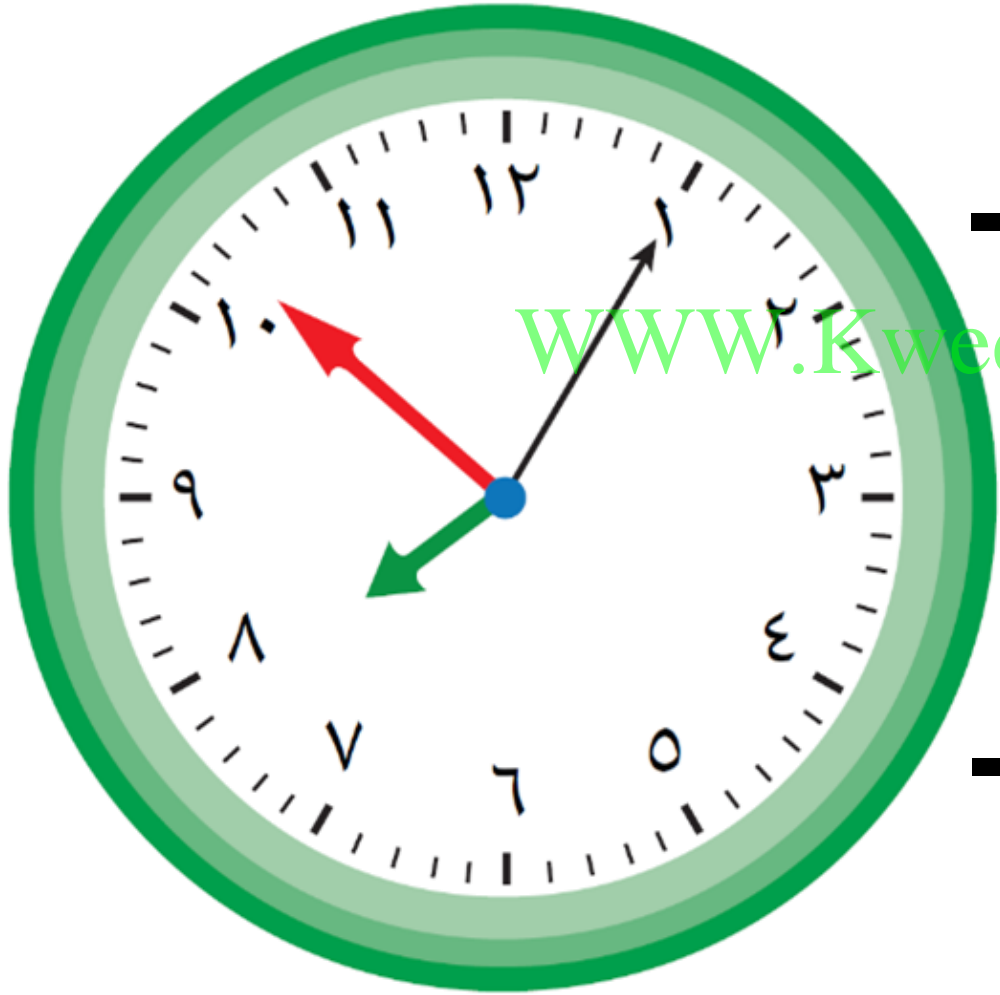
اكتب الوقت بطريقتين مختلفتين



WWW.KweduFiles.Com




اكتب الوقت بطريقتين مختلفتين



www.KweduFiles.Com

اكتب الوقت بطرق مختلفة



www.KweduFiles.Com


اكتب الوقت بطرق مختلفة



اقراء الوقت ثم ارسم العقرب الناقص

٢٠ : ١٥ : ١


www.KweduFiles.Com



اقراء الوقت ثم ارسم العقرب الناقص

٥ : ٠ : ٨


www.KweduFiles.Com



اقراء الوقت ثم ارسم العقرب الناقص

٢٣ : ٤٥ : ١١

www.KweduFiles.Com



أكمل النمط الذي يظهر الوقت

١٢ : ٥٧ : ١٠

١٢ : ٥٨ : ١٠

١٢ : ٥٩ : ١٠



www.KweduFiles.Com

أكمل النمط الذي يظهر الوقت

٦ : ٢١ : ٣٠

٦ : ٢١ : ٤٠

٦ : ٢١ : ٥٠




٦ : ٢١ : ٥٠



مفاتيح الوقت

بند (١٠-٢)



أَكْمَلْ

يقول صالح عمر جدي الآن

WWW.KweduFiles.Com

قرن من الزمان ، فإن عمره



سنة _____ .

أَكْمَلْ

يقول حمد ماضي على إنشاء

مدرستنا ٢ عقود كاملة ، فإن

عمر إنشاء المدرسة _____ سنة

أَكْمَلْ

استقلت بلدنا الحبيبة الكويت

WWW.KweduFiles.Com
في عام ١٩٦١ م ، أي في القرن



• _____

أَكْمَلْ

١٢ قرن = _____ سنة

WWW.KweduFiles.Com

٢٠٠ عقد = _____ قرن

٣٦ شهر = _____ سنة

أُكْمَل

٢٠ يوم = _____ ساعة

WWW.KweduFiles.Com

١٠ دقائق = _____ ثانية

٤٩ يوم = _____ أسبوع

ضع رمز العلاقة المناسبة (< أو > أو =)

سنتين ١٥ شهر


WWW.KweduFiles.Com

٩٠ دقيقة ٢ ساعات

٩٩ سنة قرن

ضع رمز العلاقة المناسبة (< أو > أو =)

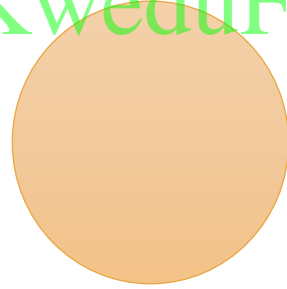
٣ عقود



٢٠ سنة


WWW.KweduFiles.Com

دقيقتين



١٢٠ ثانية


٧٢ يوم




١٠ أسابيع

رتب ما يلي ترتيباً تصاعدياً


ساعة



www.KweduFiles.Com
١٢٠٠ ثانية



٥٨ دقيقة



www.KweduFiles.Com

إيمان الحق



بند (١٠-٣)



أوجد المدة

٢٠ : ٢٥ : ٥ ق.ظ

WWW.KweduFiles.Com



إلى

٣٠ : ٤٠ : ٩ ق.ظ

أوجد المدة

١١ : ٥٣ : ٤ ب.ب.ظ

WWW.KweduFiles.Com

إلى



٣٢ : ٥٥ : ٦ ب.ب.ظ

أوجد المدة

٨ : ٧ : ١١ ق.ظ

WWW.KweduFiles.Com



إلى

٤ : ١ : ٣ ب.ظ

الهواية المفضلة لدى خالد الصيد.

بدأ الصيد عند الساعة ٢٠:١٠:١١ ق.ظ

WWW.KweduFiles.Com

واستمر ٣ ساعات و ٢٢ دقيقة و ١٤

ثانية . متى أنهى خالد الصيد ؟

المدينة	مؤعد الوصول
دمشق	١٢:٣٧ ب.ظ.
عمان	١:٣٥ ب.ظ.
دبي	١٢:٥٨ ب.ظ.

٣ الجدول يوضح مؤعد وصول الطائرة الكويتية إلى بعض

المدن العربية، إذا أقلعت الطائرة من الكويت الساعة

١٥:١١ ق.ظ.، فاحسب:

أ) مدة الرحلة من الكويت إلى عمان

WWW.KweduFiles.Com

ب) مدة الرحلة من الكويت إلى دبي

ج) إذا تأخر مؤعد إقلاع الطائرة الكويتية المتجهة إلى دمشق لمدة ساعة و ٢٠ دقيقة، فما الوقت

المتوقع لوصول الطائرة؟



www.KweduFiles.Com

بند (۱۰-۴)



شهور السنة الهجرية

١	مُحَرَّم
٢	صَفَر
٣	رَبِيعُ الْأَوَّل
٤	رَبِيعُ الْآخِر
٥	جُمَادَى الْأُولَى
٦	جُمَادَى الْآخِرَة
٧	رَجَب
٨	شَعْبَان
٩	رَمَضَان
١٠	شَوَّال
١١	ذُو الْقَعْدَة
١٢	ذُو الْحِجَّة

شهور السنة الميلادية

1	يناير
2	فبراير
3	مارس
4	أبريل
5	مايو
6	يونيو
7	يوليو
8	أغسطس
9	سبتمبر
10	أكتوبر
11	نوفمبر
12	ديسمبر



أَكْمَل

الشَّهْرُ الْأَوَّلُ الْهَجْرِي هُوَ

WWW.KweduFiles.Com

الشَّهْرُ الرَّابِعُ الْهَجْرِي هُوَ



أَكْمَل

الشهر الأول الميلادي هو

WWW.KweduFiles.Com

الشهر السادس الميلادي هو



٢ أكتب الشهر الهجري الذي تقع فيه المناسبات التالية:

أ مولد الرسول الكريم محمد (صلى الله عليه وسلم)

ب عيد الفطر المبارك

ج عيد الأضحى المبارك

د الإسراء والمعراج



يخضع والد فهد لجلسات للعلاج

الطبيعي ، إذا كانت الجلسة

WWW.KweduFiles.Com

الأولى يوم الأحد ٧ ابريل ، فمتى

يكون موعد الجلسة الثالثة ؟

ولد بدر في سنة كبيسة ، أقام

الاحتفال الرابع بيوم ميلاده

WWW.KweduFiles.Com

عام ٢٠١٦ م ،

في أي عام ولد بدر ؟