






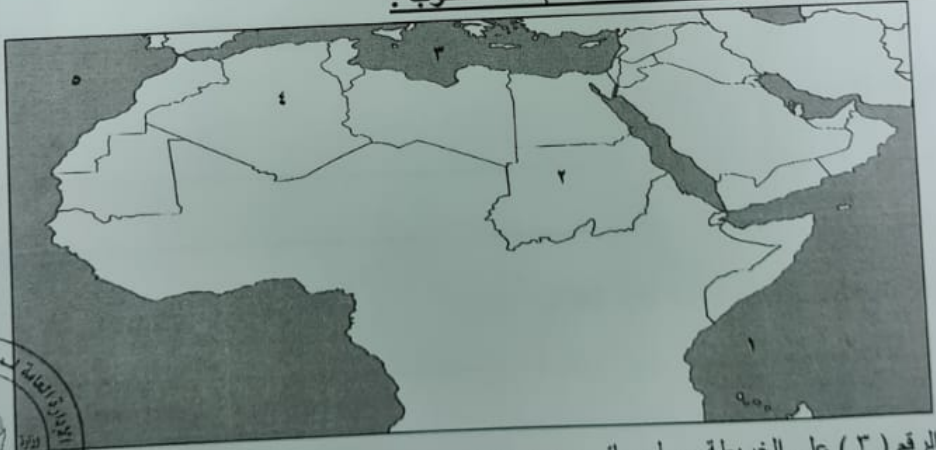
تابع / امتحان نهاية الفترة الدراسية الأولى - مقرر (الكويت والوطن العربي) - الصف السابع - العام الدراسي ٢٠٢٣ - ٢٤

تابع / السؤال الأول (موضوعي):

(و) اختر للمجموعة (أ) ما يناسبها من المجموعة (ب) بوضع الرقم الصحيح في المكان المناسب:

م	المجموعة (أ)	الرقم	المجموعة (ب)
١	جامع المنصور الذي ينتمي للحضارة العربية الإسلامية.		
٢	الأهرامات التي تنتمي للحضارة المصرية القديمة.		
٣	أسد بابل الذي ينتمي لحضارة بلاد الرافدين.		

(ز) لاحظ خريطة الوطن العربي الصماء ثم نفذ المطلوب :



- ١- يمثل الرقم (٣) على الخريطة مسطح مائي يسمى
 - ٢- جمهورية السودان يمثلها على الخريطة الرقم (.....) .
 - ٣- ضع علامة (X) على موقع مضيق هرمز على الخريطة .
 - ٤- ارسم خط (—) الاستواء على خريطة الوطن العربي .
- مجموع درجات السؤال الأول بالحروف





تابع / امتحان نهاية الفترة الدراسية الأولى - مقرر (الكويت والوطن العربي) - الصف السابع - العام الدراسي ٢٠٢٣ - ٢٠٢٤

السؤال الثاني (المقالّي) يتكوّن من (أ - ب - ج) :

(أ) عرف المفاهيم أو المصطلحات التالية :

- ١- النبات الطبيعي:
- ٣- الموقع الإستراتيجي:

(ب) قارن بين كل من حسب المطلوب منك في الجدول التالي :

المسيحية	الإسلام	أوجه المقارنة
		النبي
		الكتاب السماوي

(ج) علّل لما يلي :

١- المدن الساحلية أكثر اعتدالاً في المناخ صيفاً و أهدأ نسبياً شتاءً .

٢ - مقاومة النبات الصحراوي للجفاف .

٣- اهتمام المصريين القدماء بتحنيط جثث موتاهم .

مجموع درجات السؤال الثاني بالحروف



تلمع / امتحان نهاية الفترة الدراسية الأولى - مقرر (الكويت والوطن العربي) - الصف السابع - العام الدراسي ٢٠٢٣ - ٢٠٢٤ م

السؤال الرابع (المقالى) يتكون من (أ - ب - ج) :
(أ) فرق بين كل مما يلى من حيث التعريف :

الطنقس	المنافخ

(ب) أجب عن الأسئلة التالية :

١- عدد - صفات الأمطار في الوطن العربي .

٢- علل - تنافس الدول الاستعمارية للاستيلاء على الوطن العربي منذ القرن ١٨ الميلادي .

٣- عرف - الحضارة :

(ج) لاحظ الصورة التي أمامك ثم أجب عن الأسئلة التالية :

١- الكتابة التي تمثلها الصورة تسمى -----

٢- الحضارة التي اشتهرت بها هذه الكتابة تسمى -----

٣- عدد - العلوم و الفنون التي تميز فيها سكان هذه الحضارة .

مجموع درجات السؤال الرابع بالحروف

10



انتهت الأسئلة





تابع / امتحان نهاية الفترة الدراسية الأولى - مقرر (الكويت والوطن العربي) - الصف السابع - العام الدراسي ٢٠٢٣ - ٢٠٢٤

تابع / السؤال الأول (موضوعي) :

(ج) صنف المظاهر الحضارية التالية حسب مكانها الصحيح في الجدول التالي :

(حدائق بابل المعلقة - مسجد قرطبة - الخط المسند - الكتابة المسمارية)

بلاد اليراقدين	الحضارة العربية الإسلامية	بلاد اليرمن

(د) صحح ما تحته خط في العبارات التالية وذلك بكتابة الإجابة الصحيحة ما بين الأقواس :

١- الدولة العربية التي تقع خارج نطاق موقع الوطن العربي اسمها اليرمن (-----)

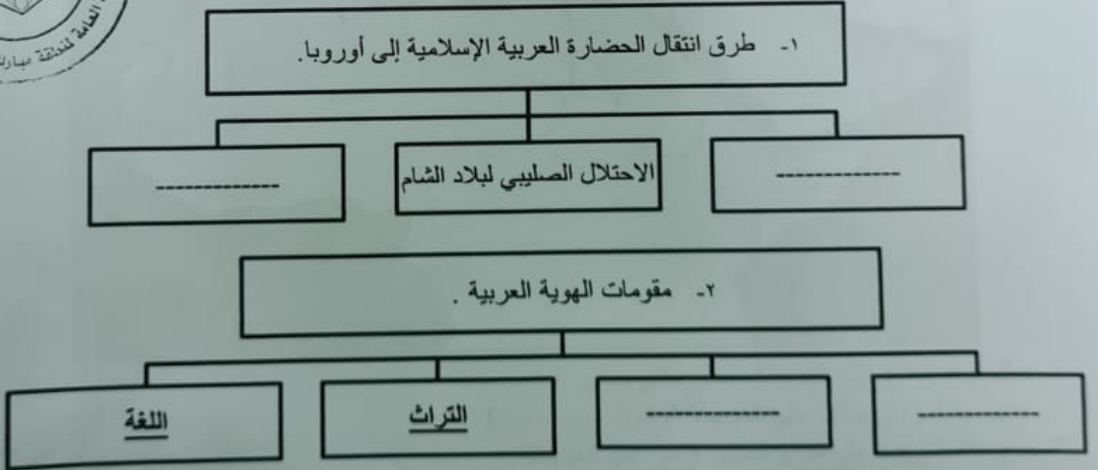
٢- مجرى مائي عذب ينحدر على الدوام لينتهي إلى بحر أو إلى نهر أو ينتهي تدريجياً في الصحراء يسمى البحيرة (-----)

٣- بلاد اليراقدين تعني بلاد ما بين النهرين و يطلق عليها حالياً اسم الأردن (-----)

٤- حشائش طويلة يختلف نوعها حسب كمية الأمطار تسمى الحشائش المعتدلة (الأسببس) (-----)

٥- المضيق الذي يصل بين البحر المتوسط والمحيط الأطلسي يسمى باب المنذب . (-----)

(هـ) أكمل المخططات السهمية التالية:





تابع / امتحان نهاية الفترة الدراسية الأولى - مقرر (الكويت والوطن العربي) - الصف السابع - العام الدراسي ٢٠٢٣ -

السؤال الثالث (المقالى) يتكون من (أ - ب) :

(أ) عدد اثنين لكل مما يلي :

١- العوامل التي ساهمت في ازدهار الزراعة في بلاد الرافدين .

٢- عوامل قيام الحضارة .

٣- العوامل الرئيسية المؤثرة في تنوع النبات الطبيعي في الوطن العربي .

(ب) قارن بين كل من حسب المطلوب منك في الجدول التالي :

الغابات المعتدلة	الغابات المدارية الحارة	أوجه المقارنة
		مميزات الأشجار
		أهم الأشجار



..... مجموع درجات السؤال الثالث بالحروف

