

تم تحميل هذا الملف من موقع المناهج الكويتية



الملف نموذج إجابة منطقة الجهراء

موقع المناهج ← المناهج الكويتية ← الصف السادس ← علوم ← الفصل الأول

روابط مواقع التواصل الاجتماعي بحسب الصف السادس



روابط مواد الصف السادس على تلغرام

[الرياضيات](#)

[اللغة الانجليزية](#)

[اللغة العربية](#)

[التربية الاسلامية](#)

المزيد من الملفات بحسب الصف السادس والمادة علوم في الفصل الأول

تلخيص مهم للكورس اول في مادة العلوم	1
نموذج اجابة بنك أسئلة وحدة الارض والفضاء في مادة العلوم	2
اجابة بنك اسئلة الروافع في مادة العلوم	3
اجابة بنك اسئلة وحدة التكيف مع الكائنات الحية	4
تلخيص الوحدة الأول(التكيف مع الكائنات الحية) في مادة العلوم معدل	5

امتحان نهاية الفصل الأول

مادة العلوم للصف السادس

العام الدراسي 2021-2022 (نموذج اجابة)

وزارة التربية

الادارة العامة لمنطقة الجهراء التعليمية

التوجيه الفني للعلوم

زمن الاختبار : ساعتين

عدد الصفحات : 5

36 درجة

أولا : الأسئلة الموضوعية

السؤال الاول : اختر الإجابة الصحيحة علميا لكل من العبارات التالية وضع علامة (√) في المربع المقابل لها
1- كائن حي يتكيف للعيش في البيئة القطبية : - ص 20



2- حيوان يتلون جسمه مع لون محيطه : ص 53



3- من دلائل ظاهرة الإحتباس الحراري في الارض : ص 36

زيادة الغطاء الجليدي تأخر فصل الربيع ارتفاع الحرارة انخفاض مستوى منسوب الماء

4- الرافعه التي تقع فيها القوة بين محور الارتكاز والمقاومة : ص 81



5- خصائص البكرة الثابتة : ص 105

لاتوفر الوقت لاتوفر الجهد توفر الوقت والجهد توفر الجهد

6- العلاقة بين ذراع القوة (ل1) وذراع المقاومة (ل2) في البكرة المتحركة : - ص 105

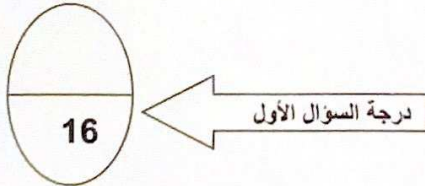
$ل1 = ل2$ $ل1 > ل2$ $ل1 < ل2$ $ل1 = 2ل2$

7- مادة عازلة للحرارة : ص 130

الخشب الحديد الماء النحاس

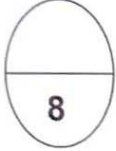
8- ثالث كوكب في ترتيب البعد عن الشمس : ص 181

عطارد المشتري الزهرة الأرض



السؤال الثاني: اكتب بين القوسين كلمة (صحيحة) أمام العبارة الصحيحة و كلمة (خطأ)
أمام العبارة غير الصحيحة في كل مما يلي :

- 1- للجمل رموش طويلة تمنع حبات الرمل من دخولها للعين . ص24 (صحيحة)
2- حمل العقرب صغارها على ظهرها تكيف بنيوي . ص52 (خطأ)
3- يستخدم الترمومتر لقياس درجة الحرارة . ص120 (صحيحة)
4- عندما يكون القمر محاقا يكون مظلما ولا تراه في السماء ص171 (صحيحة)

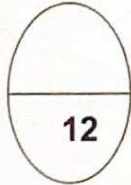


درجة السؤال الثاني

السؤال الثالث :

في الجدول التالي اختر العبارة المناسبة من المجموعة (ب) واكتب رقمها أمام ما يناسبها من عبارات المجموعة (ا)

الرقم	المجموعة (أ)	الرقم	المجموعة (أ)
(3)	- حيوان يعيش معيشة انفرادية. ص60	-1	نحل
(1)	حيوان يعيش معيشة اجتماعية.	-2	اسد
		-3	عقرب
الرقم	المجموعة (أ)	الرقم	المجموعة (أ)
(5)	- رافعه من النوع الأول. ص81	-4	فتاحة البيبسي
(6)	رافعه من النوع الثاني .	-5	المقص
		-6	دباسة
الرقم	المجموعة (أ)	الرقم	المجموعة (أ)
(9)	عملية انتقال الحرارة بالمواد الصلبة ص127	-7	الحمل
(7)	عملية انتقال الحرارة بالمواد السائلة0	-8	الاشعاع
		-9	التوصيل



درجة السؤال الثالث

2

السؤال الرابع :

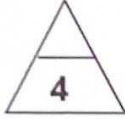
أ- علل لما يلي تعليلا علميا (أذكر السبب)

1- لون الضب يشبه لون رمال الصحراء . ص 28

..... للتخفي من الأعداء

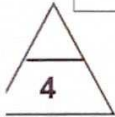
2- ينصح باستخدام القفازات المصنوعة من القماش عند تناول الاجسام الساخنة . ص 128

..... لانها عازلة للحرارة



(ب) قارن بين كل من:

		<p>وجه المقارنه</p>
<p>..يخسوف القمر..</p>	<p>...كسوف الشمس...</p>	<p>اسم الظاهرة ص ١٤٥</p>
		<p>وجه المقارنه</p>
<p>.....متحركة.....</p>	<p>.....ثابتة.....</p>	<p>نوع البكرة ص ١٠٤</p>



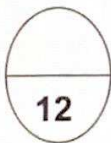
(ج) - أي مما يلي لا ينتمي للمجموعة:

1- (وضعية انذار القط - التلون التلقائي - جراب الكنغر - الممائلة في الافعى السامة وغير السامة) 52-53

الاجابة : ..وضعية انذار القط السبب :لانه تكيف سلوكي.....


2- (حديد - نحاس - المنيوم - زجاج) ص 130

الاجابة : ..زجاج..... السبب:لانه ردي التوصيل للحرارة



السؤال الخامس (أ) تفكير ناقد (حل المشكلات)

يسكن عمر في منزل جديد ويحتاج مساعدة في معرفة أماكن تركيب الأجهزة ساعد عمر بوضع خطا تحت الكلمة الصحيحة التي تدل على المكان الصحيح لتركيب الجهاز مع ذكر السبب ص 133



(2)

(1)

1- الجهاز رقم (1) يوضع في (الاعلى - الاسفل) السبب ... لان الهواء الساخن اخف من الهواء البارد فيرتفع الى اعلى.....

2- الجهاز رقم (2) يوضع في (الاعلى - الاسفل) السبب ... لان الهواء البارد اثقل من الهواء الساخن فينزل الى اسفل.....



السؤال الخامس (ب) تفكير ناقد (حل المشكلات)

تعاني الأرض من ظاهرة الاحتباس الحراري والتي تسببت بالعديد من المشكلات واهمها انقراض بعض انواع من الكائنات الحية

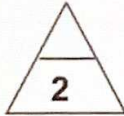
اقترح حلولا تساعد على حل مشكلة انقراض الكائنات الحية: (يكتفى باجابتين فقط)ص 38

1-.....انشاء المحميات الطبيعية

2-.....وضع الكائنات في حدائق الحيوانات.....3-منع الصيد.....4-زراعة الاشجار.....

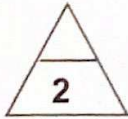
السؤال الخامس (ج) صنف المواد التالية في الجدول التالي :

1-ميزان ذوكتين - ملقط - كسارة بندق - عربة الحديقة ص 81




رافعة من النوع الاول	رافعة من النوع الثاني	رافعة من النوع الثالث
ميزان -	كسارة بندق -عربة الحديقة	ملقط

2-حركات الدب في السيرك - بناء العش- تعلم النطق عند البغغاء - الصيد عند الطيور ص 56-57

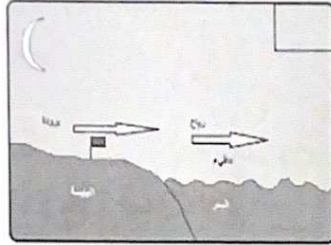
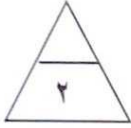


سلوك فطري (موروث)	سلوك مكتسب
بناء العش - الصيد عند الطيور	حركات الدب في السيرك- تعلم النطق عند البغغاء

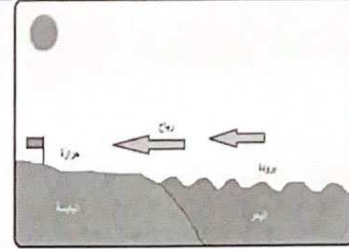


درجة السؤال الخامس

السؤال السادس_ (أ) أدرس الأشكال التالية ثم أجب عن المطلوب : ص ١٣٥



الشكل يمثل نسيم ...البر...



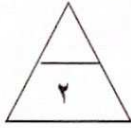
الشكل يمثل نسيم ...البحر...

المنهج الكويتية

almanhaj.kuwait.gov

السؤال السادس(ب): من خلال دراستك للأشكال التالية اي الحذائين تفضل ان تلبس خلال رحلة لشاطئ البحر

ولماذا؟ ص ٦٢

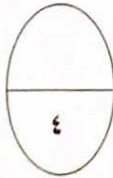


(٢)



(١)

الحذاء المناسب رقم.....٢.....لان....كلما زاد مساحة السطح قل الضغط.....



انتهت الاسئلة

درجة السؤال السادس