

تم تحميل هذا الملف من موقع المناهج الكويتية



مدرسة التميز النموذجية

الملف نموذج اختبار تجريبي أول

[موقع المناهج](#) ← [المناهج الكويتية](#) ← [الصف الثالث](#) ← [علوم](#) ← [الفصل الأول](#)

روابط مواقع التواصل الاجتماعي بحسب الصف الثالث



روابط مواد الصف الثالث على تلغرام

[الرياضيات](#)

[اللغة الانجليزية](#)

[اللغة العربية](#)

[التربية الاسلامية](#)

المزيد من الملفات بحسب الصف الثالث والمادة علوم في الفصل الأول

تشحيحات ومخططات في مادة العلوم	1
تدريبات ممتازة في مادة العلوم	2
تدريبات ممتازة في مادة العلوم	3
حل مذكرة في مادة العلوم	4
حل وحدة الطقس في مادة العلوم	5



الاختبار التجريبي الأول للصف الثالث الابتدائي

أولاً : الأسئلة الموضوعية :

السؤال الأول : اختر الإجابة الصحيحة علمياً لكل من العبارات التالية بوضع علامة (✓) في مربع المقابل لها :

1) جميع ما يلي من التراكيب الخارجية التي تشترك فيها الأسماك ما عدا :

 العين

 الأذن

 الزعانف

 الخياشيم

2) أحد أجزاء السمكة التالية يساعدها على الحركة في الماء :

 الرأس

 الزعانف

 الفم

 الخياشيم

السؤال الثاني : ضع علامة (✓) أمام العبارة الصحيحة وعلامة (x) أمام العبارة غير الصحيحة فيما يلي :

1) للأسماك جسم إنسيابي الشكل . ()


2) الزعانف والذيل يساعدان السمكة على السباحة في الماء . ()

ثانياً : الأسئلة المقالية :

السؤال الأول : صنف الصور التالية في الجدول أثناء حسب ما هو مطلوب :



(4)



(3)



(2)



(1)

تساعد السمكة على الحركة	تساعد السمكة على التنفس





الاختبار التجريبي الأول للصف الثالث الابتدائي

أولاً : الأسئلة الموضوعية :

السؤال الأول : اختر الإجابة الصحيحة علمياً لكل من العبارات التالية بوضع علامة (✓) في مربع المقابل لها :

1) جميع ما يلي من التراكيب الخارجية التي تشترك فيها الأسماك ما عدا :

 العين

 الأذن

 الزعانف

 الخياشيم

2) أحد أجزاء السمكة التالية يساعدها على الحركة في الماء :

 الرأس

 الزعانف

 الفم

 الخياشيم

السؤال الثاني : ضع علامة (✓) أمام العبارة الصحيحة وعلامة (x) أمام العبارة غير الصحيحة فيما يلي :

(~~صحيحة~~)

1) للأسماك جسم إنسيابي الشكل .

(~~صحيحة~~)


2) الزعانف والذيل يساعدان السمكة على السباحة في الماء .

ثانياً : الأسئلة المقالية :

السؤال الأول : صنف الصور التالية في الجدول أثناء حسب ما هو مطلوب :




(4)



(3)



(2)



(1)

تساعد السمكة على الحركة	تساعد السمكة على التنفس
(1)	(2)
(4)	(3)



السؤال الأول: اختر الإجابة الصحيحة علمياً لكل عبارة:- (٤ درجة)

١- يغطي جسم السمكة

أ (الحراشيف ب (القشور ج (الشعر د (الريش

٢- تتنفس الأسماك الهواء المذاب في الماء بواسطة

أ (الزعانف ب (الذيل ج (الرنتان د (الخياشيم

السؤال الثاني: ضع علامة (√) أو (×) أمام العبارات الآتية :- (٢ درجة)

١- نلاجسام جسم انسيابي الشكل

()

٢- أشكال زعانف الأسماك مختلفة

()

(٤ درجة)

ثانياً : الأسئلة المقالية :


لسؤال الأول : صنف صور التراكيب الخارجية التالية في الجدول أدناه حسب أسمائها :



(4)



(3)



(2)



(1)

الزعانف	القم	الخياشيم	القشور

(٤ درجة)

السؤال الأول: اختر الإجابة الصحيحة علمياً لكل عبارة:-

٣- يغطي جسم السمكة

أ (الحراشيف) ب (القشور) ج (الشعر) د (الريش)

٤- تتنفس الأسماك الهواء المذاب في الماء بواسطة

أ (الزعانف) ب (الذيل) ج (الرنتان) د (الخياشيم)

(٢ درجة)

السؤال الثاني: ضع علامة (√) أو (×) إمام العبارات الآتية :-

(صحيحة)

٣- نلاجسام جسم انسيابي الشكل

(صحيحة)

٤- أشكال زعانف الأسماك مختلفة

(٤ درجة)

ثانياً : الأسئلة المقالية :


السؤال الأول : صنف صور التراكيب الخارجية التالية في الجدول أدناه حسب أسمائها :



(4)



(3)



(2)



(1)

القشور	الخياشيم	القمم	الزعانف
٢	١	٣	٤