

تم تحميل هذا الملف من موقع المناهج الكويتية



الملف نموذج إجابة منطقة حولي التعليمية

[موقع المناهج](#) ← [المناهج الكويتية](#) ← [الصف السابع](#) ← [اجتماعيات](#) ← [الفصل الأول](#)

روابط مواقع التواصل الاجتماعي بحسب الصف السابع



روابط مواد الصف السابع على تلغرام

[الرياضيات](#)

[اللغة الانجليزية](#)

[اللغة العربية](#)

[التربية الاسلامية](#)

المزيد من الملفات بحسب الصف السابع والمادة اجتماعيات في الفصل الأول

<a href="#">كتاب الطالب في مادة الاجتماعيات للعام الدراسي 2018</a>	1
<a href="#">حل الوحدة الاولى في مادة الاجتماعيات</a>	2
<a href="#">تلخيص رائع في مادة الاجتماعيات</a>	3
<a href="#">حل الوحدة الثانية في مادة الاجتماعيات</a>	4
<a href="#">تلخيص ممتاز في مادة الاجتماعيات</a>	5

تم التحميل من شبكة ياكويت التعليمية



Telegram:  
[ykuwait\\_net\\_home](https://t.me/ykuwait_net_home)



وزارة التربية  
الإدارة العامة لمنطقة حولي التعليمية  
مراقبة الامتحانات وشئون الطلبة

موقع  
المناهج الكويتية  
[almanahj.com/kw](http://almanahj.com/kw)

العام الدراسي 2024 / 2025 م  
امتحان الفترة الدراسية الأولى

## نموذج الإجابة

### الإجتماعيات

المرحلة المتوسطة  
الصف السابع



وزارة التربية  
الإدارة العامة لمنطقة حولي التعليمية  
التوجيه الفني للاجتماعيات

المجال الدراسي : الاجتماعيات

الزمن : ساعة وخمس وأربعون

تم التحميل من شبكة ياكويت التعليمية



Telegram:  
ykuwait\_net\_home

## نموذج الإجابة

امتحان نهاية الفترة الدراسية الأولى  
للفص السابع (( الكويت والوطن العربي ))  
للعام الدراسي : ٢٠٢٤ - ٢٠٢٥ م

مع تمنياتنا لكم بالتوفيق  
التوجيه الفني للاجتماعيات



امتحان الفترة الدراسية الأولى  
لمقرر الكويت والوطن العربي  
للصف السابع المتوسط  
نموذج الإجابة

العام الدراسي: ٢٠٢٤ / ٢٠٢٥ م  
الزمن: ساعة وخمسة وأربعون  
عدد الأوراق: ٦ تم التحميل من شبكة ياكويت التعليمية



Telegram:  
ykuwait\_net\_home

أجب عن جميع الأسئلة

السؤال الأول ( موضوعي ) يتكون من ( أ - ب - ج - د - هـ )  
( أ ) ظلل الخيار الصحيح من بين الخيارات التي تلي كل عبارة: ( ٦ درجات لكل نقطة درجة )

١- العام الذي انضمت فيه جمهورية جزر القمر إلى الجامعة العربية : ص ٢٣


١٩٩٩ م	١٩٩٦ م	١٩٩٣ م	١٩٩٠ م
--------	--------	--------	--------

٢- الرسم البياني المظلل الذي يمثل نسبة سكان الوطن العربي بالنسبة لسكان العالم: ص ٣٥



٣- الأشكال التضاريسية الأكثر انتشاراً في الوطن العربي : ص ٤٠

السهول	الهضاب	الجبال	التلال
--------	--------	--------	--------



٤- الحضارة التي يمثلها الجانب المعماري في الصورة المقابل: ص ٩٢

الرافدين	مجان
دلمون	العربية الاسلامية

٥- الدولة التي توجد بها منطقة الاحساء لتحلية مياه البحر: ص ٦١

السعودية	الإمارات	الكويت	قطر
----------	----------	--------	-----

٦- الرسول الذي أنزلت عليه الديانة اليهودية : ص ٩٠

عيسي	موسي	ابراهيم	نوح
------	------	---------	-----

( ب ) صنف العناصر التالية في مكانها المناسب في الجدول الذي يليها: ( ٦ درجات لكل نقطة درجة )

باب المنذب - الشطوط - الحجاز - بادية الشام - هرمز - الأطلس

الهضاب	الجبال	المضائق
- الشطوط - بادية الشام	- الحجاز - الأطلس	باب المنذب - هرمز
<u>ص ٤٠</u>	<u>ص ٣٨</u>	<u>ص ٢٨</u>

تابع السؤال الأول ( موضوعي ) :

( ج ) أكمل العبارات التالية بما يناسبها: ( ٦ درجات لكل نقطة درجة )

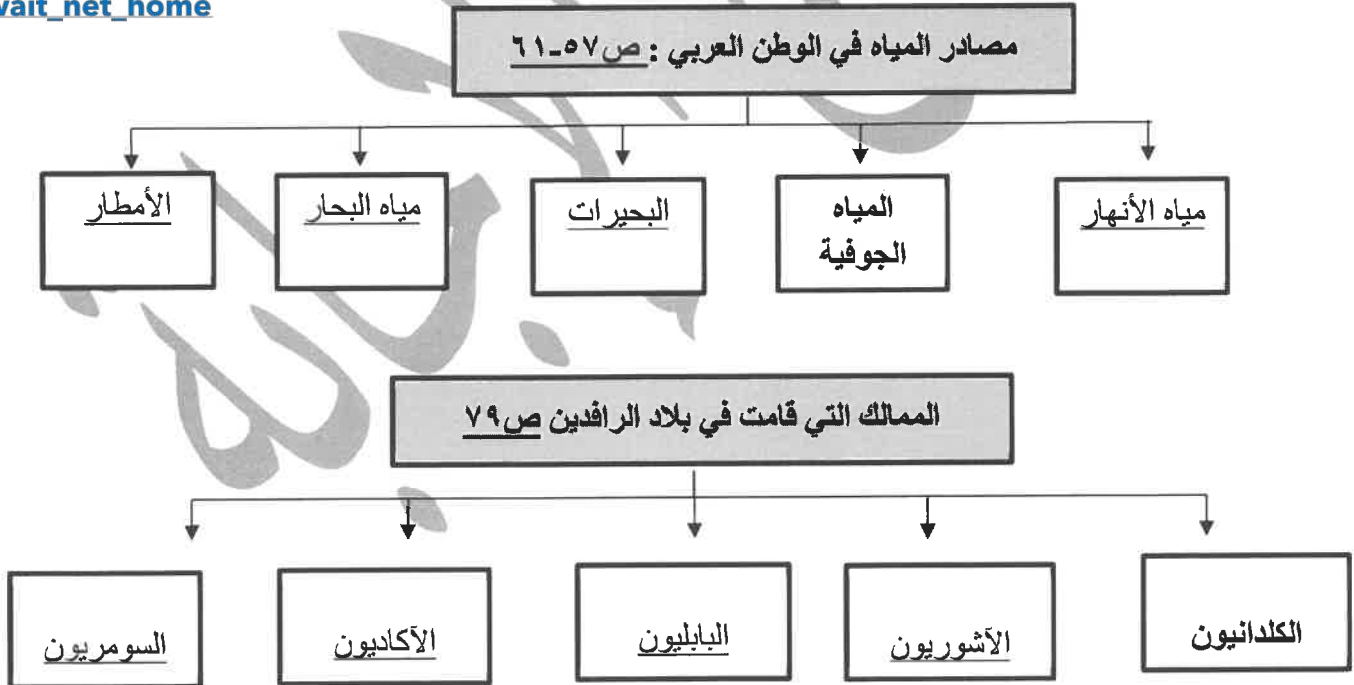
- ١- أطلق على البحرين قديماً قبل الفتح الإسلامي أسم -----أوال----- ص ٨٩
- ٢- الفصل الذي تكون فيه الشمس عمودية بين خط الاستواء ومدار السرطان يسمى ---الصيف--- ص ٤٩
- ٣- تعرف الحشائش المعتدلة ( الأستبس ) في بلاد المغرب باسم -----حلقا----- ص ٥٢
- ٤- العام الذي نزل به القرآن على سيدنا محمد ﷺ - -----٦١٠م----- ص ٩٠
- ٥- ملكة سبأ التي ورد ذكرها في القران الكريم اسمها -----بلقيس----- ص ٨٦
- ٦- موقع ذو مكانة مهمة بين دول العالم اسمه----- الموقع الاستراتيجي ----- ص ٢٨

تم التحميل من شبكة ياكويت التعليمية



Telegram:  
ykuwait\_net\_home

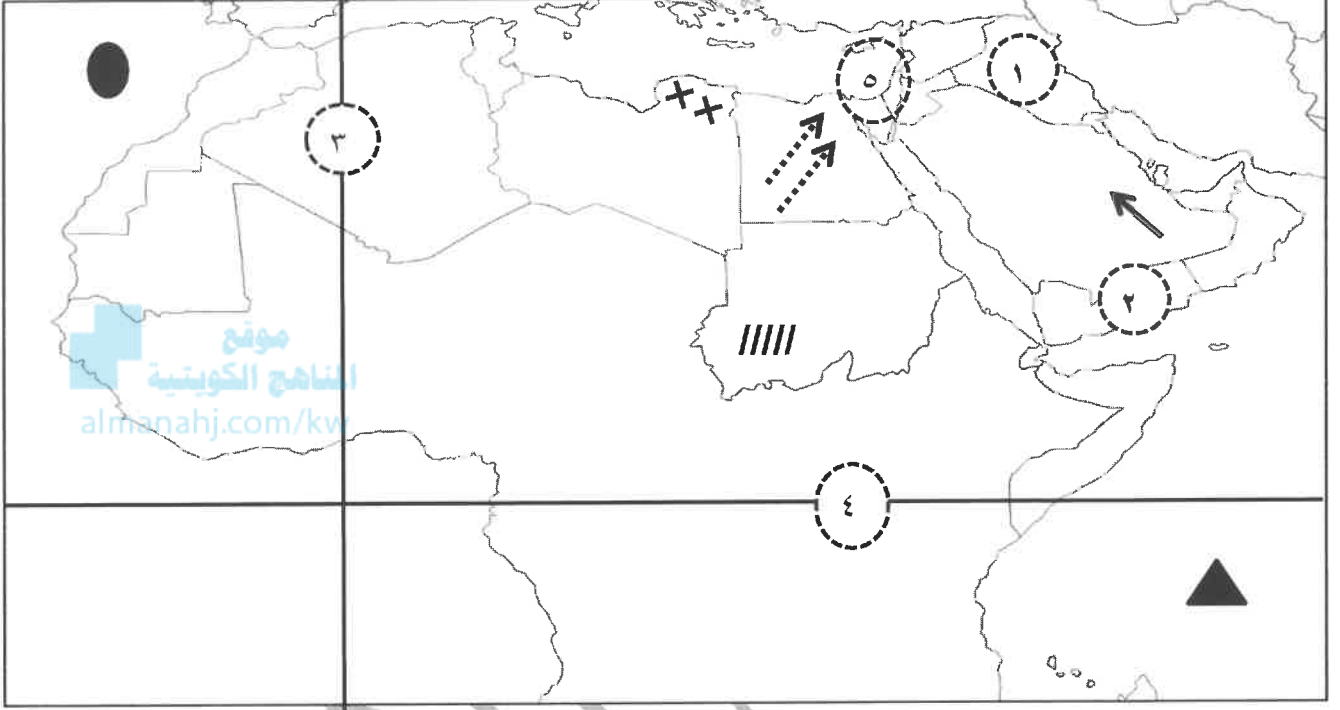
( د ) أكمل المخططات السهمية التالية: ( ٦ درجات لكل نقطة درجة )



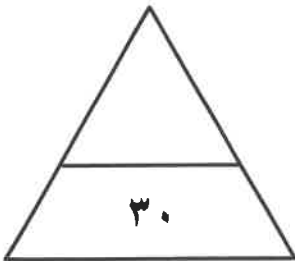
تابع السؤال الأول ( موضوعي ) :

( هـ ) لاحظ خريطة العالم ثم اكتب مدلولات الأرقام والرموز على العبارات التالية:

( ٦ درجات لكل نقطة درجة )



- قناة تصل بين البحر الأحمر والبحر المتوسط يمثلها على الخريطة الرقم ٥ ..... ص ٣٨
- جبال مره يمثلها على الخريطة الرمز  ..... ص ٣٨
- المحيط الهندي يمثله على الخريطة الرمز  ..... ص ٤٠
- خط غرينتش يمثله على الخريطة الرقم ٣ ..... ص ٣١
- حضارة بلاد اليمن يمثلها على الخريطة الرقم ٢ ..... ص ٨٥
- رياح الخماسين يمثلها على الخريطة الرمز  ..... ص ٤٨



مجموع درجات السؤال الأول بالحروف

السؤال الثاني (مقالى) يتكون من (أ - ب - ج): (٤ درجات لكل نقطة درجة) ص ٦٢-٦٣

دائرة البيانية	نسبة استخدام المياه المحلاة	
	٥٥%	الكويت
	٣٨%	قطر
	٣١%	البحرين
	٢٧%	الامارات
	٨%	السعودية
	٥%	ليبيا

(أ) لاحظ الجدول التالي ثم أجب عن الأسئلة التالية:

١- أذكر أقل الدول استخداماً للمياه المحلاة .

\* ليبيا

٢- حدد بالرسم نسبة استخدام الكويت للمياه المحلاة في الدائرة البيانية المقابلة .

٣- اقترح حلولاً لترشيد استخدام المياه في الوطن العربي .  
\* ترشيد استخدام المياه والحد من التبذير في المنازل  
\* الحد من هدر المياه في عمليات الري باستخدام الوسائل الحديثة كالرش بالتنقيط والمحوري

\* تنظيم عملية الاستفادة من مياه الجوفية ومنع تسرب الأملاح الملوثة إليها واستثمارها على الوجه الأمثل

\* تطوير استعمال مياه الصرف الصحي المعالجة في الزراعة

\* إقامة البحيرات والسدود لتجميع مياه الأمطار والسيول للاستفادة منها في فصل الجفاف

\* توقيع اتفاقيات مع الدول المشاركة والدول المنبع لتحقيق مصالح الدول العربية المعنية  
\* وما يراه المصحح ( يكتفى بنفطتين )

(ب) عدد اثنان لكل مايلي: (٤ درجات لكل نقطة درجة)

١- العوامل المؤثرة في تنوع النباتات في الوطن العربي. ص ٥١ ( يكتفى بنفطتين )

\* نوع التربة : التربة التي تمد النبات الطبيعي بالغذاء وهي متنوعه

\* المناخ : يؤثر في تنوع النبات نتيجة لاختلاف درجات الحرارة واختلاف كمية الامطار ومواسمها

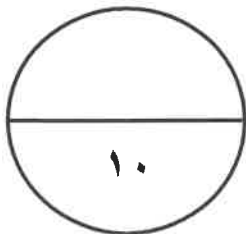
٢- الأنشطة الاقتصادية لسكان حضارة دلمون. ص ٨٨ ( يكتفى بنفطتين )

\*تنوع نشاط السكان الاقتصادي فمارسوا :

- الزراعة - صيد الأسماك - الغوص على اللؤلؤ

(ج) فرق بين كل مما يلي: (درجتين لكل نقطة درجة)

السهول الساحلية ص ٤٢	السهول الفيضية ص ٤٢
* الأراضي المنبسطة التي تجاور سواحل البحار والمحيطات	* الأراضي المنخفضة التي تكونت من التربة التي حملتها مياه الأنهار



مجموع درجات السؤال الثاني بالحروف

١٠

**السؤال الثالث (مقالى) يتكون من ( أ - ب - ج ):**

**( أ ) اقرأ الفقرة التالية ثم أجب عما يليها من أسئلة: ( ٣ درجات لكل نقطة درجة )**

يتميز الوطن العربي منذ القدم بأهميته الاقتصادية فهو بمثابة الجسر الذي يربط قارات العالم القديم (أفريقيا آسيا أوروبا) بمواردها المختلفة مُشكلاً بذلك منطقة عبور لحركة الملاحة والتجارة العالمية ، أما في وقتنا الحالي فقد زادت أهميته الاقتصادية بعد ظهور النفط بمنطقة الخليج العربي وشبه الجزيرة العربية وبعض مناطق شمال أفريقيا بكميات كبيرة .

**١- استخراج من الفقرة السابقة مايلي:**

- الأهمية الاقتصادية للوطن العربي . ( يكتفى بنقطة واحدة )

\* بمثابة الجسر الذي يربط قارات العالم القديم بمواردها المختلفة \* منطقة عبور لحركة الملاحة والتجارة العالمية

\* ظهور النفط بمنطقة الخليج العربي وشبه الجزيرة العربية وبعض مناطق شمال أفريقيا بكميات كبيرة ص ٣٥

- أسماء القارات التي يربط بينها الوطن العربي .

\* أفريقيا آسيا أوروبا ص ٣٥

٢- عرف ما تحته خط .

\* الوطن العربي : مجموعة الدول العربية التي يجمعها عدد من السمات المشتركة الدين واللغة ويمتد ضمن قارتين من أكبر قارات العالم مساحة . ص ٢٢

**( ب ) قارن بين كل مما يلي: ( ٤ درجات لكل نقطة درجة )**

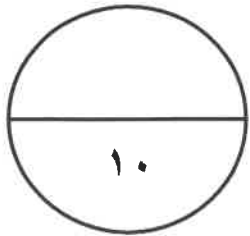
أوجه المقارنة	الغابات المدارية الحارة <u>ص ٥٢</u>	الغابات المدارية المعتدلة <u>ص ٥٢</u>
مميزات أشجارها	* ضخامة أشجارها وجنوعها * تشابك أغصانها * أوراقها عريضة * ارتفاعها كبير ( يكتفى بنقط واحدة )	* عدم كثافتها * بعضها دائم الخضرة * تتساقط أوراقها في فصل الشتاء . ( يكتفى بنقط واحدة )
أهم أشجارها	* الساج * الماهوجوني * التاك * الأبنوس * السدر * الأثل * السنط ( يكتفى بنقط واحدة )	* الأرز * العرعر * الصنوبر الحلبي * البلوط * السنديان * الزيتون * التفاح * الحمضيات * الفواكه البرية ( يكتفى بنقط واحدة )

**( ج ) أجب عن الأسئلة التالية: ( ٣ درجات لكل نقطة درجة )**

١- علل - المدن الساحلية أكثر اعتدالاً في المناخ صيفاً ، وأدفاً نسبياً شتاء .  
\* لان البحر يلطف من درجة حرارتها ص ٤٦

٢- عدد - عوامل ازدهار الزراعة في بلاد الرافدين . ( يكتفى بنقطتين )  
\* خصوبة تربتها \* سعة سهولها \* وفرة مياهها ص ٨١

مجموع درجات السؤال الثالث بالحروف





**السؤال الرابع (مقالى) يتكون من ( أ - ب - ج):**



(٣ درجات لكل نقطة درجة) ص ٧٤+٧٥

**( أ ) لاحظ الصورة المقابلة ثم أجب عن الأسئلة التالية :**

١- أكتب اسم الحضارة التي يمثلها المعلم الحضاري .  
\* الحضارة المصرية القديمة

٢- اذكر العوامل التي ساعدت على قيام تلك الحضارة .

\* تنوع الصخور والمعادن \* امتداد الصحراء  
\* نهر النيل \* اعتدال المناخ وجفافه ( يكتفى بنقطتين )

موقع  
المنهج الكويتية  
almanahj.com/kw

**( ب ) أجب عن الأسئلة التالية:** ( ٤ درجات لكل نقطة درجة )

١- علل - الأهمية الحضارية والثقافية للوطن العربي .  
( يكتفى بنقطتين ) ص ٣٦

\* قامت على أراضي الوطن العربي حضارات عديدة .  
\* هبطت على أرضه الديانات السماوية التي انتشرت في أنحاء العالم .

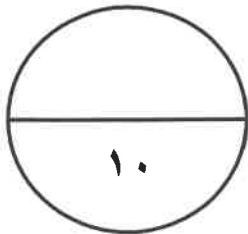
٢- أذكر- أنواع الحيوانات السائدة في المناطق الصحراوية . ( يكتفى بنقطتين ) ص ٥٥

\* اهم الحيوانات السائدة في المنطقة الصحراوية :

\* الإبل \* الماعز \* الضب \* الأرانب البرية \* الصقور \* البوم \* الحبارى \* الجراد \* العقارب \* الخنافس  
\* الأفاعي \* القوارض \* الفئران \* الجربوع .

**( ج ) عرف المفاهيم أو المصطلحات التالية:** ( ٣ درجات لكل نقطة درجة )

١- الضغط الجوي	* وزن الهواء فوق أي مكان ص ٤٤
٢- الموقع الفلكي	* نقطة من الكرة الأرضية يتحدد موقعها بخطوط الطول ودوائر العرض ص ٣١
٣- الحضارة	* كل ما يطرأ على المجتمع من تقدم وتطور وراقي في جميع نواحي الحياة الدينية والسياسية والاقتصادية والاجتماعية والفكرية . ص ٧١



مجموع درجات السؤال الرابع بالحروف

انتهت الإجابة ،،،

تم التحميل من شبكة ياكويت التعليمية



Telegram:  
ykuwait\_net\_home