



وزارة التربية

الإدارة العامة لمنطقة مبارك الكبير التعليمية

نهاية الفصل الدراسي الثاني
٢٠١٩ / ٢٠١٨

الثامن	الصف
الاجتماعيات	المادة



وزارة التربية	امتحان نهاية الفصل الدراسي الثاني	العام الدراسي : ٢٠١٨ / ٢٠١٩ م
التوجيه الفني للاجتماعيات	مقرر دولة الكويت والعالم الإسلامي	الزمن : ساعة و ٤٥ دقيقة
الإدارة العامة لمنطقة مبارك الكبير التعليمية	للسف الثامن	عدد الأوراق : ٥

السؤال الأول موضوعي : يتكون من (أ - ب)

(أ) أكمل العبارات التالية بما يناسبها مما درست :- (١ × ٦ = ٦ درجات)

١- تم إطفاء آخر بئر نفطي في الكويت عام ١٩٩١ ص ١٢٠

٢- عقد أول مؤتمر للدول المانحة عام ٢٠١٣ ص ١٦٠

٣- الفرق بين قيمة الصادرات و قيمة الواردات بالدولة يسمى الميزان التجاري ص ١٠٠

٤- أعلى الدول الإسلامية في معدل محو الأمية دولة تسمى كازاخستان ص ١٢٩

٥- الغاز الأول المسؤول عن الاحتباس الحراري يسمى ثاني أكسيد الكربون ص ٩٠

٦- برامج تحسين نوعية الحياة ولا يتحقق إلا بمشاركة جميع المواطنين تسمى بـ التنمية المستدامة ص ٩٣

(ب) اختر البديل المناسب من بين البدائل التي تلي كل عبارة بوضع خطأ تحتها :- (١ × ٦ = ٦ درجات)

١- تم إنشاء شرطة البيئة في دولة الكويت عام : ص ٨٢

(٢٠١٣ م - ٢٠١٤ م - ٢٠١٥ م - ٢٠١٦ م)

٢- القائد الذي دعا إلى إنشاء منظمة التعاون الإسلامي يعرف باسم : ص ١٣٧

(الملك فيصل آل سعود - الشيخ جابر الصباح - السلطان قابوس - الرئيس حسني مبارك)

٣- بلغت نسبة تلوث الهواء في باكستان بسبب عوادم السيارات : ص ٨٣

(٣٠% - ٤٠% - ٥٠% - ٦٠%)

٤- عقد المؤتمر الإسلامي الثالث عشر في دولة اسمها : ص ١٤٤

(أفغانستان - السنغال - الكويت - تركيا)

٥- من مصادر التلوث البشرية : ص ٨١

(الزلازل - الحروب - البراكين - الغبار)

٦- عدد المسلمين الذين يعيشون في الدول غير الإسلامية بلغ : ص ١١٢

(٢٥٠ مليون - ٣٥٠ مليون - ٤٥٠ مليون - ٥٥٠ مليون)



السؤال الثاني موضوعي : يتكون من (أ - ب)

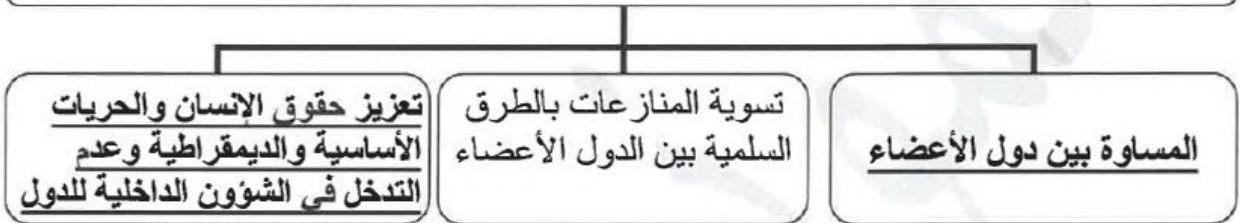
(أ) أكمل المخططات السهمية التالية :- (١ × ٦ = ٦ درجات)



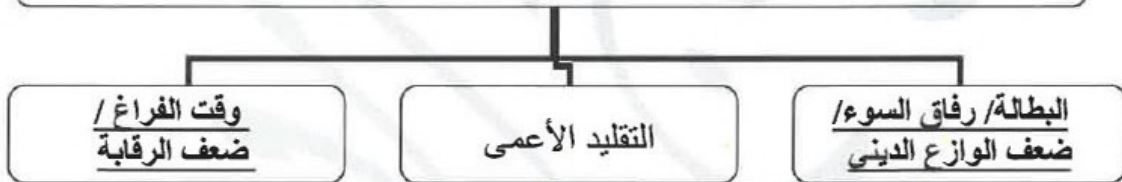
الجهات الحكومية التي تشرف على المساعدات الخارجية ص ١٥٩



مبادئ منظمة التعاون الإسلامي ص ١٤٠



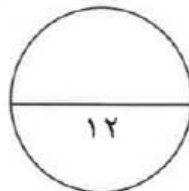
أسباب ظاهرة المخدرات في العالم الإسلامي ص ١٢٦



(ب) صوب ما تحته خط في العبارات التالية :- (١ × ٦ = ٦ درجات)

- ١- زحف رمال الصحراء على المناطق الجافة وشبه الجافة هي مشكلة الاحتباس الحراري (التصحر ص ٨٨)
- ٢- الاعتدال في كل أمور الحياة بمعناها الشامل يسمى حق تقرير المصير (الوسطية ص ١٦٨)
- ٣- الدول التي مازالت أقل تقدماً في ميادين الاقتصاد والعلم والتكنولوجيا تسمى الدول المتطورة (الدول النامية ص ١٠٠)
- ٤- مقر اللجنة الإسلامية للهلال الدولي تقع في مدينة تسمى طرابلس (بنغازي ص ١٤٥)
- ٥- أدنى مستوى من الدخل يحتاجه المرء حتى يكون بالإمكان توفير معيشة ملائمة يسمى الدخل القومي (خط الفقر ص ٩٧)
- ٦- عملية اقتصادية واجتماعية هدفها إزالة الحواجز بين الوحدات وتحقيق تكافؤ الفرص تسمى الرأسمالية

(التكامل الاقتصادي ص ١٠٠)



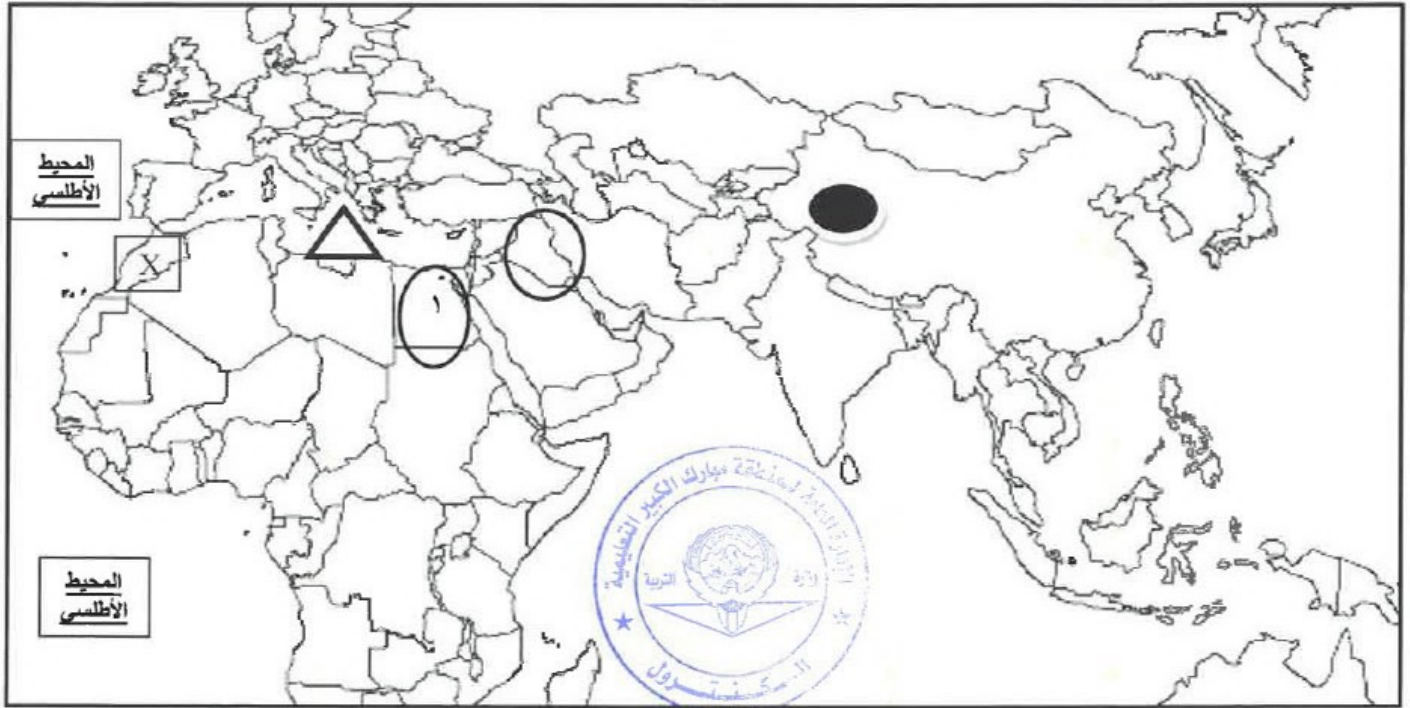
السؤال الثالث موضوعي: يتكون من (أ - ب)

(أ) صنف أسماء الدول الإسلامية التالية حسب موقعها في القارات في الجدول الذي يليها : (٦ × ٦ = ٦) ص ١٣٧

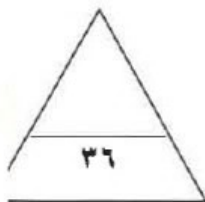
(ألبانيا - ماليزيا - الكويت - مصر - السنغال - البوسنة والهرسك)

القارة	آسيا	أفريقيا	أوروبا
الدول	الكويت / ماليزيا	مصر/السنغال	ألبانيا / بوسنة والهرسك

(ب) لاحظ خريطة العام الإسلامي الصماء ، ثم أجب عن الأسئلة التي تليها :- (٦ × ٦ = ٦ درجات)



- 1- ضع رمز X على الدولة الإسلامية التي تم الإعلان فيها عن نشأة منظمة التعاون الإسلامي ص ١٣٨
- 2- ضع رمز ○ على الدولة التي قامت باحتلال دولة الكويت عام ١٩٩٠م ص ١٠٤
- 3- الرقم (١) يشير إلى دولة عربية تعتبر نموذجا للتلوث الضوضائي في العالم الإسلامي تسمى مصر ص ٨٧
- 4- حدد إقليم شينجيانغ أوريجور الذي يضم أقليات إسلامية في جمهورية الصين الشعبية ص ١١٣
- 5- حدد موقع البحر الأبيض المتوسط وضع عليه الرمز △
- 6- اكتب اسم المحيط الأطلسي على الخريطة في موقعة الصحيح



مجموع درجات السؤال الأول

(٣)

السؤال الرابع مقال: يتكون من (أ - ب - ج) .
(أ) فرق من حيث المفهوم بين كلاً من :- (١ × ٢ = ٢ درجات) ص ٩١

التدوير	النفايات
إعادة استخدام المخلفات لإنتاج منتجات أخرى أقل جودة من المنتج الأصلي	هي أي مواد زائدة و غير مرغوبة من مخلفات البيئة أو الفضلات

(ب) أجب عن الأسئلة التالية :- (١ × ٦ = ٦ درجات)



١- الأسباب الرئيسية لزيادة أعداد السكان في العالم الإسلامي . ص ٩٥

- زيادة طبيعية

- زيادة غير طبيعية

٢- أسباب الفقر في الدول الإسلامية . ص ٩٨

- ضعف الاقتصاد الدولة / انتشار البطالة / عدم توافر فرص عمل

- قلة التبرعات والصدقات في المجتمع / تضخم أسعار السلع و الخدمات

٣- كيف تكونت الأقليات الإسلامية . ص ١١٢

- هجرة بعض المسلمين إلى أراضي غير مسلمة

- اعتناق الإسلام

(ج) عرف المفاهيم التالية :- (١ × ٤ = ٤ درجات)

١- الدولة الإسلامية : هي الدولة التي يكون فيها نسبة المسلمين ٥٠% أو أكثر من نسبة مجموع سكانها و يحكمها حاكم

المسلم ص ١٣٧

٢- الدخل القومي : مجموع الدخل المكتسب في بلد ما خلال فترة زمنية معينة ، عادة ما تكون سنة واحدة ص ١٠٠

٣- الأمية : الإنسان الذي يبلغ الثاني عشرة من عمره و لم يتعلم القراءة و الكتابة و الحساب ص ١٢٨

٤- العولمة : هي نظام عالمي جديد يقوم على الإبداع العلمي وثورة الاتصالات بحيث يصبح العالم كقرية واحدة ص ٩٩

السؤال الخامس مقالي : يتكون من (أ - ب - ج) .

(أ) قارن بين كل مما يلي : - (١ × ٤ = ٤ درجات) ص ١٤٥

المقارنة	المنظمة الإسلامية للتربية والعلوم والثقافة (الإيسيسكو)	وكالة الأنباء الإسلامية الدولية (إينا)
المقر	الرباط	جدة
سنة التأسيس	١٩٨٢	١٩٧٢

(ب) علل لما يلي (انكر السبب) :- (١ × ٤ = ٤ درجات)

١- هجوم القوات العراقية على مركز الصامته الحدودي الكويتي عام ١٩٧٣ م . ص ١٠٣

- بسبب رفض الحكومة الكويتية للمشروع العراقي للحصول على منفذ بحري جديد

٢- قيام منظمة التعاون الإسلامي . ص ١٣٨

- بسبب قيام المحتل الإسرائيلي بإحراق المسجد الأقصى في فلسطين

٣- رسم الحدود بين دول العالم . ص ١٠٢

- حتى تفصل بين سيادة دولة و دولة أخرى

٤- تسمية قائد دولة الكويت الشيخ صباح الأحمد الصباح بقائد العمل الإنساني ص ٨٢

- لدورة في تعزيز مبادئ الإنسانية والأمن الإنساني و دعمه للشعوب و تطوير المجتمعات

(ج) انظر إلى الشكل الذي أمامك ثم أجب :- (١ × ٤ = ٤ درجات) ص ١٥٩

١- ماذا يمثل هذا الشعار ؟

- الصندوق الكويتي للتنمية الاقتصادية العربية

٢- سنة التأسيس .

- ١٩٦١ م

٣- أهم أهدافه .

أ- تقديم القروض الميسرة للدول المحتاجة / تقديم المنح مثل المعونات الفنية

ب- الاسهام في برامج التنمية



انتهت الأسئلة تمنياتنا بالتوفيق والنجاح