

تم تحميل هذا الملف من موقع المناهج الكويتية



الملف نموذج إجابة التعليم الخاص

[موقع المناهج](#) ← [المناهج الكويتية](#) ← [الصف الثامن](#) ← [اجتماعيات](#) ← [الفصل الأول](#)

روابط مواقع التواصل الاجتماعي بحسب الصف الثامن



روابط مواد الصف الثامن على تلغرام

[الرياضيات](#)

[اللغة الانجليزية](#)

[اللغة العربية](#)

[التربية الاسلامية](#)

المزيد من الملفات بحسب الصف الثامن والمادة اجتماعيات في الفصل الأول

مسودة كتاب الطالب في مادة الاجتماعيات لعام 2018	1
خطة توزيع منهج العام الجديد في مادة الاجتماعيات	2
حل الوحدة الاولى في مادة الاجتماعيات	3
ورقة عمل في مادة الاجتماعيات	4
ورقة عمل في مادة الاجتماعيات	5



وزارة التربية
الإدارة العامة للتعليم الخاص
التوجيه الفني للاجتماعيات

امتحان الفترة الدراسية الأولى
مقرر دولة الكويت والعالم الإسلامي
للفن الثامن

العام الدراسي : ٢٠٢٤ / ٢٠٢٥ م
الزمن : ساعة وخمسة وأربعون
عدد الأوراق : (٥)

تم التحميل من شبكة ياكويت التعليمية

نموذج الإجابة



Telegram:
ykuwait_net_home

وزارة التربية
الإدارة العامة للتعليم الخاص

نموذج الإجابة

أجب عن جميع الأسئلة:

السؤال الأول : يتكون من (أ - ب - ج) :

(أ) أكمل العبارات التالية بما يناسبها مما درست (١ × ٥ = ٥ درجات)

١- أول حاكم بعد الرسول ﷺ اسمه أبي بكر الصديق ص ٢٥

٢- الدولة التي يقع فيها جبل مرة تسمى السودان ص ٥٤

٣- عالم مسلم من أشهر مؤلفاته كتاب الصيدلة في الطب اسمه البيروني ص ١٩

٤- نسبة إنتاج العالم الإسلامي من الغاز الطبيعي تبلغ ٣٦% ص ٦٧

٥- القصر الذي بناه الخليفة هشام بن عبد الملك في سوريا يسمى الرصافة ص ٣٥

(ب) ضع علامة (✓) أمام الخيار الصحيح من بين الخيارات التي تلي كل عبارة : (١ × ٥ = ٥ درجات)

١- أصغر دول العالم الإسلامي من حيث المساحة: ص ٥٢

<input checked="" type="checkbox"/> المالديف	<input type="checkbox"/> البحرين	<input type="checkbox"/> قطر	<input type="checkbox"/> جزر القمر
--	----------------------------------	------------------------------	------------------------------------

٢- عدد الدول الإسلامية في قارة آسيا : ص ٥١

<input type="checkbox"/> ٢٥	<input type="checkbox"/> ٢٦	<input checked="" type="checkbox"/> ٢٧	<input type="checkbox"/> ٢٨
-----------------------------	-----------------------------	--	-----------------------------

٣- الهضبة التي تقع في تركيا: ص ٥٦

<input type="checkbox"/> الإيرانية	<input checked="" type="checkbox"/> الأناضول	<input type="checkbox"/> الصحراء الكبرى	<input type="checkbox"/> نجد
------------------------------------	--	---	------------------------------

٤- المدينة التي يقع فيها المسجد الأموي: ص ٣٣

<input type="checkbox"/> القاهرة	<input checked="" type="checkbox"/> دمشق	<input type="checkbox"/> إسطنبول	<input type="checkbox"/> دومة الجندل
----------------------------------	--	----------------------------------	--------------------------------------

٥- أكثر دول العالم الإسلامي في إنتاج اليورانيوم: ص ٧٠

<input type="checkbox"/> باكستان	<input type="checkbox"/> النيجر	<input type="checkbox"/> أوزباكستان	<input checked="" type="checkbox"/> كازاخستان
----------------------------------	---------------------------------	-------------------------------------	---


(ج) صنف الكلمات التالية في مكانها المناسب بالجدول الذي يليها : (١ × ٥ = ٥ درجات)

(الرياضيات - حديث - فقه - الفيزياء - الكيمياء) ص ١٧

العلوم العقلية	العلوم النقلية
<ul style="list-style-type: none"> ● الرياضيات ● الفيزياء ● الكيمياء 	<ul style="list-style-type: none"> ● حديث ● فقه

السؤال الثاني : يتكون من (أ - ب - ج) :


(أ) ضع عنواناً مناسباً للأشكال والصور التالية : (١ × ٥ = ٥ درجات)




● القطن
ص ٧٣



● خريطة شبه الجزيرة العربية
قديمًا والحضارات المجاورة لها ص ١٧



● التل ص ٥٦



● أرابيسك ص ٢٧

تم التحميل من شبكة ياكويت التعليمية



Telegram:
ykuwait_net_home



● الذهب ص ٧١

تابع السؤال الثاني :

(ب) ظلل الحرف (أ) إذا كانت العبارة صحيحة وظلل الحرف (ب) إذا كانت العبارة خاطئة : (١×٥=٥ درجات)

م	العبارة	التظليل
١	يوم الاحتفال باللغة العربية هو ١٨ ديسمبر من كل عام. ص ٢١	أ ب
٢	تجب الزكاة على الأموال النقدية التي حال عليها الحول بواقع ٥٪. ص ٢٨	أ ب
٣	تعتبر موزمبيق احدى دول العالم الإسلامي. ص ٥١	أ ب
٤	يقع نهر جوبا في المغرب ص ٥٩	أ ب
٥	ألف الجاحظ ٣٥٠ كتابا وبحث في علوم الفقه والأدب . ص ٤٠	أ ب

(ج) صوب ما تحته خط في العبارات التالية : (١×٥=٥ درجات)

م	العبارة	التصويب
١	المنصب الإداري المستحدث في عهد الخليفة عمر بن الخطاب هو <u>الوزير</u> ص ٢٥	المحتسب
٢	قرية تقع في وسط جزيرة فيلكا هي <u>القرينية</u> ص ٢٨	القصور
٣	الدولة الإسلامية الوحيدة التي تقع في قارة أمريكا الجنوبية هي <u>تشاد</u> . ص ٥١	سورينام
٤	نسبة إنتاج العالم الإسلامي من الحبوب تبلغ <u>٢٤٪</u> . ص ٧٢	١٤٪
٥	الدولة التي احتلت المركز الثاني في الإنتاج البحري عام ٢٠١٤م هي <u>المغرب</u> ص ٧٤	إندونيسيا



تم التحميل من شبكة ياكويت التعليمية



Telegram:
ykuwait_net_home

السؤال الثالث : يتكون من (أ - ب - ج) :

(أ) اقرأ الفقرة التالية ثم أجب عن ما يليها من أسئلة : (٥ درجات)

انعكس أثر خصائص الحضارة الإسلامية على دولة الكويت، حيث أن الشعب الكويتي نشأ على الحب والتراحم والعدل والتسامح والمساواة، ومد يد العون سواء للمسلمين أو غير المسلمين، والعمل على فعل الخير من خلال تأسيس المؤسسات والهيئات والجمعيات الخيرية. ص ٢٤

١- عرف ماتحته خط. (درجة) ص ١٨

هي كل ما يطرأ على المجتمع من تقدم وتطور ورقي سواء في الجانب المادي أو الجانب الروحي.

٢- أذكر بعض الشخصيات التي برزت في مجال العمل الخيري والإنساني في دولة الكويت (درجتان)

• الشيخ صباح الأحمد الصباح رحمه الله • الداعية الدكتورة عبدالرحمن السميح رحمه الله ص ٢٤

٣- عدد خصائص الحضارة الإسلامية.

• تسامح. • إيمان وعمل • إنسانية. • عالمية. • شمولية (درجتان) يكتفى بنقطتين ص ٢٢-٢٣

(ب) علل لما يأتي (اذكر السبب) : (٢ × ٣ = ٦ درجات)

١- ازدهار العلم وظهور العلماء في الحضارة الإسلامية. (درجتان) يكتفى بنقطتين ص ٣٧

• تشجيع العلماء ورعاية وتمويل القيادات السياسية لهم من خلفاء وملوك وسلاطين وأمراء.

• التنافس العلمي بين الدول الإسلامية.

• حركة التعريب (الترجمة) للكتب القديمة اليونانية والهندية والفارسية وغيرها. • الرخاء الاقتصادي.

٢- تنوع المناخ في دول العالم الإسلامي. (درجتان) يكتفى بنقطتين ص ٦٣

• امتداد دول العالم الإسلامي على مساحة شاسعة.

• الموقع بالنسبة لدوائر العرض. • الإطلالة على عدة مسطحات مائية في معظم أجزائه.

• التنوع في التضاريس من جبال وهضاب وسهول ووديان.

٣- أهمية السهول. (درجتان) يكتفى بنقطتين ص ٥٨

■ استخدامها كموانئ طبيعية. ■ تشييد المدن ■ تركيز السكان فيها لسهولة التنقل.

الإدارة العامة للتعليم الخاص

نموذج الإجابة

(ج) عرف ما يلي : (١ × ٤ = ٤ درجات)

١- الجزية: مبلغ مالي يدفعه الرجال غير المسلمين من (أهل الذمة) ممن هم قادرون على حمل السلاح

نظير حماية الدولة لهم. ص ٢٩


٢- القصور: هي مقر الحاكم والمكان الذي يضم المؤسسات الإدارية كالوزارة والدواوين وأحيانا تكون

قصورا صحراوية لتنزه الخلفاء. ص ٣٤

٣- احتياطي النفط: كمية النفط المخزونة في باطن الأرض ولم تستخرج بعد. ص ٦٨

٤- الوادي: حوض أو منخفض طبيعي على سطح الأرض. ص ٥٣

(أ) لاحظ الصورة التي أمامك ثم أجب عن ما يليها من أسئلة: (٤ درجات)



- ١- ما الذي تمثله الصورة التي أمامك؟ ص ٣١ درجة
 - المسجد الكبير في دولة الكويت
- ٢- متى تم افتتاحه؟ ص ٣١ درجة
 - عام ١٩٨٦م
- ٣- في عهد أي شيخ تم افتتاحه؟ ص ٣١ درجة
 - جابر الأحمد الصباح.
- ٤- ما نوع الطراز المعماري الذي صمم عليه؟ ص ٣١ درجة
 - الطراز الأندلسي الإسلامي

(ب) عدد لما يلي: (٧ درجات)

- ١- عناصر المناخ. ص ٦٤ درجتان يكفى بنقطتين
 - درجة الحرارة.
 - الرطوبة.
 - الأمطار.
 - ٢- المساجد الثلاثة الرئيسية في العالم الإسلامي. ص ٣٢ - ٣٣ ثلاث درجات يكفى بنقطتين
 - الكعبة المشرفة في مكة المكرمة.
 - المسجد النبوي في المدينة المنورة.
 - المسجد الأقصى المبارك.
 - ٣- العوامل التي ساعدت على زيادة الإنتاج الزراعي في دول العالم الإسلامي. ص ٧٢ درجتان يكفى بنقطتين
 - التربة الخصبة.
 - المناخ.
 - كثرة السكان والأيدي العاملة.
 - وجود البحيرات والأنهار والآبار.
 - سقوط الأمطار.
- تم التحميل من شبكة ياكويت التعليمية

(ج) دلل على صحة العبارات التالية: (٢ × ٢ = ٤ درجات)

- للحضارة الإسلامية أسس قوية ثابتة. ص ٢٠ درجتان يكفى بنقطتين
 - الدين الإسلامي.
 - اللغة العربية.
 - الحضارات الأخرى.
- للمسلمين جهود في الزراعة. ص ٢٦ درجتان يكفى بنقطتين
 - شق القنوات المائية والترع.
 - إقامة السدود.
 - تنظيم وسائل الري.

انتهت الأسئلة



Telegram:
[ykuwait_net_home](https://t.me/ykuwait_net_home)