

تم تحميل هذا الملف من موقع المناهج الكويتية



منطقة الأحمدية التعليمية

الملف نموذج إجابة منطقة الأحمدية

[موقع المناهج](#) ← [المناهج الكويتية](#) ← [الصف السادس](#) ← [اجتماعيات](#) ← [الفصل الأول](#)

روابط مواقع التواصل الاجتماعي بحسب الصف السادس



روابط مواد الصف السادس على تلغرام

[الرياضيات](#)

[اللغة الانجليزية](#)

[اللغة العربية](#)

[التربية الاسلامية](#)

المزيد من الملفات بحسب الصف السادس والمادة اجتماعيات في الفصل الأول

نموذج اجابة اختبار لمنطقة مبارك الكبير عام 2016	1
اوراق عمل مهمة في مادة الاجتماعيات	2
بنك اسئلة ممتاز في مادة الاجتماعيات	3
بنك معلومات مهم في مادة الاجتماعيات	4
تلخيص اجتماعيات بشكل مبسط	5



وزارة التربية

الإدارة العامة لمنطقة الاحمدي التعليمية

التوجيه الفني للاجتماعيات

نموذج إجابة

امتحان نهاية الفترة الدراسية الأولى

لمقرر الكويت و دول الخليج العربية

للمصف السادس

العام الدراسي ٢٠٢٢/٢٠٢٣ م

الزمن : ساعة و ٤٥ دقيقة

عدد الأوراق : ٥



تم التحميل من شبكة ياكويت التعليمية



Telegram:

ykuwait_net_home

(أجب عن جميع الأسئلة)
السؤال الأول : (موضوعي) يتكون من (أ - ب) (درجة لكل نقطة)

(أ) أكمل العبارات التالية بما يناسبها مما درست :

ص ٢٠

١- الموقع بالنسبة لخطوط الطول و دوائر العرض يسمى الموقع الفلكي

ص ٢٥

٢- الرياح الجنوبية الشرقية في منطقة الخليج العربية تسمى الكوس

ص ٢٦

٣- النباتات المتوفرة طوال العام وتتحمل الجفاف وارتفاع درجة الحرارة تسمى نبات معمر

ص ٤٧

٤- البحر الأدنى أو بحر شروق الشمس اسم أطلق قديما علي مسطح مائي يسمى الخليج العربي

ص ٦٤

٥- الوثيقة الكويتية التي أصدرت عام ١٩٦٢م غرست مبادئ الديمقراطية تسمى الدستور الكويتي

ص ٦٥

٦- الدولة الخليجية العربية الوحيدة التي لم تتعرض للإستعمار اسمها المملكة العربية السعودية

(ب) ضع خطأ تحت الخيار الصحيح من بين الخيارات التي تلي كل عبارة :

١- تقع منطقة الخليج العربية بالنسبة لقارة آسيا في الجهة : ص ١٩

د- الشمالية الغربية

ج- الجنوبية الشرقية

ب- الشمالية الشرقية

أ- الجنوبية الغربية

٢- ينتهي موسم الغوص على اللؤلؤ بمنطقة الخليج العربية في شهر : ص ٣٢

د- نوفمبر

ج- أكتوبر

ب- سبتمبر

أ- أغسطس

٣- المكان الذي انطلقت منه الأمة الإسلامية في بدايتها : ص ٥٣

د- الرياض

ج- المدينة المنورة

ب- جدة

أ- الطائف

٤- بلغ عدد الدول التي يضمها مجلس التعاون لدول الخليج العربية : ص ٧٠

د- ٨ دول

ج- ٧ دول

ب- ٦ دول

أ- ٥ دول

٥- أطلق على القمة السابعة و العشرون لمجلس التعاون لدول الخليج العربية اسم الشيخ : ص ٧٤


د- جابر الأحمد الصباح

ج- مشعل الأحمد الصباح

ب- صباح الأحمد الصباح

أ- نواف الأحمد الصباح

٦- توضح الصورة المقابلة آثار حضارة : ص ٤٧



ب- الهليسيستية

أ- مجان

د- الأنباط

ج- دلمون

تابع / نموذج إجابة امتحان نهاية الفترة الدراسية الأولى للصف السادس لمقرر الكويت و دول الخليج العربية ٢٠٢٢/٢٠٢٣

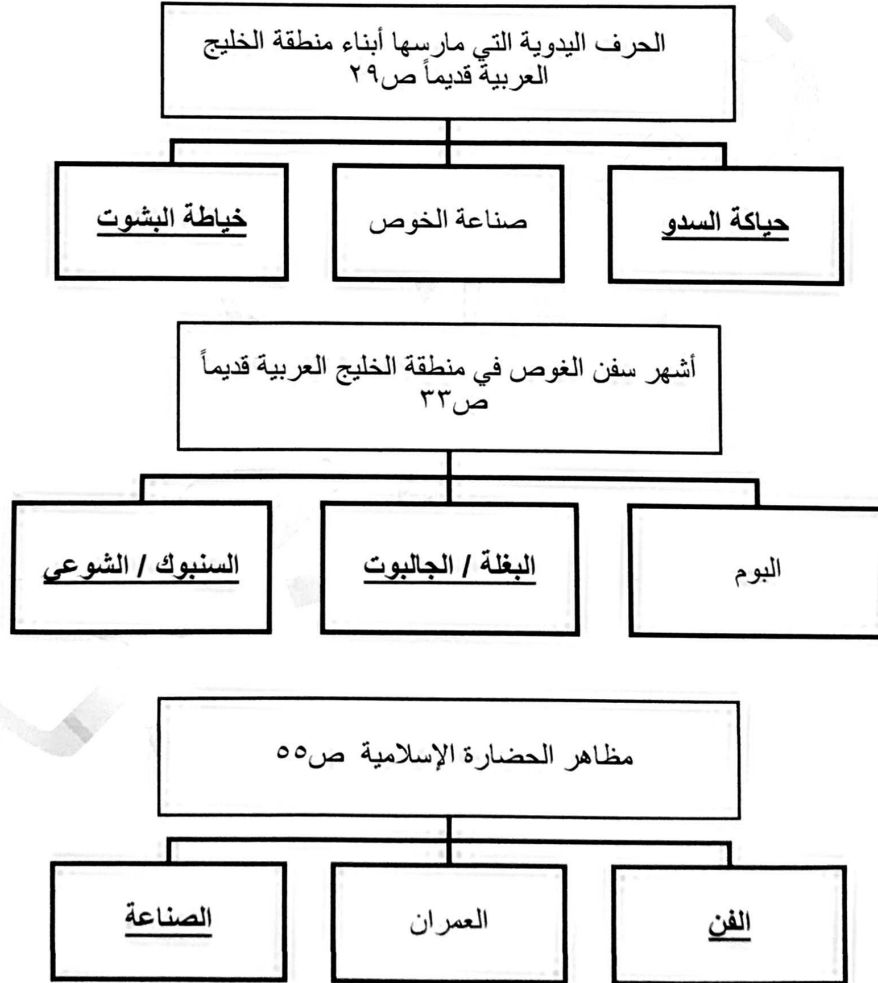
السؤال الثاني : (موضوعي) يتكون من (أ - ب) (درجة لكل نقطة)

(أ) صنف كل مما يلي حسب موقعه الصحيح في الجدول التالي :

(النهام – الرضيف – الغواص – النوخذه – الطواش – المجدمي – السيب) ص ٣٢

المنهج	الطواش	السيب	النهام	الغواص	النوخذة
رئيس البحرية	تاجر اللؤلؤ	يسحب الغاصة من أعماق البحر	مطرب السفينة	يغوص في أعماق البحر بحثاً عن اللؤلؤ	ربان السفينة

(ب) أكمل المخططات السهمية التالية :



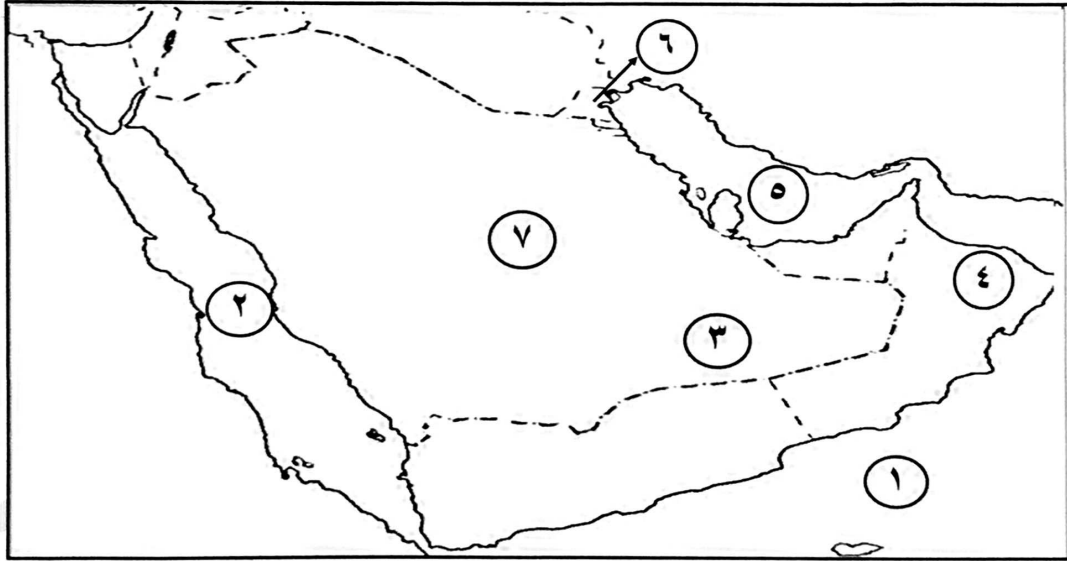
تابع / نموذج إجابة امتحان نهاية الفترة الدراسية الأولى للصف السادس لمقرر الكويت و دول الخليج العربية ٢٠٢٢/٢٠٢٣

السؤال الثالث : (موضوعي) يتكون من (أ - ب) (درجة لكل نقطة)

(أ) صحح ما تحته خط في العبارات التالية وذلك بكتابة التصويب في المكان المناسب :

التصحيح	العبارة
١٨٠ ص ٢١	١ . يبلغ عدد دوائر العرض ٣٦٠ دائرة
الواحة ص ٢٩	٢ . منطقة تقع في الصحراء فيها مياه عذبة صالحة للزراعة <u>الهضبة</u>
الدشة ص ٣٢	٣ . بداية موسم الغوص في منطقة الخليج العربية يسمى <u>القفال</u>
رأس الخيمة ص ٥٧	٤ . كانت هجرة القواسم إلى <u>البحرين</u>
البرتغال ص ٦٠	٥ . أول دولة إستعمارية أوروبية دخلت منطقة الخليج العربية <u>هولندا</u>
١٩٨١م ص ٧٠	٦ . أعلن عن قيام مجلس التعاون لدول الخليج العربية عام ١٩٧١م

(ب) لاحظ خريطة شبه الجزيرة العربية الصماء ، ثم أجب عن الأسئلة التي تليها :



- دولة الكويت يمثلها على الخريطة الرقم ٦ ص ١٩
- هضبة نجد يمثلها على الخريطة الرقم ٧ ص ٢٣
- بحر العرب يمثلها على الخريطة الرقم ١ ص ٤٩
- الخليج العربي يمثلها على الخريطة الرقم ٥ ص ٥٨
- صحراء الربع الخالي يمثلها على الخريطة الرقم ٣ ص ٢٣
- الدولة الخليجية التي يقع فيها الجبل الأخضر يمثلها على الخريطة الرقم ٤ ص ٢٣



Telegram:
ykuwait_net_home

السؤال الرابع : (مقالى) يتكون من (أ - ب - ج) (درجة لكل نقطة)

(أ) أقرأ الفقرة التالية ثم أجب عما يليها من أسئلة :

يتصف مناخ منطقة الخليج العربية بأنه صحراوي قاري. حيث ترتفع درجة الحرارة صيفاً، بينما تنخفض شتاءً وتهب على منطقة الخليج العربية ثلاث أنواع من الرياح، الرياح الشمالية والرياح الجنوبية الشرقية ثم الزوابع الترابية. بينما الأمطار قليلة وغير منتظمة تسقط بفصل الشتاء.

١- عرف ما تحته خط :-

- مناخ : حالة الجو في مكان ما خلال فترات زمنية طويلة ص ٢٥

٢- استخرج من الفقرة أنواع الرياح في دول الخليج العربية :

- الرياح الشمالية

- الرياح الجنوبية الشرقية

- الزوابع الترابية

(ب) علل لما يلي :

١- أهمية الموقع الجغرافي لمنطقة الخليج العربية. ص ١٩

- تقع في وسط العالم.

- تتحكم بأهم طرق التجارة العالمية.

٢- انصراف سكان منطقة الخليج العربية عن حرفة الغوص. ص ٣١

- ظهور اللؤلؤ الصناعي.

- إكتشاف النفط.

(ج) أجب على ما هو مطلوب منك في الجدول التالي :

تم التحميل من شبكة ياكويت التعليمية



Telegram:
ykuwait_net_home



«ألا يتنازل أو يبيع أو يؤجر أي جزء من أراضيه لدولة أجنبية دون موافقة مسبقة من الحكومة البريطانية، وألا يستقبل هو أو خلفاؤه من بعده ممثل أي دولة أجنبية دون إذن من السلطات البريطانية مقابل حماية بريطانية لإمارة الكويت من أي خطر خارجي» .

المطلوب

معاهدة الإستقلال عام ١٩٦١م

اتفاقية الحماية عام ١٨٩٩م

نوع الإتفاقية

الشيخ عبدالله السالم ص ٦٣

الشيخ مبارك الصباح ص ٦٢

الحاكم الكويتي الذي تمت في عهده

السؤال الخامس : (مقال) يتكون من (أ - ب - ج) (درجة لكل نقطة)

(أ) عدد إثنين لكل مما يلي:

١- السمات المشتركة بين دول مجلس التعاون لدول الخليج العربية. ص ٧٠

- وحدة التراث / الانتماء

- الدين / المصالح المشتركة

٢- وسائل صيد الأسماك قديماً في منطقة الخليج العربية. ص ٣١

- الميدار / الحظرة

- القرقور

(ب) فرق بين كل مما يلي من حسب ماهو مطلوب في الجدول : (يكتفى بنقطتين)

إنجازات مجلس التعاون لدول الخليج العربية	أهداف مجلس التعاون لدول الخليج العربية
- إقامة الإتحاد الجمركي / انطلاق السوق الخليجي المشترك في يناير ٢٠٠٨م / التنسيق في المجال السياسي في المحافل الدولية. - وثيقة التطوير الشامل للتعليم / اتفاقية الدفاع المشتركة واستمرار تعزيز قوة درع الجزيرة / التعاون في مجال العمل البيئي لحل المشكلات ذات الاهتمام المشترك وتوحيد الرؤى في المحافل الدولية البيئية بما يخدم دول المجلس. ص ٧٧	- تحقيق التعاون بين الدول الأعضاء في جميع المجالات - تحقيق الترابط والصلات بين دول المجلس / العمل على تقدم دول مجلس التعاون في المجال العلمي ص ٧٦

(ج) اكتب فيما يلي : (يكتفى بنقطتين)

١- أهم الأنشطة البرية في منطقة الخليج العربية. ص ٢٨

- الرعي / الزراعة

- الحرف اليدوية / التجارة البرية

٢- العوامل المؤثرة في نشأة الحضارات بمنطقة الخليج العربية. ص ٥١-٥٢

- موقع الخليج العربي المتميز

- توفر مياه الشرب / ملائمة البيئة الطبيعية

انتهت الأجابه

تم التحميل من شبكة ياكويت التعليمية



Telegram:
ykuwait_net_home