

تم تحميل هذا الملف من موقع المناهج الكويتية



منطقة الفروانية التعليمية

الملف نموذج أسئلة منطقة الفروانية التعليمية

[موقع المناهج](#) ← [المناهج الكويتية](#) ← [الصف التاسع](#) ← [اجتماعيات](#) ← [الفصل الثاني](#)

روابط مواقع التواصل الاجتماعي بحسب الصف التاسع



روابط مواد الصف التاسع على تلغرام

[الرياضيات](#)

[اللغة الانجليزية](#)

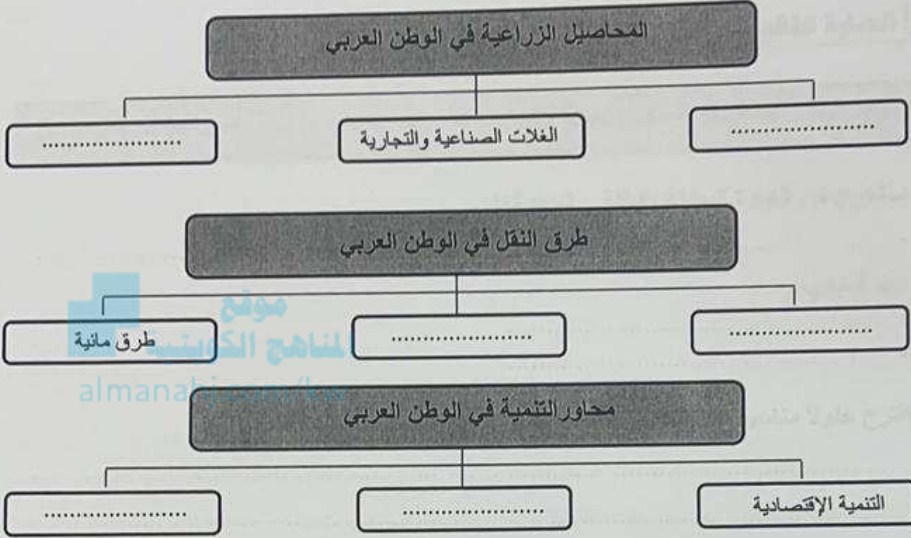
[اللغة العربية](#)

[التربية الاسلامية](#)

المزيد من الملفات بحسب الصف التاسع والمادة اجتماعيات في الفصل الثاني

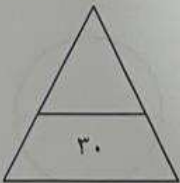
حل التقويم	1
بنك اسئلة	2
مذكرة فصل ثاني	3
حل تقويم	4
مذكرة مراجعة للصف الاسع	5

هـ) أكمل المخططات السهمية التالية :



و) اختر للقائمة (ب) ما يناسبها من القائمة (أ) بكتابة الرقم المناسب :

المجموعة (ب)	الرقم	المجموعة (أ)
الصومال	١- الدولة العربية التي تحتل المرتبة الأولى في إنتاج واحتياط النفط .
السعودية	٢- الدولة العربية التي تحتل المرتبة الأولى بما تملكه من الإبل .
المغرب	٣- الدولة العربية التي تحتل المرتبة الأولى في إنتاج معدن الحديد .
مصر	٤- الدولة العربية التي تصدر المرتبة الأولى في إنتاج معدن الفوسفات .
موريتانيا	



الدرجة فقط



وزارة التربية
الإدارة العامة لمنطقة الفروانية التعليمية
التوجيه الفني للاجتماعيات

مقرر / الكويت والوطن العربي

زمن الإجابة: ساعة ونصف
عدد الأوراق : (٦)

امتحان نهاية الفترة الدراسية الثانية
(الصف السابع)
للعام الدراسي (٢٠٢٢ / ٢٠٢٣ م)

أجب عن جميع الأسئلة التالية :-

السؤال الأول (موضوعي) ويتكون من (أ - ب - ج - د - هـ - و) :

أ) اختر الخيار الصحيح من بين الخيارات التي تلي كل عبارة بوضع خط تحتها:

١- تبلغ مساحة الوطن العربي حوالي :

(١٢,٥ مليون كم^٢ - ١٣,٥ مليون كم^٢ - ١٤,٥ مليون كم^٢ - ١٥,٥ مليون كم^٢)

٢- الدولة العربية الأكثر سكاناً في الوطن العربي :

(اليمن - ليبيا - مصر - السعودية)

٣- عقد مؤتمر قمة الأرض في مدينة ريودي جانيرو عام ١٩٩٢م في :

(البرازيل - كندا - فرنسا - اليابان)

٤- تأسس الصندوق الكويتي للتنمية الاقتصادية العربية في عهد الشيخ :

(جابر الأحمد - عبدالله السالم - صباح الأحمد - صباح السالم)

ب) صنف الكلمات مابين القوسين حسب موقعها في الجدول التالي :

(العنب - البن - التمور - القمح - الموز)

الدولة الأولى في الإنتاج	مصر	السعودية	سوريا	اليمن	الصومال
الغلة الزراعية

السؤال الثالث : ويتكون من : [أ ، ب] :-

أ) قارن بين كل من حسب الجدول التالي :

منظمة الأقطار العربية المصدرة للنقط (أوبك)	منظمة الدول المصدرة للنقط (أوبك)	أوجه المقارنة
.....	سنة الإنشاء
.....	أهميتها

المنهج الكويتية
almanahj.com/kw

ب) عدد لكل مما يلي :

١- أقسام مناطق الوطن العربي من حيث الكثافة السكانية .

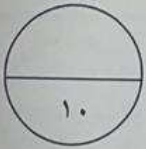
.....
.....

٢- العقبات التي تواجه الإنتاج الزراعي في الوطن العربي .

.....
.....

٣- المشكلات التي تواجه التنمية البشرية .

.....
.....



الدرجة نقط

تابع السؤال الأول :

ج) أكمل العبارات التالية بما يناسبها مما درست :

- ١- يبلغ عدد دول الوطن العربي دولة
- ٢- نسبة عدد السكان الكلي في دولة ما، أو منطقة ما ، إلى المساحة الكلية لهذه الدولة تسمى
- ٣- الغلات التي تدخل في الصناعة وترزح بغرض التجارة والحصول على نقد تسمى
- ٤- أكثر أنواع الثروة الرعوية انتشاراً في مراعي الوطن العربي اسمها
- ٥- التجارة التي يتم فيها التبادل التجاري بين الدول العربية اسمها
- ٦- عقد أكبر مؤتمر قمة عربية اقتصادية منذ نشأة جامعة الدول العربية عام ٢٠٠٩م في دولة تسمى

د) اختر المفهوم المناسب من بين القوسين ثم ضعه في المكان المناسب له في الجدول التالي :

(الصناعات الحرفية - الصناعات التجميعية - الصناعات التحويلية - الصناعات التعدينية - الصناعات الاستخراجية)

المفهوم	التعريف
.....	١- استخراج مصادر الطاقة كالنفط والغاز والفحم وخامات المعادن والأملاح وغيرها من باطن الأرض ، وإعدادها لتصبح جاهزة للتصنيع .
.....	٢- تهدف إلى تنقية الخامات المعدنية وتحويلها إلى صفائح أو سبائك صالحة لتنفيذ صناعات معدنية مختلفة .
.....	٣- تقوم على تحويل المواد الأولية من معدنية نباتية وحيوانية إلى سلع استهلاكية صالحة للاستعمال .
.....	٤- تستخدم مواد أولية وتعتمد على المجهود البشري ، وتختص بعض العائلات باحتراف بعض منها .
.....	٥- عملية تركيب وجمع المواد المصنعة ، على اختلاف مصادرها كي نحصل على سلع متنوعة .