

تم تحميل هذا الملف من موقع المناهج الكويتية



الملف مراجعة الاختبار الثالث

[موقع المناهج](#) ⇨ [المناهج الكويتية](#) ⇨ [الصف الأول](#) ⇨ [علوم](#) ⇨ [الفصل الأول](#)

روابط مواقع التواصل الاجتماعي بحسب الصف الأول



روابط مواد الصف الأول على تلغرام

[الرياضيات](#)

[اللغة الانجليزية](#)

[اللغة العربية](#)

[التربية الاسلامية](#)

المزيد من الملفات بحسب الصف الأول والمادة علوم في الفصل الأول



اوراق عمل في مادة العلوم	1
اوراق عمل مجمعة في مادة العلوم	2
الطرق الآمنة للتعامل مع الماء في مادة العلوم	3
دورة حياة النبات الزهري في مادة العلوم	4
مخططات وتشجيرات مهمة في مادة العلوم	5

مراجعة الاختبار الثالث للصف الأول الابتدائي

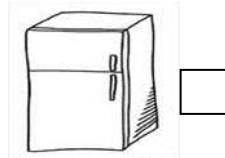
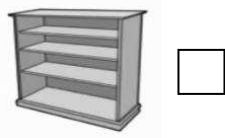
للعام الدراسي (٢٠٢٣/٢٠٢٤ م)

السؤال الأول : اختر الإجابة الصحيحة علمياً لكل من العبارات التالية بوضع علامة (✓) في المربع**المقابل لها:**

- من المواد الصلبة :



- الطريقة المناسبة لتحويل قطعة ثلج الى سائل :



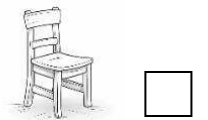
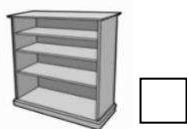
-يعتبر من المواد ذات الملمس الصلب:



-من طرق تحويل الماء السائل الى جليد :



- من المواد السائلة :






السؤال الثاني : اكتب بين القوسين كلمة (صحيحة) للعبارة الصحيحة وكلمة (خاطئة) للعبارة غير صحيحة في كل مما يأتي : (1×2) :

١-لتحويل قطعة ثلج الى الماء سائل نحتاج الى حرارة (.....).


٢-توجد المادة في حالاتها سائلة و صلبة وغازية(.....).

السؤال الثالث : في الجدول التالي اختر العبارة من المجموعة (ب) واكتب رقمها امام ما يناسبها من عبارات المجموعة (أ) :

الرقم	المجموعة (أ)	المجموعة (ب)
()	الحالة السائلة	1- 
()	الحالة الغازية	2- 
		3- 

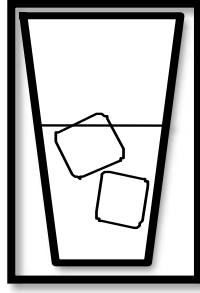
السؤال الرابع : اكمل الناقص في الصور التالية :

ماذا يحدث لمستوى الماء بعد غليانه في الابريق

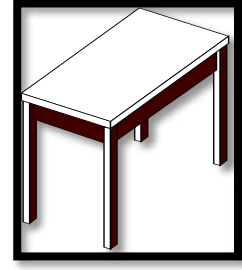


السؤال الخامس: اشر بالرسم على الصور التالية كما هو مطلوب: (1×2)

- ١- اشر بالرسم (▲) على المادة الصلبة.
٢- اشر بالرسم (●) على المادة السائلة.



()



()

السؤال السادس :

ارسم طريقة تحول الماء السائل الى بخار ماء فيما يلي:

موقع
المنهج الكويتية
almanahj.com/kw




السؤال السابع: صنف الصور في الجدول حسب الرقم المناسب




4



3




2



1

تحويل الماء السائل الى بخار ماء	الطريقة المناسبة لتحويل الماء السائل الى قطعة ثلج



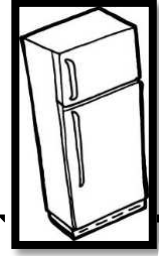
(٤)



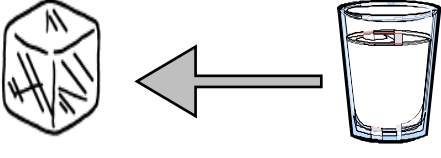
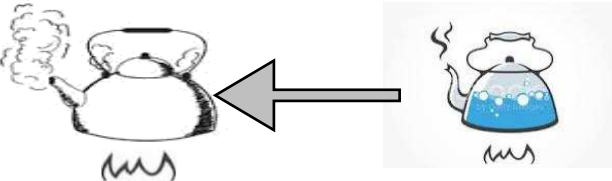
(٣)



(٢)



(1)

	
<p>موقع المناهج الكويتية almanahj.com/kw</p>	

رئيسة القسم: حصة الديحاني

اعداد المعلمة: انوار العدوانى

انتهت الأسئلة

