

تم تحميل هذا الملف من موقع المناهج الكويتية



بدرية الحربي

الملف اسئلة مراجعة للاختبار الثالث

[موقع المناهج](#) ← [المناهج الكويتية](#) ← [الصف الأول](#) ← [علوم](#) ← [الفصل الثاني](#)

روابط مواقع التواصل الاجتماعي بحسب الصف الأول



روابط مواد الصف الأول على تلغرام

[الرياضيات](#)

[اللغة الانجليزية](#)

[اللغة العربية](#)

[التربية الاسلامية](#)

المزيد من الملفات بحسب الصف الأول والمادة علوم في الفصل الثاني

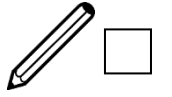
<a href="#">الطرق الامنة في التعامل مع الماء</a>	1
<a href="#">الماء والجليد وبخار الماء</a>	2
<a href="#">أوراق عمل النمو</a>	3
<a href="#">مذكرة مفيدة في مادة العلوم</a>	4
<a href="#">مذكرة علوم</a>	5

أسئلة مراجعة للاختبار الثالث في مادة العلوم للصف الأول الابتدائي

الفصل الدراسي الثاني / العام الدراسي (٢٠٢٣/٢٠٢٤ م)

**اختر الإجابة الصحيحة علمياً لكل من العبارات التالية بوضع علامة (✓) في المربع المقابل لها:**

١- يجذب المغناطيس:



٢- إشارة السير التي تدل على منع مرور الشاحنات:



٣- تساعدنا في حل مشكلة الازدحام المروري:



٤- الأداة التي تجذب الأشياء المصنوعة من الحديد:



مدرسة قريبة:



٥- إشارة السير التي تدل على وجود



٦- إضاءة الإشارة التي تدل على عبور المشاة:



ضع علامة ( ✓ ) أمام العبارة الصحيحة وعلامة ( x ) أمام العبارة غير الصحيحة في ما يلي:

(.....)



١- نكمل السير عندما نشاهد علامة قف.

(.....)

بالقرب من السيارات.



٢- ألعب الكرة في الشارع

(.....)



٣- أضع حزام الأمان في السيارة للمحافظة على سلامتي.






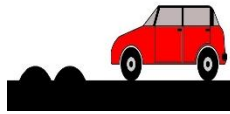


موقع  
المناهج الكويتية  
almanahj.com

(.....)



٤- إشارة المرور لها ثلاثة ألوان وتساعد في تنظيم حركة المرور.

في الجدول التالي اختر الصورة من المجموعة ب و اكتب رقمها أمام ما يناسبها من عبارات المجموعة أ:

المجموعة ( ب )	المجموعة ( أ )	الرقم
<p>١- </p>	<p> العلامة الإرشادية التي تدل على وجود العمال:</p>	(.....)
<p>٢- </p>	<p> العلامة الإرشادية التي تدل على وجود الدوار أمامك:</p>	(.....)
<p>٣- </p>	<p> العلامة الإرشادية التي تدل على وجود مطب أمامك:</p>	(.....)
<p>٤- </p>	<p> العلامة الإرشادية التي تدل على عبور المشاة:</p>	(.....)

أشـر بعلامة ( O ) إلى الجزء المطلوب بالرسم أدناه:

١- الطريفة الصالحة لفظ المغناطيس.

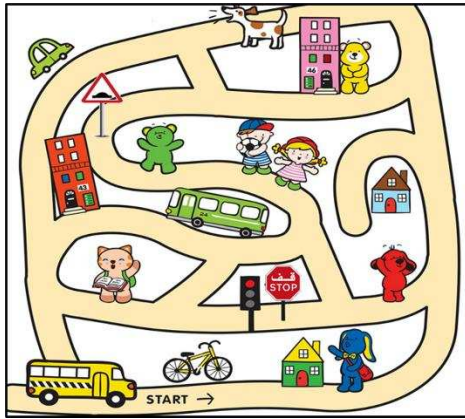


٢- أداة تساعدنا على عبور الطريق بأمان.




موقع  
المنهاج الكويتية  
almanahj.com/

٣- إضاءة إشارة المرور التي تعني استعداد.




أكمل الجزء الناقص على الرسوم التالية:


١- أشياء يجذبها المغناطيس:



٢- أشياء لا يجذبها المغناطيس:



٣- علامة إرشادية توضع عند المطبات:



٤- علامة إرشادية تشاهدها في طريقك:



موقع  
المنهج الكويتية  
almanahj.com/kw

صنف الصور التالية في الجدول أدناه وذلك بوضع رقم الصورة حسب ما هو مطلوب:



٤



٣



٢



١



أشياء لا يجذبها المغناطيس



أشياء يجذبها المغناطيس



مع تمنياتي للجميع بالنجاح والتوفيق  
المعلمة: بدرية الحربي ©