



اجب عن جميع الأسئلة

- السؤال الأول (موضوعي) يتكون من (أ - ب - ج - د - هـ):

(أ) - أكمل العبارات التالية بما يناسبها:

- ١- الكتابة التي عرفت عند المصريين القدماء تسمى ..
٢- ملك بابلي سن شرائع قانونية معتمداً على مبدأ "المن بالسن والعين بالعين" اسمه ..
٣- نباتات تقاوم الجفاف وتتميز بجذورها الطويلة تسمى ..
٤- العام الذي انضمت فيه جمهورية جزر القمر لجامعة الدول العربية .. م.
٥- المدينة التي نزل فيها القرآن الكريم على سيدنا محمد صلى الله عليه وسلم عام ٦١٠ م اسمها ..
٦- أطلق على البحرين قبل الفتح الإسلامي اسم ..

(ب) - ظلل الخيار الصحيح من بين الخيارات التي تلي كل عبارة:

١- المياه التي توجد في جوف الأرض (باطن الأرض) :

بحيرة	الأفلاج	المياه الجوفية	النهر
-------	---------	----------------	-------

٢- كل ما ارتفع من الأرض وله قمة لا يقل ارتفاعها عن ١٠٠٠ متر :

سهل	هضبة	وادي	جبل
-----	------	------	-----

٣- أهم الأشجار الموجودة في الغابات المعتدلة :

البوط	التاك	الأبنوس	الماهوجني
-------	-------	---------	-----------

٤- تمثل نسبة مساحة الوطن العربي من جملة مساحة العالم نحو :

٥%	١٠%	١٥%	٢٠%
----	-----	-----	-----

٥- يبلغ عدد حروف الكتابة المسمارية :

٣٠٠ حرف	٤٠٠ حرف	٥٠٠ حرف	٦٠٠ حرف
---------	---------	---------	---------

٦- الدولة العربية التي يجري بها نهر الشليف :

ليبيا	الجزائر	السودان	مصر
-------	---------	---------	-----

-السؤال الثالث (مقالى) يتكون من (أ - ب - ج):

(أ) - قارن بين كل من:

وجه المقارنة	المضيق	القناة
التعريف		
مثال		

(ب) - عدد اثنان لكل مايلي:

١ - معابر انتقال الحضارة الإسلامية ومراكز اشعاعها في أوروبا .

بلاد الأندلس
صحة بلاد الشام

٢ - أهم العوامل التي تؤثر في مناخ الوطن العربي .

التضاريس / الرياح
القرب والبعد عن خط العرض
بالنسبة إلى المناخ
(ج) برهن على صحة العبارة التالية :

" كان لبلاد الرافدين نشاط تجاري مع بلدان الأقاليم المجاورة " (التجارة) بلاد الرافدين

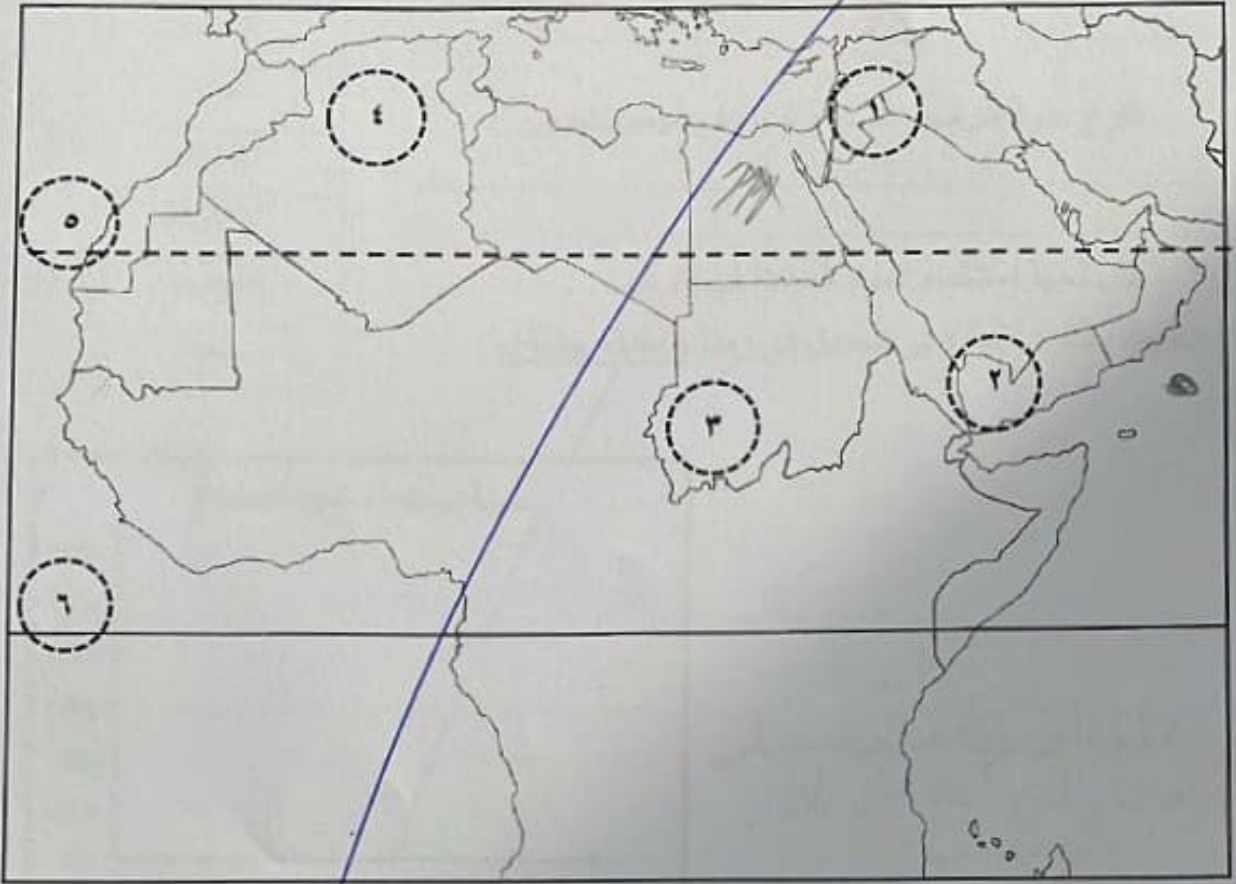
صادرات
واردات



مجموع السؤال الثالث بالحروف

تابع / السؤال الأول موضوعي:

(هـ) - لاحظ خريطة الوطن العربي ثم نفذ المطلوب :

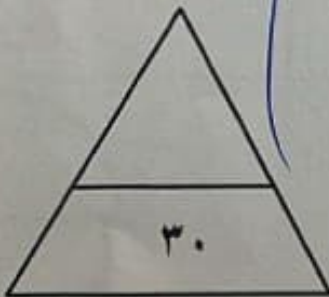


١ - اكتب الرقم الدال على العبارات التالية :

- خط الاستواء يمثله على الخريطة الرقم ١ .
- هضبة بادية الشام يمثّلها على الخريطة الرقم ١ .
- جبل مره يمثله على الخريطة الرقم ٣ .
- حضارة بلاد اليمن يمثّلها على الخريطة الرقم ٤ .

٢ - حدد على الخريطة باستخدام الرموز التالية :

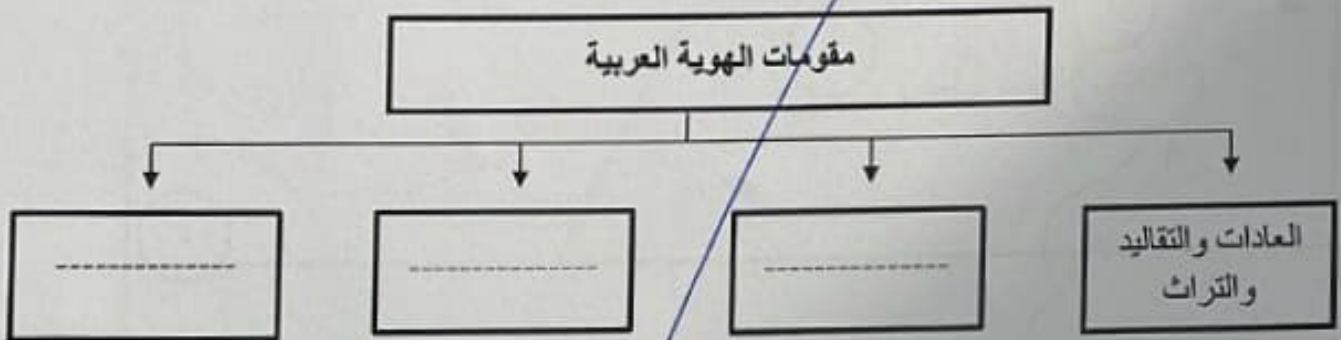
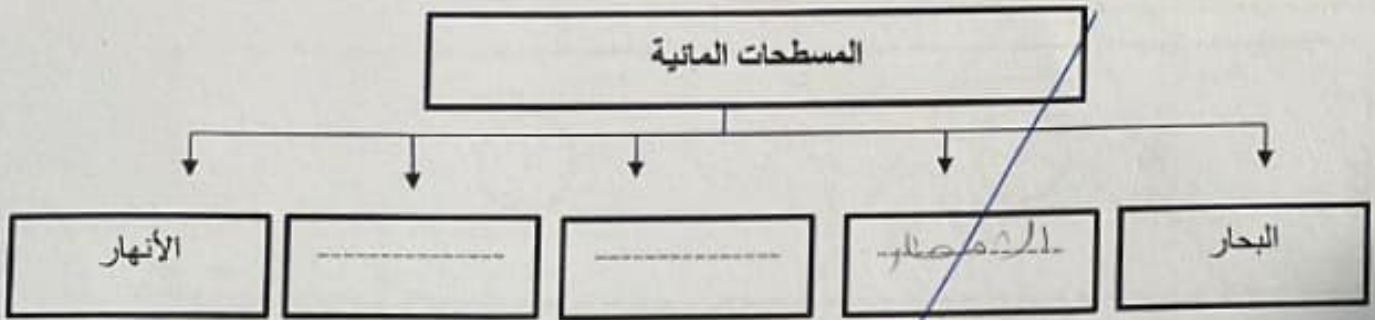
- بحر العرب باستخدام الرمز (●)
- اتجاه رياح الخماسين باستخدام الرمز (↑↑)



مجموع السؤال الأول بالحروف

تابع / السؤال الأول موضوعي :

(ج) - أكمل المخططات السهمية التالية:



(د) - صنف العناصر التالية في مكانها المناسب في الجدول الذي يليها:

(نجد - أطلس - عكار - عسير - الشطوط - شبلي)

سهول	هضاب	جبال
.....
.....

-السؤال الرابع (مقالى) يتكون من (أ - ب - ج)

(أ) - اقرأ الفقرة التالية ثم أجب عن الأسئلة التي تليها:

الحضارة المصرية من الحضارات القديمة في العالم و الأكثر انتشاراً ولا تزال بعض أثارها قائمة حتى وقتنا الحاضر ، ومن العوامل التي ساعدت على قيام الحضارة المصرية القديمة امتداد الصحراء وتنوع الصخور والمعادن واعتدال المناخ وجفافه ووجود نهر النيل .

١ - ضع عنواناً مناسباً للفقرة .

٢ - عرف ما تحته خط .

٣ - استخرج من الفقرة العوامل التي ساعدت على قيام الحضارة المصرية القديمة .

(ب) - فرق بين كل من:

الطقس	المناخ

(ج) - أجب عن الأسئلة التالية:

١ - عدد العوامل الرئيسية المؤثرة في تنوع النبات الطبيعي في الوطن العربي .

الرياح
المناخ

٢ - اذكر الأهمية الجغرافية للوطن العربي .

الموقع الاستراتيجي وسط العالم
بطلان مسطحة هامم

أهمية الموقع

مجموع السؤال الرابع بالحروف



انتهت الأسئلة؛؛ نرجو لكم النجاح والتوفيق...