

تم تحميل هذا الملف من موقع المناهج الكويتية



عُلا

الملف أسئلة شاملة ومهمة للخرائط

[موقع المناهج](#) ← [المناهج الكويتية](#) ← [الصف الثاني عشر الأدبي](#) ← [جغرافيا](#) ← [الفصل الأول](#)

روابط مواقع التواصل الاجتماعي بحسب الصف الثاني عشر الأدبي



روابط مواد الصف الثاني عشر الأدبي على تلغرام

[الرياضيات](#)

[اللغة الانجليزية](#)

[اللغة العربية](#)

[التربية الاسلامية](#)

المزيد من الملفات بحسب الصف الثاني عشر الأدبي والمادة جغرافيا في الفصل الأول

<a href="#">توزيع مقرر الجغرافيا لعام</a>	1
<a href="#">نماذج اختبارات ممتازة في مادة الجغرافيا</a>	2
<a href="#">مذكرة سلمان الفارسي في مادة الجغرافيا</a>	3
<a href="#">نموذج احابة اختبارلنهاية الفترة الدراسية الاولى في مادة الجغرافيا</a>	4
<a href="#">نموذج احابة امتحان الفترة الاولى 20162017</a>	5

## أكتب مدلول الأشكال التالية :



البيئة الطبيعية



البيئة المشيدة



موقع اليونسيف



يوم الأغذية العالمي



الفاو



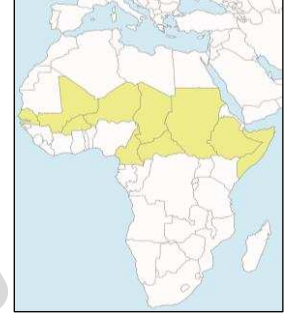
يوم البيئة العالمي 2008 م



مجلس التعاون الخليجي



يوم الأغذية العالمي 2007 م



حزام الجوع الأفريقي



الهيئة العربية للاستثمار والإنماء الزراعي



برنامج الأغذية العالمي



المنظمة العربية للتنمية الزراعية



طاقة الرياح - طاحونة الهواء



تصحر معتدل



تصحر طفيف



الأفلاج



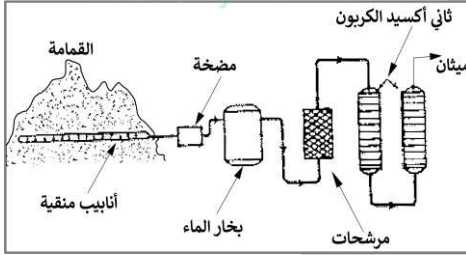
موقع أسلحة دمار شامل  
المناهج الكويتية  
almanahj.com/kw



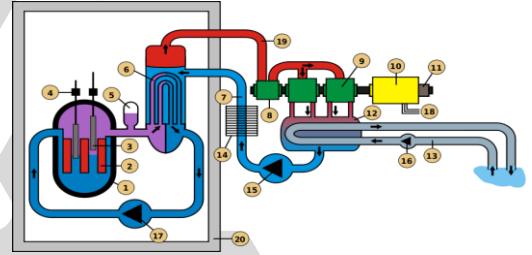
تصحر شديد جداً



تصحر شديد



مخطط استخلاص غاز الميثان من القمامة



المفاعلات النووية لتوليد الكهرباء



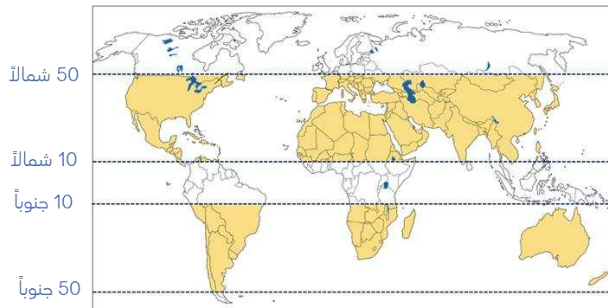
مركز البحرين التجاري العالمي



مصادر الطاقة المتجددة ( البديلة )

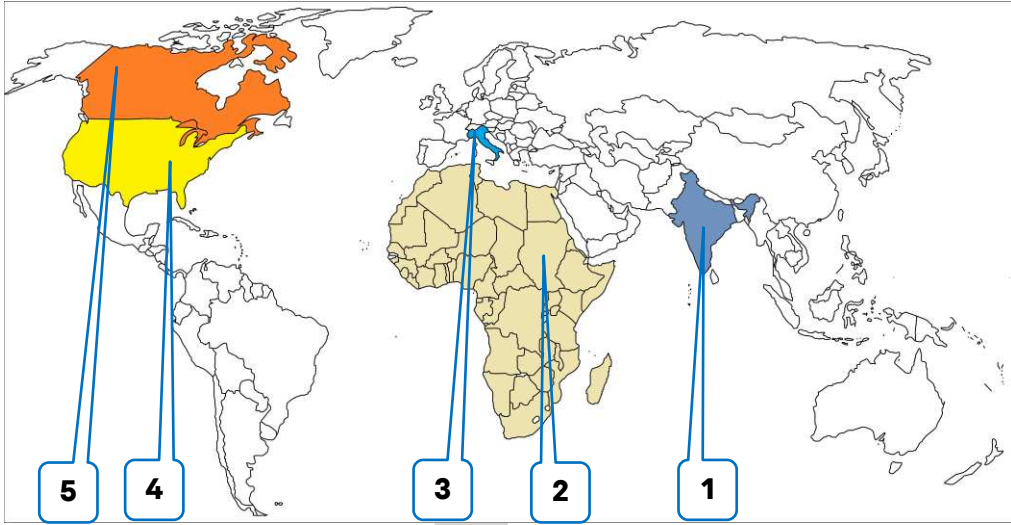


شلالات نياجرا

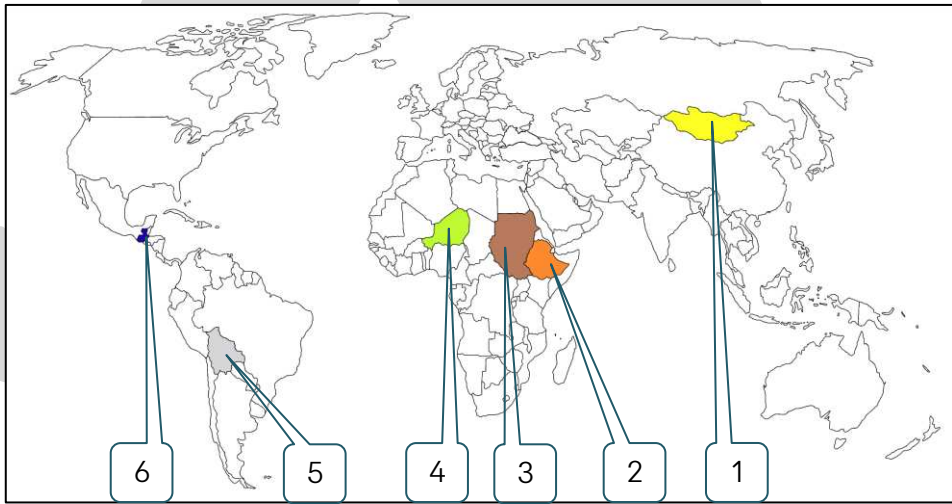


المناطق الجافة وشبه الجافة

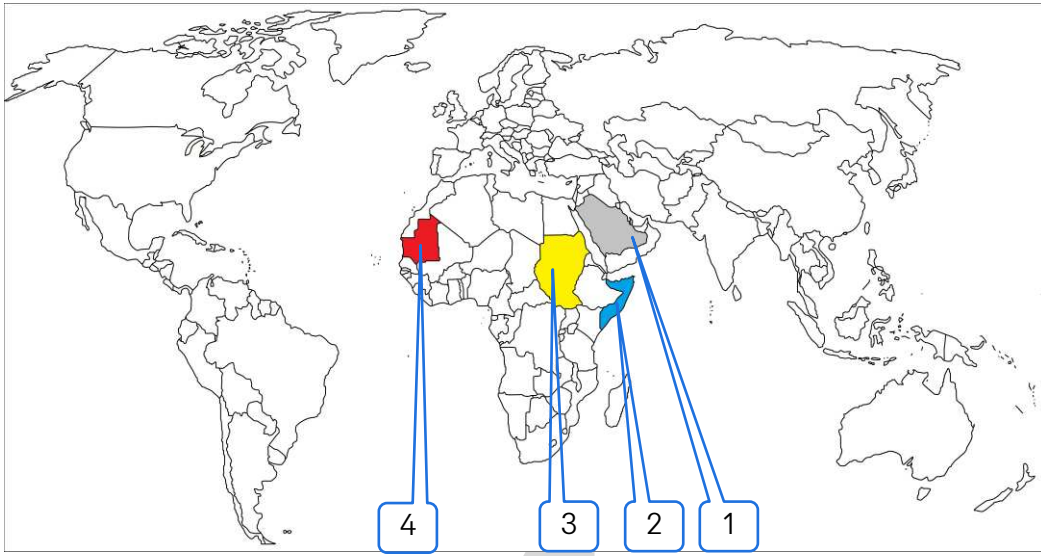
## لاحظ خريطة العالم ثم أجب عن الأسئلة التي تليها :



- 5 **كندا** الدولة التي تأسست فيها منظمة الفاو تحمل الرقم
- 4 **الولايات المتحدة الأمريكية** الدولة التي انتقل منها مقر منظمة الفاو عام 1951م إلى إيطاليا تحمل الرقم
- 4 المدينة التي يقع فيها المقر اليونسيف تحمل الرقم
- 3 **إيطاليا** الدولة التي يقع فيها المقر الدائم لمنظمة الفاو تحمل الرقم
- 3 **إيطاليا** المدينة التي يقع فيها مقر برنامج الأغذية العالمي تحمل الرقم
- 1 **الهند** الدولة الآسيوية التي صنعت معتقداتها الدينية (تقديس الأبقار) مشكلة غذائية تحمل الرقم
- 2 **أفريقيا** القارة التي تهرم بعض قبائلها أكل أنواع من الأسماك والقشريات تحمل الرقم



- 5 الدولة التي يعيش فيها 90% من الأسر في المناطق الريفية تحمل الرقم
- 6 الدولة التي لا يزال 75% من سكانها تحت خط الفقر تحمل الرقم
- 4 الدولة التي 35% من سكانها يواجهون خطر المجاعة تحمل الرقم
- 3 الدولة التي نزح فيها 100 ألف نسمة من قراهم هرباً من خطر المجاعة تحمل الرقم
- 1 الدولة التي يعاني 42% من سكانها من نقص التغذية تحمل الرقم
- 2 الدولة التي يعاني 44% من سكانها من نقص التغذية تحمل الرقم



الدولة العربية التي تعاني من نقصاً حاداً في الأغذية بسبب الجفاف تحمل الرقم 4 **موريتانيا**

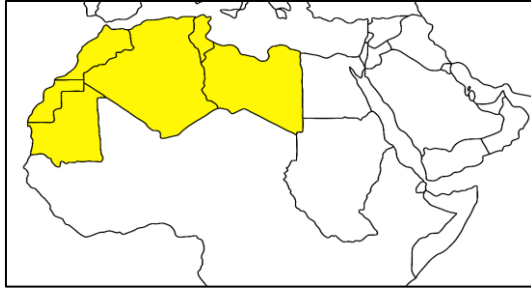
المقر الدائم للمنظمة العربية للتنمية الزراعية يحمل الرقم 3 **السودان**

المقر الدائم للهيئة العربية للاستثمار والإنماء الزراعي يحمل الرقم 3 **السودان**

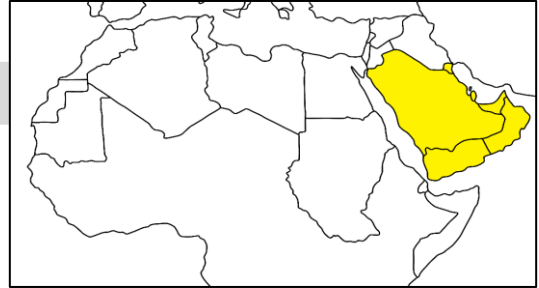
الدولة العربية التي تعاني من نقصاً حاداً في الأغذية بسبب الجفاف والنزاعات الأهلية تحمل الرقم 2 **الصومال**

الدولة الخليجية التي حققت الاكتفاء الذاتي من محصول القمح موسم 1984م تحمل الرقم 1 **السعودية**

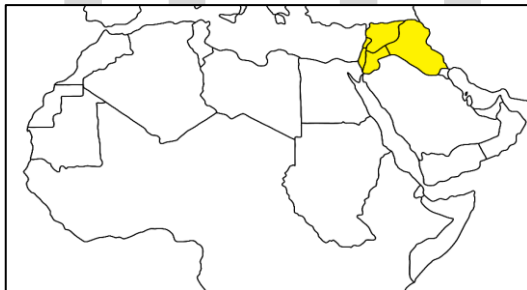
اكتب مدلول الخرائط التالية :



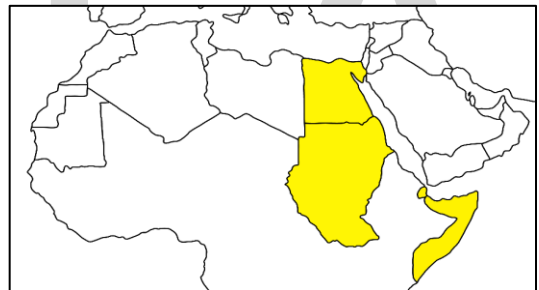
**إقليم المغرب العربي**



**إقليم شبه الجزيرة العربية**

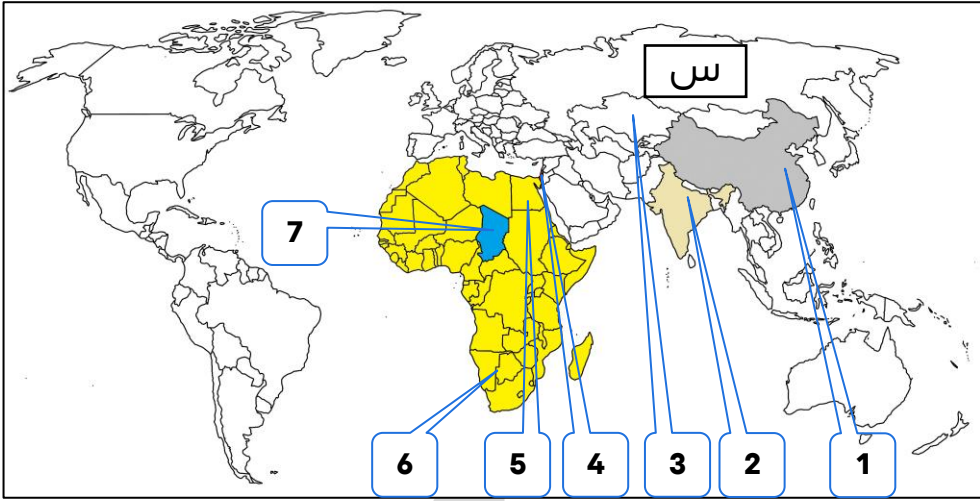


**إقليم المشرق العربي**

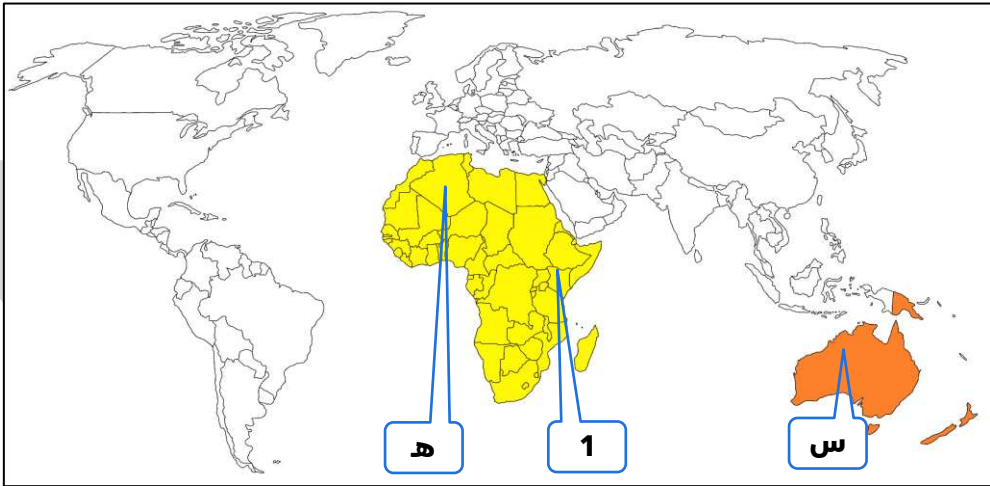


**الإقليم الأوسط**

لاحظ الخريطة جيداً ثم أجب عما يليها من أسئلة :

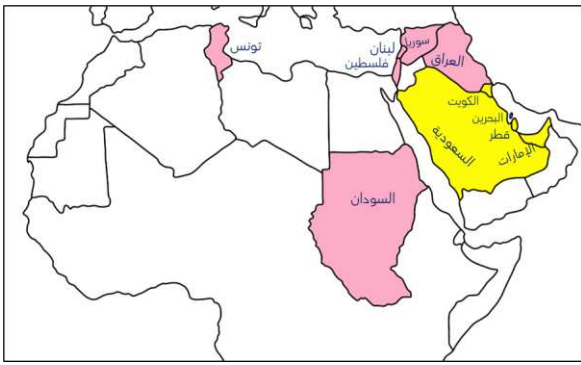


- 3 رابع أكبر بحار العالم الداخلية سابقاً يحمل الرقم
- 1 الدولة التي يوجد بها خزان مياه يقل مستوى الماء فيه 1.5م سنوياً تحمل الرقم
- 2 المناهج الكويتية الدولة التي يقل مستوى الماء فيها من 1إلى 3 متر سنوياً تحمل الرقم
- 4nahj.com/kw الدولة التي يستخدم شعبها ربع ما يستخدمه اليهود من الماء تحمل الرقم
- 5 النهر الذي تشترك فيه عشر دول ويفقد سنوياً 94% من المياه يحمل الرقم
- 7 بحيرة تشترك فيها 6 دول وقلت المياه فيها بمقدار 95% تحمل الرقم
- 6 القارة التي يعاني فيها 13 دولة من ندرة المياه تحمل الرقم
- 6 أفريقيا أقل قارات العالم من حيث توفير المياه النقية لسكانها تحمل الحرف
- (س) آسيا ثاني أقل قارات العالم من حيث توفير المياه النقية لسكانها تحمل الحرف



- 3 القارة التي تحتوي علي أكبر مساحة من أراضي المناطق الجافة وشبه الجافة تحمل الحرف (ه) أفريقيا
- 2 القارة التي تمثل أكبر نسبة مئوية من أراضي المناطق الجافة إلى إجمالي مساحتها تحمل الحرف (س) أستراليا
- 1 نيروبي المدينة التي عقد فيها مؤتمر الأمم المتحدة للتصحر عام 1977م تحمل الرقم

## أكمل العبارات التالية :



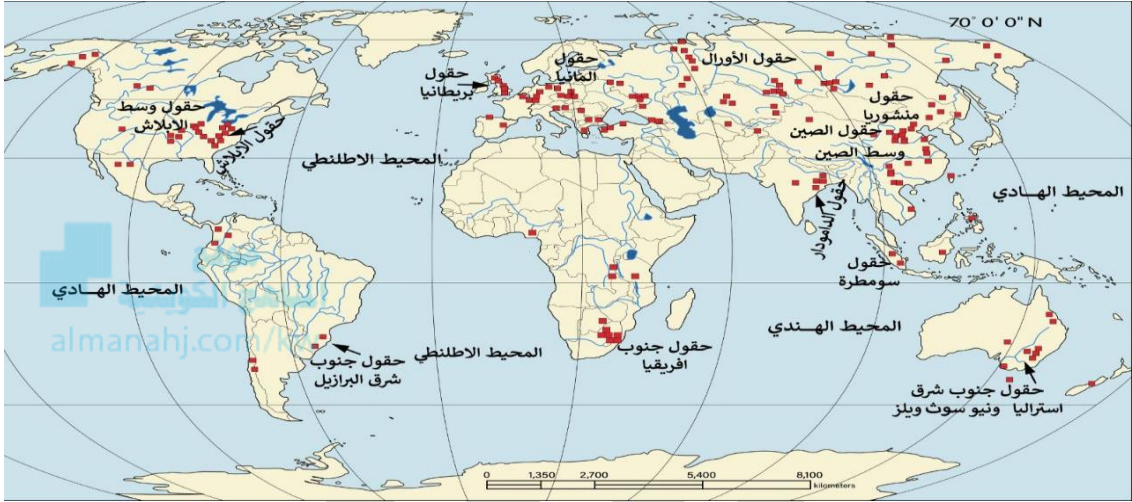
نسبة الأراضي المهددة بالتصحر في سوريا **58%**

نسبة الأراضي المهددة بالتصحر في العراق **54.3%**

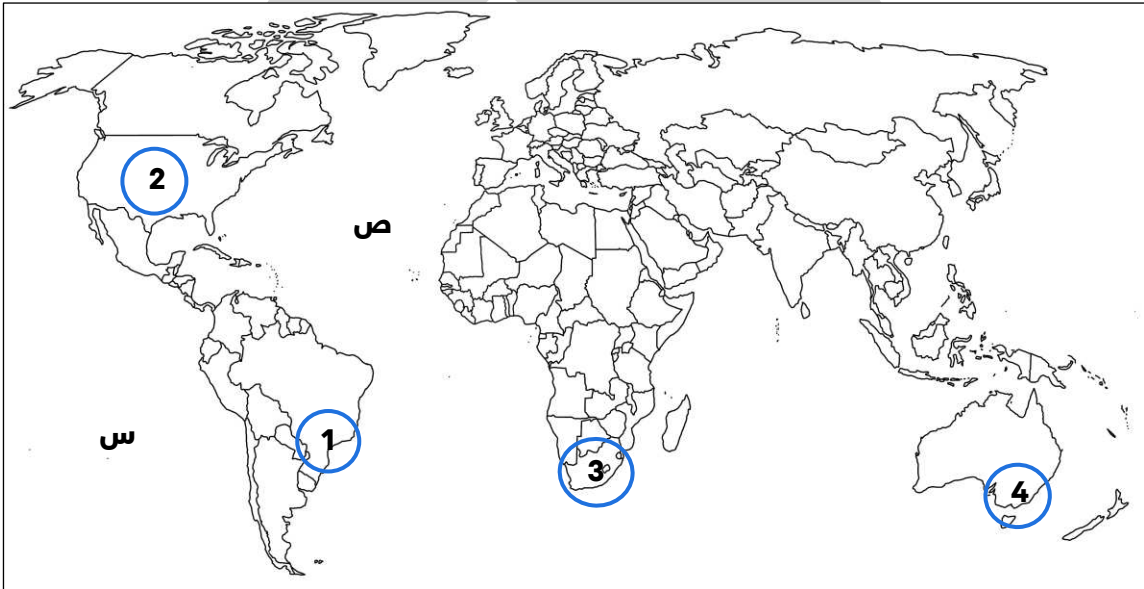
نسبة الأراضي المهددة بالتصحر في السودان **26%**

نسبة الأراضي المهددة بالتصحر في تونس **36%**

أغنى بلد عربي بالمصادر المائية **السودان**



## لاحظ خريطة العالم ثم أجب عما يليها من أسئلة



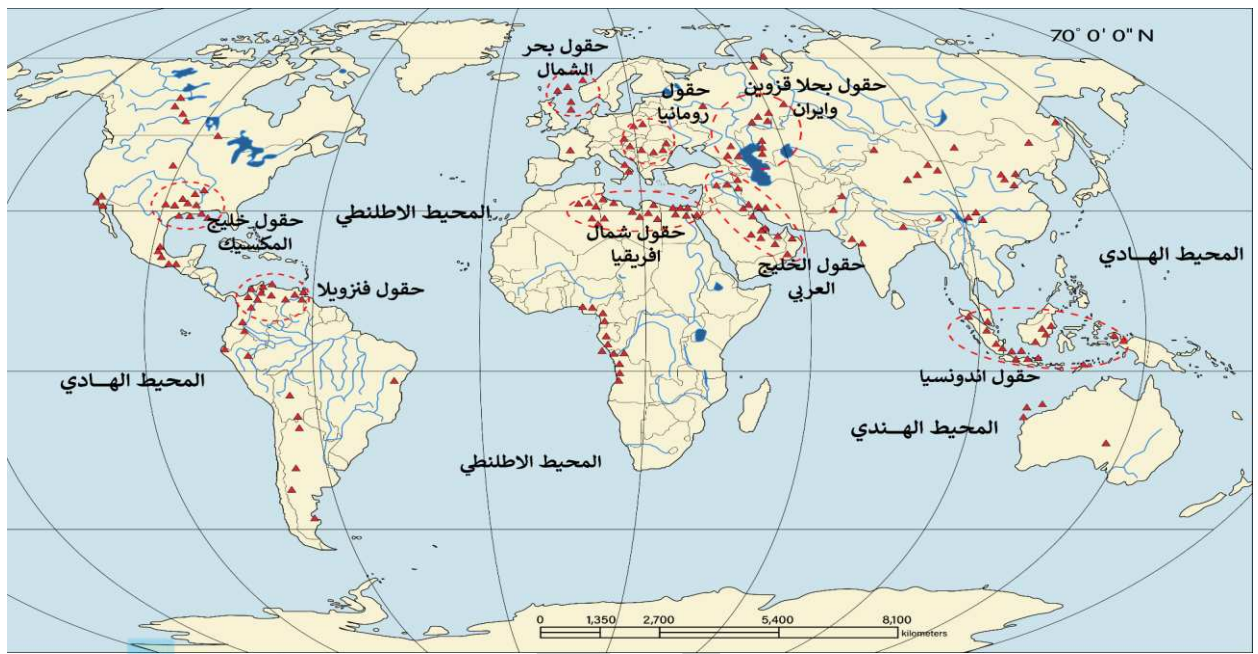
حقول جنوب شرق استراليا المنتجة للقمح تمثلها على الخريطة الدائرة التي تحمل الرقم **4**

حقول جنوب شرق البرازيل المنتجة للقمح تمثلها على الخريطة الدائرة التي تحمل الرقم **1**

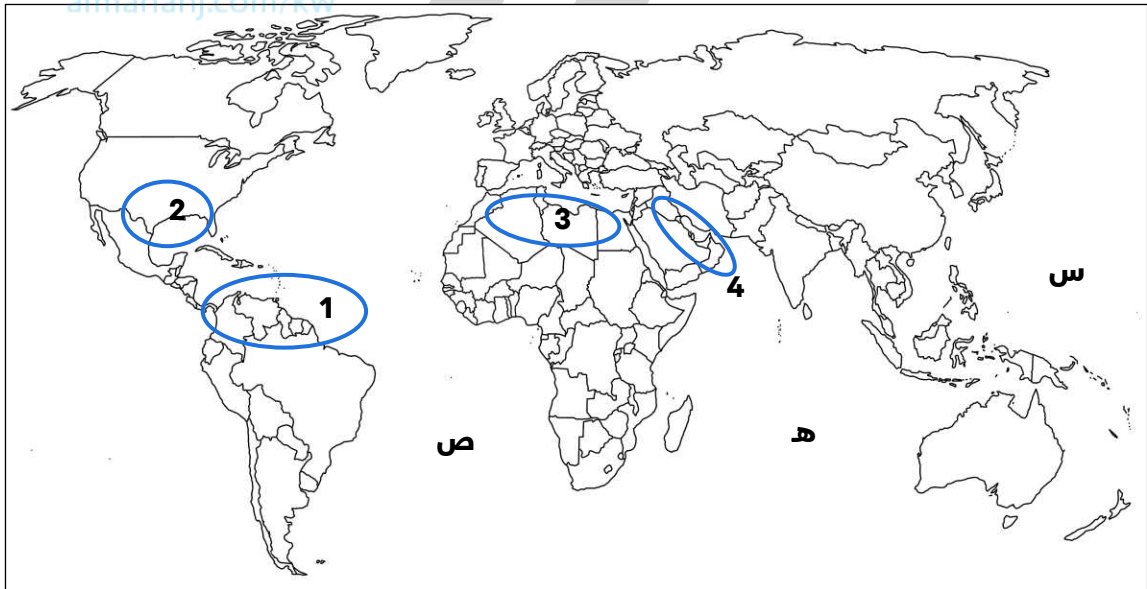
حقول جنوب أفريقيا المنتجة للقمح تمثلها على الخريطة الدائرة التي تحمل الرقم **3**

حقول وسط الأبلش المنتجة للقمح تمثلها على الخريطة الدائرة التي تحمل الرقم **2**

المحيط الهادي يحمل على الخريطة الحرف **س**

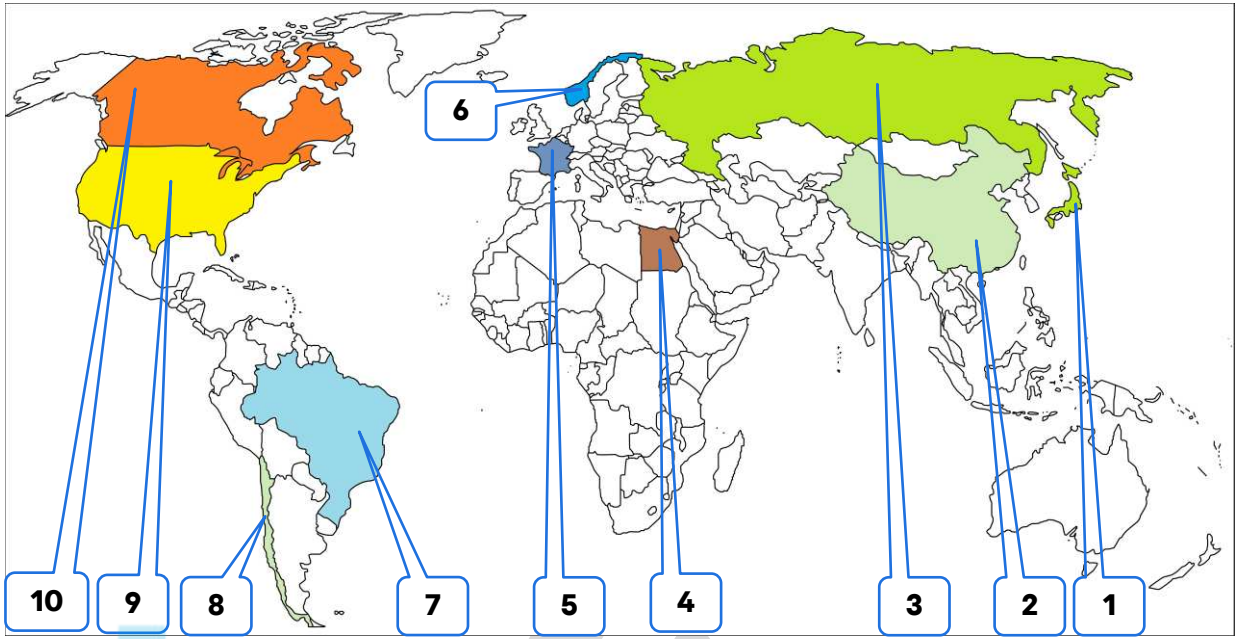


لادظ خريطة العالم ثم اءب عما يليها من أسئلة



- 4 حقول الخليج العربي المنتجة للبترول تمثلها على الخريطة الدائرة التي تحمل الرقم
- 1 حقول فنزويلا المنتجة للبترول تمثلها على الخريطة الدائرة التي تحمل الرقم
- 3 حقول شمال أفريقيا المنتجة للبترول تمثلها على الخريطة الدائرة التي تحمل الرقم
- 2 حقول خليج المكسيك المنتجة للبترول تمثلها على الخريطة الدائرة التي تحمل الرقم
- هـ المحيط الهندي يحمل على الخريطة الحرف
- ص المحيط الأطلنطي يحمل على الخريطة الحرف
- س المحيط الهادي يحمل على الخريطة الحرف





موقع  
المنهاج الكويتية  
almanahj.com/kw

- الدولة الأولى عالمياً في إنتاج الفحم تحمل الرقم **2** **الصين**
- الدولة الأولى عالمياً في احتياطي الفحم تحمل الرقم **3** **روسيا الاتحادية**
- الدولة الأولى عالمياً في احتياطي الغاز الطبيعي تحمل الرقم **3**
- الدولة التي أقامت أول محطة لتوليد الكهرباء بالطاقة النووية عام 1954م تحمل الرقم **3**
- الدولة التي حدث فيها حادثة مفاعل تشرنوبل تحمل الرقم **3**
- الدولة التي حفر فيها أول بئر للغاز الطبيعي في العالم تحمل الرقم **9** **الولايات المتحدة الأمريكية**
- أول دولة استخدمت الطاقة النووية كأسلحة دمار شامل في الحرب العالمية الثانية تحمل الرقم تحمل الرقم **9**
- الدولة التي حفر فيها أول بئر للغاز الطبيعي في العالم تحمل الرقم **9**
- أكثر دول العالم استغلالاً للطاقة الريحية تحمل الرقم **9**
- الدولة التي تستغل طاقة الكتلة الحيوية في توليد 3% من جملة الطاقة المنتجة بها تحمل الرقم **9**
- أول دولة استطاعت توليد الطاقة الكهرومائية باستخدام حرارة مياه المحيطات تحمل الرقم **9**
- الدولة التي تحتل المرتبة الأولى عالمياً في استغلال الطاقة الكهرومائية تحمل الرقم **9**
- الدولة التي تستخدم الايثانول (الكحول الإيثيلي) كوقود للسيارات تحمل الرقم **7** **البرازيل**
- أول دولة استخدمت الطاقة الشمسية في تحلية مياه البحر عام 1892م تحمل الرقم **8** **شيلي**
- أول دولة أقامت محطة لتوليد الكهرباء من مياه المد عام 1966م تحمل الرقم **5** **فرنسا**
- الدولة التي نجحت سنة 1985م في بناء محطتي توليد الكهرباء من طاقة الأمواج تحمل الرقم **6** **النرويج**
- الدولة التي نجحت في بناء محطات مماثلة للنرويج لتوليد الكهرباء من حركة الأمواج تحمل الرقم **1** **اليابان**
- الدولة التي تحتل المرتبة الثانية عالمياً في استغلال الطاقة الكهرومائية تحمل الرقم **10** **كندا**
- الدولة التي يوجد فيها السد العالي تحمل الرقم **4** **مصر**
- الدولة الأكثر استغلالاً للطاقة الريحية تحمل الرقم **4**